



ずけい た ざん 図形の足し算 ①




2つ形を足したらどんな形を作れるか考えて
 作れる形に○、作れない形に×を()に書きましょう。



⑦  +  =

ア ()

イ ()

ウ ()



⑧  +  =

ア ()

イ ()

ウ ()

