



# ずけい た ざん 図形の足し算 ①




2つ形を足したらどんな形を作れるか考えて  
 作れる形に○、作れない形に×を( )に書きましょう。



③  +  =

ア ( )

イ ( )

ウ ( )



④  +  =

ア ( )

イ ( )

ウ ( )

