



ずけい た ざん 図形の足し算 ①




2つ形を足したらどんな形を作れるか考えて
 作れる形に○、作れない形に×を () に書きましょう。

①  +  =

ア ()

イ ()

ウ ()






②  +  =

ア ()



イ ()

ウ ()



ずけい た ざん 図形の足し算 ①




2つ形を足したらどんな形を作れるか考えて
 作れる形に○、作れない形に×を () に書きましょう。



③  +  =

ア ()

イ ()

ウ ()






④  +  =

ア ()



イ ()

ウ ()



ずけい た ざん 図形の足し算 ①


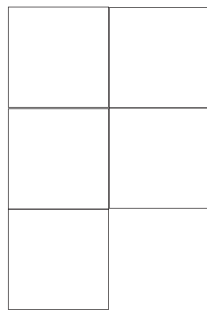

2つ形を足したらどんな形を作れるか考えて
 作れる形に○、作れない形に×を () に書きましょう。



⑤  +  =

ア ()

イ ()

ウ ()


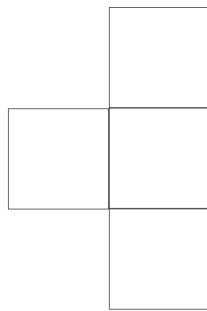



⑥  +  =

ア ()



イ ()

ウ ()



ずけい た ざん 図形の足し算 ①

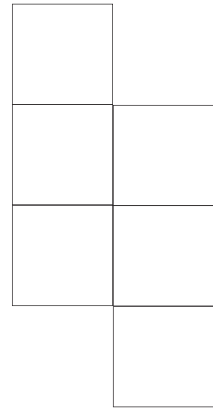
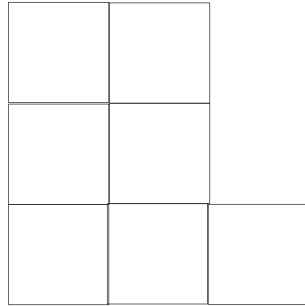

2つ形を足したらどんな形を作れるか考えて
 作れる形に○、作れない形に×を () に書きましょう。



⑦  +  =

ア ()

イ ()

ウ ()






⑧  +  =

ア ()

イ ()

ウ ()



ずけい た ざん 図形の足し算 ①

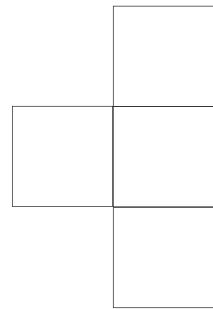
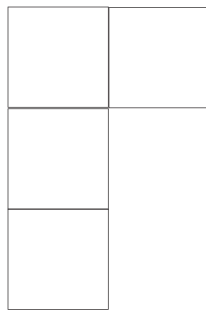

2つ形を足したらどんな形を作れるか考えて
 作れる形に○、作れない形に×を () に書きましょう。



⑨  +  =

ア ()

イ ()

ウ ()



⑩  +  =

ア ()

イ ()

ウ ()

