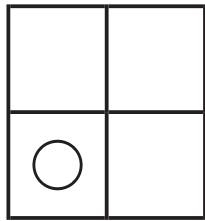
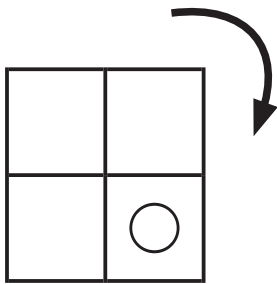
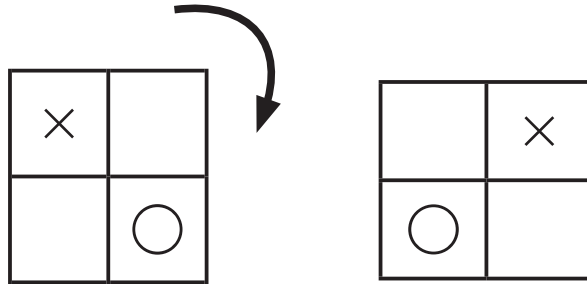


ずけい かいてんもんだい
 図形の回転問題 A (答え)

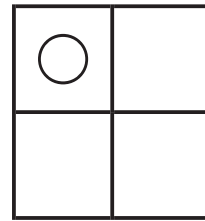
てほん おな ず やじるし ほうこう かいてん
 お手本と同じように図を矢印の方向に回転させます。

それぞれどのようになりますか？ 正しいものに○をつけましょう。

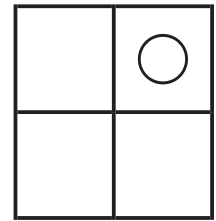
- お手本 -




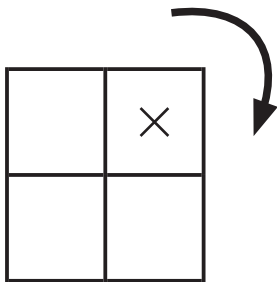
()



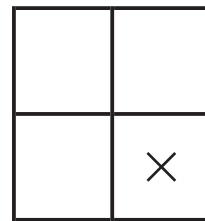
()



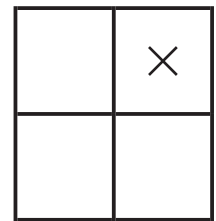
()



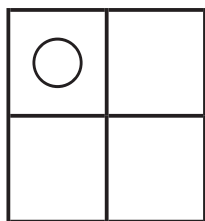
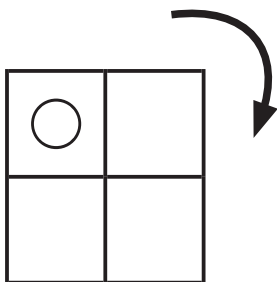
()



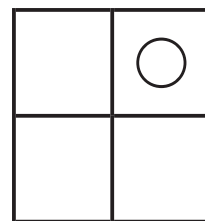
()



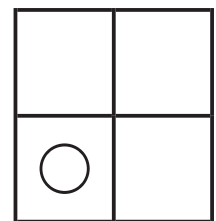
()



()



()



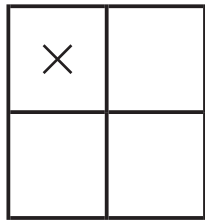
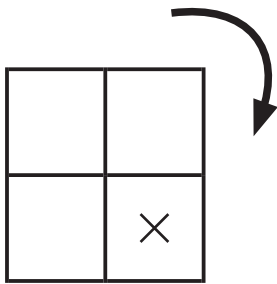
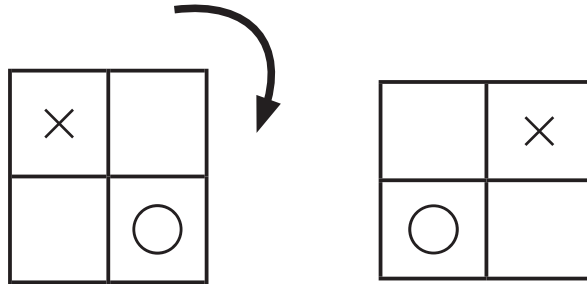
()

ずけい かいてんもんだい
図形の回転問題 A (答え)


てほん おな ず やじるし ほうこう かいてん
 お手本と同じように図を矢印の方向に回転させます。

それぞれどのようになりますか？ 正しいものに○をつけましょう。

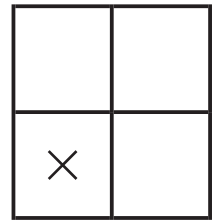
- お手本 -



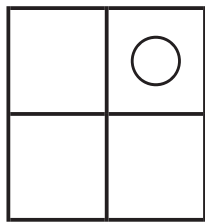
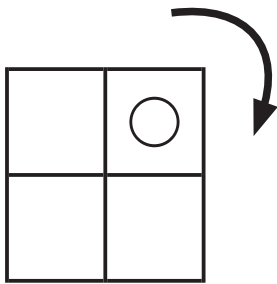
()



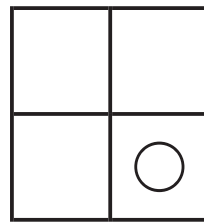
()



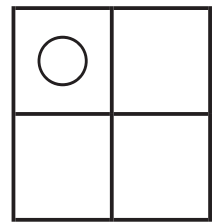
(○)




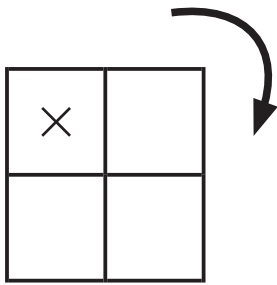
()



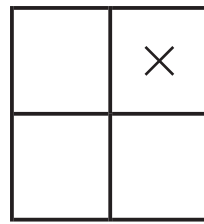
(○)



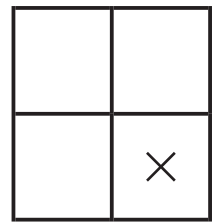
()



()



(○)



()

ずけい かいてんもんだい
図形の回転問題 A (答え)

てほん おな ず やじるし ほうこう かいてん
 お手本と同じように図を矢印の方向に回転させます。

それぞれどのようになりますか？ 正しいものに○をつけましょう。

- お手本 -

