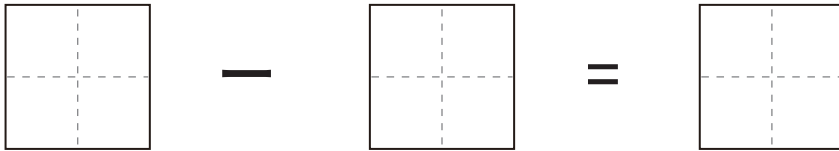


1 から 10 までの ^{かず}数 … ^{ぶんしょうもんだい}文章問題 (1)

^{つぎ もんだい} 次の問題を ^よ読んで ^{こた}答えましょう。

問1

タロウくんは、^{にわ}庭で ^{うつ}9 つの ^{いし}美しい ^み石を見つめました。^{かれ}彼は ^{なか}その中の ^{かあ}4 つをお母さんにプレゼントしました。タロウくんが ^{にわ}庭に ^{のこ}残している ^{いし}石はいくつでしょう？



^{こた}答え

^こ個

問2

ケイタくんは、^こ6 個の ^{おい}美味しい ^もクッキーを持っていた。お腹が ^{なか}すいていたので、^こ3 個の ^たクッキーを食べました。ケイタくんが ^も持っている ^{のこ}残りの ^{なんこ}クッキーは何個でしょう？

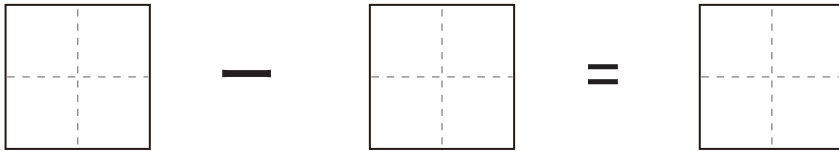
^{こた}答え

^こ個

1 から 10 までの^{かず}数…^{ぶんしょうもんだい}文章問題 (1)

^{つぎ} ^{もんだい} ^よ ^{こた}
次の問題を読んで答えましょう。

問1 タロウくんは、^{にわ}庭で6つの^{うつく}美しい^{はな}花を^み見つけました。でも、
ちょっとした^{はな}ハプニングで4つの^お花が折れてしまいました。
タロウくんが^お折れずに^{のこ}残っている^{はな}花はいくつあるでしょう
か？



^{こた}
答え 　　つ

問2 ケイタくんは^{ともだち}お友達と^{こうえん}公園で^{あそ}遊んでいました。^{かれ}彼は^かポケット
に入れていた^{だま}カラフルなビー玉を7個、^{ともだち}友達と^{いっしょ}一緒に^{じめん}地面
に^{なら}並べて^{あそ}遊び^{はじ}始めました。でも、^{あそ}遊んでいるうちに^{あそ}うっかり
2個の^こビー玉を^{だま}無くしてしまいました。ケイタクんの^{てもと}手元に
^も持っている^{だま}ビー玉は何^{なん}個^こでしょうか？

^{こた}
答え 　　個

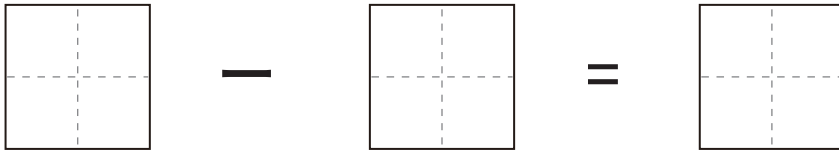
ひ ざん
引き算

かず ぶんしょうもんだい
1 から 10 までの数 … 文章問題 (1)

つぎ もんだい よ こた
次の問題を読んで答えましょう。

問1

タロウくんはお庭で遊んでいました。タロウくんは、お庭に
9 個のカラフルなボールを持ってきました。でも、ちょっと
休憩している間に、風が強くなって、4 個のボールが飛ばさ
れてしまいました。残っているボールはいくつでしょうか？



こた
答え

こ
個

問2

ケイタくんは、公園で 9 個の美しい石を見つけました。ケイ
タくんはそのうちの 4 個を川に投げ入れてしまいました。ケ
イタくんが公園に持ち帰った石は何個になりますか？

こた
答え

こ
個