

イラストをヒントにして、楽しくかけ算の式を作り計算していきましょう。

①



$$\begin{array}{|c|c|} \hline & \\ \hline & \\ \hline & \\ \hline & \\ \hline \end{array} \times \begin{array}{|c|c|} \hline & \\ \hline & \\ \hline & \\ \hline & \\ \hline \end{array} = \begin{array}{|c|c|} \hline & \\ \hline & \\ \hline & \\ \hline & \\ \hline \end{array}$$

②



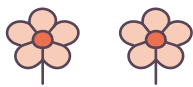
$$\begin{array}{|c|c|} \hline & \\ \hline & \\ \hline & \\ \hline & \\ \hline \end{array} \times \begin{array}{|c|c|} \hline & \\ \hline & \\ \hline & \\ \hline & \\ \hline \end{array} = \begin{array}{|c|c|} \hline & \\ \hline & \\ \hline & \\ \hline & \\ \hline \end{array}$$

③



$$\begin{array}{|c|c|} \hline & \\ \hline & \\ \hline & \\ \hline & \\ \hline \end{array} \times \begin{array}{|c|c|} \hline & \\ \hline & \\ \hline & \\ \hline & \\ \hline \end{array} = \begin{array}{|c|c|} \hline & \\ \hline & \\ \hline & \\ \hline & \\ \hline \end{array}$$

④



$$\begin{array}{|c|c|} \hline & \\ \hline & \\ \hline & \\ \hline & \\ \hline \end{array} \times \begin{array}{|c|c|} \hline & \\ \hline & \\ \hline & \\ \hline & \\ \hline \end{array} = \begin{array}{|c|c|} \hline & \\ \hline & \\ \hline & \\ \hline & \\ \hline \end{array}$$

⑤



$$\begin{array}{|c|c|} \hline & \\ \hline & \\ \hline & \\ \hline & \\ \hline \end{array} \times \begin{array}{|c|c|} \hline & \\ \hline & \\ \hline & \\ \hline & \\ \hline \end{array} = \begin{array}{|c|c|} \hline & \\ \hline & \\ \hline & \\ \hline & \\ \hline \end{array}$$

イラストをヒントにして、楽しくかけ算の式を作り計算していきましょう。

①



$$\square \times \square = \square$$

②



$$\square \times \square = \square$$

③



$$\square \times \square = \square$$

④



$$\square \times \square = \square$$

⑤



$$\square \times \square = \square$$

イラストをヒントにして、楽しくかけ算の式を作り計算していきましょう。

①



$$\square \times \square = \square$$

②



$$\square \times \square = \square$$

③



$$\square \times \square = \square$$

④



$$\square \times \square = \square$$

⑤



$$\square \times \square = \square$$

イラストをヒントにして、楽しくかけ算の式を作り計算していきましょう。

①



$$\square \times \square = \square$$

②



$$\square \times \square = \square$$

③



$$\square \times \square = \square$$

④



$$\square \times \square = \square$$

⑤



$$\square \times \square = \square$$

イラストをヒントにして、楽しくかけ算の式を作り計算していきましょう。

①



$$\square \times \square = \square$$

②



$$\square \times \square = \square$$

③



$$\square \times \square = \square$$

④



$$\square \times \square = \square$$

⑤



$$\square \times \square = \square$$

イラストをヒントにして、楽しくかけ算の式を作り計算していきましょう。

①



$$\square \times \square = \square$$

②



$$\square \times \square = \square$$

③



$$\square \times \square = \square$$

④



$$\square \times \square = \square$$

⑤



$$\square \times \square = \square$$

イラストをヒントにして、楽しくかけ算の式を作り計算していきましょう。

①




$$\square \times \square = \square$$

②



$$\square \times \square = \square$$

③



$$\square \times \square = \square$$

④



$$\square \times \square = \square$$

⑤



$$\square \times \square = \square$$


イラストをヒントにして、楽しくかけ算の式を作り計算していきましょう。

①



$$\square \times \square = \square$$

②



$$\square \times \square = \square$$

③



$$\square \times \square = \square$$

④



$$\square \times \square = \square$$

⑤



$$\square \times \square = \square$$



イラストをヒントにして、楽しくかけ算の式を作り計算していきましょう。

①




$$\square \times \square = \square$$

②



$$\square \times \square = \square$$

③



$$\square \times \square = \square$$

④



$$\square \times \square = \square$$

⑤



$$\square \times \square = \square$$

イラストをヒントにして、楽しくかけ算の式を作り計算していきましょう。

①



$$\square \times \square = \square$$

②



$$\square \times \square = \square$$

③



$$\square \times \square = \square$$

④



$$\square \times \square = \square$$

⑤



$$\square \times \square = \square$$