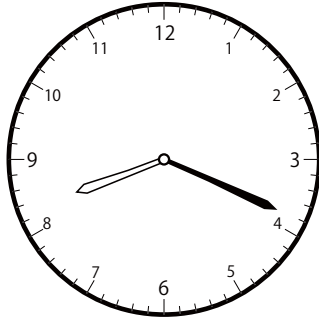


30分前の時計を読んで答えよう【B1】

今の時間を読んで、30分前の時刻と長針・短針を答えましょう。

こた
(答え)

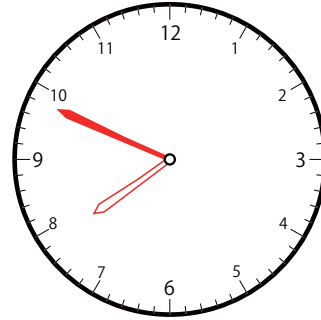
②



いま じ かん
今の時間


8 じ 19 ぶん

30 ぶんまえ
分前は



7 じ 49 ぶん

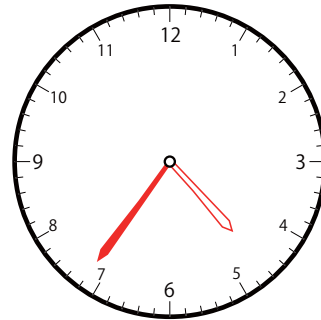
②



いま じ かん
今の時間

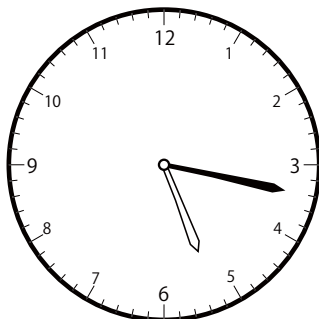
5 じ 6 ぶん

30 ぶんまえ
分前は



4 じ 36 ぶん

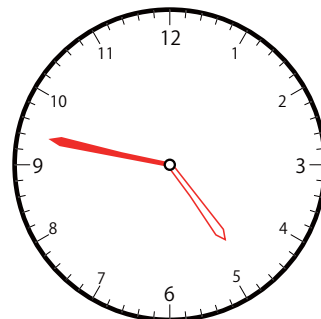
③



いま じ かん
今の時間

5 じ 17 ぶん

30 ぶんまえ
分前は




4 じ 47 ぶん

30分前の時計を読んで答えよう【B1】

今の時間を読んで、30分前の時刻と長針・短針を答えましょう。

(答え)

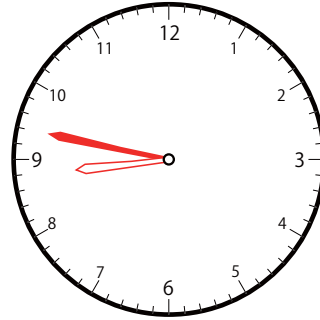
②



いま じ かん
今の時間

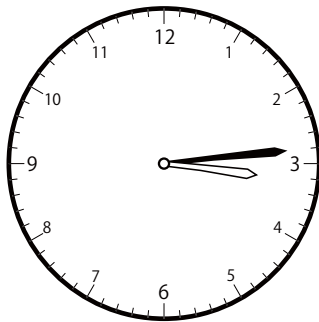
9 じ 17 ぶん

30 ぶんまえ
分前は



8 じ 47 ぶん

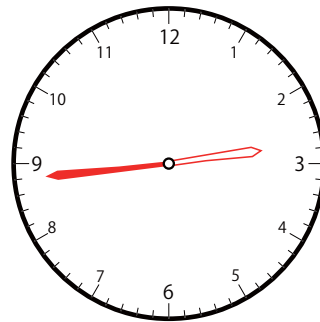
③



いま じ かん
今の時間


3 じ 14 ぶん

30 ぶんまえ
分前は



2 じ 44 ぶん

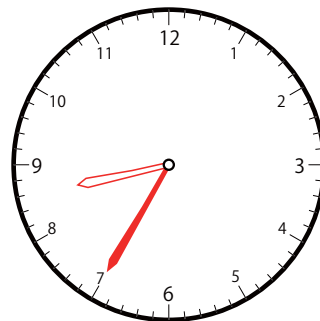
②



いま じ かん
今の時間

9 じ 5 ぶん

30 ぶんまえ
分前は



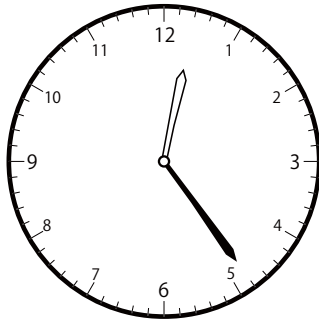
8 じ 35 ぶん

30分前の時計を読んで答えよう【B1】

今の時間を読んで、30分前の時刻と長針・短針を答えましょう。

(答え)

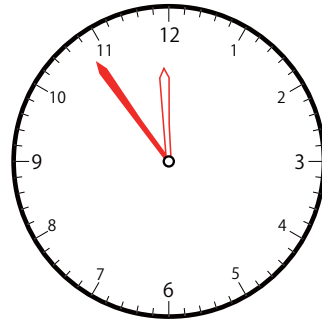
③



いま じ かん
今の時間


12 じ 24 ぶん

30 ぶんまえ
分前は



11 じ 54 ぶん

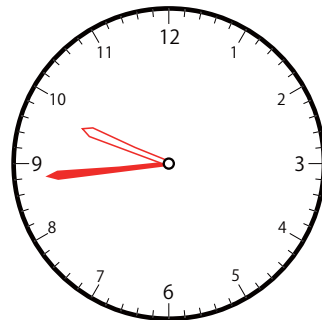
①



いま じ かん
今の時間

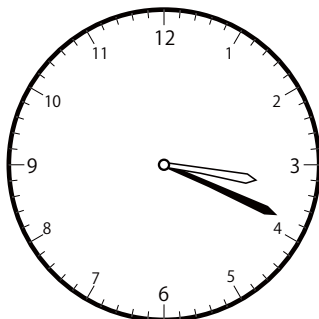
10 じ 14 ぶん

30 ぶんまえ
分前は



9 じ 44 ぶん

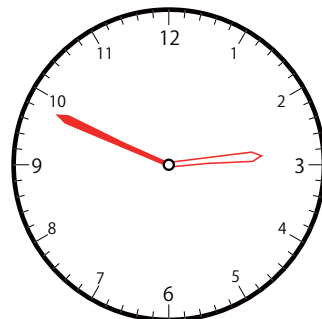
②



いま じ かん
今の時間

3 じ 19 ぶん

30 ぶんまえ
分前は



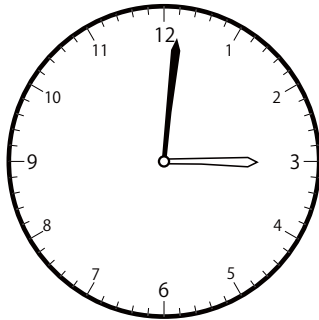
2 じ 49 ぶん

30分前の時計を読んで答えよう【B1】

今の時間を読んで、30分前の時刻と長針・短針を答えましょう。

こた
(答え)

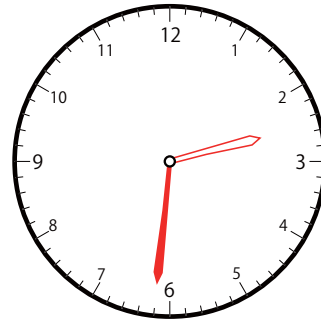
①



いま じ かん
今の時間


3 じ 1 ぶん

30 ぶんまえ
分前は



2 じ 31 ぶん

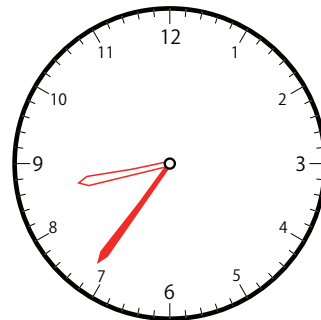
②



いま じ かん
今の時間


9 じ 6 ぶん

30 ぶんまえ
分前は



8 じ 36 ぶん

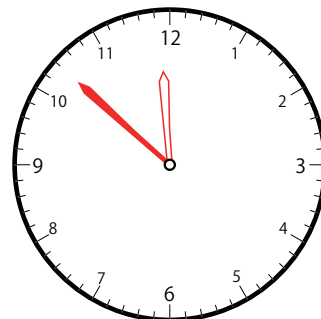
①



いま じ かん
今の時間

12 じ 22 ぶん

30 ぶんまえ
分前は



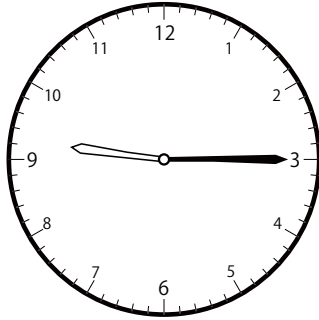
11 じ 52 ぶん

30分前の時計を読んで答えよう【B1】

今の時間を読んで、30分前の時刻と長針・短針を答えましょう。

(答え)

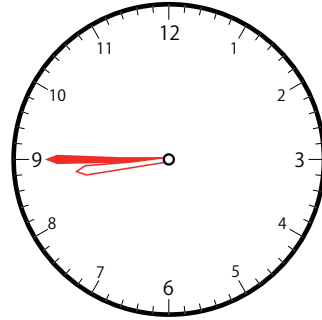
②



いま じ かん
今の時間

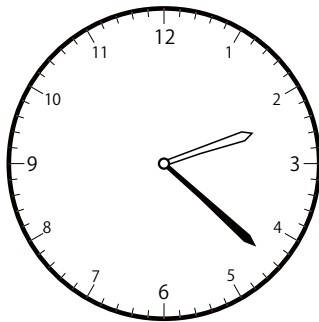
9 じ 15 ぶん

30 ぶんまえ
分前は



8 じ 45 ぶん

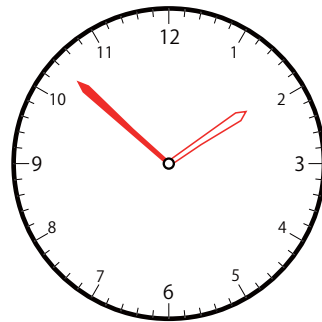
③



いま じ かん
今の時間


2 じ 22 ぶん

30 ぶんまえ
分前は



1 じ 52 ぶん

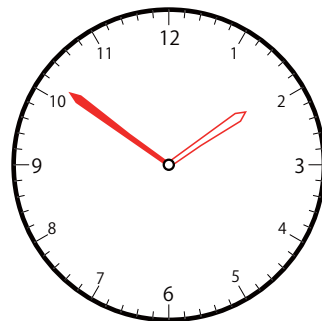
③



いま じ かん
今の時間

2 じ 21 ぶん

30 ぶんまえ
分前は




1 じ 51 ぶん

30分前の時計を読んで答えよう【B1】

今の時間を読んで、30分前の時刻と長針・短針を答えましょう。

(答え)

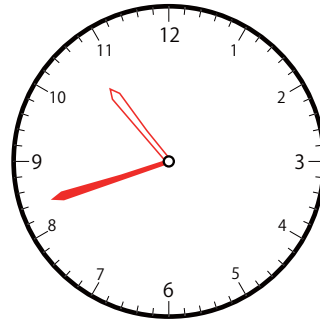
①



いま じ かん
今の時間


11 じ 12 ぶん

30 ぶんまえ
分前は



10 じ 42 ぶん

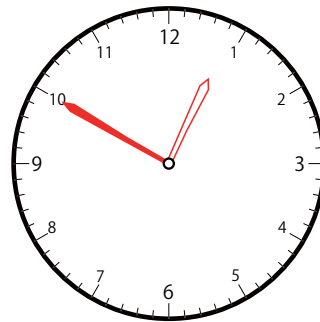
①



いま じ かん
今の時間

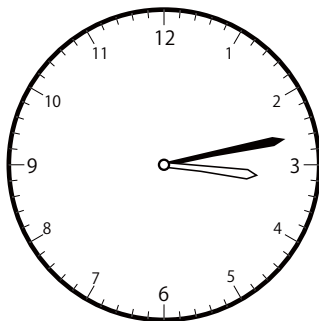
1 じ 20 ぶん

30 ぶんまえ
分前は



12 じ 50 ぶん

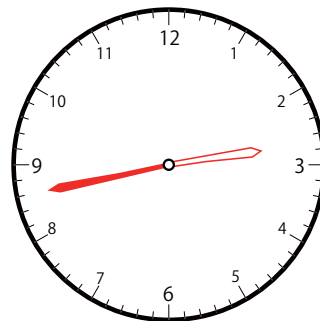
②



いま じ かん
今の時間

3 じ 13 ぶん

30 ぶんまえ
分前は



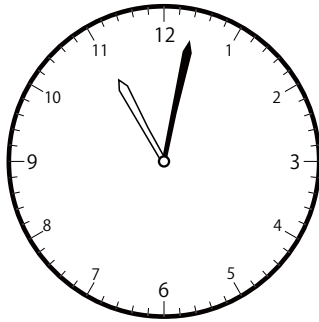
2 じ 43 ぶん

30分前の時計を読んで答えよう【B1】

今の時間を読んで、30分前の時刻と長針・短針を答えましょう。

(答え)

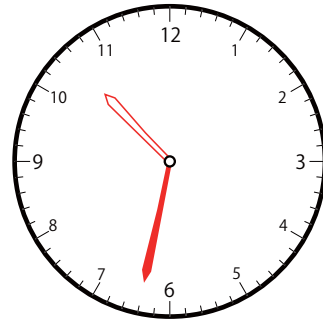
③



いま じ かん
今の時間

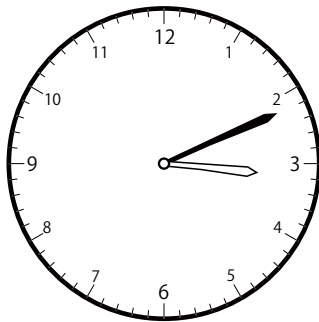
11 時 2 分

30分前は



10 時 32 分

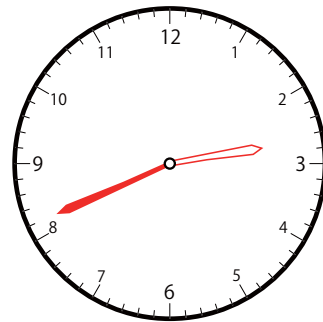
①



いま じ かん
今の時間


3 時 11 分

30分前は



2 時 41 分

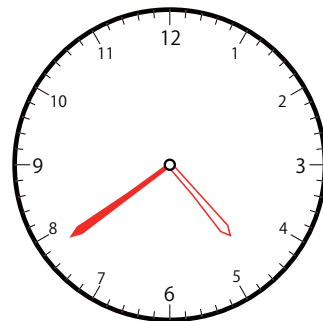
②



いま じ かん
今の時間

5 時 9 分

30分前は



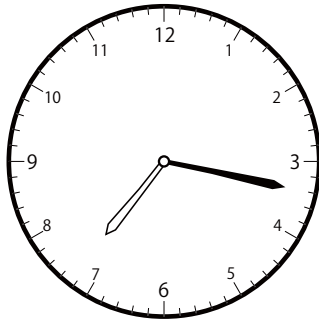
4 時 39 分

30分前の時計を読んで答えよう【B1】

今の時間を読んで、30分前の時刻と長針・短針を答えましょう。

(答え)

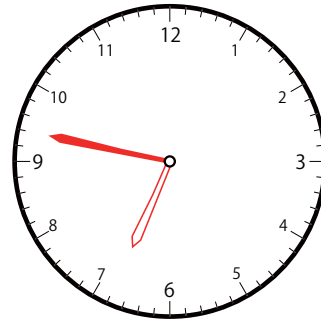
①



いま じ かん
今の時間


7 じ 17 ぶん

30 ぶんまえ
分前は



6 じ 47 ぶん

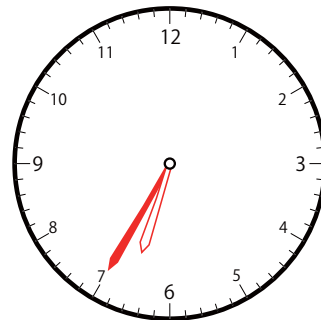
②



いま じ かん
今の時間


7 じ 5 ぶん

30 ぶんまえ
分前は



6 じ 35 ぶん

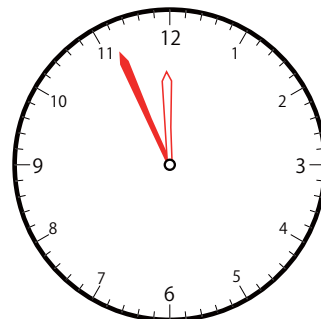
③



いま じ かん
今の時間

12 じ 26 ぶん

30 ぶんまえ
分前は



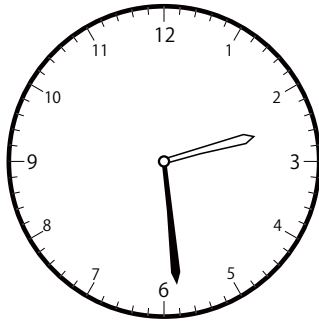
11 じ 56 ぶん

30分前の時計を読んで答えよう【B1】

今の時間を読んで、30分前の時刻と長針・短針を答えましょう。

こた
(答え)

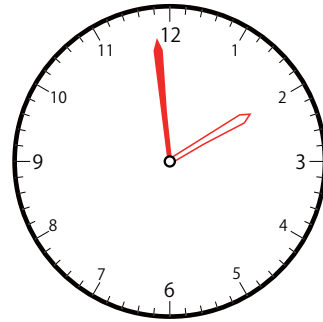
①



いま じ かん
今の時間

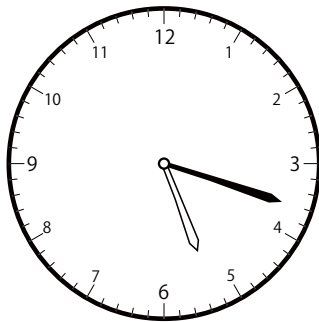
2 じ 29 ぶん

30 ぶんまえ
分前は



1 じ 59 ぶん

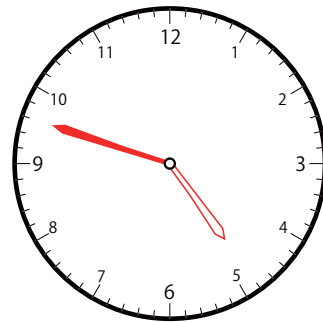
②



いま じ かん
今の時間

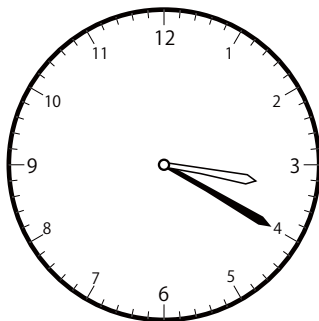
5 じ 18 ぶん

30 ぶんまえ
分前は



4 じ 48 ぶん

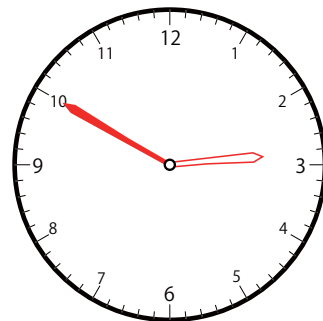
③



いま じ かん
今の時間

3 じ 20 ぶん

30 ぶんまえ
分前は



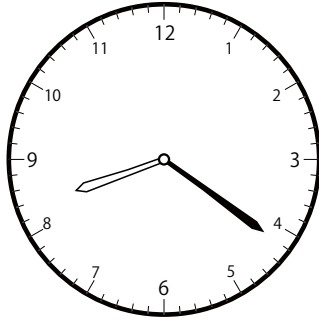
2 じ 50 ぶん

30分前の時計を読んで答えよう【B1】

今の時間を読んで、30分前の時刻と長針・短針を答えましょう。

(答え)

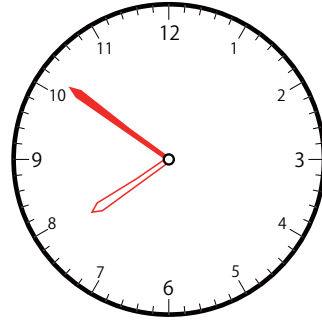
①



いま じ かん
今の時間


8 じ 21 ぶん

30 ぶんまえ
分前は



7 じ 51 ぶん

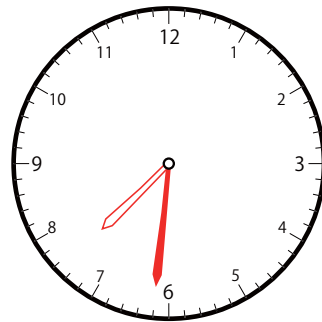
③



いま じ かん
今の時間


8 じ 1 ぶん

30 ぶんまえ
分前は



7 じ 31 ぶん

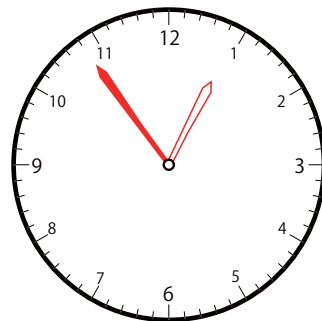
③



いま じ かん
今の時間

1 じ 24 ぶん

30 ぶんまえ
分前は



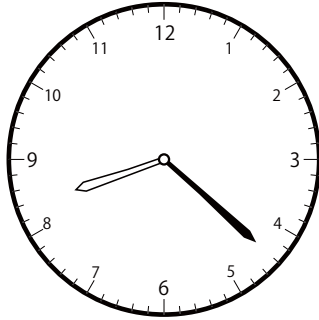
12 じ 54 ぶん

30分前の時計を読んで答えよう【B1】

今の時間を読んで、30分前の時刻と長針・短針を答えましょう。

(答え)

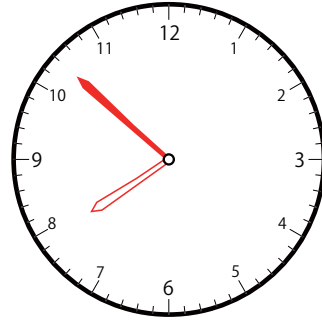
①



いま じ かん
今の時間

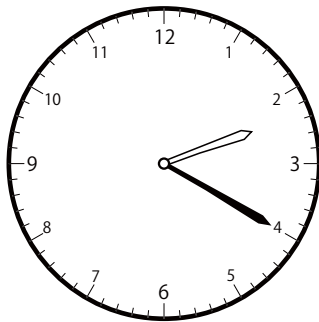
8 じ 22 ぶん

30 ぶんまえ
分前は



7 じ 52 ぶん

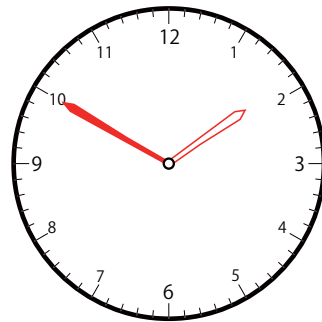
③



いま じ かん
今の時間


2 じ 20 ぶん

30 ぶんまえ
分前は



1 じ 50 ぶん

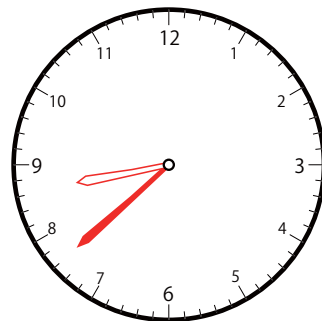
①



いま じ かん
今の時間

9 じ 8 ぶん

30 ぶんまえ
分前は



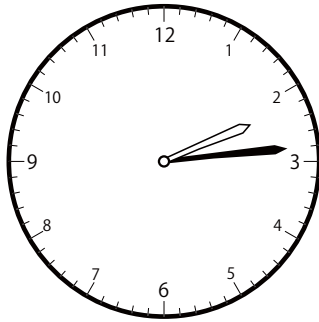
8 じ 38 ぶん

30分前の時計を読んで答えよう【B1】

今の時間を読んで、30分前の時刻と長針・短針を答えましょう。

こた
(答え)

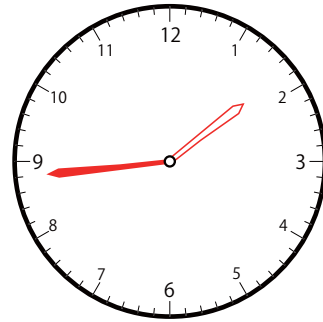
③



いま じ かん
今の時間

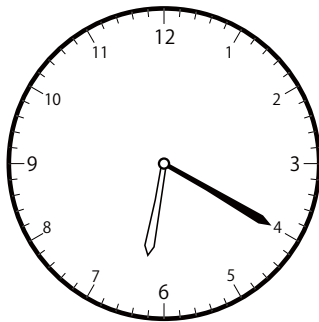
2 じ 14 ぶん

30 ぶんまえ
分前は



1 じ 44 ぶん

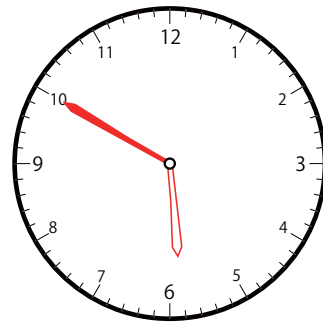
①



いま じ かん
今の時間

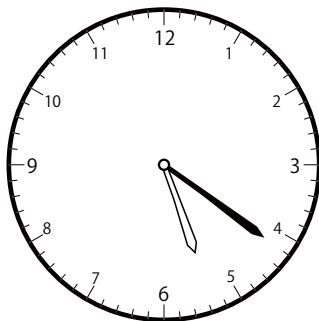
6 じ 20 ぶん

30 ぶんまえ
分前は



5 じ 50 ぶん

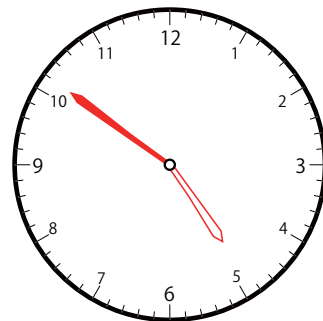
③



いま じ かん
今の時間

5 じ 21 ぶん

30 ぶんまえ
分前は




4 じ 51 ぶん

30分前の時計を読んで答えよう【B1】

今の時間を読んで、30分前の時刻と長針・短針を答えましょう。

(答え)

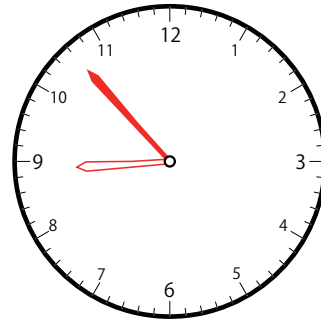
②



いま じ かん
今の時間

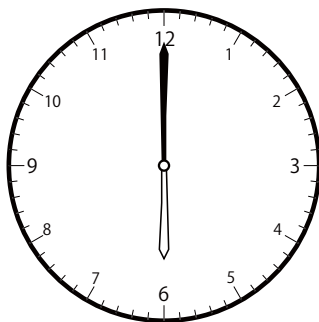
9 じ 23 ぶん

30 ぶんまえ
分前は



8 じ 53 ぶん

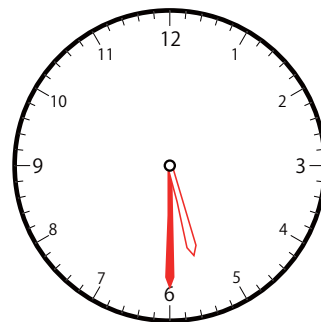
③



いま じ かん
今の時間


6 じ 0 ぶん

30 ぶんまえ
分前は



5 じ 30 ぶん

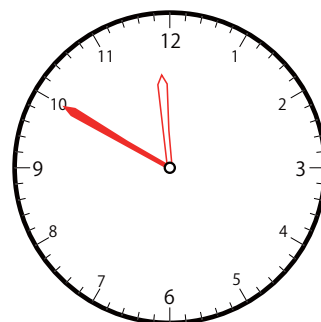
①



いま じ かん
今の時間

12 じ 20 ぶん

30 ぶんまえ
分前は




11 じ 50 ぶん

30分前の時計を読んで答えよう【B1】

今の時間を読んで、30分前の時刻と長針・短針を答えましょう。

(答え)

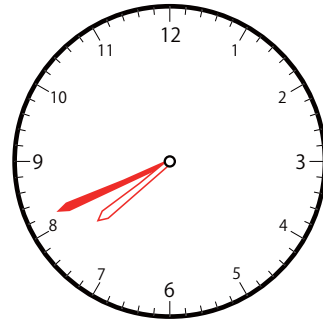
②



いま じ かん
今の時間


8 じ 11 ぶん

30 ぶんまえ
分前は



7 じ 41 ぶん

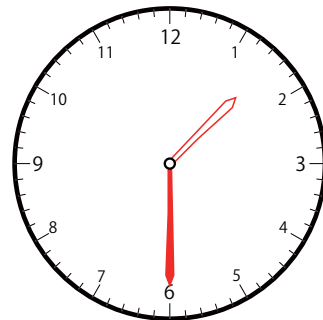
③



いま じ かん
今の時間


2 じ 0 ぶん

30 ぶんまえ
分前は



1 じ 30 ぶん

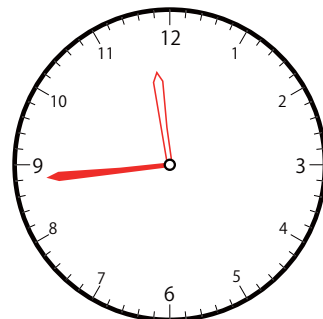
③



いま じ かん
今の時間

12 じ 14 ぶん

30 ぶんまえ
分前は




11 じ 44 ぶん

30分前の時計を読んで答えよう【B1】

今の時間を読んで、30分前の時刻と長針・短針を答えましょう。

(答え)

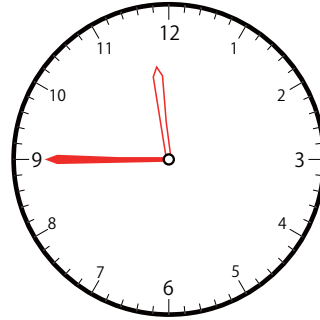
②



いま じ かん
今の時間


12 じ 15 ぶん

30 ぶんまえ
分前は



11 じ 45 ぶん

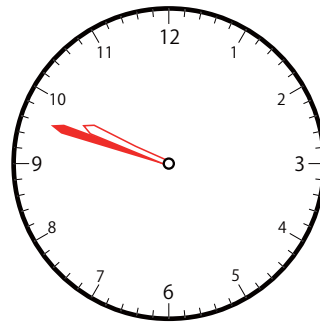
③



いま じ かん
今の時間

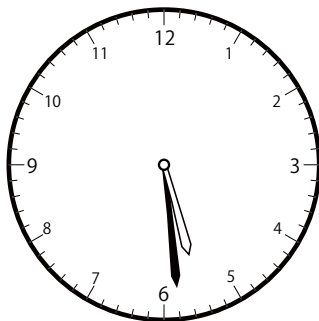
10 じ 18 ぶん

30 ぶんまえ
分前は



9 じ 48 ぶん

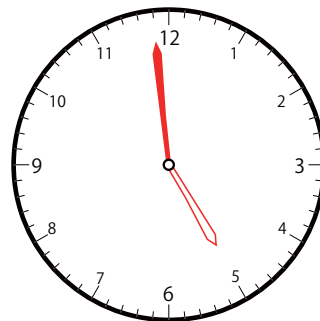
①



いま じ かん
今の時間

5 じ 29 ぶん

30 ぶんまえ
分前は




4 じ 59 ぶん

30分前の時計を読んで答えよう【B1】

今の時間を読んで、30分前の時刻と長針・短針を答えましょう。

(答え)

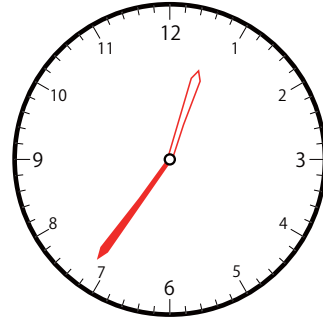
②



いま じ かん
今の時間

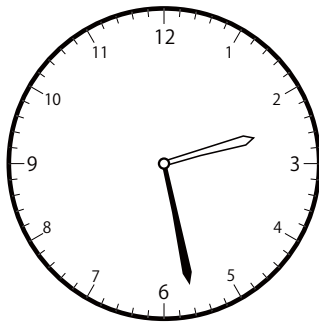
1 時 6 分

30分前は



12 時 36 分

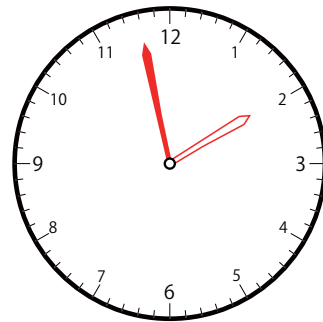
③



いま じ かん
今の時間

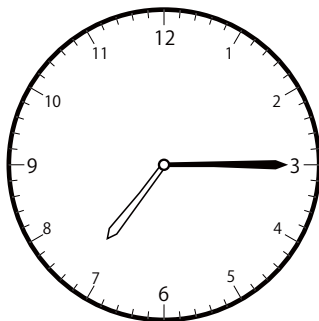
2 時 28 分

30分前は



1 時 58 分

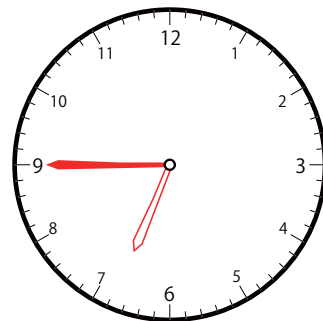
②



いま じ かん
今の時間

7 時 15 分

30分前は




6 時 45 分

30分前の時計を読んで答えよう【B1】

今の時間を読んで、30分前の時刻と長針・短針を答えましょう。

こた
(答え)

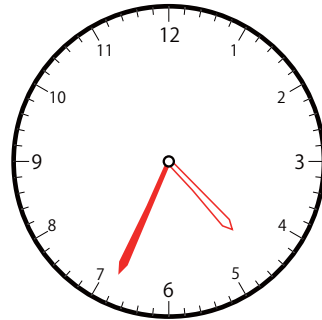
③



いま じ かん
今の時間

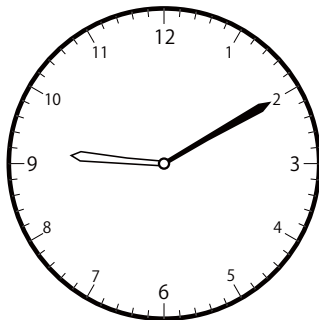
5 じ 4 ぶん

30 ぶんまえ
分前は



4 じ 34 ぶん

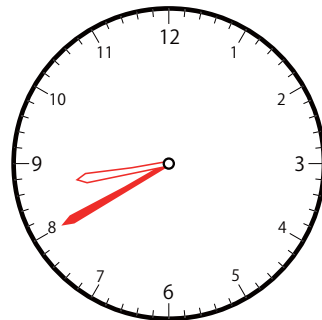
②



いま じ かん
今の時間

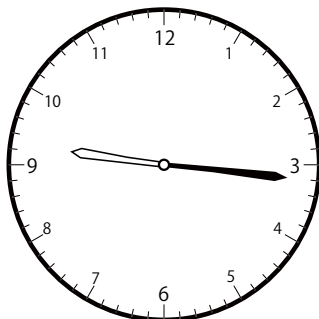
9 じ 10 ぶん

30 ぶんまえ
分前は



8 じ 40 ぶん

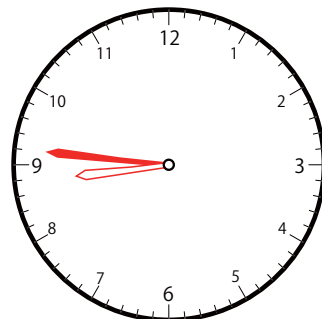
③



いま じ かん
今の時間

9 じ 16 ぶん

30 ぶんまえ
分前は



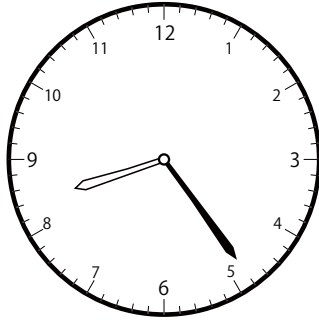
8 じ 46 ぶん

30分前の時計を読んで答えよう【B1】

今の時間を読んで、30分前の時刻と長針・短針を答えましょう。

(答え)

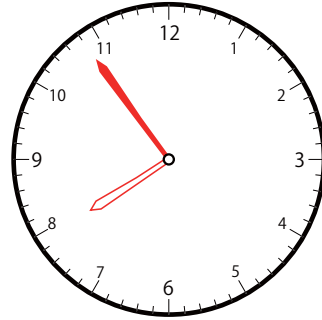
①



いま じ かん
今の時間


8 じ 24 ぶん

30 ぶんまえ
分前は



7 じ 54 ぶん

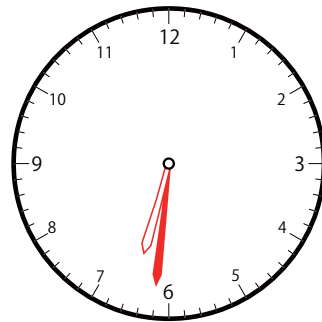
①



いま じ かん
今の時間


7 じ 1 ぶん

30 ぶんまえ
分前は



6 じ 31 ぶん

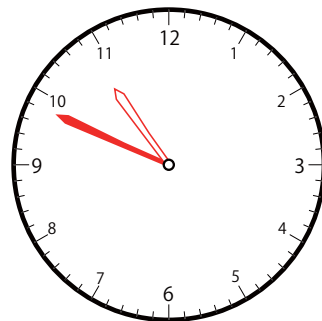
②



いま じ かん
今の時間

11 じ 19 ぶん

30 ぶんまえ
分前は



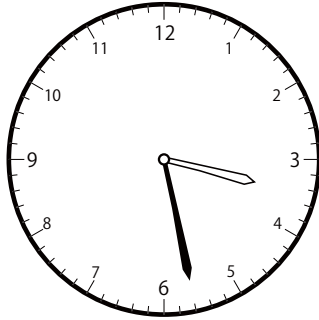
10 じ 49 ぶん

30分前の時計を読んで答えよう【B1】

今の時間を読んで、30分前の時刻と長針・短針を答えましょう。

(答え)

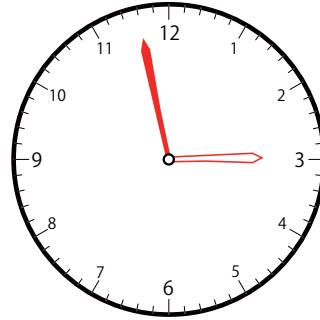
①



いま じ かん
今の時間


3 じ 28 ぶん

30 ぶんまえ
分前は



2 じ 58 ぶん

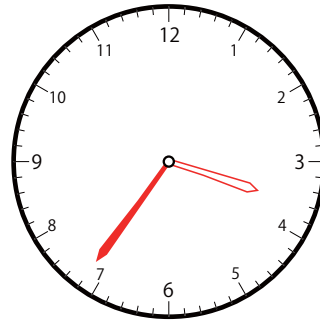
③



いま じ かん
今の時間


4 じ 6 ぶん

30 ぶんまえ
分前は



3 じ 36 ぶん

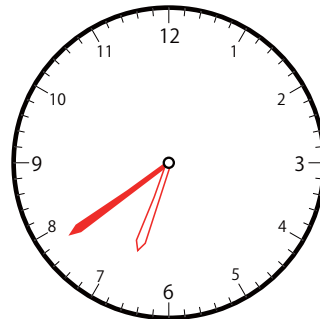
②



いま じ かん
今の時間

7 じ 9 ぶん

30 ぶんまえ
分前は




6 じ 39 ぶん

30分前の時計を読んで答えよう【B1】

今の時間を読んで、30分前の時刻と長針・短針を答えましょう。

(答え)

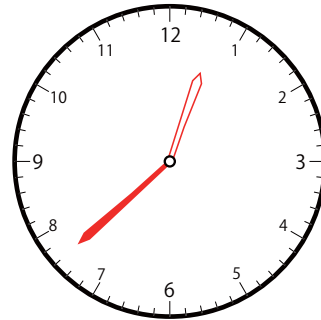
③



いま じ かん
今の時間


1 時 8 分

30分前は



12 時 38 分

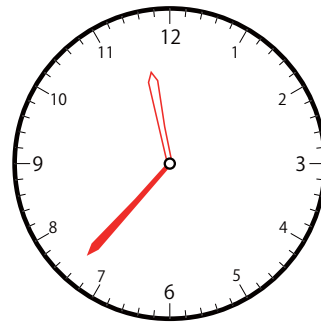
②



いま じ かん
今の時間


12 時 7 分

30分前は



11 時 37 分

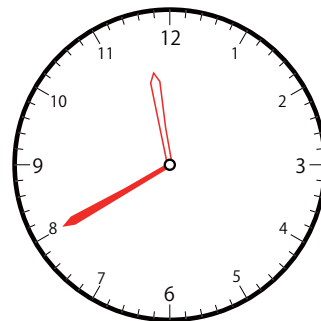
③



いま じ かん
今の時間

12 時 10 分

30分前は




11 時 40 分

30分前の時計を読んで答えよう【B1】

今の時間を読んで、30分前の時刻と長針・短針を答えましょう。

こた
(答え)

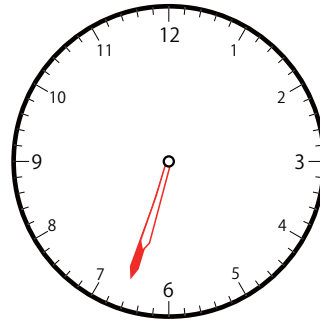
①



いま じ かん
今の時間


7 じ 3 ぶん
時 分

30 ぶんまえ
分前は



6 じ 33 ぶん
時 分

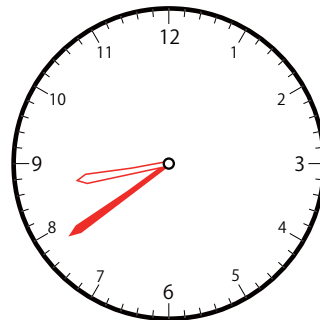
②



いま じ かん
今の時間


9 じ 9 ぶん
時 分

30 ぶんまえ
分前は



8 じ 39 ぶん
時 分

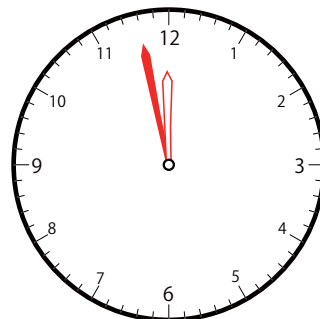
③



いま じ かん
今の時間

12 じ 28 ぶん
時 分

30 ぶんまえ
分前は



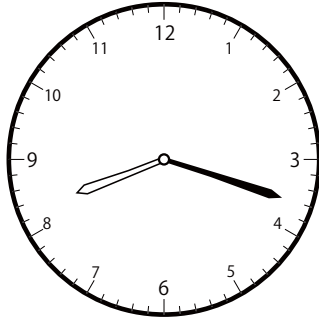
11 じ 58 ぶん
時 分

30分前の時計を読んで答えよう【B1】

今の時間を読んで、30分前の時刻と長針・短針を答えましょう。

こた
(答え)

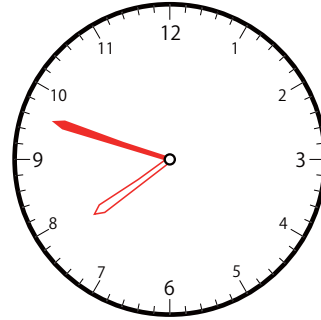
③



いま じ かん
今の時間

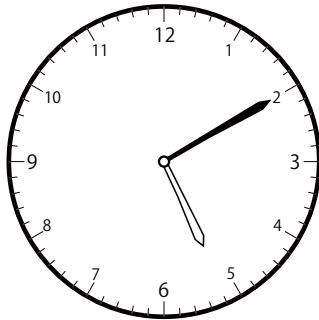
8 じ 18 ぶん

30 ぶんまえ
分前は



7 じ 48 ぶん

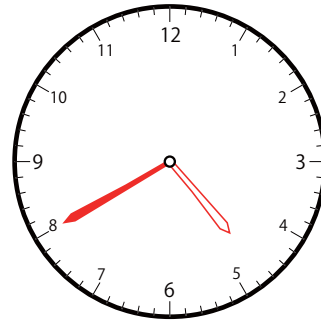
②



いま じ かん
今の時間


5 じ 10 ぶん

30 ぶんまえ
分前は



4 じ 40 ぶん

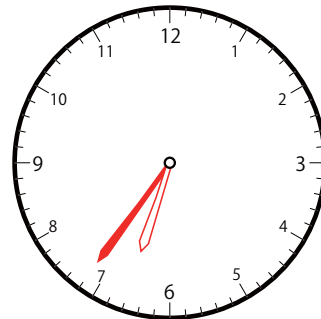
③



いま じ かん
今の時間

7 じ 6 ぶん

30 ぶんまえ
分前は




6 じ 36 ぶん

30分前の時計を読んで答えよう【B1】

今の時間を読んで、30分前の時刻と長針・短針を答えましょう。

こた
(答え)

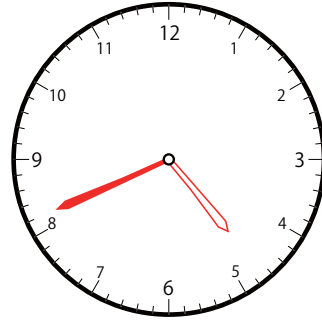
①



いま じ かん
今の時間

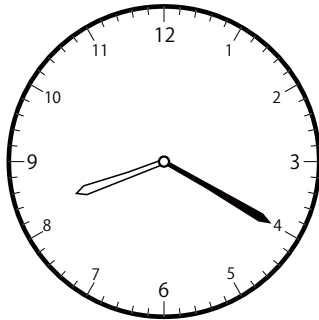
5 じ 11 ぶん

30 ぶんまえ
分前は



4 じ 41 ぶん

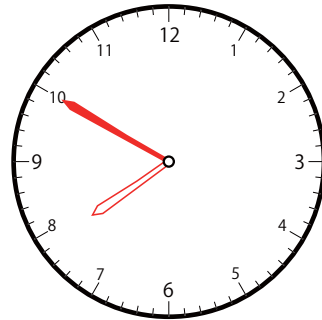
②



いま じ かん
今の時間


8 じ 20 ぶん

30 ぶんまえ
分前は



7 じ 50 ぶん

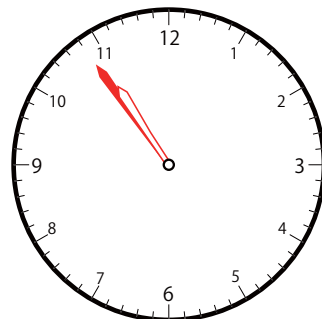
③



いま じ かん
今の時間

11 じ 24 ぶん

30 ぶんまえ
分前は



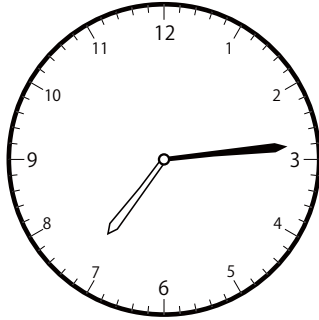
10 じ 54 ぶん

30分前の時計を読んで答えよう【B1】

今の時間を読んで、30分前の時刻と長針・短針を答えましょう。

(答え)

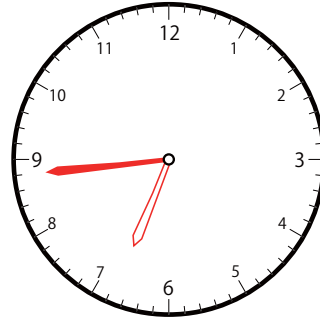
②



いま じ かん
今の時間


7 じ 14 ぶん

30 ぶんまえ
分前は



6 じ 44 ぶん

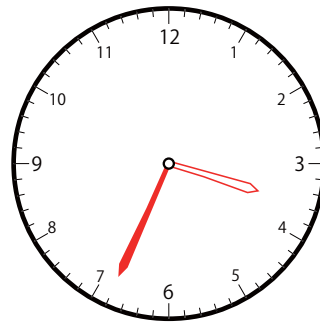
③



いま じ かん
今の時間


4 じ 4 ぶん

30 ぶんまえ
分前は



3 じ 34 ぶん

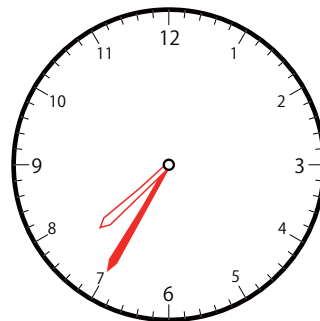
①



いま じ かん
今の時間

8 じ 5 ぶん

30 ぶんまえ
分前は




7 じ 35 ぶん

30分前の時計を読んで答えよう【B1】

いま じかん よ
今の時間を読んで、30分前の時刻と長針・短針を答えましょう。

こた
(答え)

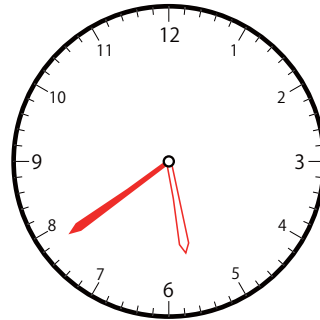
②



いま じかん
今の時間

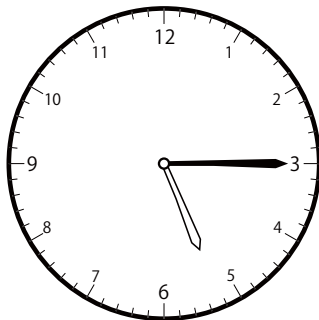
6時9分

30分前は



5時39分

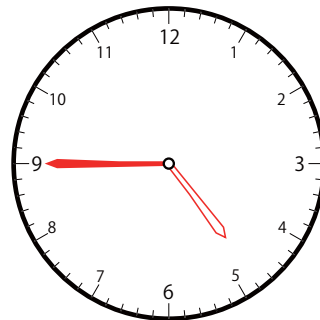
③



いま じかん
今の時間


5時15分

30分前は



4時45分

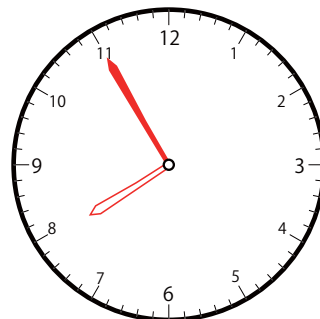
①



いま じかん
今の時間

8時25分

30分前は




7時55分

30分前の時計を読んで答えよう【B1】

今の時間を読んで、30分前の時刻と長針・短針を答えましょう。

(答え)

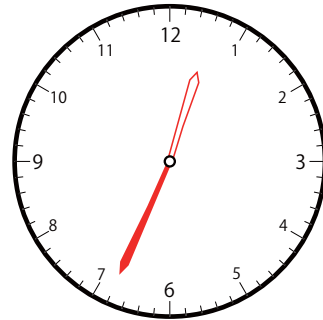
①



いま じ かん
今の時間

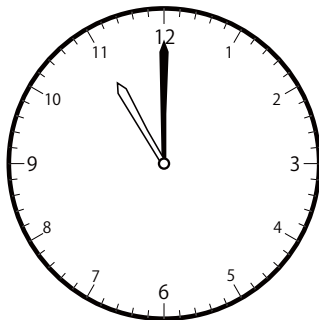
1 時 4 分

30分前は



12 時 34 分

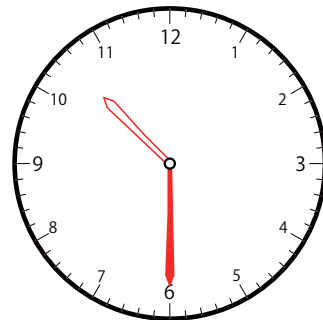
②



いま じ かん
今の時間

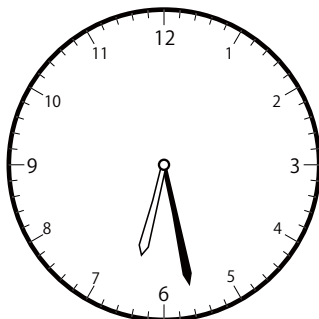
11 時 0 分

30分前は



10 時 30 分

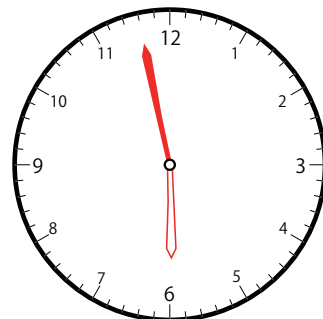
③



いま じ かん
今の時間

6 時 28 分

30分前は



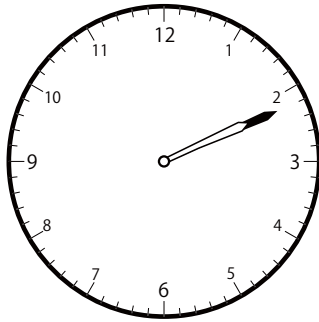
5 時 58 分

30分前の時計を読んで答えよう【B1】

今の時間を読んで、30分前の時刻と長針・短針を答えましょう。

こた
(答え)

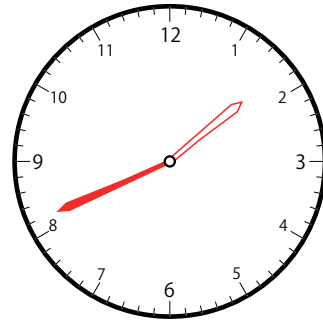
②



いま じ かん
今の時間

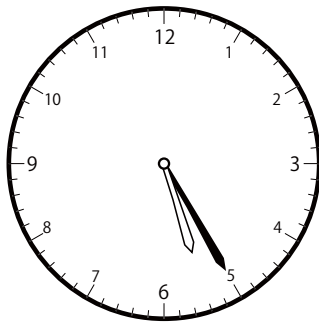
2 じ 11 ぶん

30 ぶんまえ
分前は



1 じ 41 ぶん

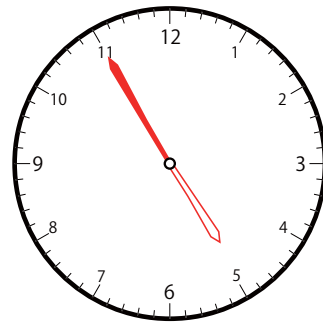
①



いま じ かん
今の時間


5 じ 25 ぶん

30 ぶんまえ
分前は



4 じ 55 ぶん

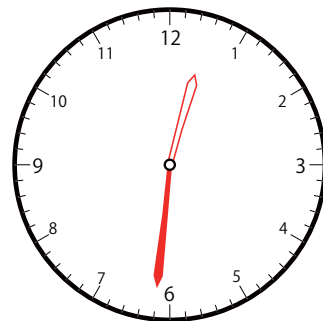
③



いま じ かん
今の時間

1 じ 5 ぶん

30 ぶんまえ
分前は



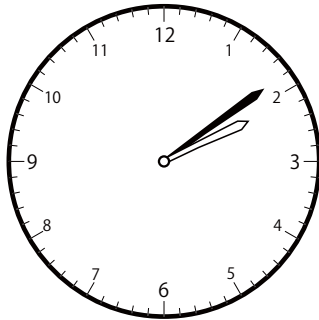
11 じ 35 ぶん

30分前の時計を読んで答えよう【B1】

今の時間を読んで、30分前の時刻と長針・短針を答えましょう。

(答え)

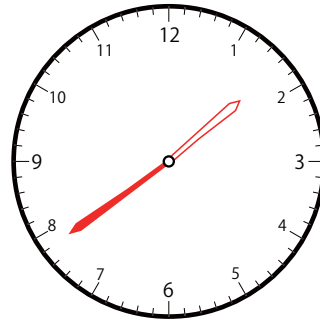
①



いま じ かん
今の時間


2 じ 9 ぶん

30分前は



1 じ 39 ぶん

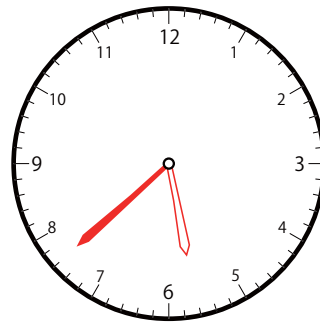
③



いま じ かん
今の時間


6 じ 8 ぶん

30分前は



5 じ 38 ぶん

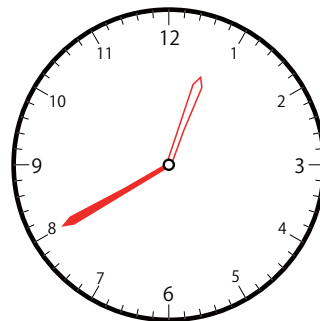
①



いま じ かん
今の時間

1 じ 10 ぶん

30分前は




12 じ 40 ぶん

30分前の時計を読んで答えよう【B1】

今の時間を読んで、30分前の時刻と長針・短針を答えましょう。

(答え)

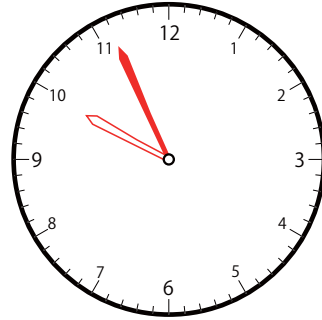
②



いま じ かん
今の時間


10 じ 26 ぶん

30 ぶんまえ
分前は



9 じ 56 ぶん

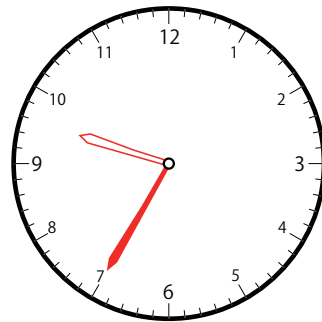
③



いま じ かん
今の時間


10 じ 5 ぶん

30 ぶんまえ
分前は



9 じ 35 ぶん

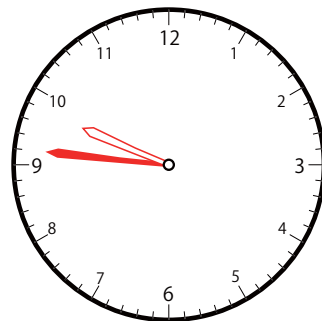
②



いま じ かん
今の時間

10 じ 16 ぶん

30 ぶんまえ
分前は



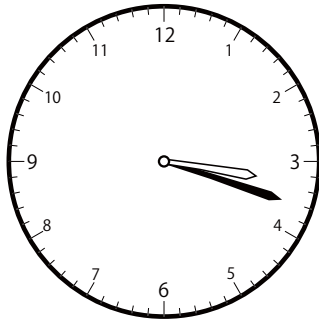
9 じ 46 ぶん

30分前の時計を読んで答えよう【B1】

今の時間を読んで、30分前の時刻と長針・短針を答えましょう。

(答え)

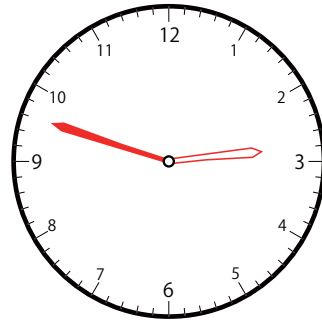
②



いま じ かん
今の時間

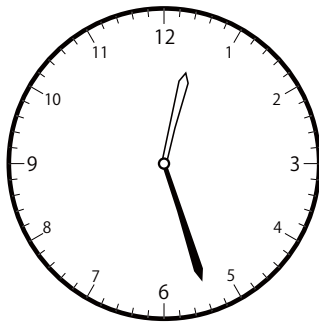
3 じ 18 ぶん

30 ぶんまえ
分前は



2 じ 48 ぶん

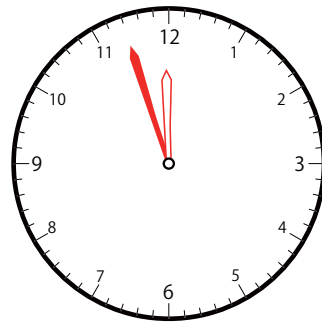
①



いま じ かん
今の時間


12 じ 27 ぶん

30 ぶんまえ
分前は



11 じ 57 ぶん

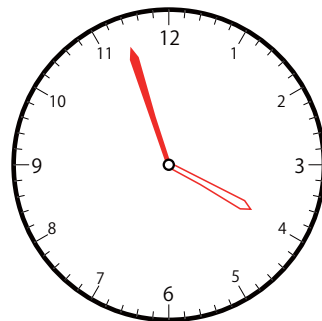
①



いま じ かん
今の時間

4 じ 27 ぶん

30 ぶんまえ
分前は




3 じ 57 ぶん

30分前の時計を読んで答えよう【B1】

今の時間を読んで、30分前の時刻と長針・短針を答えましょう。

こた
(答え)

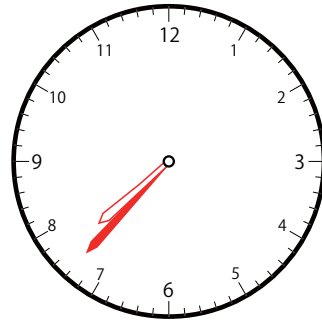
③



いま じ かん
今の時間

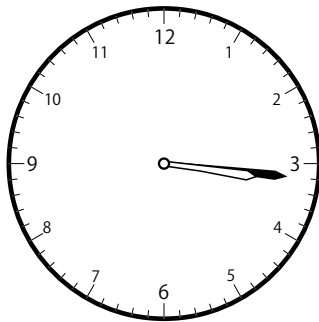
8 じ 7 ぶん

30 ぶんまえ
分前は



7 じ 37 ぶん

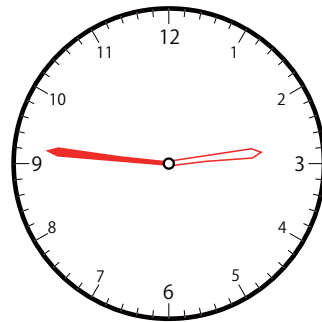
①



いま じ かん
今の時間

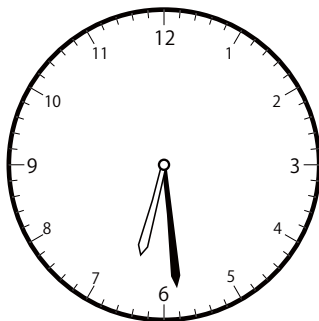
3 じ 16 ぶん

30 ぶんまえ
分前は



2 じ 46 ぶん

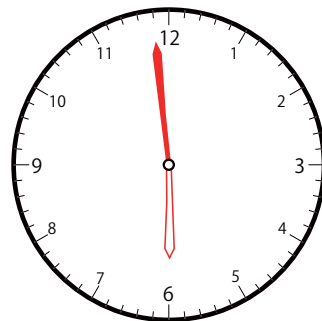
①



いま じ かん
今の時間

6 じ 29 ぶん

30 ぶんまえ
分前は



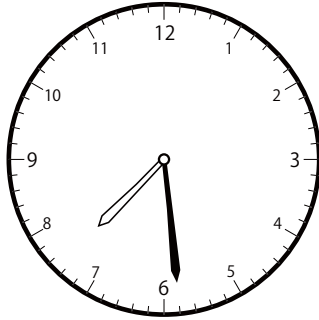
5 じ 59 ぶん

30分前の時計を読んで答えよう【B1】

今の時間を読んで、30分前の時刻と長針・短針を答えましょう。

こた
(答え)

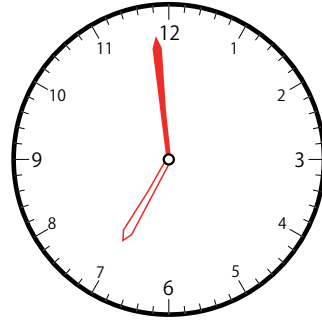
②



いま じ かん
今の時間

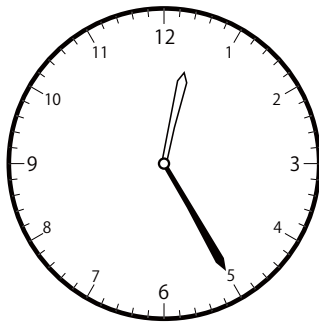
7 じ 29 ぶん

30 ぶんまえ
分前は



6 じ 59 ぶん

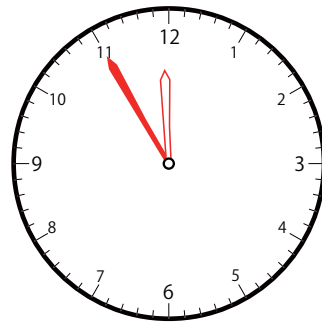
③



いま じ かん
今の時間


12 じ 25 ぶん

30 ぶんまえ
分前は



11 じ 55 ぶん

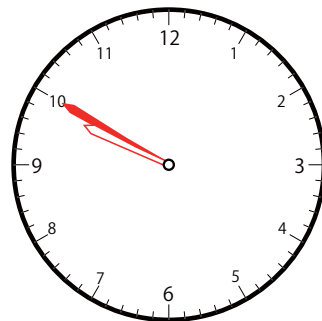
①



いま じ かん
今の時間

10 じ 20 ぶん

30 ぶんまえ
分前は




9 じ 50 ぶん

30分前の時計を読んで答えよう【B1】

今の時間を読んで、30分前の時刻と長針・短針を答えましょう。

こた
(答え)

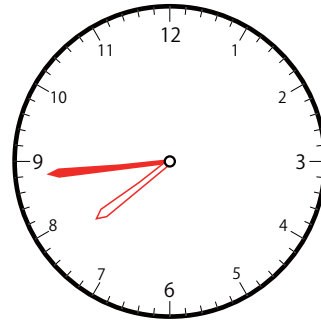
③



いま じ かん
今の時間

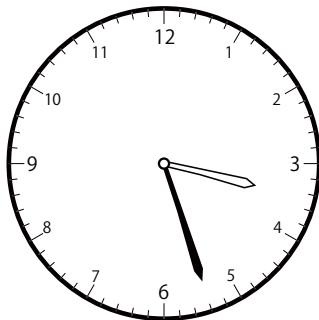
8 じ 14 ぶん

30 ぶんまえ
分前は



7 じ 44 ぶん

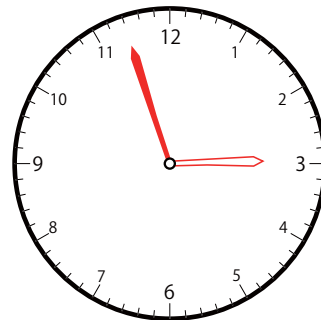
①



いま じ かん
今の時間


3 じ 27 ぶん

30 ぶんまえ
分前は



2 じ 57 ぶん

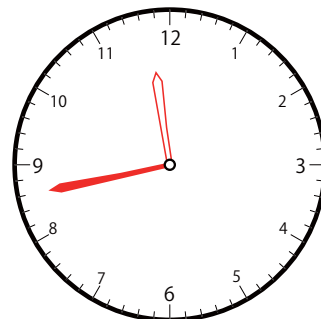
②



いま じ かん
今の時間

12 じ 13 ぶん

30 ぶんまえ
分前は




11 じ 43 ぶん

30分前の時計を読んで答えよう【B1】

今の時間を読んで、30分前の時刻と長針・短針を答えましょう。

(答え)

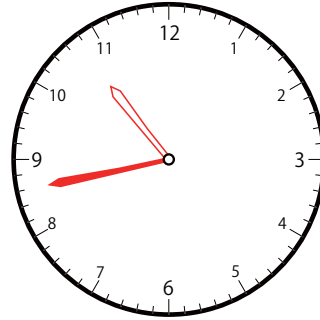
①



いま じ かん
今の時間

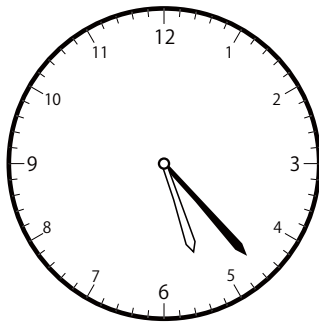
11 じ 13 ぶん
11時13分

30 ぶんまえ
30分前は



10 じ 43 ぶん
10時43分

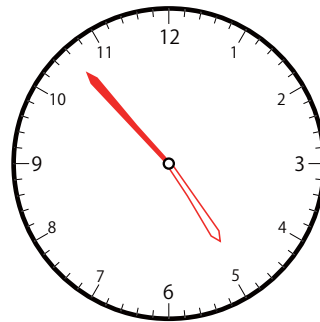
②



いま じ かん
今の時間

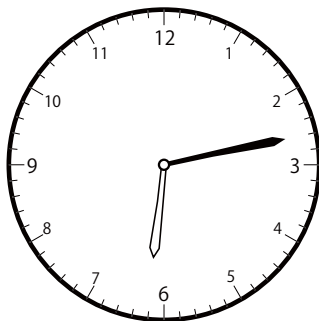
5 じ 23 ぶん
5時23分

30 ぶんまえ
30分前は



4 じ 53 ぶん
4時53分

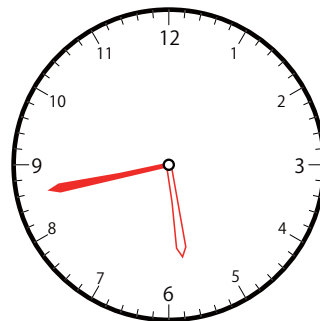
①



いま じ かん
今の時間

6 じ 13 ぶん
6時13分

30 ぶんまえ
30分前は



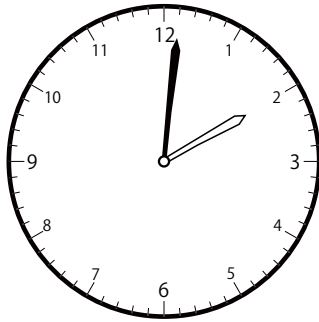
5 じ 43 ぶん
5時43分

30分前の時計を読んで答えよう【B1】

いま じかん よ
今の時間を読んで、30分前の時刻と長針・短針を答えましょう。

こた
(答え)

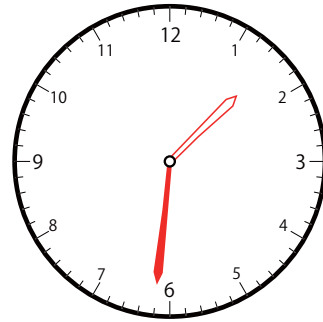
②



いま じかん
今の時間


2 時 1 分

30分前は



1 時 31 分

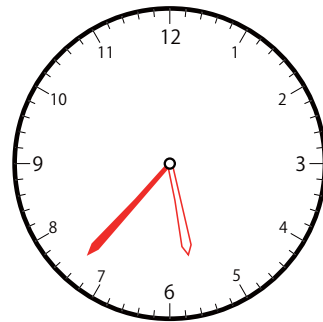
③



いま じかん
今の時間

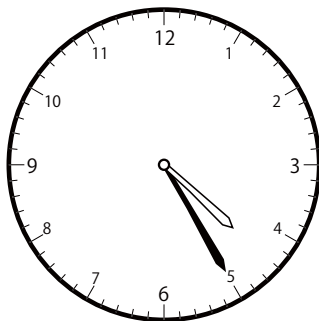
6 時 7 分

30分前は



5 時 37 分

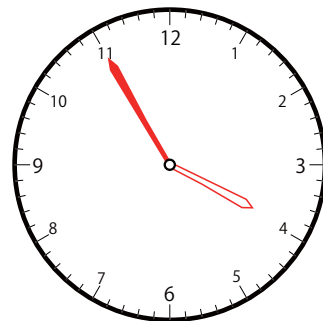
②



いま じかん
今の時間

4 時 25 分

30分前は



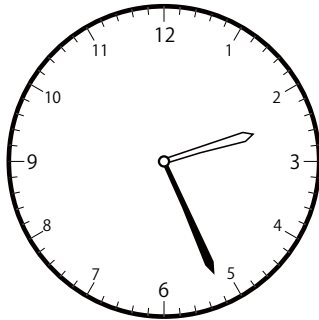
3 時 55 分

30分前の時計を読んで答えよう【B1】

いま じかん よ
今の時間を読んで、30分前の時刻と長針・短針を答えましょう。

こた
(答え)

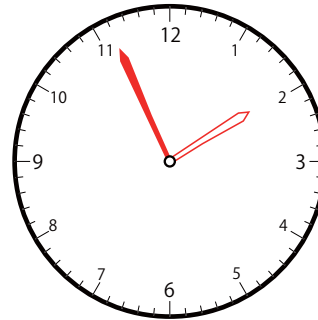
③



いま じかん
今の時間


2 時 26 分

30分前は



1 時 56 分

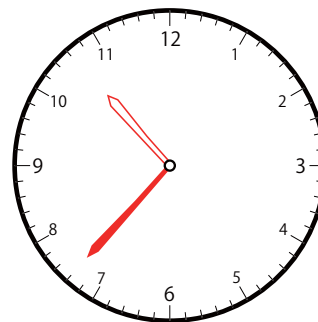
③



いま じかん
今の時間

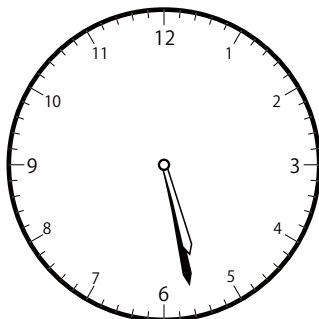
11 時 7 分

30分前は



10 時 37 分

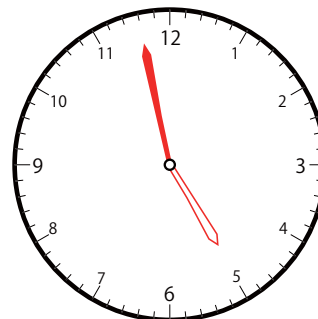
①



いま じかん
今の時間

5 時 28 分

30分前は




4 時 58 分

30分前の時計を読んで答えよう【B1】

今の時間を読んで、30分前の時刻と長針・短針を答えましょう。

(答え)

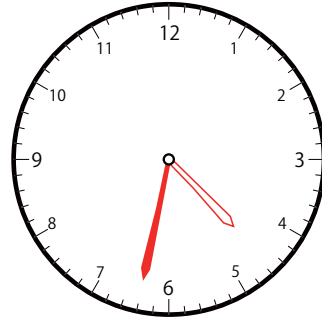
③



いま じ かん
今の時間


5 じ 2 ぶん

30 ぶんまえ
分前は



4 じ 32 ぶん

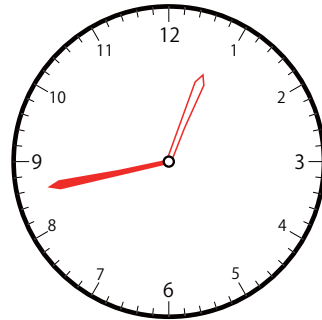
②



いま じ かん
今の時間

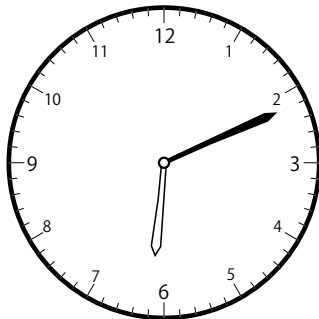
1 じ 13 ぶん

30 ぶんまえ
分前は



12 じ 43 ぶん

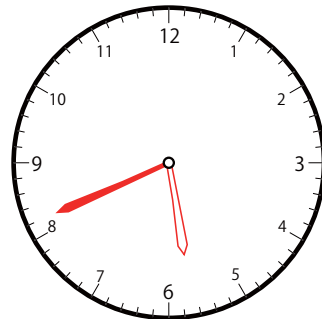
②



いま じ かん
今の時間

6 じ 11 ぶん

30 ぶんまえ
分前は




5 じ 41 ぶん

30分前の時計を読んで答えよう【B1】

今の時間を読んで、30分前の時刻と長針・短針を答えましょう。

(答え)

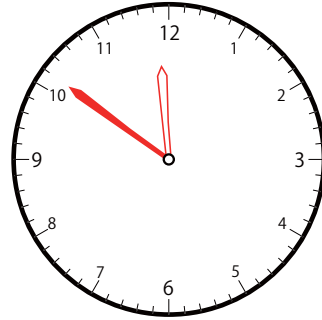
②



いま じ かん
今の時間

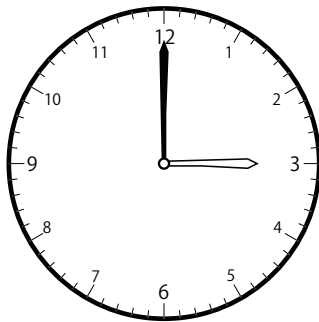
12 じ 21 ぶん

30 ぶんまえ
分前は



11 じ 51 ぶん

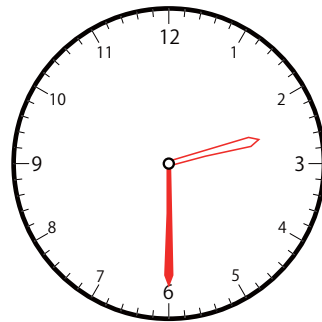
③



いま じ かん
今の時間


3 じ 0 ぶん

30 ぶんまえ
分前は



2 じ 30 ぶん

③



いま じ かん
今の時間

4 じ 5 ぶん

30 ぶんまえ
分前は



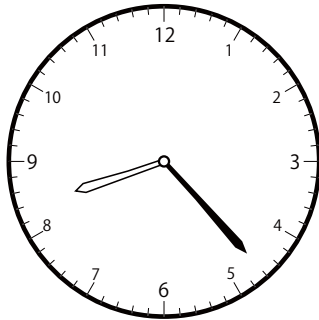
3 じ 35 ぶん

30分前の時計を読んで答えよう【B1】

今の時間を読んで、30分前の時刻と長針・短針を答えましょう。

(答え)

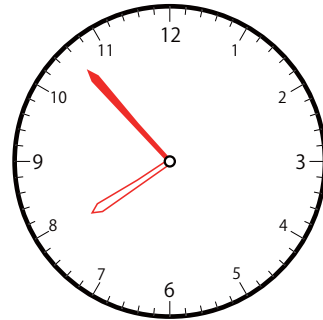
②



いま じ かん
今の時間


8 じ 23 ぶん

30 ぶんまえ
分前は



7 じ 53 ぶん

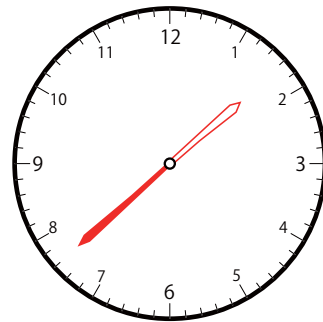
③



いま じ かん
今の時間

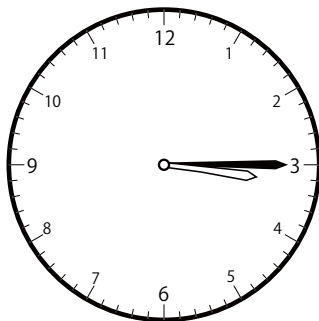
2 じ 8 ぶん

30 ぶんまえ
分前は



1 じ 38 ぶん

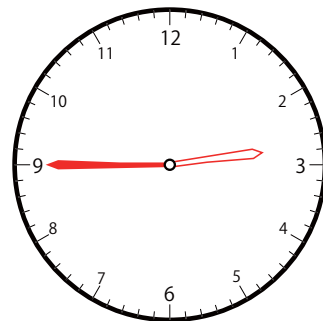
②



いま じ かん
今の時間

3 じ 15 ぶん

30 ぶんまえ
分前は




2 じ 45 ぶん

30分前の時計を読んで答えよう【B1】

今の時間を読んで、30分前の時刻と長針・短針を答えましょう。

(答え)

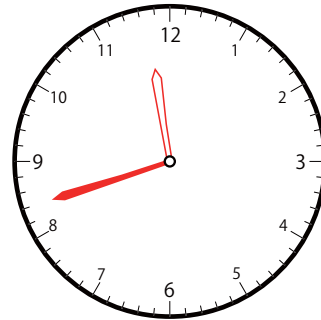
③



いま じ かん
今の時間

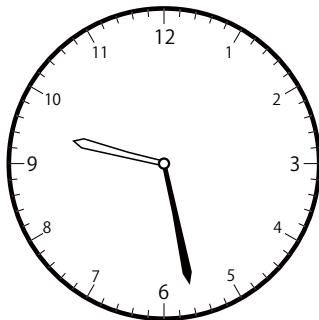
12 じ 12 ぶん

30 ぶんまえ
分前は



11 じ 42 ぶん

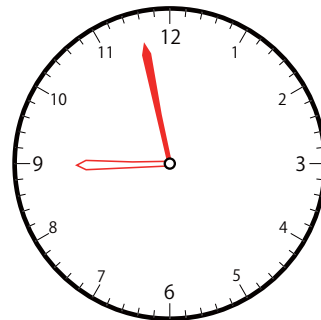
①



いま じ かん
今の時間


9 じ 28 ぶん

30 ぶんまえ
分前は



8 じ 58 ぶん

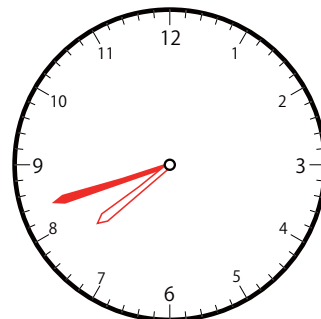
②



いま じ かん
今の時間

8 じ 12 ぶん

30 ぶんまえ
分前は



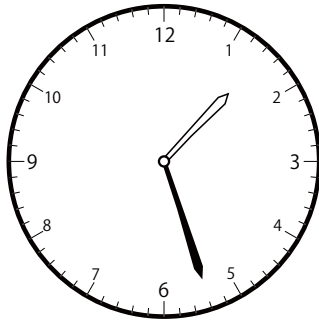
7 じ 42 ぶん

30分前の時計を読んで答えよう【B1】

いまの時間を読んで、30分前の時刻と長針・短針を答えましょう。

こた
(答え)

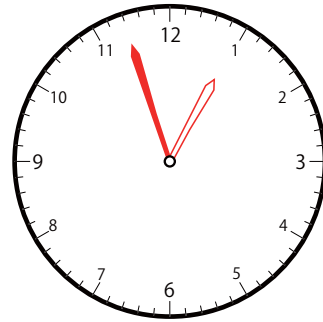
③



いまの時間

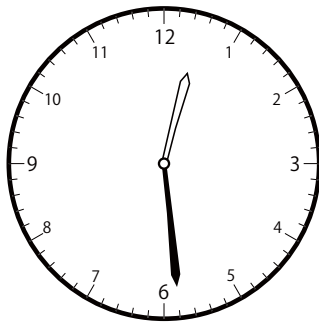
1時27分

30分前は



12時57分

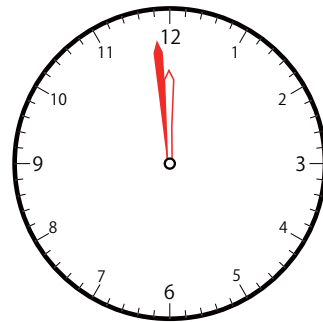
①



いまの時間

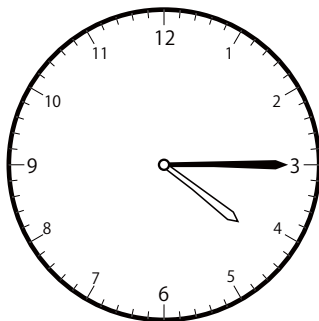
12時29分

30分前は



11時59分

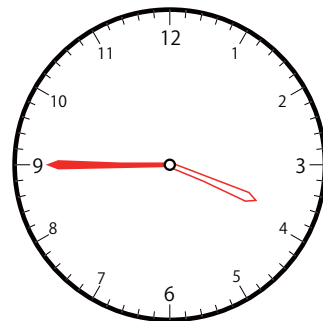
②



いまの時間

4時15分

30分前は



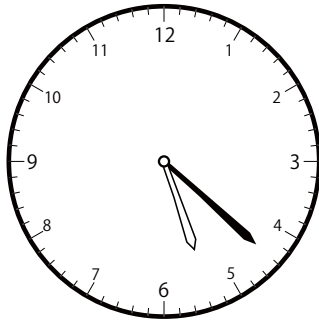
3時45分

30分前の時計を読んで答えよう【B1】

いまの時間を読んで、30分前の時刻と長針・短針を答えましょう。

こた
(答え)

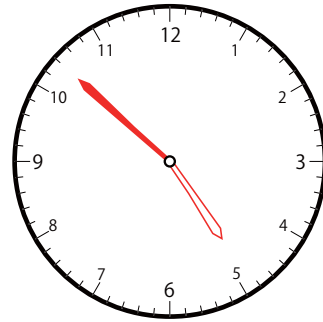
③



いまの時間


5時22分

30分前は



4時52分

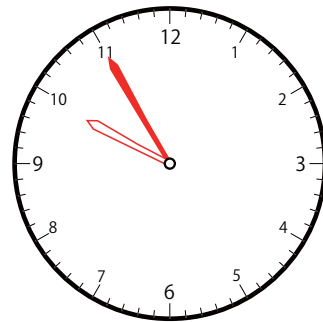
③



いまの時間

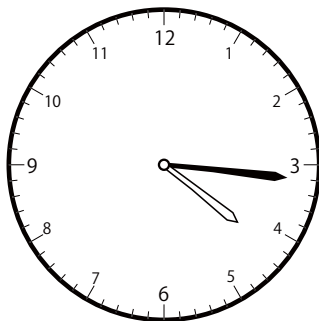
10時25分

30分前は



9時55分

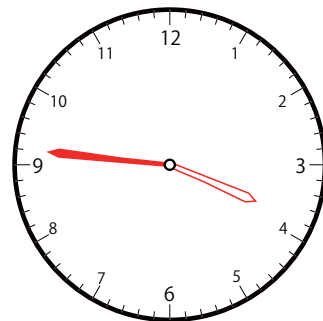
①



いまの時間

4時16分

30分前は




3時46分

30分前の時計を読んで答えよう【B1】

今の時間を読んで、30分前の時刻と長針・短針を答えましょう。

(答え)

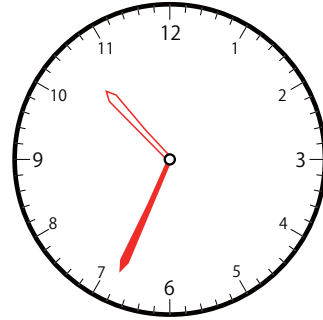
②



いま じ かん
今の時間


11 時 4 分

30 分前は



10 時 34 分

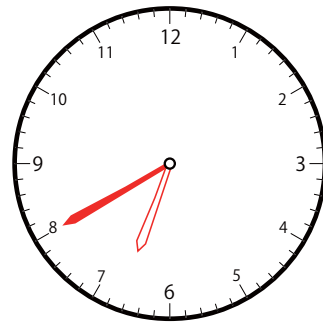
③



いま じ かん
今の時間


7 時 10 分

30 分前は



6 時 40 分

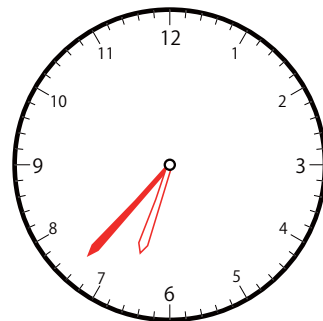
③



いま じ かん
今の時間

7 時 7 分

30 分前は



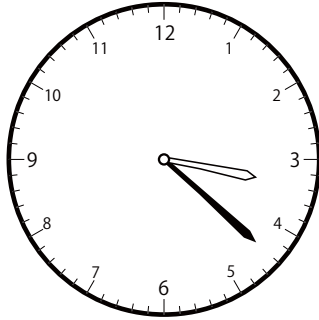
6 時 37 分

30分前の時計を読んで答えよう【B1】

今の時間を読んで、30分前の時刻と長針・短針を答えましょう。

(答え)

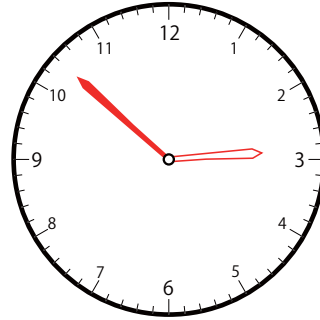
①



いま じ かん
今の時間


3 時 22 分

30分前は



2 時 52 分

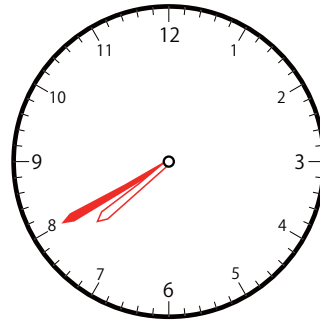
①



いま じ かん
今の時間


8 時 10 分

30分前は



7 時 40 分

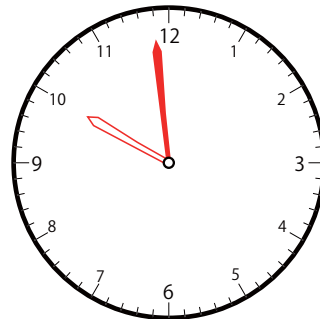
②



いま じ かん
今の時間

10 時 29 分

30分前は



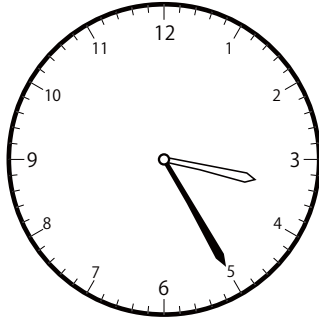
9 時 59 分

30分前の時計を読んで答えよう【B1】

今の時間を読んで、30分前の時刻と長針・短針を答えましょう。

(答え)

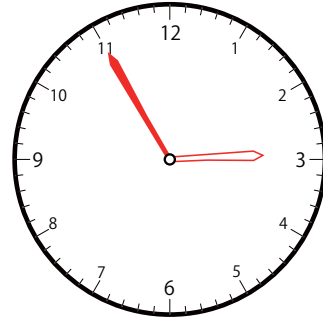
③



いま じ かん
今の時間


3 時 25 分

30分前は



2 時 55 分

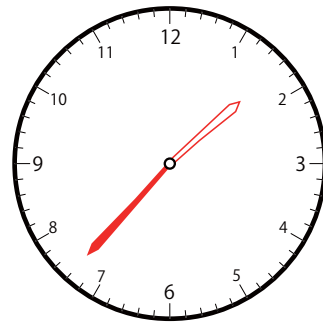
①



いま じ かん
今の時間


2 時 7 分

30分前は



1 時 37 分

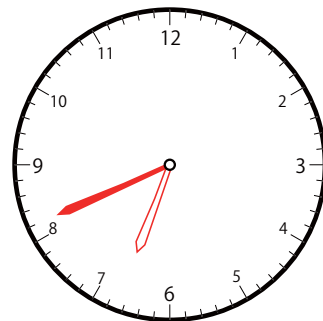
②



いま じ かん
今の時間

7 時 11 分

30分前は




6 時 41 分

30分前の時計を読んで答えよう【B1】

今の時間を読んで、30分前の時刻と長針・短針を答えましょう。

(答え)

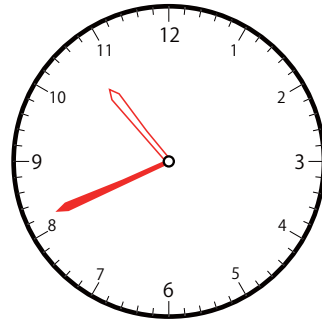
③



いま じ かん
今の時間


10 じ 15 分

30 分前は



9 じ 45 分

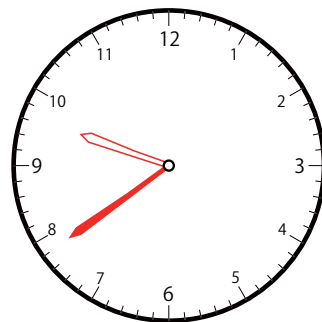
③



いま じ かん
今の時間

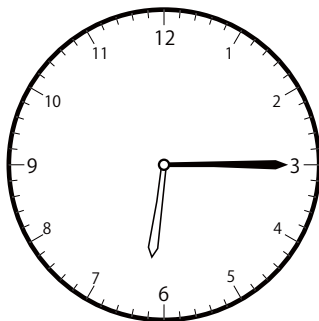
10 じ 5 分

30 分前は



9 じ 35 分

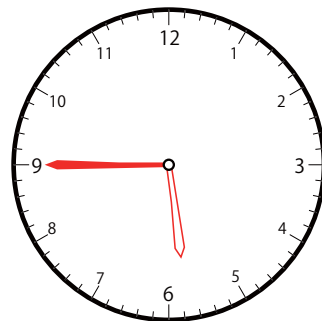
①



いま じ かん
今の時間

6 じ 15 分

30 分前は



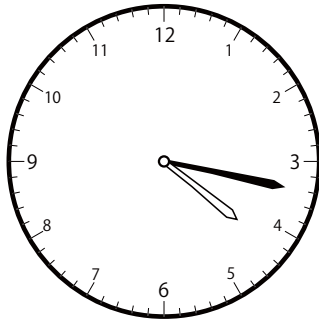
5 じ 45 分

30分前の時計を読んで答えよう【B1】

今の時間を読んで、30分前の時刻と長針・短針を答えましょう。

(答え)

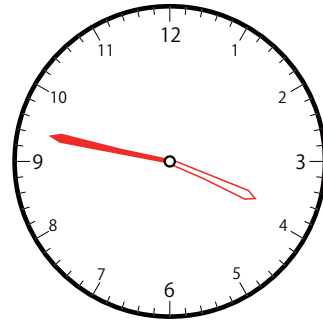
②



いま じ かん
今の時間

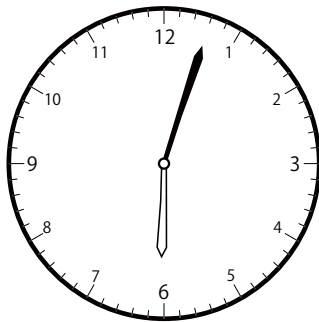
4 じ 17 ぶん

30 ぶんまえ
分前は



3 じ 47 ぶん

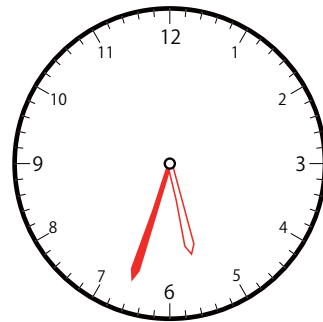
③



いま じ かん
今の時間


6 じ 3 ぶん

30 ぶんまえ
分前は



5 じ 33 ぶん

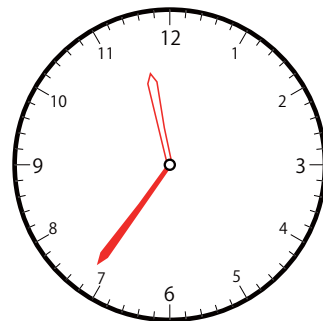
①



いま じ かん
今の時間

12 じ 6 ぶん

30 ぶんまえ
分前は




11 じ 36 ぶん

30分前の時計を読んで答えよう【B1】

今の時間を読んで、30分前の時刻と長針・短針を答えましょう。

(答え)

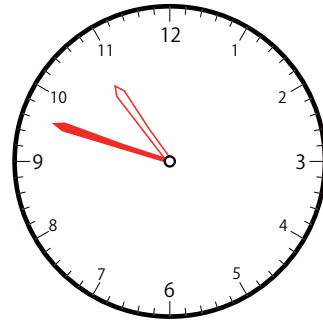
②



いま じ かん
今の時間

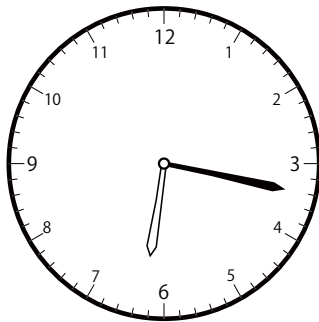
11 じ 18 ぶん

30 ぶんまえ
分前は



10 じ 48 ぶん

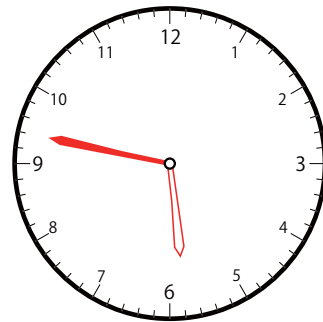
③



いま じ かん
今の時間


6 じ 17 ぶん

30 ぶんまえ
分前は



5 じ 47 ぶん

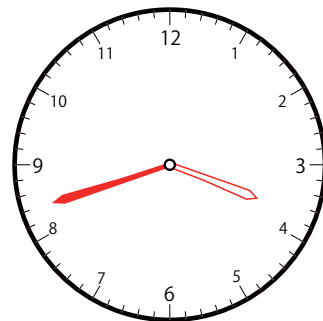
③



いま じ かん
今の時間

4 じ 12 ぶん

30 ぶんまえ
分前は




3 じ 42 ぶん

30分前の時計を読んで答えよう【B1】

今の時間を読んで、30分前の時刻と長針・短針を答えましょう。

(答え)

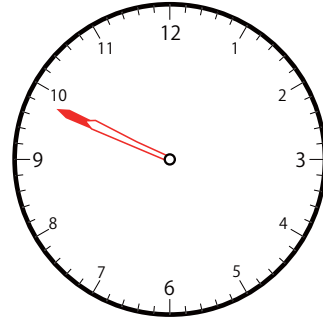
③



いま じ かん
今の時間

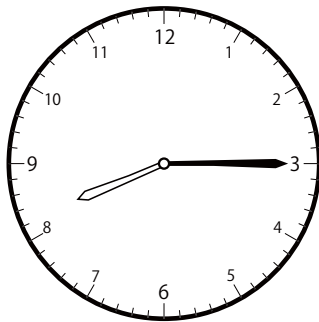
10 じ 19 ぶん

30 ぶんまえ
分前は



9 じ 49 ぶん

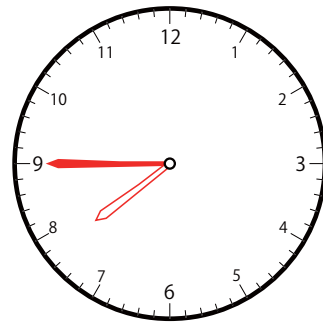
①



いま じ かん
今の時間


8 じ 15 ぶん

30 ぶんまえ
分前は



7 じ 45 ぶん

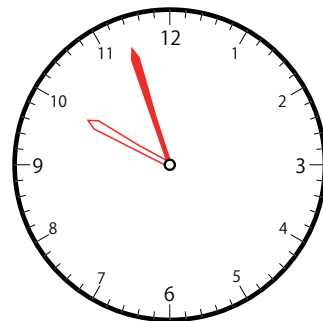
②



いま じ かん
今の時間

10 じ 27 ぶん

30 ぶんまえ
分前は




9 じ 57 ぶん

30分前の時計を読んで答えよう【B1】

今の時間を読んで、30分前の時刻と長針・短針を答えましょう。

こた
(答え)

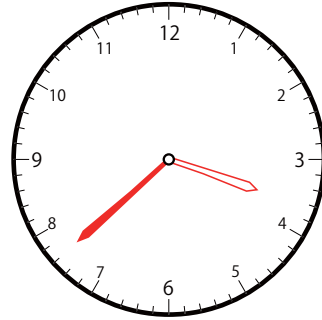
①



いま じ かん
今の時間

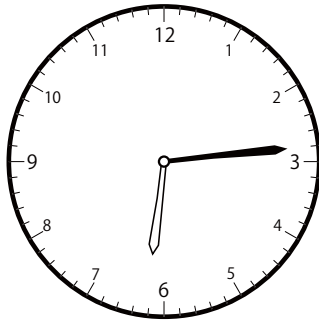
4 じ 8 ぶん

30 ぶんまえ
分前は



3 じ 38 ぶん

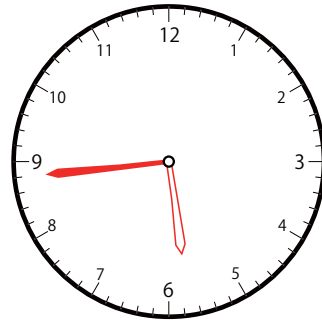
②



いま じ かん
今の時間


6 じ 14 ぶん

30 ぶんまえ
分前は



5 じ 44 ぶん

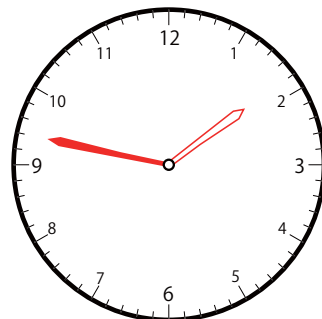
①



いま じ かん
今の時間

2 じ 17 ぶん

30 ぶんまえ
分前は



1 じ 47 ぶん