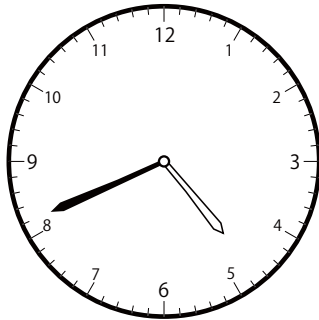


1分前の時計を読んで答えよう【A1】

今の時間を読んで、1分前の時刻と長針・短針を答えましょう。

こた
(答え)

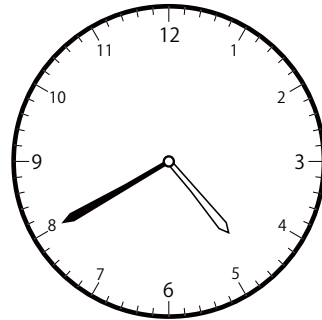
①



いま じ かん
今の時間

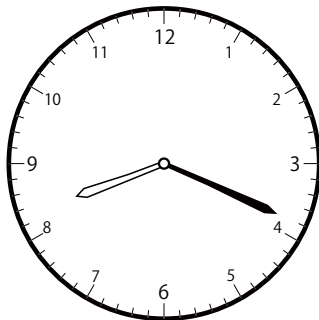
4 じ 41 ぶん

ふんまえ
分前は



4 じ 40 ぶん


②



いま じ かん
今の時間


8 じ 19 ぶん

ふんまえ
分前は



8 じ 18 ぶん

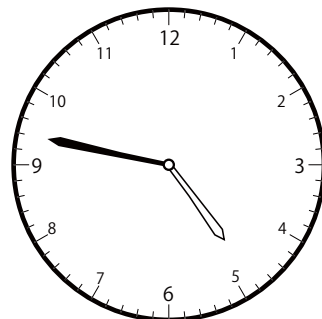
③



いま じ かん
今の時間

4 じ 48 ぶん

ふんまえ
分前は



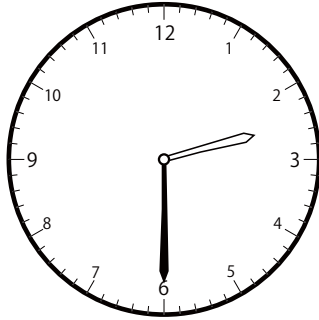
4 じ 47 ぶん

1分前の時計を読んで答えよう【A1】

今の時間を読んで、1分前の時刻と長針・短針を答えましょう。

こた
(答え)

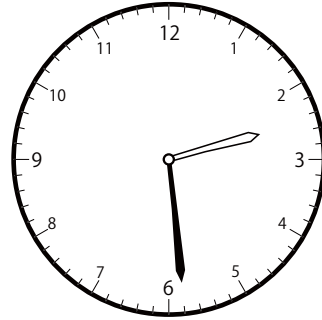
①



いま じ かん
今の時間


2 じ 30 ぶん

ふんまえ
分前は



2 じ 29 ぶん


②



いま じ かん
今の時間

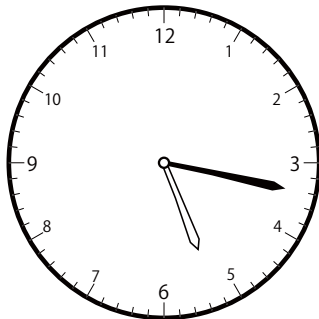
5 じ 6 ぶん

ふんまえ
分前は



5 じ 5 ぶん

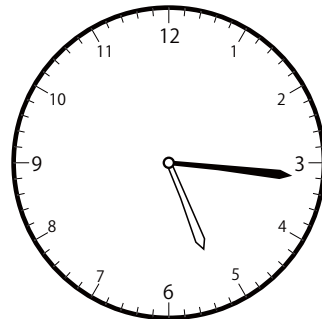
③



いま じ かん
今の時間

5 じ 17 ぶん

ふんまえ
分前は




5 じ 16 ぶん

1分前の時計を読んで答えよう【A1】

今の時間を読んで、1分前の時刻と長針・短針を答えましょう。

(答え)


①



いま じ かん
今の時間


11 じ 51 分

ふんまえ
分前は



11 じ 50 分

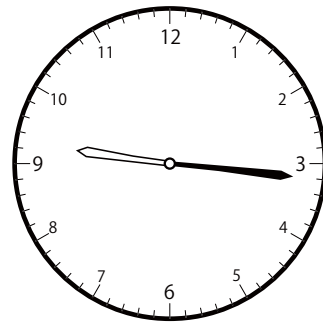
②



いま じ かん
今の時間

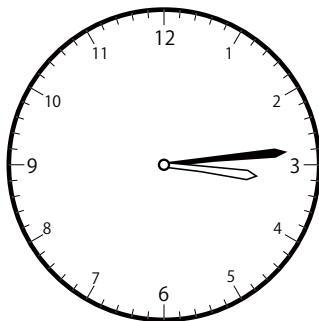
9 じ 17 分

ふんまえ
分前は



9 じ 16 分

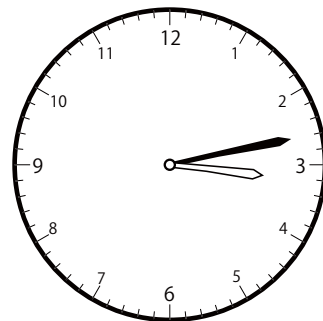
③



いま じ かん
今の時間

3 じ 14 分

ふんまえ
分前は




3 じ 13 分

1分前の時計を読んで答えよう【A1】

今の時間を読んで、1分前の時刻と長針・短針を答えましょう。

こた
(答え)

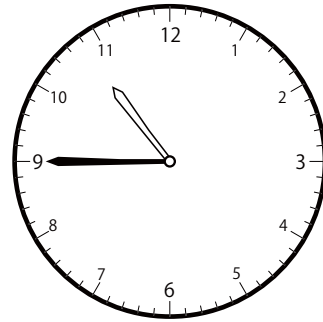
①



いま じ かん
今の時間


10 じ 46 ぶん

ふんまえ
分前は



10 じ 45 ぶん


②



いま じ かん
今の時間

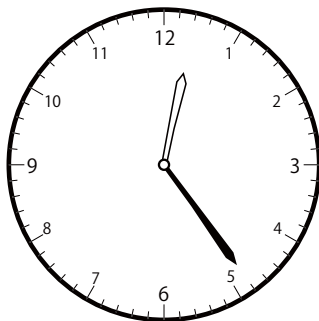
9 じ 5 ぶん

ふんまえ
分前は



9 じ 4 ぶん


③



いま じ かん
今の時間

12 じ 24 ぶん

ふんまえ
分前は




12 じ 23 ぶん

ぶんまえ とけい よ こた
1分前の時計を読んで答えよう【A1】

いま じかん ま ふんまえ じこく ちょうしん たんしん こた
今の時間を読んで、1分前の時刻と長針・短針を答えましょう。

こた
(答え)


①



いま じかん
今の時間

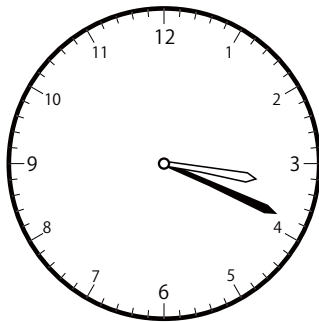
10 じ 14 ぶん

ふんまえ
分前は



10 じ 13 ぶん

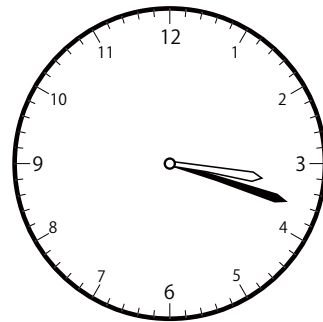
②



いま じかん
今の時間


3 じ 19 ぶん

ふんまえ
分前は



3 じ 18 ぶん


③



いま じかん
今の時間

11 じ 48 ぶん

ふんまえ
分前は



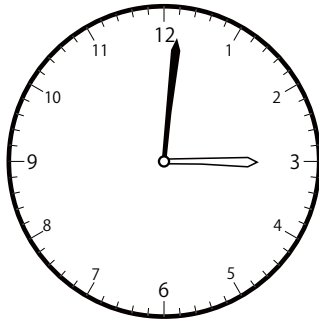
11 じ 47 ぶん

1分前の時計を読んで答えよう【A1】

今の時間を読んで、1分前の時刻と長針・短針を答えましょう。

こた
(答え)


①



いま じ かん
今の時間


3 じ 1 ぶん

ふんまえ
分前は



3 じ 0 ぶん


②



いま じ かん
今の時間


9 じ 6 ぶん

ふんまえ
分前は



9 じ 5 ぶん

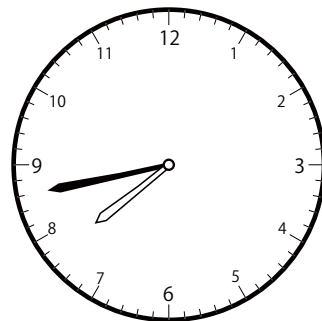
③



いま じ かん
今の時間

7 じ 44 ぶん

ふんまえ
分前は




7 じ 43 ぶん

1分前の時計を読んで答えよう【A1】

今の時間を読んで、1分前の時刻と長針・短針を答えましょう。

こた
(答え)


①



いま じ かん
今の時間

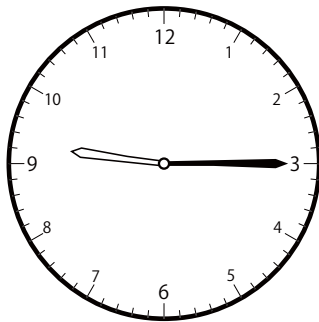
12 じ 22 ぶん

ふんまえ
分前は



12 じ 21 ぶん


②



いま じ かん
今の時間


9 じ 15 ぶん

ふんまえ
分前は



9 じ 14 ぶん


③



いま じ かん
今の時間

2 じ 22 ぶん

ふんまえ
分前は



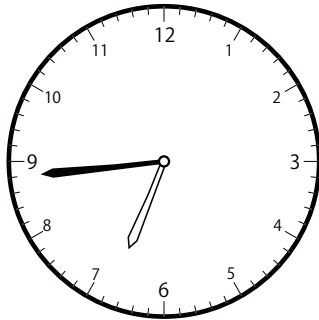
2 じ 21 ぶん

1分前の時計を読んで答えよう【A1】

いま じかん よ
今の時間を読んで、1分前の時刻と長針・短針を答えましょう。

こた
(答え)

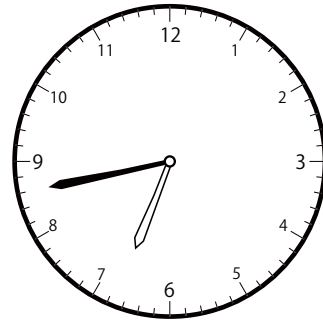
①



いま じかん
今の時間


6 じ 44 ぶん

ふんまえ
分前は



6 じ 43 ぶん

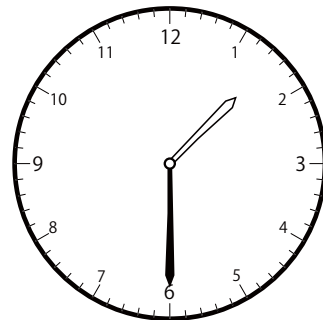
②



いま じかん
今の時間


1 じ 31 ぶん

ふんまえ
分前は



1 じ 30 ぶん


③



いま じかん
今の時間

2 じ 21 ぶん

ふんまえ
分前は




2 じ 20 ぶん

1分前の時計を読んで答えよう【A1】

今の時間を読んで、1分前の時刻と長針・短針を答えましょう。

こた
(答え)


①



いま じ かん
今の時間


11 じ 12 ぶん

ふんまえ
分前は



11 じ 11 ぶん


②



いま じ かん
今の時間


7 じ 48 ぶん

ふんまえ
分前は



7 じ 47 ぶん


③



いま じ かん
今の時間

10 じ 34 ぶん

ふんまえ
分前は




10 じ 33 ぶん

1分前の時計を読んで答えよう【A1】

今の時間を読んで、1分前の時刻と長針・短針を答えましょう。

こた
(答え)


①



いま じ かん
今の時間

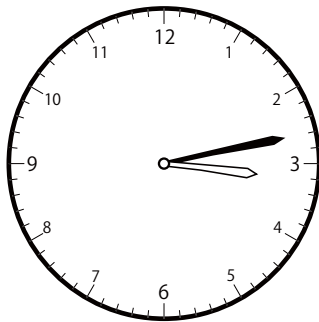
1 じ 20 ぶん

ふんまえ
分前は



1 じ 19 ぶん

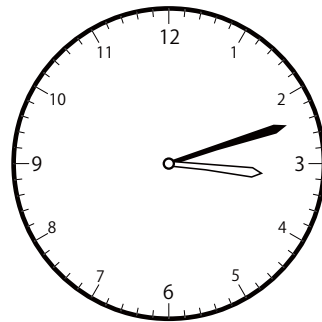
②



いま じ かん
今の時間

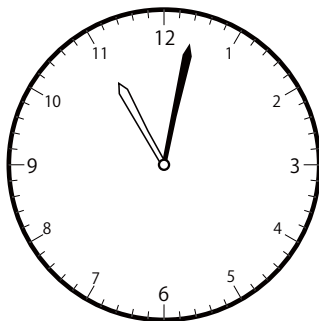
3 じ 13 ぶん

ふんまえ
分前は



3 じ 12 ぶん

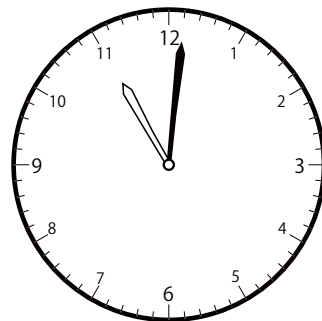
③



いま じ かん
今の時間

11 じ 2 ぶん

ふんまえ
分前は



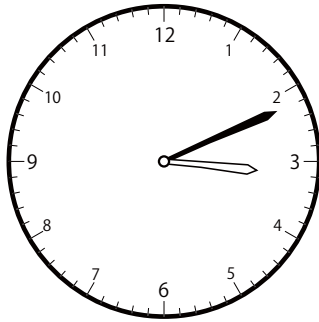
11 じ 1 ぶん

1分前の時計を読んで答えよう【A1】

今の時間を読んで、1分前の時刻と長針・短針を答えましょう。

(答え)


①



いま じ かん
今の時間

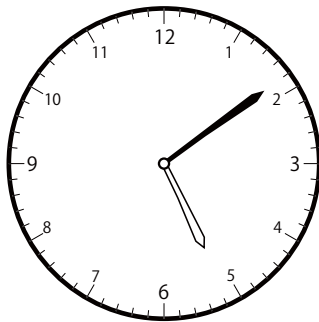
3 じ 11 ぶん

ふんまえ
分前は



3 じ 10 ぶん


②



いま じ かん
今の時間

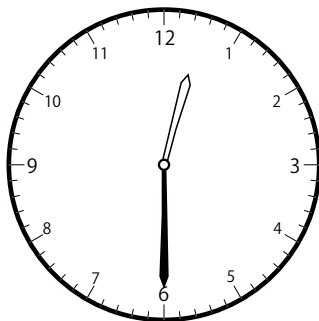
5 じ 9 ぶん

ふんまえ
分前は



5 じ 8 ぶん

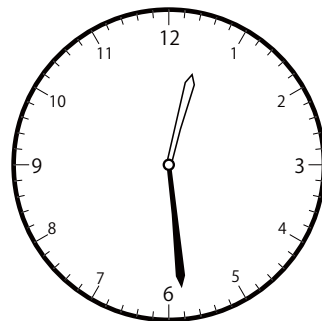
③



いま じ かん
今の時間

12 じ 30 ぶん

ふんまえ
分前は



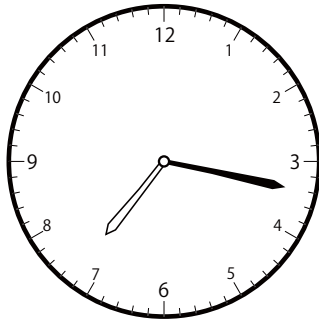
12 じ 29 ぶん

ぶんまえ とけい よ こた
1分前の時計を読んで答えよう【A1】

いま じかん ま ふんまえ じこく ちょうしん たんしん こた
今の時間を読んで、1分前の時刻と長針・短針を答えましょう。

こた
(答え)

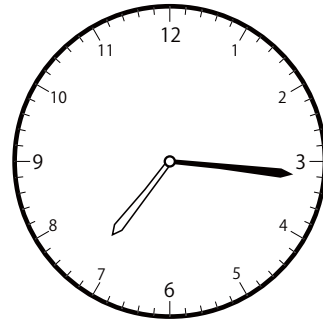
①



いま じかん
今の時間


7 じ 17 ぶん

ふんまえ
分前は



7 じ 16 ぶん


②



いま じかん
今の時間


7 じ 5 ぶん

ふんまえ
分前は



7 じ 4 ぶん


③



いま じかん
今の時間

12 じ 26 ぶん

ふんまえ
分前は



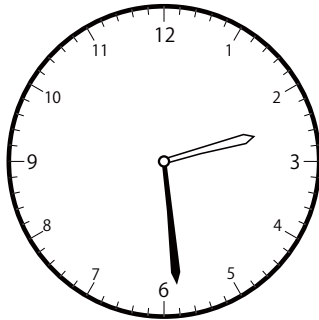
12 じ 25 ぶん

1分前の時計を読んで答えよう【A1】

今の時間を読んで、1分前の時刻と長針・短針を答えましょう。

こた
(答え)

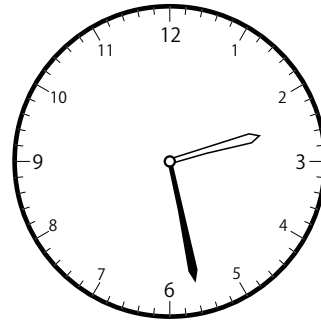
①



いま じ かん
今の時間

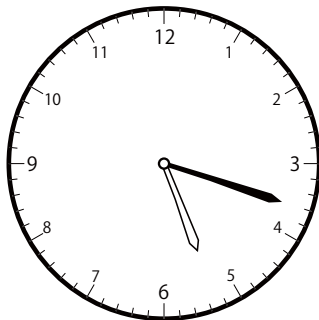
2 じ 29 ぶん

ふんまえ
分前は



2 じ 28 ぶん

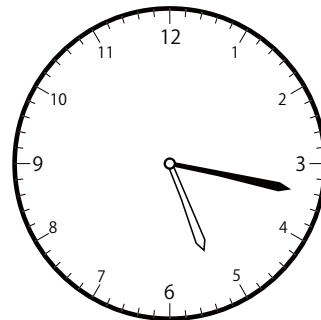
②



いま じ かん
今の時間

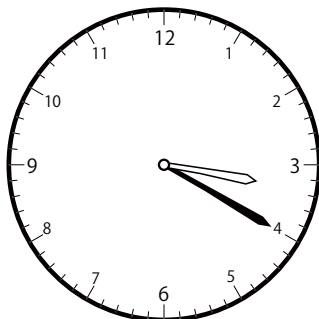
5 じ 18 ぶん

ふんまえ
分前は



5 じ 17 ぶん

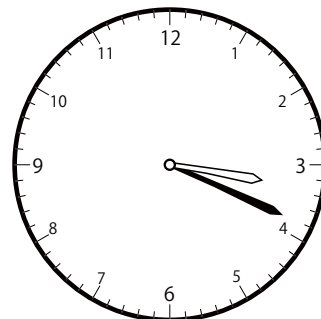
③



いま じ かん
今の時間

3 じ 20 ぶん

ふんまえ
分前は



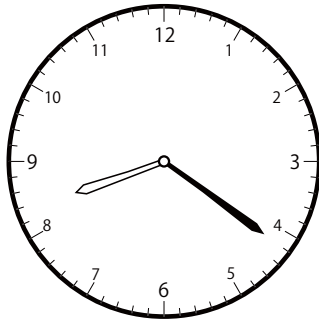
3 じ 19 ぶん

1分前の時計を読んで答えよう【A1】

今の時間を読んで、1分前の時刻と長針・短針を答えましょう。

(答え)

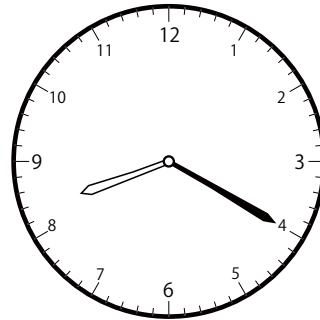
①



いま じ かん
今の時間


8 じ 21 ぶん

ふんまえ
分前は



8 じ 20 ぶん


②



いま じ かん
今の時間


1 じ 33 ぶん

ふんまえ
分前は



1 じ 32 ぶん


③



いま じ かん
今の時間

8 じ 1 ぶん

ふんまえ
分前は




8 じ 0 ぶん

1分前の時計を読んで答えよう【A1】

今の時間を読んで、1分前の時刻と長針・短針を答えましょう。

こた
(答え)

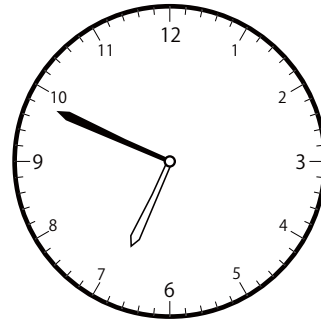
①



いま じ かん
今の時間

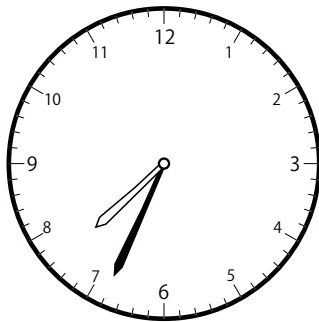
6 じ 50 ぶん

ふんまえ
分前は



6 じ 49 ぶん


②



いま じ かん
今の時間


7 じ 34 ぶん

ふんまえ
分前は



7 じ 33 ぶん


③



いま じ かん
今の時間

1 じ 24 ぶん

ふんまえ
分前は



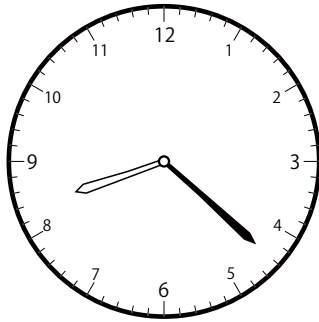
1 じ 23 ぶん

1分前の時計を読んで答えよう【A1】

今の時間を読んで、1分前の時刻と長針・短針を答えましょう。

こた
(答え)

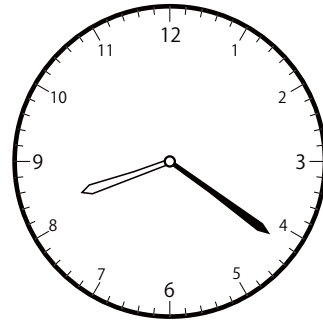
①



いま じ かん
今の時間

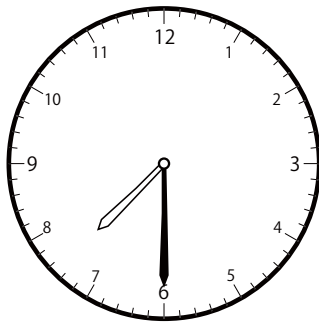
8 じ 22 ぶん

ふんまえ
分前は



8 じ 21 ぶん

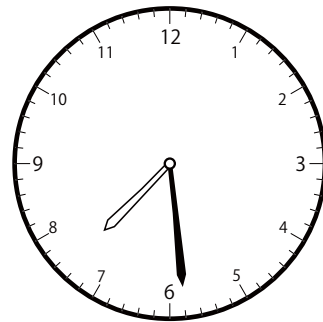
②



いま じ かん
今の時間


7 じ 30 ぶん

ふんまえ
分前は



7 じ 29 ぶん


③



いま じ かん
今の時間

2 じ 20 ぶん

ふんまえ
分前は



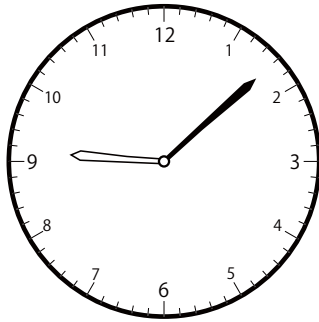
2 じ 19 ぶん

ぶんまえ とけい よ こた
1分前の時計を読んで答えよう【A1】

いま じかん ま ふんまえ じこく ちょうしん たんしん こた
今の時間を読んで、1分前の時刻と長針・短針を答えましょう。

こた
(答え)


①



いま じかん
今の時間


9 じ 8 ぶん

ふんまえ
分前は



9 じ 7 ぶん


②



いま じかん
今の時間


10 じ 42 ぶん

ふんまえ
分前は



10 じ 41 ぶん


③



いま じかん
今の時間

11 じ 40 ぶん

ふんまえ
分前は



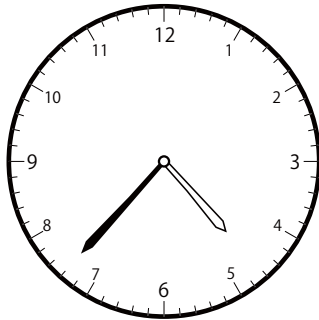
11 じ 39 ぶん

1分前の時計を読んで答えよう【A1】

今の時間を読んで、1分前の時刻と長針・短針を答えましょう。

こた
(答え)

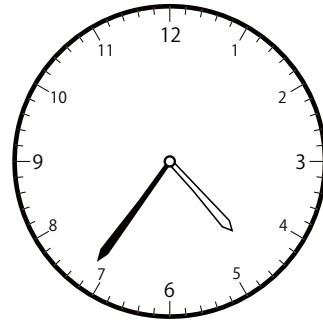
①



いま じ かん
今の時間

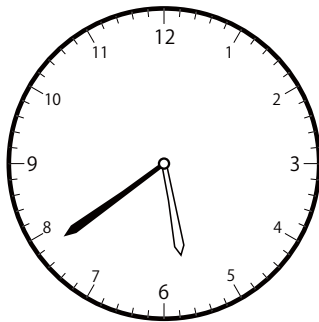
4 じ 37 ぶん

ふんまえ
分前は



4 じ 36 ぶん


②



いま じ かん
今の時間


5 じ 39 ぶん

ふんまえ
分前は



5 じ 38 ぶん

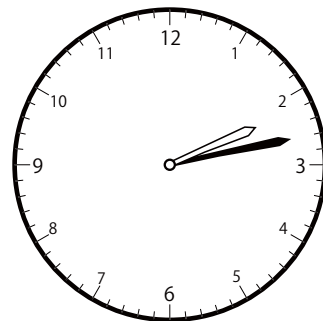
③



いま じ かん
今の時間

2 じ 14 ぶん

ふんまえ
分前は



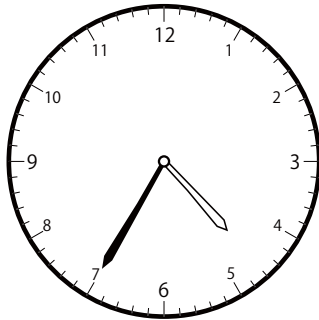
2 じ 13 ぶん

1分前の時計を読んで答えよう【A1】

今の時間を読んで、1分前の時刻と長針・短針を答えましょう。

こた
(答え)

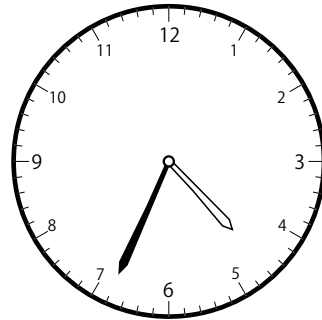
①



いま じ かん
今の時間


4 じ 35 ぶん

ふんまえ
分前は



4 じ 34 ぶん


②



いま じ かん
今の時間


11 じ 44 ぶん

ふんまえ
分前は



11 じ 43 ぶん


③



いま じ かん
今の時間

11 じ 33 ぶん

ふんまえ
分前は



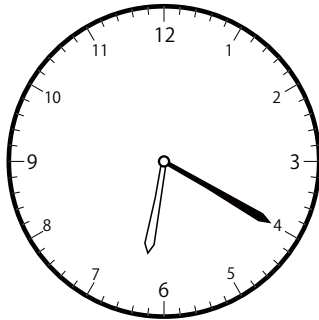
11 じ 32 ぶん

1分前の時計を読んで答えよう【A1】

今の時間を読んで、1分前の時刻と長針・短針を答えましょう。

こた
(答え)

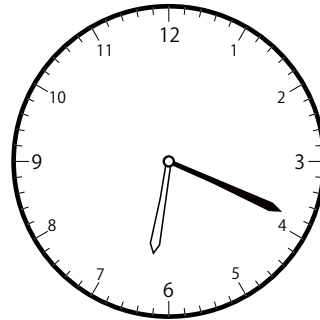
①



いま じ かん
今の時間

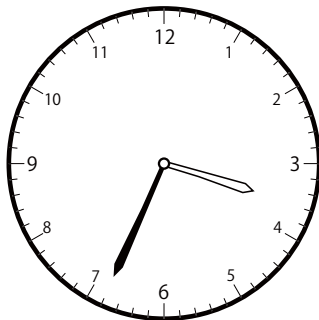
6 じ 20 ぶん

ふんまえ
分前は



6 じ 19 ぶん

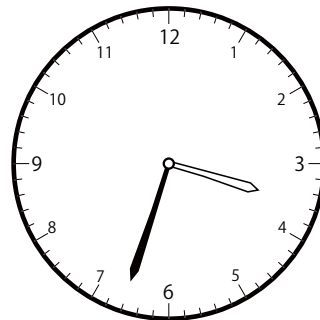
②



いま じ かん
今の時間

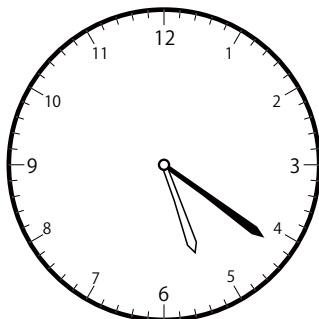
3 じ 34 ぶん

ふんまえ
分前は



3 じ 33 ぶん

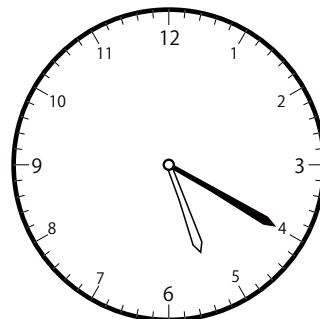
③



いま じ かん
今の時間

5 じ 21 ぶん

ふんまえ
分前は




5 じ 20 ぶん

1分前の時計を読んで答えよう【A1】

今の時間を読んで、1分前の時刻と長針・短針を答えましょう。

こた
(答え)


①



いま じ かん
今の時間


6 じ 51 ぶん

ふんまえ
分前は



6 じ 50 ぶん


②



いま じ かん
今の時間


9 じ 58 ぶん

ふんまえ
分前は



9 じ 57 ぶん

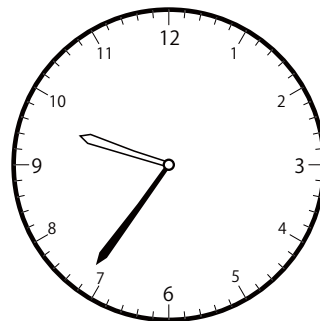
③



いま じ かん
今の時間

9 じ 37 ぶん

ふんまえ
分前は



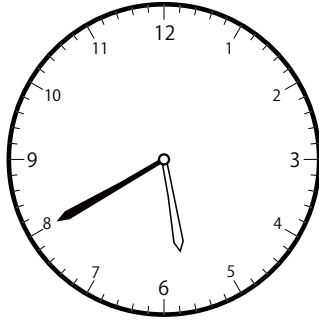
9 じ 36 ぶん

ぶんまえ とけい よ こた
1分前の時計を読んで答えよう【A1】

いま じかん よ ぶんまえ じこく ちょうしん たんしん こた
今の時間を読んで、1分前の時刻と長針・短針を答えましょう。

こた
(答え)

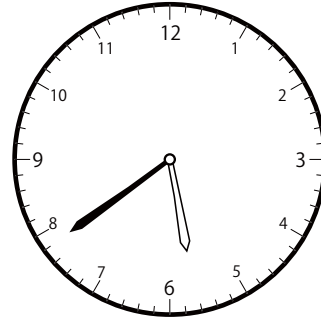
①



いま じかん
今の時間


5 じ 40 ぶん

ぶんまえ
分前は



5 じ 39 ぶん


②



いま じかん
今の時間

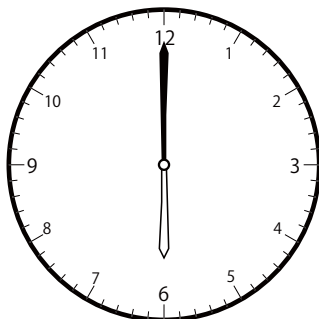
9 じ 23 ぶん

ぶんまえ
分前は



9 じ 22 ぶん


③



いま じかん
今の時間

6 じ 0 ぶん

ぶんまえ
分前は




5 じ 59 ぶん

ぶんまえ とけい よ こた
1分前の時計を読んで答えよう【A1】

いま じかん よ ぶんまえ じこく ちょうしん たんしん こた
今の時間を読んで、1分前の時刻と長針・短針を答えましょう。

こた
(答え)


①



いま じかん
今の時間


12 じ 20 ぶん

ぶんまえ
分前は



12 じ 19 ぶん


②



いま じかん
今の時間

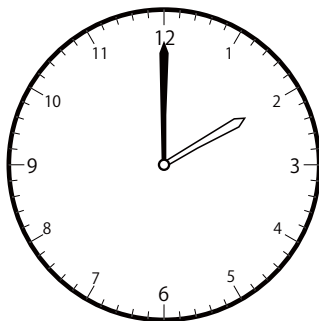
8 じ 11 ぶん

ぶんまえ
分前は



8 じ 10 ぶん


③



いま じかん
今の時間

2 じ 0 ぶん

ぶんまえ
分前は



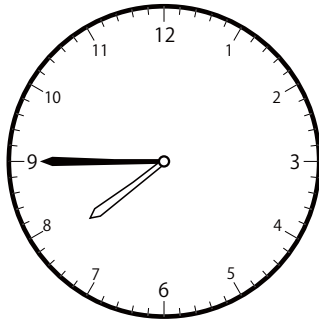
1 じ 59 ぶん

1分前の時計を読んで答えよう【A1】

今の時間を読んで、1分前の時刻と長針・短針を答えましょう。

(答え)


①



いま じ かん
今の時間


7 じ 45 ぶん

ふんまえ
分前は



7 じ 44 ぶん


②



いま じ かん
今の時間


9 じ 54 ぶん

ふんまえ
分前は



9 じ 53 ぶん


③



いま じ かん
今の時間

12 じ 45 ぶん

ふんまえ
分前は




12 じ 44 ぶん

1分前の時計を読んで答えよう【A1】

今の時間を読んで、1分前の時刻と長針・短針を答えましょう。

こた
(答え)

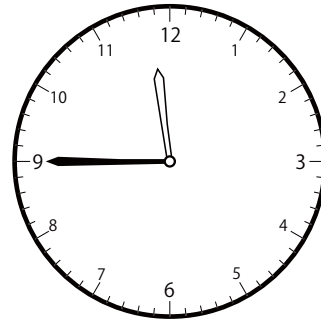
①



いま じ かん
今の時間


11 じ 46 ぶん

ふんまえ
分前は



11 じ 45 ぶん

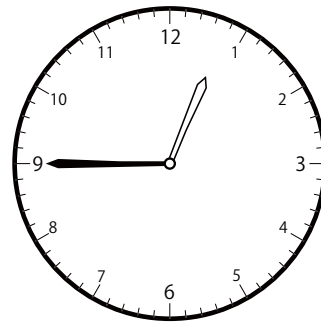
②



いま じ かん
今の時間


12 じ 46 ぶん

ふんまえ
分前は



12 じ 45 ぶん


③



いま じ かん
今の時間

12 じ 14 ぶん

ふんまえ
分前は



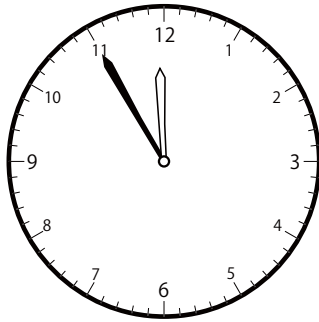
12 じ 13 ぶん

1分前の時計を読んで答えよう【A1】

今の時間を読んで、1分前の時刻と長針・短針を答えましょう。

(答え)


①



いま じ かん
今の時間


11 じ 55 ぶん

ふんまえ
分前は



11 じ 54 ぶん


②



いま じ かん
今の時間


12 じ 15 ぶん

ふんまえ
分前は



12 じ 14 ぶん


③



いま じ かん
今の時間

10 じ 18 ぶん

ふんまえ
分前は



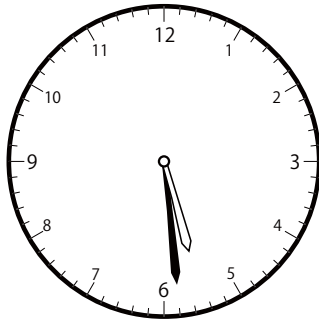
10 じ 17 ぶん

1分前の時計を読んで答えよう【A1】

いまの時間を読んで、1分前の時刻と長針・短針を答えましょう。

こた
(答え)

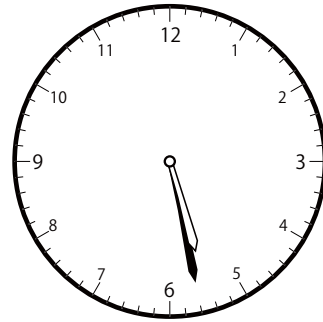
①



いまの時間

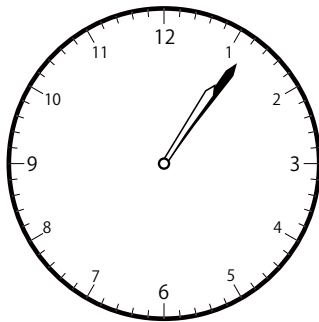
5時29分

1分前は



5時28分


②



いまの時間

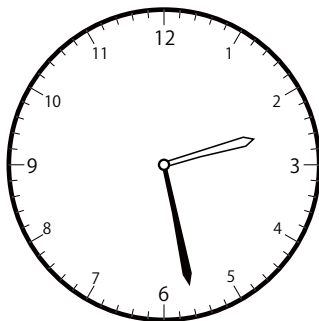
1時6分

1分前は



1時5分

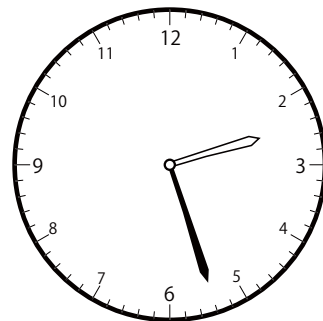
③



いまの時間

2時28分

1分前は



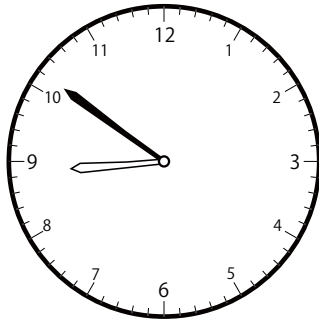
2時27分

ぶんまえ とけい よ こた
1分前の時計を読んで答えよう【A1】

いま じかん ま ふんまえ じこく ちょうしん たんしん こた
今の時間を読んで、1分前の時刻と長針・短針を答えましょう。

こた
(答え)


①



いま じかん
今の時間

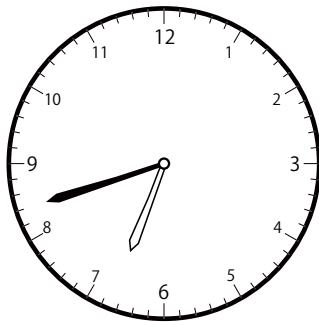
8 じ 51 ぶん

ふんまえ
分前は



8 じ 50 ぶん


②



いま じかん
今の時間

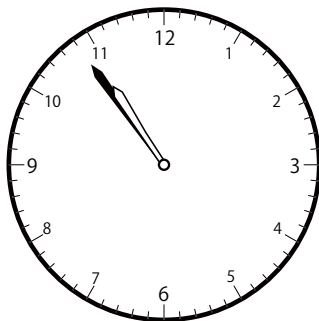
6 じ 42 ぶん

ふんまえ
分前は



6 じ 41 ぶん


③



いま じかん
今の時間

10 じ 54 ぶん

ふんまえ
分前は



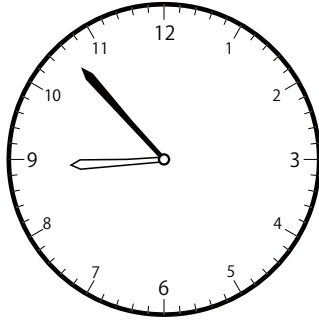
10 じ 53 ぶん

1分前の時計を読んで答えよう【A1】

今の時間を読んで、1分前の時刻と長針・短針を答えましょう。

(答え)


①



いま じ かん
今の時間

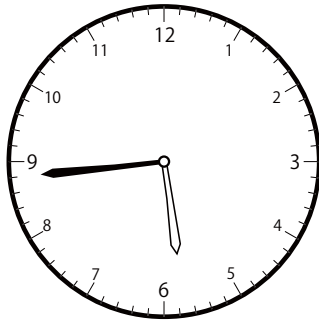
8 じ 53 ぶん

ふんまえ
分前は



8 じ 52 ぶん

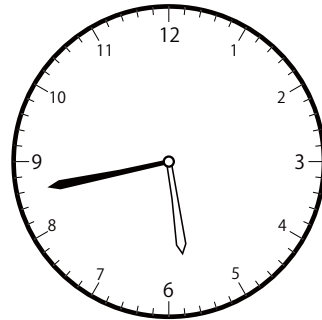
②



いま じ かん
今の時間

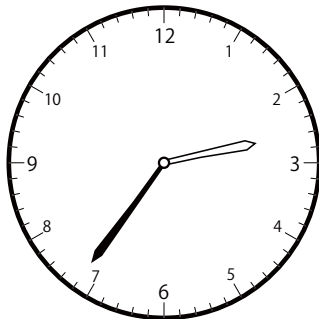
5 じ 44 ぶん

ふんまえ
分前は



5 じ 43 ぶん

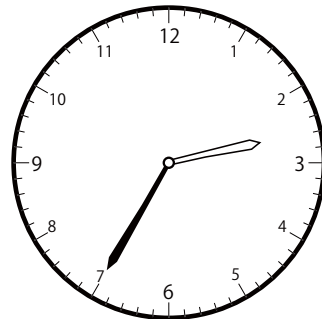
③



いま じ かん
今の時間

2 じ 36 ぶん

ふんまえ
分前は




2 じ 35 ぶん

1分前の時計を読んで答えよう【A1】

今の時間を読んで、1分前の時刻と長針・短針を答えましょう。

(答え)


①



いま じ かん
今の時間

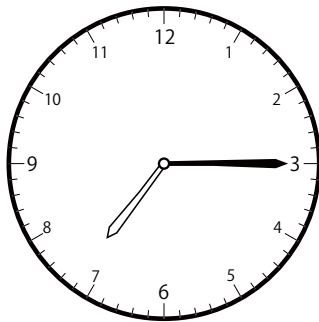
1 じ 53 ぶん

ふんまえ
分前は



1 じ 52 ぶん

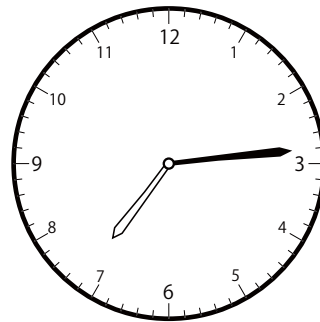
②



いま じ かん
今の時間


7 じ 15 ぶん

ふんまえ
分前は



7 じ 14 ぶん


③



いま じ かん
今の時間

5 じ 4 ぶん

ふんまえ
分前は




5 じ 3 ぶん

1分前の時計を読んで答えよう【A1】

今の時間を読んで、1分前の時刻と長針・短針を答えましょう。

こた
(答え)


①



いま じ かん
今の時間

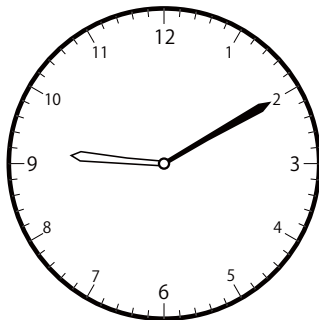
6 じ 59 ぶん

ふんまえ
分前は



6 じ 58 ぶん


②



いま じ かん
今の時間

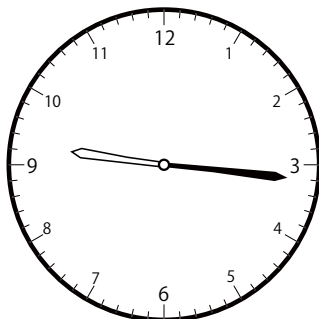
9 じ 10 ぶん

ふんまえ
分前は



9 じ 9 ぶん

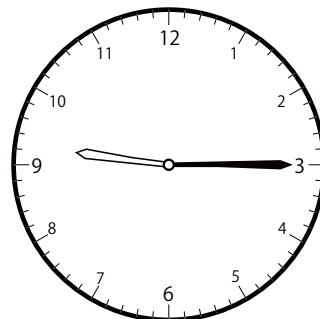
③



いま じ かん
今の時間

9 じ 16 ぶん

ふんまえ
分前は



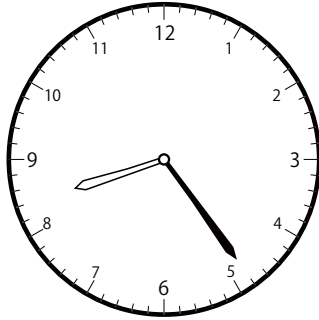
9 じ 15 ぶん

1分前の時計を読んで答えよう【A1】

今の時間を読んで、1分前の時刻と長針・短針を答えましょう。

こた
(答え)

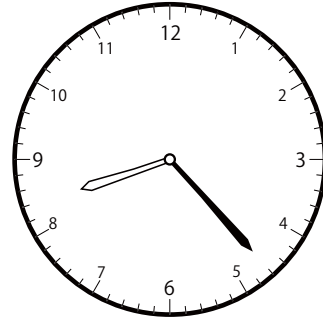
①



いま じ かん
今の時間


8 じ 24 ぶん

ふんまえ
分前は



8 じ 23 ぶん


②



いま じ かん
今の時間


12 じ 49 ぶん

ふんまえ
分前は



12 じ 48 ぶん


③



いま じ かん
今の時間

11 じ 49 ぶん

ふんまえ
分前は



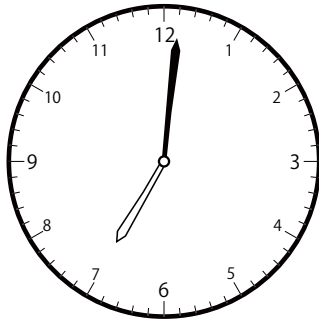
11 じ 48 ぶん

ぶんまえ とけい よ こた
1分前の時計を読んで答えよう【A1】

いま じかん ま ふんまえ じこく ちょうしん たんしん こた
今の時間を読んで、1分前の時刻と長針・短針を答えましょう。

こた
(答え)


①



いま じかん
今の時間


7 じ 1 ぶん

ふんまえ
分前は



7 じ 0 ぶん


②



いま じかん
今の時間


11 じ 19 ぶん

ふんまえ
分前は



11 じ 18 ぶん

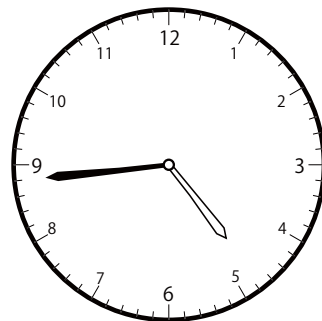
③



いま じかん
今の時間

4 じ 45 ぶん

ふんまえ
分前は




4 じ 44 ぶん

1分前の時計を読んで答えよう【A1】

今の時間を読んで、1分前の時刻と長針・短針を答えましょう。

(答え)


①



いま じ かん
今の時間

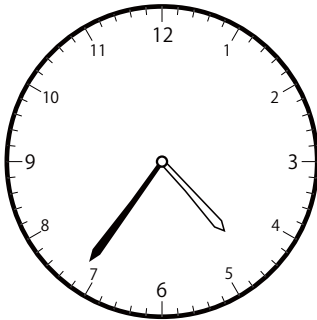
11 じ 31 分

ふんまえ
分前は



11 じ 30 分

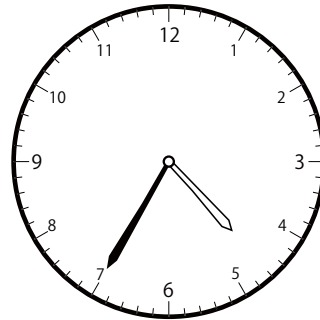
②



いま じ かん
今の時間


4 じ 36 分

ふんまえ
分前は



4 じ 35 分


③



いま じ かん
今の時間

1 じ 41 分

ふんまえ
分前は



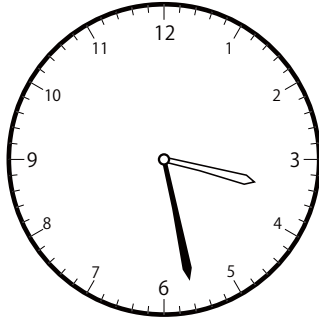
1 じ 40 分

1分前の時計を読んで答えよう【A1】

今の時間を読んで、1分前の時刻と長針・短針を答えましょう。

こた
(答え)

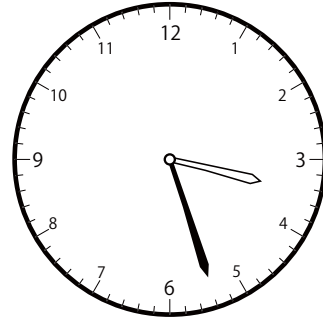
①



いま じ かん
今の時間


3 じ 28 ぶん

ふんまえ
分前は



3 じ 27 ぶん


②



いま じ かん
今の時間


12 じ 48 ぶん

ふんまえ
分前は



12 じ 47 ぶん


③



いま じ かん
今の時間

4 じ 6 ぶん

ふんまえ
分前は



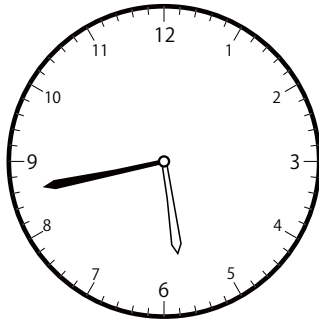
4 じ 5 ぶん

1分前の時計を読んで答えよう【A1】

今の時間を読んで、1分前の時刻と長針・短針を答えましょう。

こた
(答え)

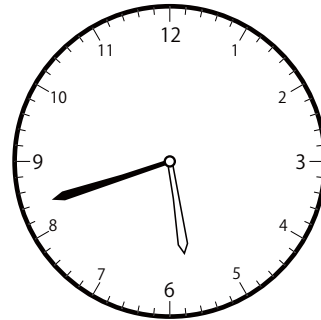
①



いま じ かん
今の時間


5 じ 43 ぶん

ふんまえ
分前は



5 じ 42 ぶん


②



いま じ かん
今の時間


7 じ 9 ぶん

ふんまえ
分前は



7 じ 8 ぶん


③



いま じ かん
今の時間

1 じ 8 ぶん

ふんまえ
分前は



1 じ 7 ぶん

1分前の時計を読んで答えよう【A1】

今の時間を読んで、1分前の時刻と長針・短針を答えましょう。

こた
(答え)


①



いま じ かん
今の時間


1 じ 48 ぶん

ふんまえ
分前は



1 じ 47 ぶん


②



いま じ かん
今の時間


12 じ 7 ぶん

ふんまえ
分前は



12 じ 6 ぶん


③



いま じ かん
今の時間

12 じ 10 ぶん

ふんまえ
分前は




12 じ 9 ぶん

ぶんまえ とけい よ こた
1分前の時計を読んで答えよう【A1】

いま じかん ま ふんまえ じこく ちょうしん たんしん こた
今の時間を読んで、1分前の時刻と長針・短針を答えましょう。

こた
(答え)


①



いま じかん
今の時間

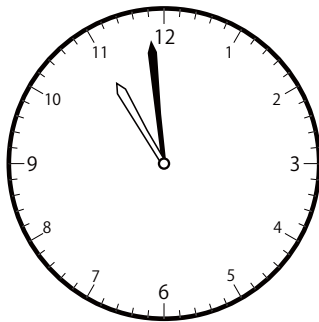
7 じ 3 ぶん
7時3分

ふんまえ
分前は



7 じ 2 ぶん
7時2分


②



いま じかん
今の時間

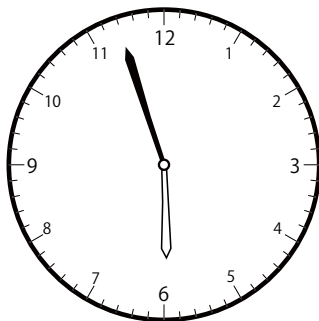
10 じ 59 ぶん
10時59分

ふんまえ
分前は



10 じ 58 ぶん
10時58分


③



いま じかん
今の時間

5 じ 57 ぶん
5時57分

ふんまえ
分前は




5 じ 56 ぶん
5時56分

1分前の時計を読んで答えよう【A1】

今の時間を読んで、1分前の時刻と長針・短針を答えましょう。

こた
(答え)


①



いま じ かん
今の時間


3 じ 48 ぶん

ふんまえ
分前は



3 じ 47 ぶん


②



いま じ かん
今の時間


9 じ 9 ぶん

ふんまえ
分前は



9 じ 8 ぶん


③



いま じ かん
今の時間

9 じ 34 ぶん

ふんまえ
分前は



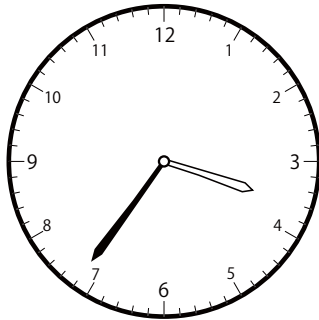
9 じ 33 ぶん

1分前の時計を読んで答えよう【A1】

今の時間を読んで、1分前の時刻と長針・短針を答えましょう。

こた
(答え)

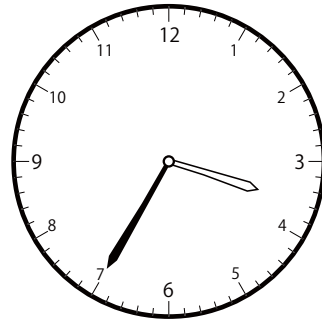
①



いま じ かん
今の時間


3 じ 36 ぶん

ふんまえ
分前は



3 じ 35 ぶん


②



いま じ かん
今の時間


6 じ 54 ぶん

ふんまえ
分前は



6 じ 53 ぶん


③



いま じ かん
今の時間

12 じ 28 ぶん

ふんまえ
分前は




12 じ 27 ぶん

1分前の時計を読んで答えよう【A1】

今の時間を読んで、1分前の時刻と長針・短針を答えましょう。

(答え)


①



いま じ かん
今の時間

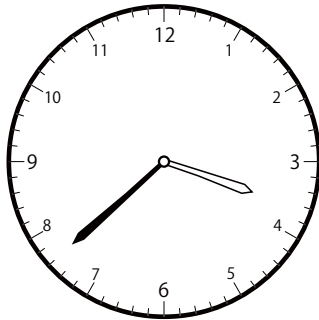
1 じ 56 ぶん

ふんまえ
分前は



1 じ 55 ぶん

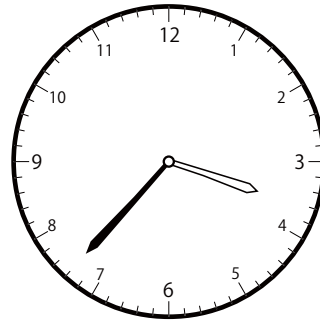
②



いま じ かん
今の時間


3 じ 38 ぶん

ふんまえ
分前は



3 じ 37 ぶん


③



いま じ かん
今の時間

8 じ 18 ぶん

ふんまえ
分前は




8 じ 17 ぶん

ぶんまえ とけい よ こた
1分前の時計を読んで答えよう【A1】

いま じかん ま ふんまえ じこく ちょうしん たんしん こた
今の時間を読んで、1分前の時刻と長針・短針を答えましょう。

こた
(答え)


①



いま じかん
今の時間

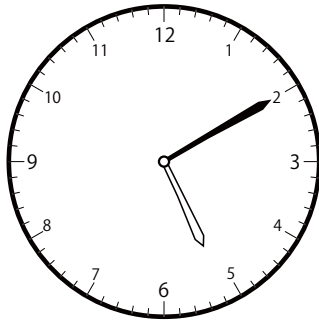
4 時 51 分

ふんまえ
分前は



4 時 50 分


②



いま じかん
今の時間

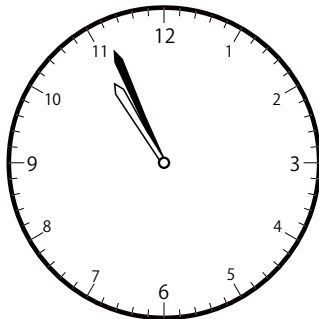
5 時 10 分

ふんまえ
分前は



5 時 9 分

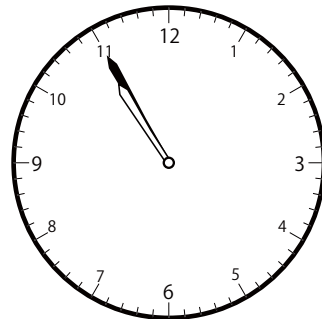
③



いま じかん
今の時間

10 時 56 分

ふんまえ
分前は



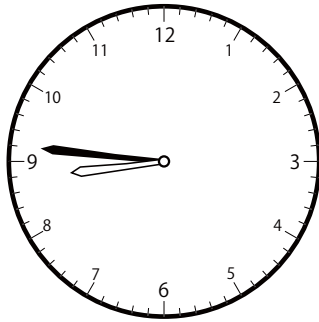
10 時 55 分

ぶんまえ とけい よ こた
1分前の時計を読んで答えよう【A1】

いま じかん よ ぶんまえ じこく ちょうしん たんしん こた
今の時間を読んで、1分前の時刻と長針・短針を答えましょう。

こた
(答え)

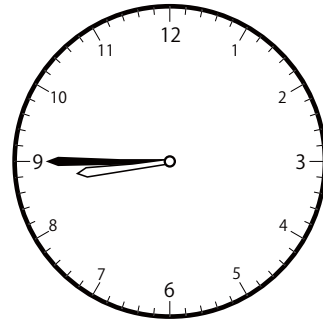
①



いま じかん
今の時間

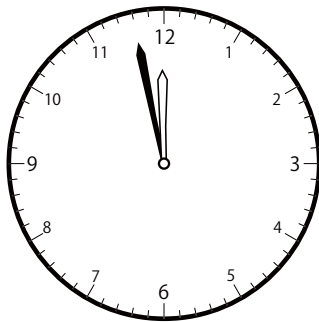
8 じ 46 ぶん

ぶんまえ
分前は



8 じ 45 ぶん

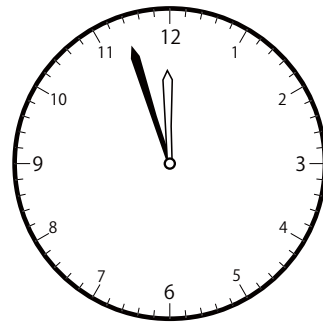
②



いま じかん
今の時間


11 じ 58 ぶん

ぶんまえ
分前は



11 じ 57 ぶん


③



いま じかん
今の時間

7 じ 6 ぶん

ぶんまえ
分前は




7 じ 5 ぶん

ぶんまえ とけい よ こた
1分前の時計を読んで答えよう【A1】

いま じかん ま ふんまえ じこく ちょうしん たんしん こた
今の時間を読んで、1分前の時刻と長針・短針を答えましょう。

こた
(答え)


①



いま じかん
今の時間

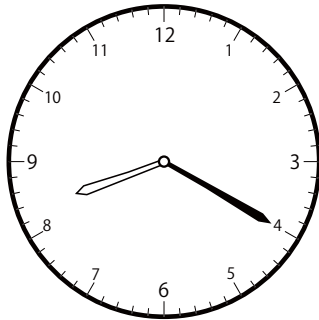
5 じ 11 ぶん

ふんまえ
分前は



5 じ 10 ぶん

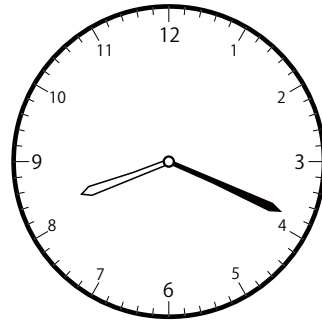
②



いま じかん
今の時間


8 じ 20 ぶん

ふんまえ
分前は



8 じ 19 ぶん


③



いま じかん
今の時間

11 じ 24 ぶん

ふんまえ
分前は



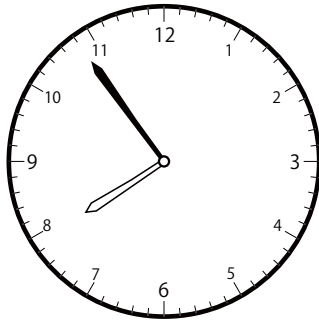
11 じ 23 ぶん

1分前の時計を読んで答えよう【A1】

今の時間を読んで、1分前の時刻と長針・短針を答えましょう。

(答え)


①



いま じ かん
今の時間

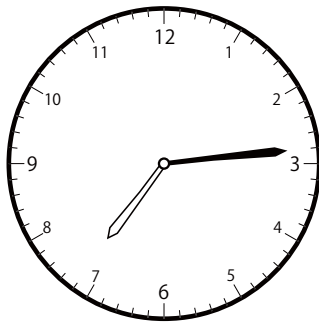
7 じ 54 ぶん

ふんまえ
分前は



7 じ 53 ぶん

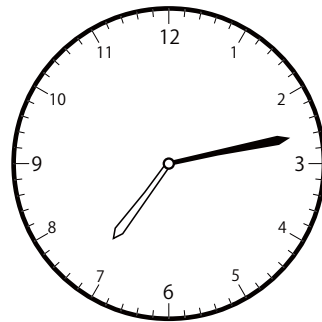
②



いま じ かん
今の時間


7 じ 14 ぶん

ふんまえ
分前は



7 じ 13 ぶん


③



いま じ かん
今の時間

4 じ 4 ぶん

ふんまえ
分前は




4 じ 3 ぶん

1分前の時計を読んで答えよう【A1】

今の時間を読んで、1分前の時刻と長針・短針を答えましょう。

こた
(答え)


①



いま じ かん
今の時間


8 じ 5 ぶん

ふんまえ
分前は



8 じ 4 ぶん


②



いま じ かん
今の時間

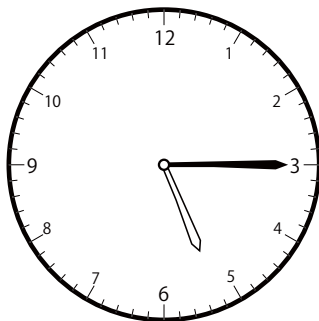
6 じ 9 ぶん

ふんまえ
分前は



6 じ 8 ぶん

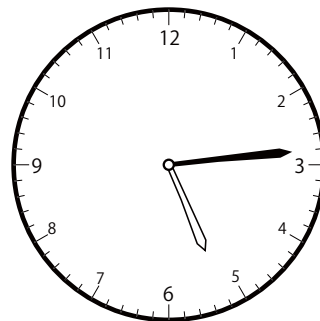
③



いま じ かん
今の時間

5 じ 15 ぶん

ふんまえ
分前は



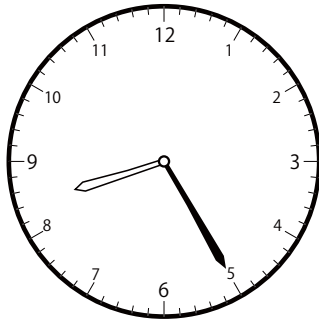
5 じ 14 ぶん

1分前の時計を読んで答えよう【A1】

今の時間を読んで、1分前の時刻と長針・短針を答えましょう。

こた
(答え)

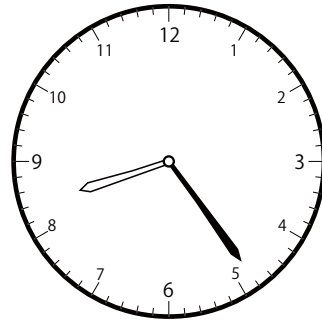
①



いま じ かん
今の時間


8 じ 25 ぶん

ふんまえ
分前は



8 じ 24 ぶん


②



いま じ かん
今の時間


12 じ 37 ぶん

ふんまえ
分前は



12 じ 36 ぶん

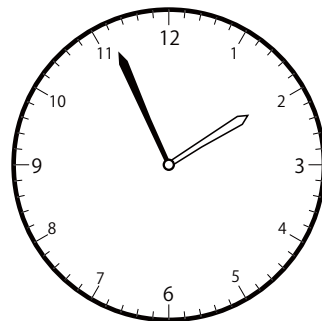
③



いま じ かん
今の時間

1 じ 57 ぶん

ふんまえ
分前は




1 じ 56 ぶん

1分前の時計を読んで答えよう【A1】

いま じかん ま ふんまえ じこく ちょうしん たんしん こた
今の時間を読んで、1分前の時刻と長針・短針を答えましょう。

こた
(答え)


①



いま じかん
今の時間


1 じ 4 ぶん

ふんまえ
分前は



1 じ 3 ぶん


②



いま じかん
今の時間

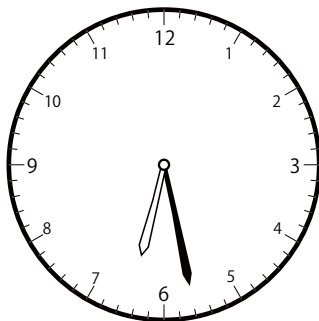
11 じ 0 ぶん

ふんまえ
分前は



10 じ 59 ぶん

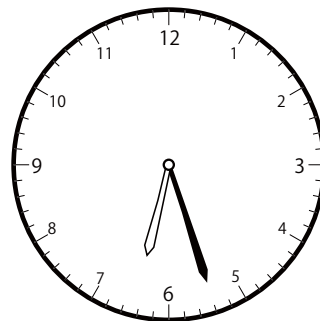
③



いま じかん
今の時間

6 じ 28 ぶん

ふんまえ
分前は



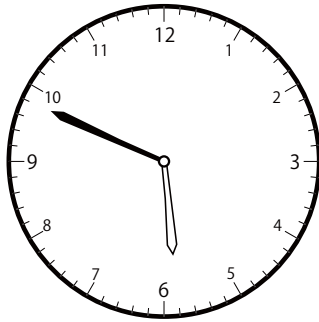
6 じ 27 ぶん

ぶんまえ とけい よ こた
1分前の時計を読んで答えよう【A1】

いま じかん ま ふんまえ じこく ちょうしん たんしん こた
今の時間を読んで、1分前の時刻と長針・短針を答えましょう。

こた
(答え)

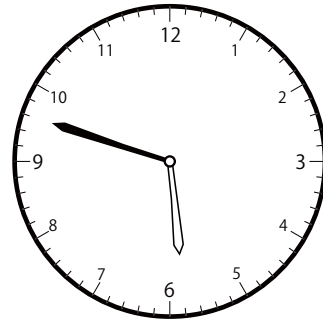
①



いま じかん
今の時間


5 じ 49 ぶん

ふんまえ
分前は



5 じ 48 ぶん


②



いま じかん
今の時間

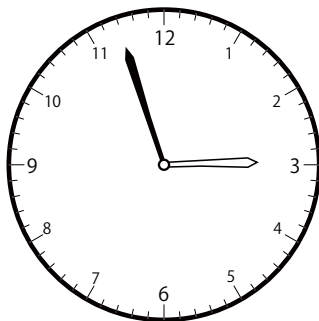
12 じ 32 ぶん

ふんまえ
分前は



12 じ 31 ぶん

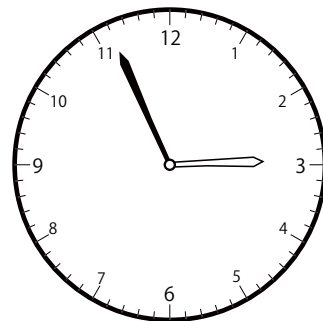
③



いま じかん
今の時間

2 じ 57 ぶん

ふんまえ
分前は



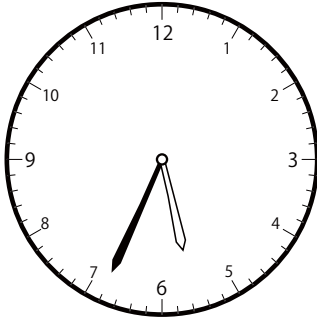
2 じ 56 ぶん

ぶんまえ とけい よ こた
1分前の時計を読んで答えよう【A1】

いま じかん ま ふんまえ じこく ちょうしん たんしん こた
今の時間を読んで、1分前の時刻と長針・短針を答えましょう。

こた
(答え)

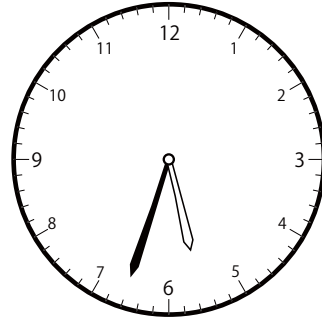
①



いま じかん
今の時間

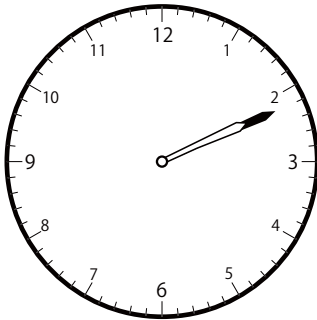
5 じ 34 ぶん

ふんまえ
分前は



5 じ 33 ぶん

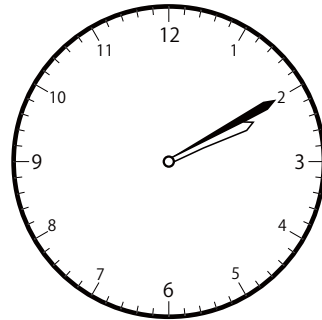
②



いま じかん
今の時間


2 じ 11 ぶん

ふんまえ
分前は



2 じ 10 ぶん

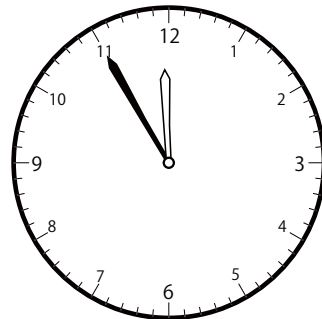
③



いま じかん
今の時間

11 じ 56 ぶん

ふんまえ
分前は



11 じ 55 ぶん