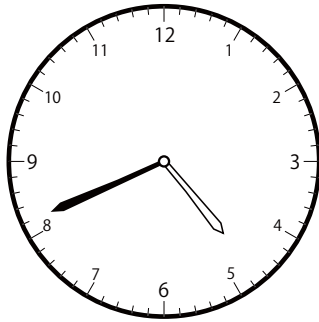


1分前の時計を読んで答えよう【A1】

今の時間を読んで、1分前の時刻と長針・短針を答えましょう。

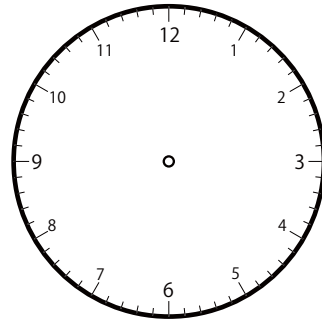
①



いま じ かん
今の時間

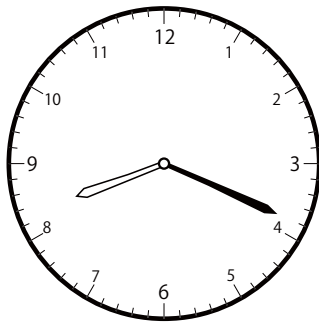
4 時 41 分

ふんまえ
分前は



じ 時 ふん 分

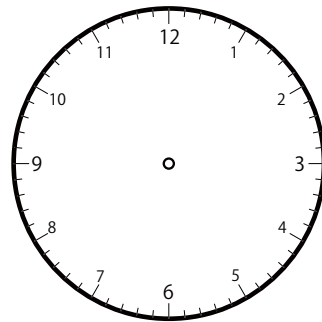
②



いま じ かん
今の時間


8 時 19 分

ふんまえ
分前は



じ 時 ふん 分

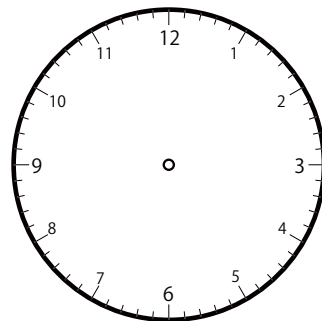
③



いま じ かん
今の時間

4 時 48 分

ふんまえ
分前は

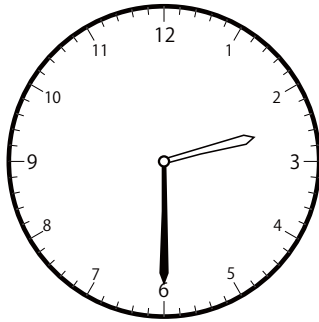


じ 時 ふん 分

ぶんまえ とけい よ こた
1分前の時計を読んで答えよう【A1】

いま じかん よ ぶんまえ じこく ちょうしん たんしん こた
今の時間を読んで、1分前の時刻と長針・短針を答えましょう。

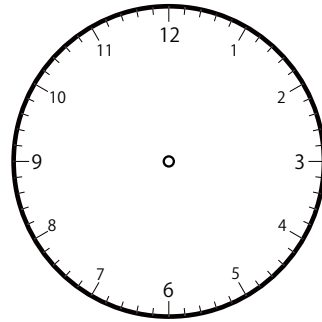
①



いま じかん
今の時間


2 時 30 分

ぶんまえ
分前は



じ ぶん
時 分

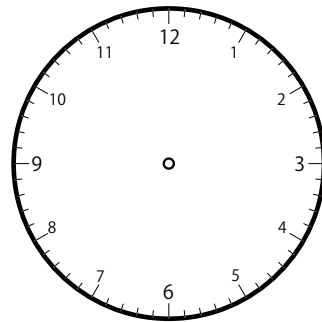
②



いま じかん
今の時間

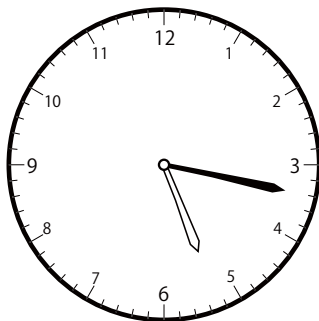
5 時 6 分

ぶんまえ
分前は



じ ぶん
時 分

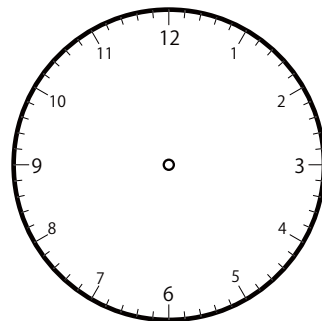
③



いま じかん
今の時間

5 時 17 分

ぶんまえ
分前は




じ ぶん
時 分

1分前の時計を読んで答えよう【A1】

今の時間を読んで、1分前の時刻と長針・短針を答えましょう。

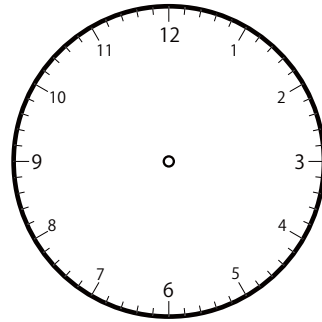
①



いま じ かん
今の時間


11 時 51 分

ふんまえ
分前は



じ 時 ふん 分

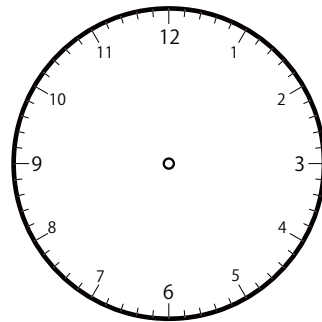
②



いま じ かん
今の時間

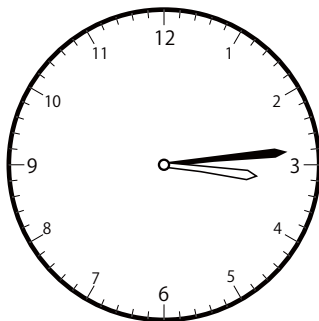
9 時 17 分

ふんまえ
分前は



じ 時 ふん 分

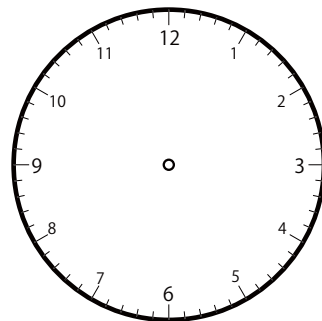
③



いま じ かん
今の時間

3 時 14 分

ふんまえ
分前は




じ 時 ふん 分

ぶんまえ とけい よ こた
1分前の時計を読んで答えよう【A1】

いま じかん よ ぶんまえ じこく ちょうしん たんしん こた
今の時間を読んで、1分前の時刻と長針・短針を答えましょう。

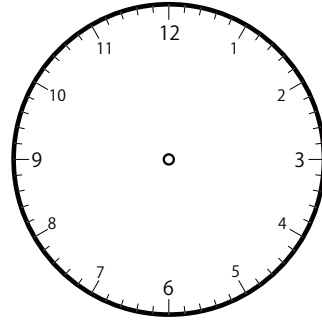
①



いま じかん
今の時間


じ ふん
10時46分

ぶんまえ
分前は



じ ふん
時 分

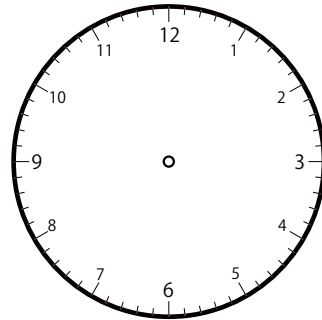
②



いま じかん
今の時間

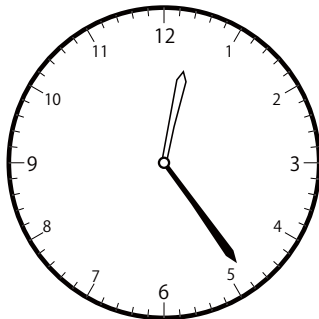
じ ふん
9時5分

ぶんまえ
分前は



じ ふん
時 分

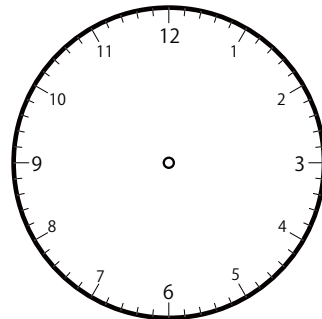
③



いま じかん
今の時間

じ ふん
12時24分

ぶんまえ
分前は




じ ふん
時 分

1分前の時計を読んで答えよう【A1】

今の時間を読んで、1分前の時刻と長針・短針を答えましょう。

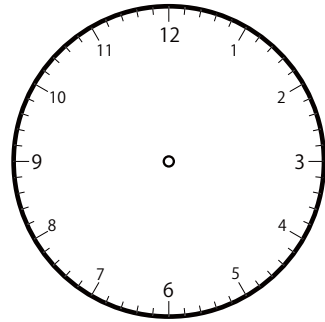
①



いま じ かん
今の時間

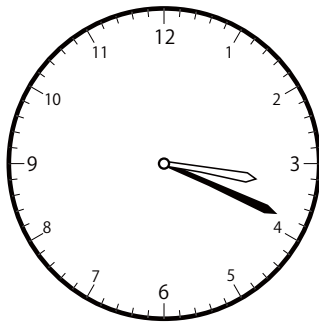
10 じ 14 ぶん

ふんまえ
分前は



じ ぶん
時 分

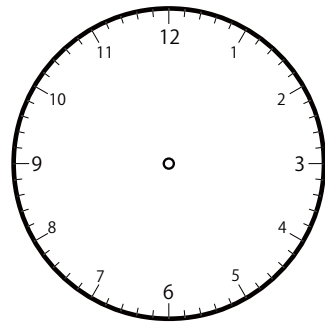
②



いま じ かん
今の時間


3 じ 19 ぶん

ふんまえ
分前は



じ ぶん
時 分

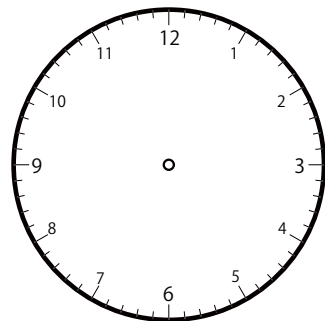
③



いま じ かん
今の時間

11 じ 48 ぶん

ふんまえ
分前は

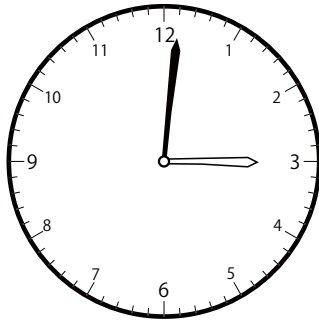


じ ぶん
時 分

1分前の時計を読んで答えよう【A1】

いま じ かん ま ふんまえ じこく ちょうしん たんしん こた
今の時間を読んで、1分前の時刻と長針・短針を答えましょう。

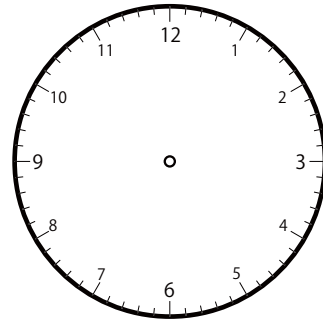
①



いま じ かん
今の時間


3 時 | 分

ふんまえ
分前は



じ ぶん
時 分

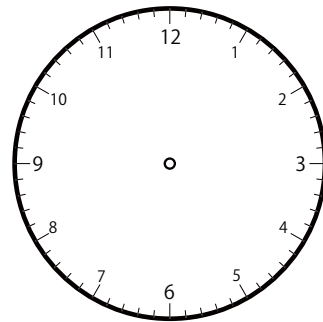
②



いま じ かん
今の時間


9 時 6 分

ふんまえ
分前は



じ ぶん
時 分

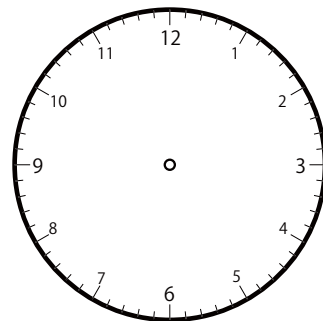
③



いま じ かん
今の時間

7 時 44 分

ふんまえ
分前は




じ ぶん
時 分

1分前の時計を読んで答えよう【A1】

今の時間を読んで、1分前の時刻と長針・短針を答えましょう。

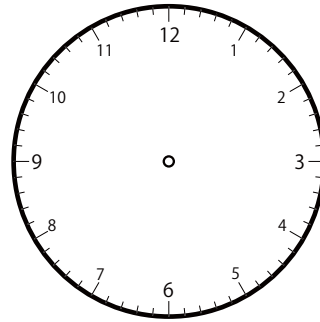
①



いま じ かん
今の時間

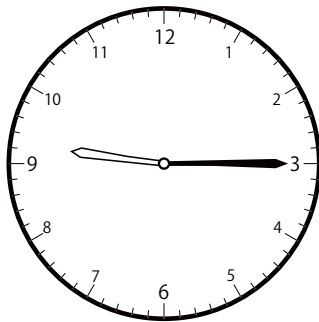
12 じ 22 ぶん
時 分

ふんまえ
分前は



じ ぶん
時 分

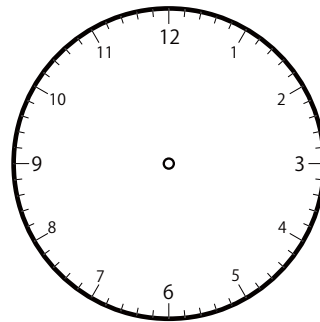
②



いま じ かん
今の時間


9 じ 15 ぶん
時 分

ふんまえ
分前は



じ ぶん
時 分

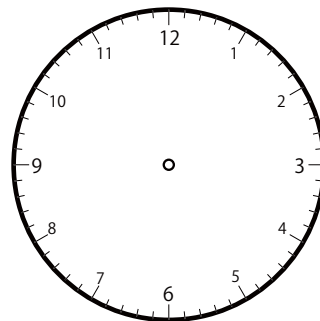
③



いま じ かん
今の時間

2 じ 22 ぶん
時 分

ふんまえ
分前は

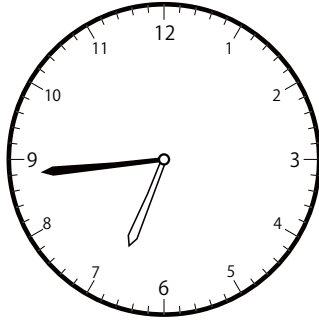


じ ぶん
時 分

ぶんまえ とけい よ こた
1分前の時計を読んで答えよう【A1】

いま じかん よ ぶんまえ じこく ちょうしん たんしん こた
今の時間を読んで、1分前の時刻と長針・短針を答えましょう。

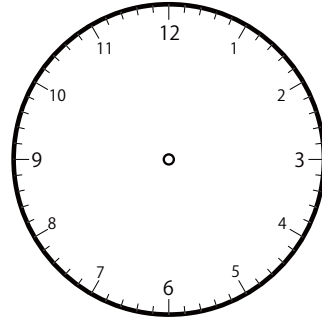
①



いま じかん
今の時間


6 時 44 分

ぶんまえ
分前は



じ ぶん
時 分

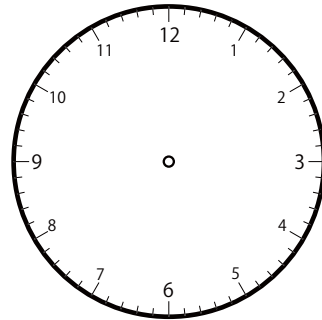
②



いま じかん
今の時間

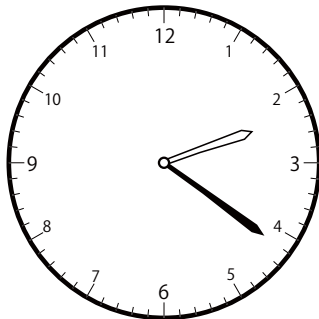
1 時 31 分

ぶんまえ
分前は



じ ぶん
時 分

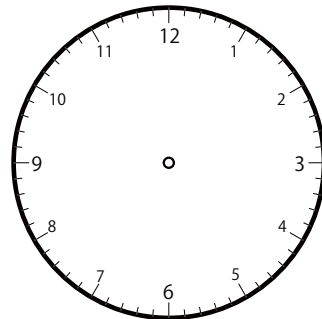
③



いま じかん
今の時間

2 時 21 分

ぶんまえ
分前は




じ ぶん
時 分

1分前の時計を読んで答えよう【A1】

今の時間を読んで、1分前の時刻と長針・短針を答えましょう。

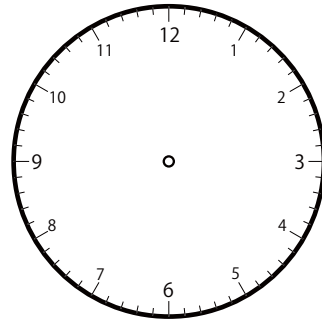
①



いま じ かん
今の時間


11 時 12 分

ふんまえ
分前は



じ 時 ぶん 分

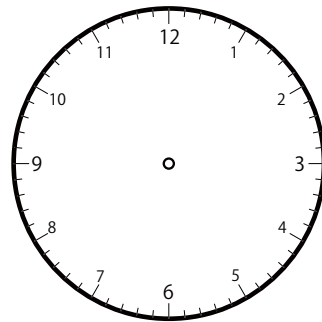
②



いま じ かん
今の時間


7 時 48 分

ふんまえ
分前は



じ 時 ぶん 分

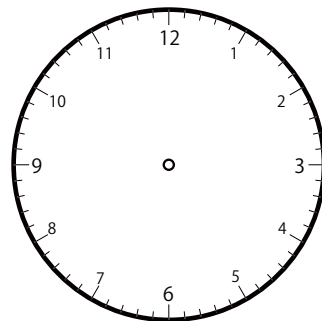
③



いま じ かん
今の時間

10 時 34 分

ふんまえ
分前は




じ 時 ぶん 分

ぶんまえ とけい よ こた
1分前の時計を読んで答えよう【A1】

いま じかん よ ぶんまえ じこく ちょうしん たんしん こた
今の時間を読んで、1分前の時刻と長針・短針を答えましょう。

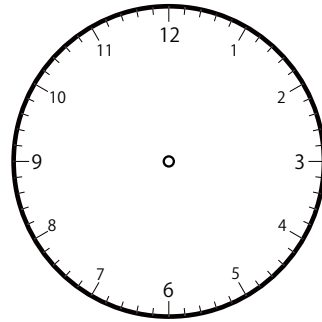
①



いま じかん
今の時間

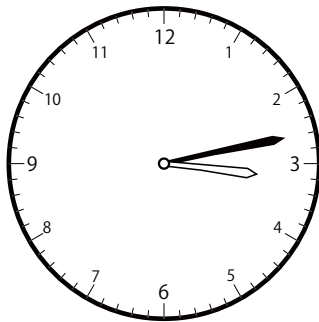
1 時 20 分

ぶんまえ
分前は



じ ぶん
時 分

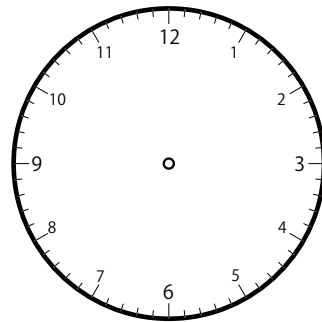
②



いま じかん
今の時間

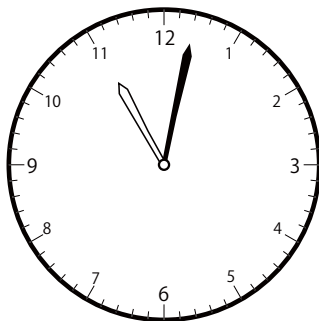
3 時 13 分

ぶんまえ
分前は



じ ぶん
時 分

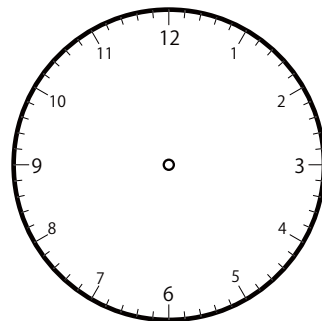
③



いま じかん
今の時間

11 時 2 分

ぶんまえ
分前は




じ ぶん
時 分

ぶんまえ とけい よ こた
1分前の時計を読んで答えよう【A1】

いま じかん ま ふんまえ じこく ちょうしん たんしん こた
今の時間を読んで、1分前の時刻と長針・短針を答えましょう。

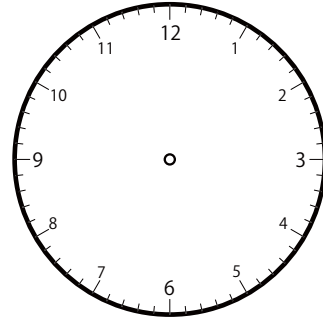
①



いま じかん
今の時間


3 時 11 分

ふんまえ
分前は



じ 時 ふん 分

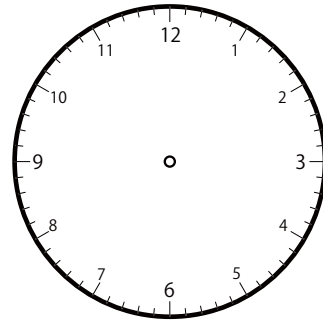
②



いま じかん
今の時間


5 時 9 分

ふんまえ
分前は



じ 時 ふん 分

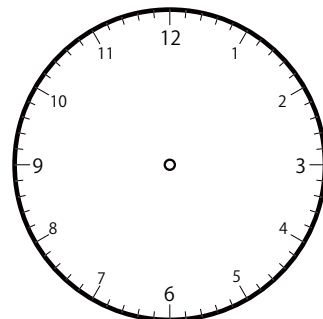
③



いま じかん
今の時間

12 時 30 分

ふんまえ
分前は

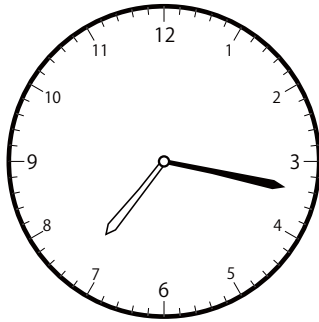


じ 時 ふん 分

ぶんまえ とけい よ こた
1分前の時計を読んで答えよう【A1】

いま じかん ま ふんまえ じこく ちょうしん たんしん こた
今の時間を読んで、1分前の時刻と長針・短針を答えましょう。

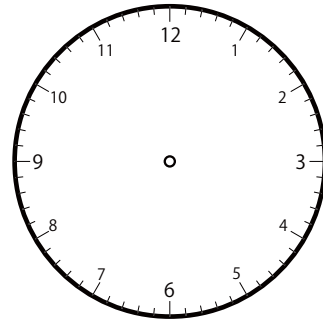
①



いま じかん
今の時間


7 時 17 分

ふんまえ
分前は



じ 時 ふん 分

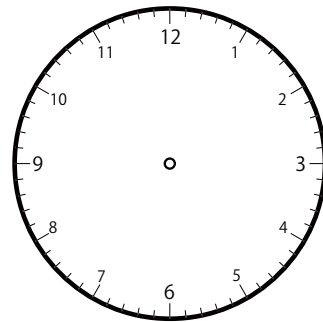
②



いま じかん
今の時間


7 時 5 分

ふんまえ
分前は



じ 時 ふん 分

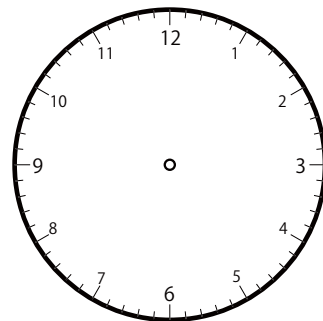
③



いま じかん
今の時間

12 時 26 分

ふんまえ
分前は

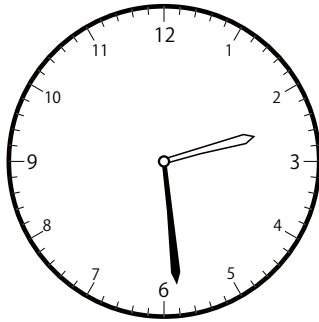


じ 時 ふん 分

ぶんまえ とけい よ こた
1分前の時計を読んで答えよう【A1】

いま じかん ま ふんまえ じこく ちょうしん たんしん こた
今の時間を読んで、1分前の時刻と長針・短針を答えましょう。

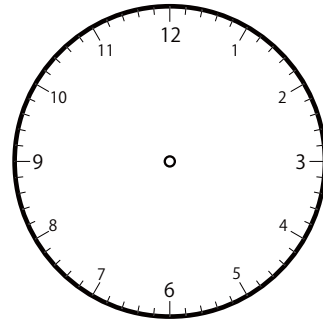
①



いま じかん
今の時間

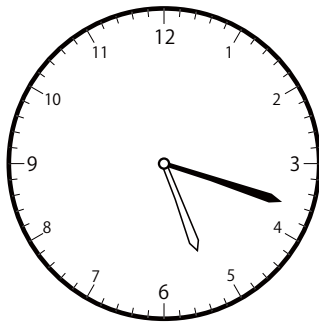
2 時 29 分

ふんまえ
分前は



じ 時 ふん 分

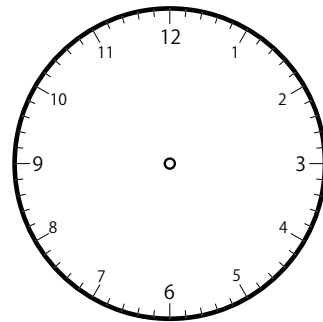
②



いま じかん
今の時間

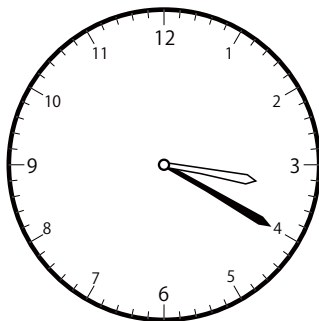
5 時 18 分

ふんまえ
分前は



じ 時 ふん 分

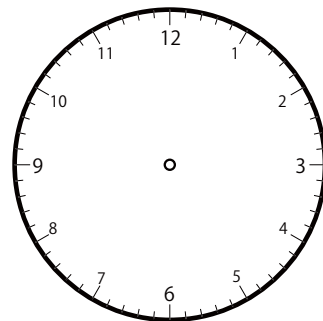
③



いま じかん
今の時間

3 時 20 分

ふんまえ
分前は

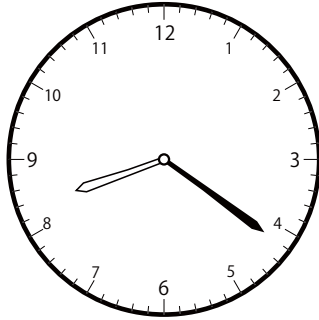


じ 時 ふん 分

1分前の時計を読んで答えよう【A1】

今いまの時間じかんを読んで、1分前の時刻じこくと長針ちょうしん・短針たんしんを答えましょう。

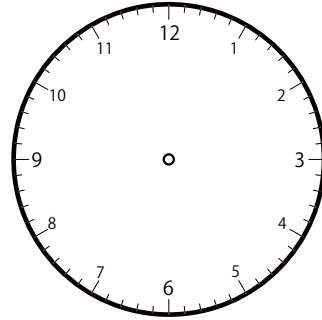
①



いま じかん
今の時間


8 じ 21 ぶん
8時21分

ふんまえ
分前は



じ ぶん
時 分

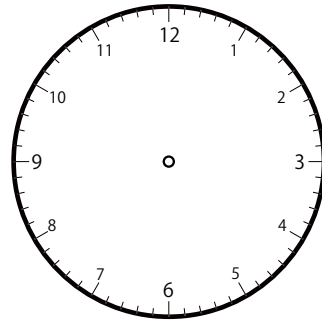
②



いま じかん
今の時間


1 じ 33 ぶん
1時33分

ふんまえ
分前は



じ ぶん
時 分

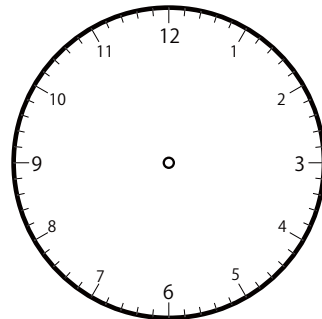
③



いま じかん
今の時間

8 じ 1 ぶん
8時1分

ふんまえ
分前は




じ ぶん
時 分

ぶんまえ とけい よ こた
1分前の時計を読んで答えよう【A1】

いま じかん よ ぶんまえ じこく ちょうしん たんしん こた
今の時間を読んで、1分前の時刻と長針・短針を答えましょう。

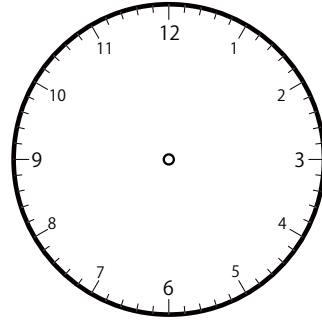
①



いま じかん
今の時間

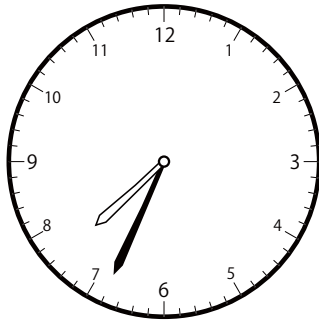
6 時 50 分

ぶんまえ
分前は



じ ぶん
時 分

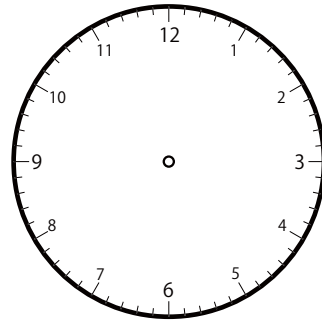
②



いま じかん
今の時間


7 時 34 分

ぶんまえ
分前は



じ ぶん
時 分

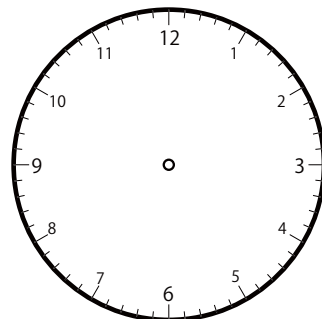
③



いま じかん
今の時間

1 時 24 分

ぶんまえ
分前は

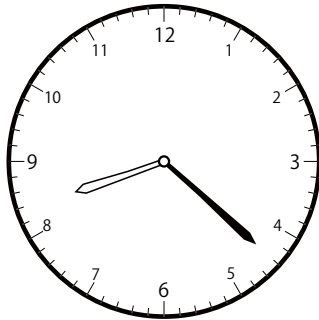


じ ぶん
時 分

ぶんまえ とけい よ こた
1分前の時計を読んで答えよう【A1】

いま じかん ま ふんまえ じこく ちょうしん たんしん こた
今の時間を読んで、1分前の時刻と長針・短針を答えましょう。

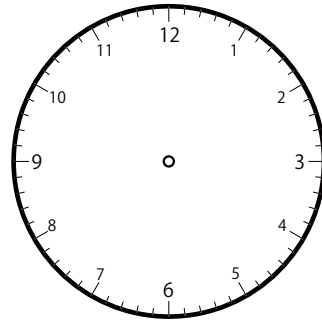
①



いま じかん
今の時間

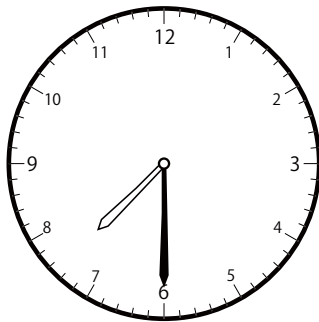
8 時 22 分

ふんまえ
分前は



じ 時 ふん 分

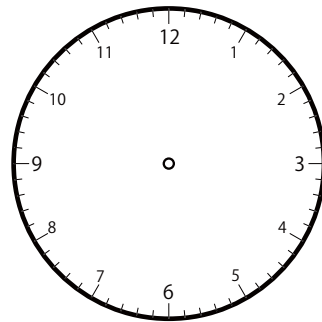
②



いま じかん
今の時間


7 時 30 分

ふんまえ
分前は



じ 時 ふん 分

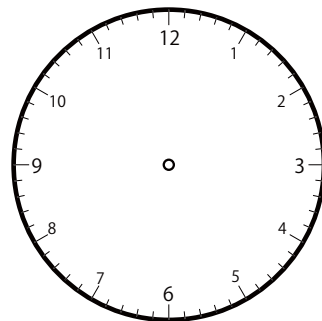
③



いま じかん
今の時間

2 時 20 分

ふんまえ
分前は

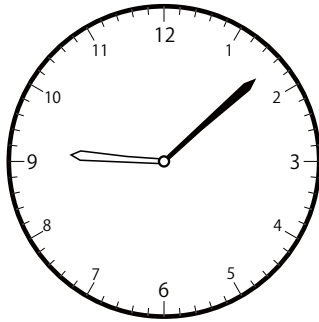


じ 時 ふん 分

1分前の時計を読んで答えよう【A1】

今の時間を読んで、1分前の時刻と長針・短針を答えましょう。

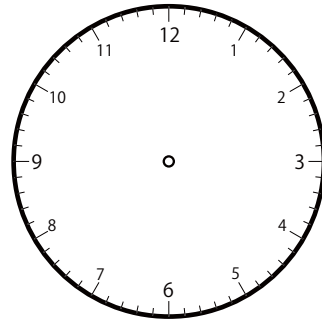
①



いま じ かん
今の時間


9 時 8 分

ふんまえ
分前は



じ 時 ぶん 分

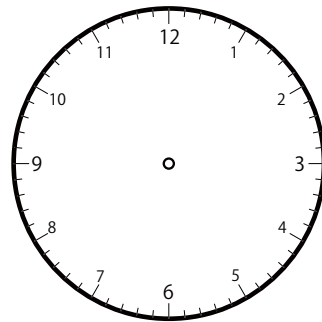
②



いま じ かん
今の時間


10 時 42 分

ふんまえ
分前は



じ 時 ぶん 分

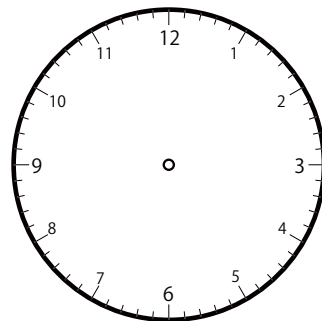
③



いま じ かん
今の時間

11 時 40 分

ふんまえ
分前は

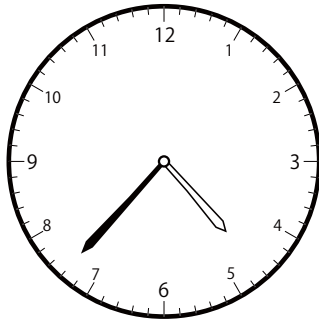


じ 時 ぶん 分

ぶんまえ とけい よ こた
1分前の時計を読んで答えよう【A1】

いま じかん よ ぶんまえ じこく ちょうしん たんしん こた
今の時間を読んで、1分前の時刻と長針・短針を答えましょう。

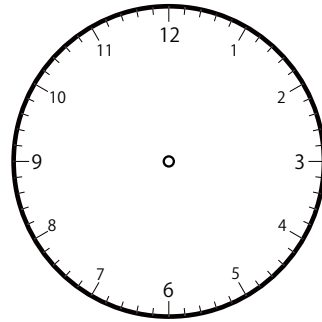
①



いま じかん
今の時間

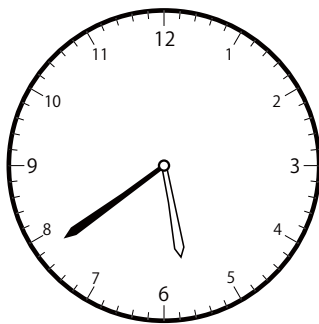
4 時 37 分

ぶんまえ
分前は



じ ぶん
時 分

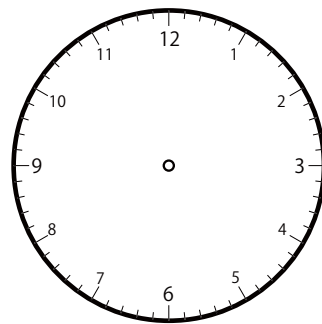
②



いま じかん
今の時間


5 時 39 分

ぶんまえ
分前は



じ ぶん
時 分

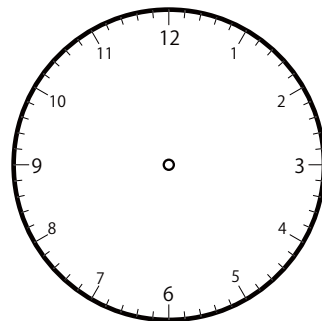
③



いま じかん
今の時間

2 時 14 分

ぶんまえ
分前は

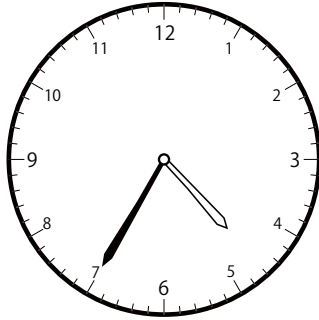


じ ぶん
時 分

ぶんまえ とけい よ こた
1分前の時計を読んで答えよう【A1】

いま じかん ま ふんまえ じこく ちょうしん たんしん こた
今の時間を読んで、1分前の時刻と長針・短針を答えましょう。

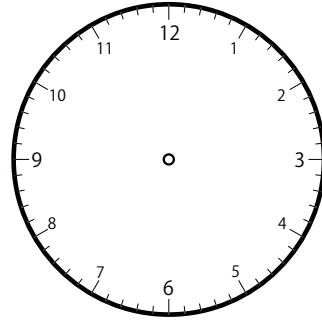
①



いま じかん
今の時間


4 時 35 分

ふんまえ
分前は



じ 時 ふん 分

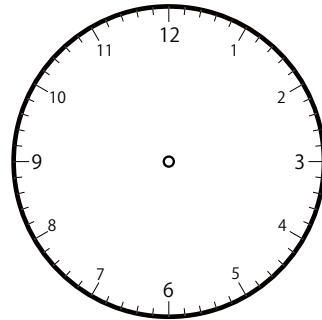
②



いま じかん
今の時間


11 時 44 分

ふんまえ
分前は



じ 時 ふん 分

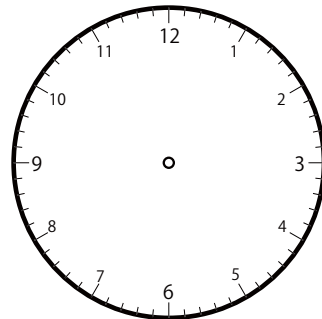
③



いま じかん
今の時間

11 時 33 分

ふんまえ
分前は

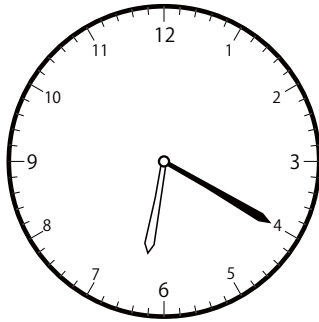


じ 時 ふん 分

1分前の時計を読んで答えよう【A1】

いま じかん ま ふんまえ じこく ちょうしん たんしん こた
今の時間を読んで、1分前の時刻と長針・短針を答えましょう。

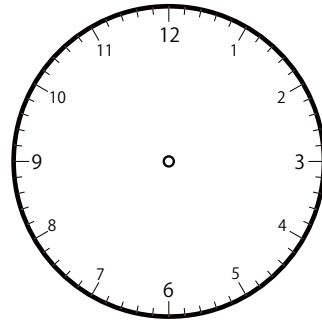
①



いま じかん
今の時間

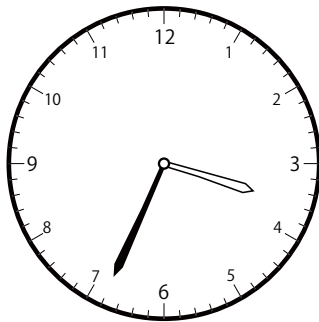
6 時 20 分

ふんまえ
分前は



じ 時 ふん 分

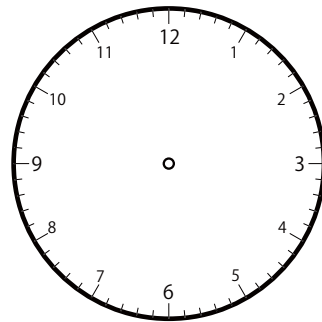
②



いま じかん
今の時間

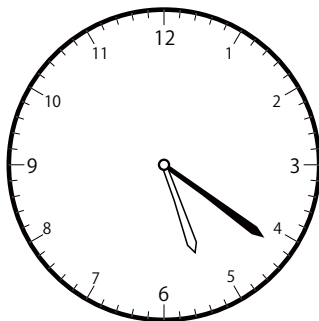
3 時 34 分

ふんまえ
分前は



じ 時 ふん 分

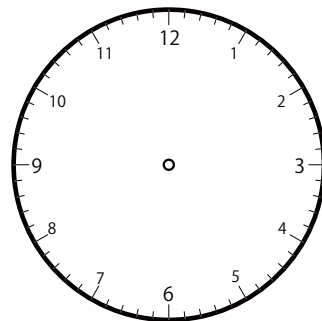
③



いま じかん
今の時間

5 時 21 分

ふんまえ
分前は




じ 時 ふん 分

ぶんまえ とけい よ こた
1分前の時計を読んで答えよう【A1】

いま じかん ま ふんまえ じこく ちょうしん たんしん こた
今の時間を読んで、1分前の時刻と長針・短針を答えましょう。

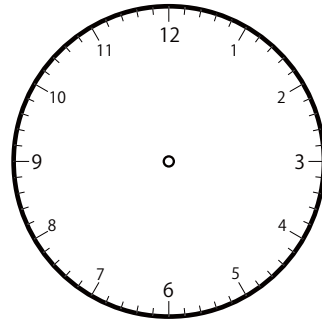
①



いま じかん
今の時間


6 時 51 分

ふんまえ
分前は



じ 時 ふん 分

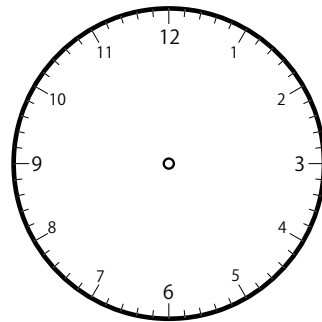
②



いま じかん
今の時間


9 時 58 分

ふんまえ
分前は



じ 時 ふん 分

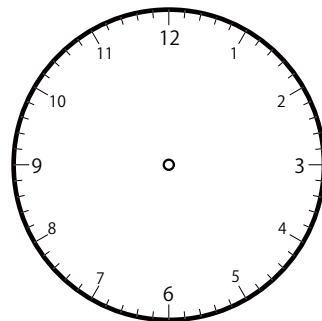
③



いま じかん
今の時間

9 時 37 分

ふんまえ
分前は

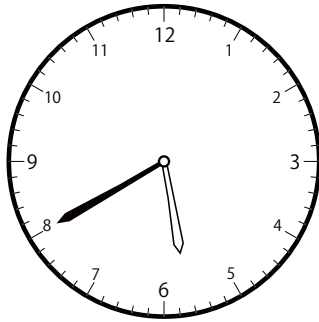


じ 時 ふん 分

1分前の時計を読んで答えよう【A1】

今の時間を読んで、1分前の時刻と長針・短針を答えましょう。

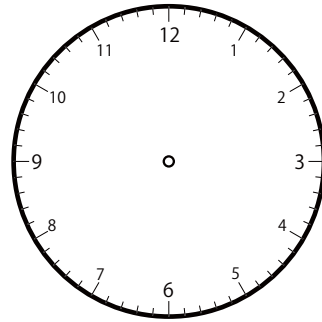
①



いま じ かん
今の時間


5 時 40 分

ふんまえ
分前は



じ 時 ふん 分

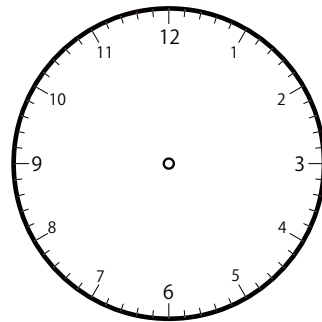
②



いま じ かん
今の時間

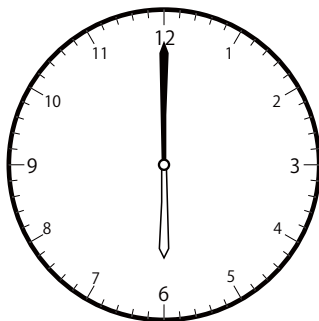
9 時 23 分

ふんまえ
分前は



じ 時 ふん 分

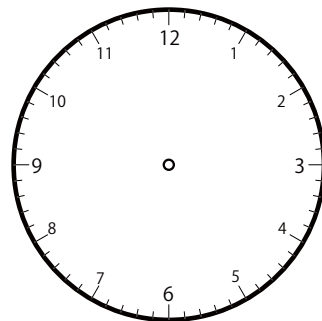
③



いま じ かん
今の時間

6 時 0 分

ふんまえ
分前は




じ 時 ふん 分

1分前の時計を読んで答えよう【A1】

今の時間を読んで、1分前の時刻と長針・短針を答えましょう。

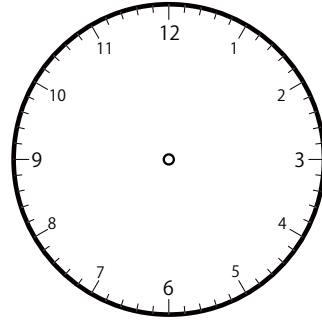
①



いま じ かん
今の時間


12 じ 20 ぶん
時 分

ふんまえ
分前は



じ ぶん
時 分

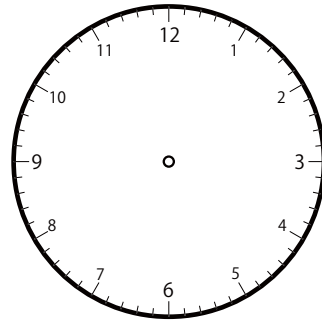
②



いま じ かん
今の時間

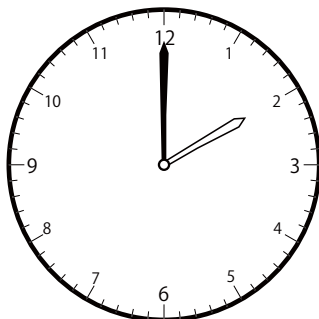
8 じ 11 ぶん
時 分

ふんまえ
分前は



じ ぶん
時 分

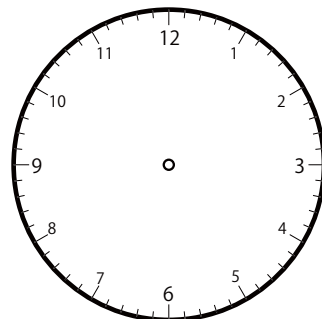
③



いま じ かん
今の時間

2 じ 0 ぶん
時 分

ふんまえ
分前は




じ ぶん
時 分

1分前の時計を読んで答えよう【A1】

いまの時間を読んで、1分前の時刻と長針・短針を答えましょう。

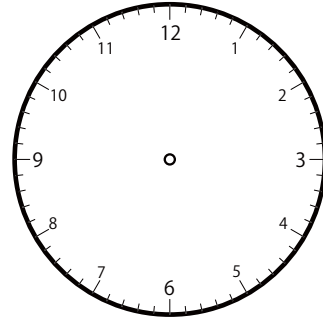
①



いまの時間


7時45分

1分前は



時 分

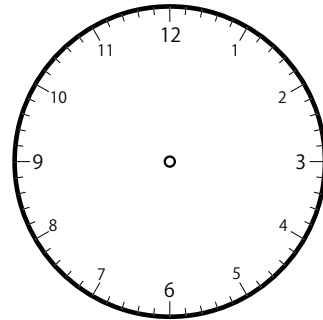
②



いまの時間

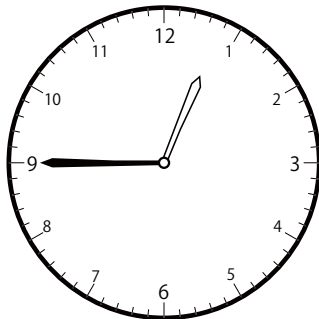
9時54分

1分前は



時 分

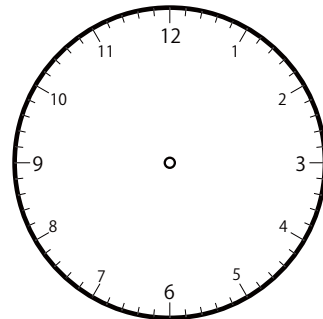
③



いまの時間

12時45分

1分前は




時 分

ぶんまえ とけい よ こた
1分前の時計を読んで答えよう【A1】

いま じかん よ ぶんまえ じこく ちょうしん たんしん こた
今の時間を読んで、1分前の時刻と長針・短針を答えましょう。

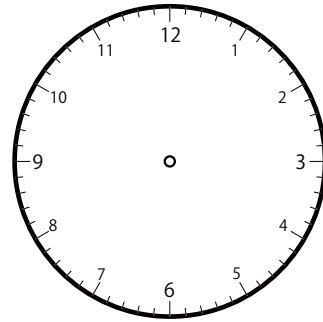
①



いま じかん
今の時間


11 時 46 分

ぶんまえ
分前は



じ 時 ぶん 分

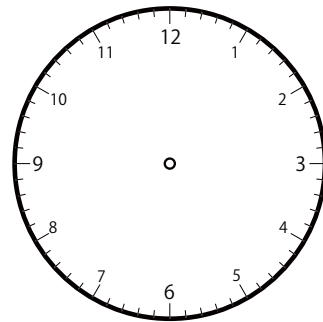
②



いま じかん
今の時間


12 時 46 分

ぶんまえ
分前は



じ 時 ぶん 分

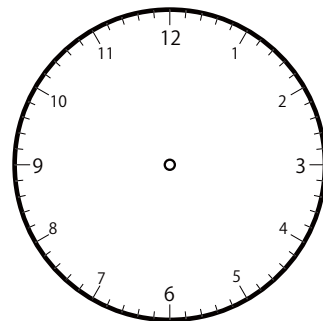
③



いま じかん
今の時間

12 時 14 分

ぶんまえ
分前は

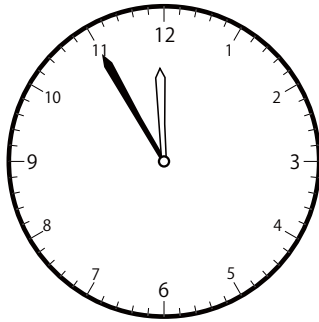


じ 時 ぶん 分

1分前の時計を読んで答えよう【A1】

いま じかん よ
今の時間を読んで、1分前の時刻と長針・短針を答えましょう。

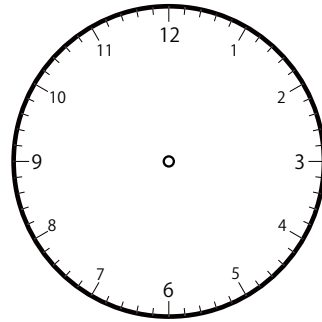
①



いま じかん
今の時間


11時55分

ふんまえ
分前は



じ 時 ぶん 分

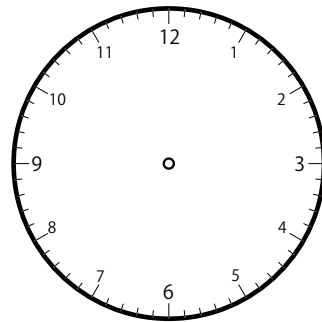
②



いま じかん
今の時間


12時15分

ふんまえ
分前は



じ 時 ぶん 分

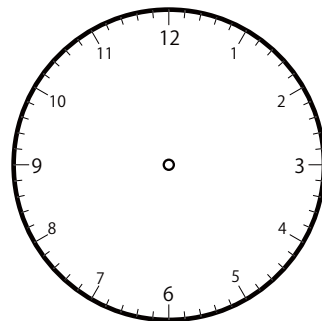
③



いま じかん
今の時間

10時18分

ふんまえ
分前は

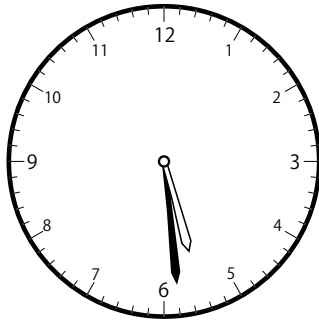


じ 時 ぶん 分

1分前の時計を読んで答えよう【A1】

今いまの時間じかんを読んで、1分前の時刻じこくと長針ちょうしん・短針たんしんを答えましょう。

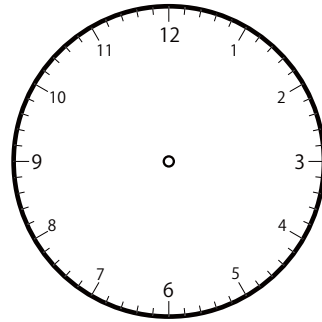
①



いま じかん
今の時間

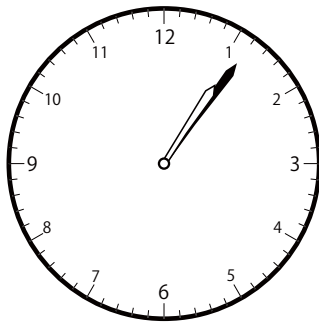
5 時 29 分

ふんまえ
分前は



じ 時 ぶん 分

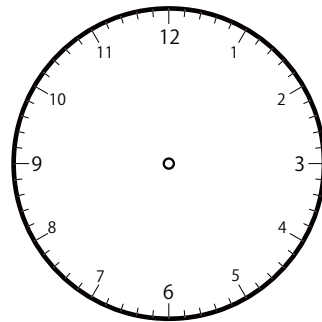
②



いま じかん
今の時間

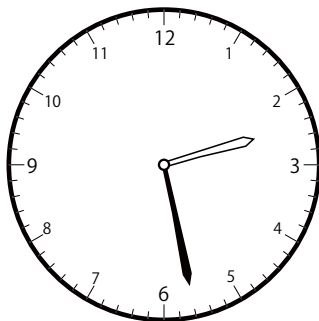
1 時 6 分

ふんまえ
分前は



じ 時 ぶん 分

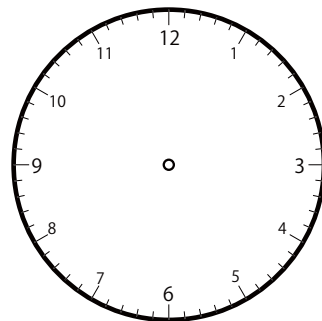
③



いま じかん
今の時間

2 時 28 分

ふんまえ
分前は

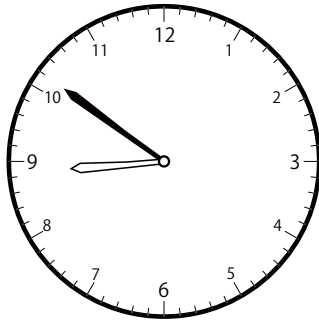


じ 時 ぶん 分

ぶんまえ とけい よ こた
1分前の時計を読んで答えよう【A1】

いま じかん ま ふんまえ じこく ちょうしん たんしん こた
今の時間を読んで、1分前の時刻と長針・短針を答えましょう。

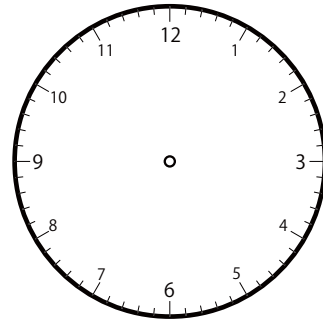
①



いま じかん
今の時間

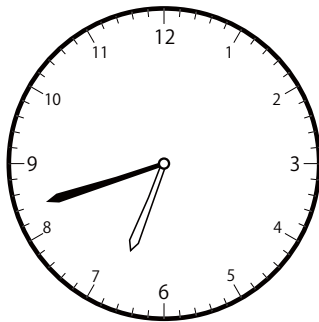
8 時 51 分

ふんまえ
分前は



じ 時 ふん 分

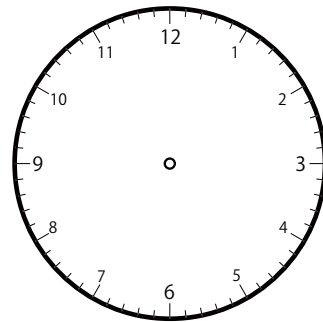
②



いま じかん
今の時間

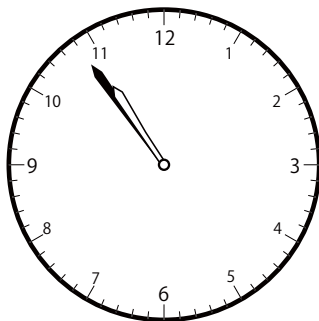
6 時 42 分

ふんまえ
分前は



じ 時 ふん 分

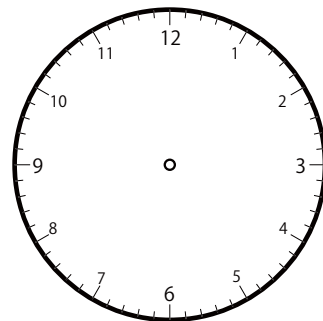
③



いま じかん
今の時間

10 時 54 分

ふんまえ
分前は

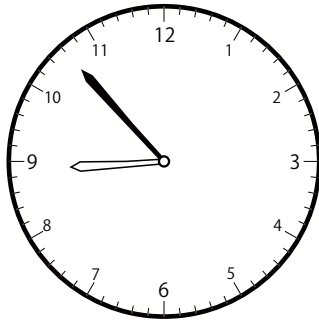


じ 時 ふん 分

1分前の時計を読んで答えよう【A1】

今の時間を読んで、1分前の時刻と長針・短針を答えましょう。

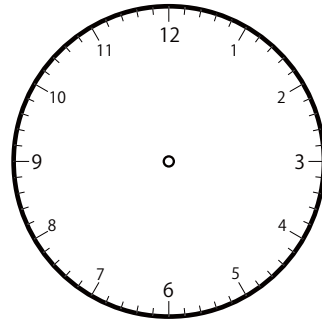
①



いま じ かん
今の時間

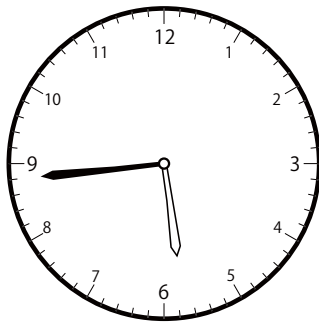
8 時 53 分

ふんまえ
分前は



じ 時 ふん 分

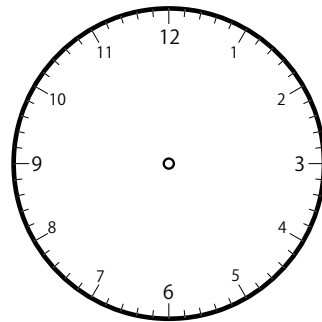
②



いま じ かん
今の時間


5 時 44 分

ふんまえ
分前は



じ 時 ふん 分

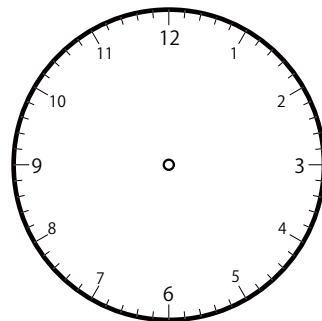
③



いま じ かん
今の時間

2 時 36 分

ふんまえ
分前は




じ 時 ふん 分

ぶんまえ とけい よ こた
1分前の時計を読んで答えよう【A1】

いま じかん よ ぶんまえ じこく ちょうしん たんしん こた
今の時間を読んで、1分前の時刻と長針・短針を答えましょう。

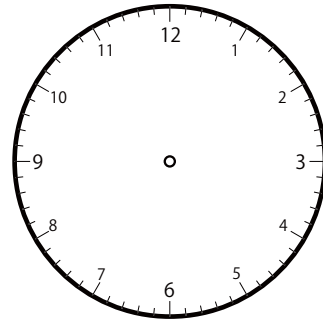
①



いま じかん
今の時間

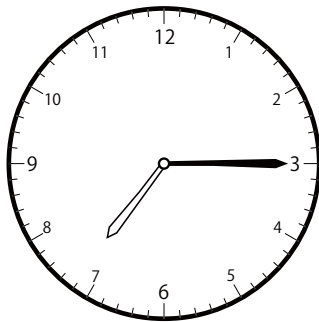
1 時 53 分

ぶんまえ
分前は



じ ぶん
時 分

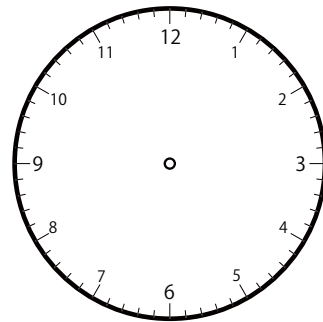
②



いま じかん
今の時間


7 時 15 分

ぶんまえ
分前は



じ ぶん
時 分

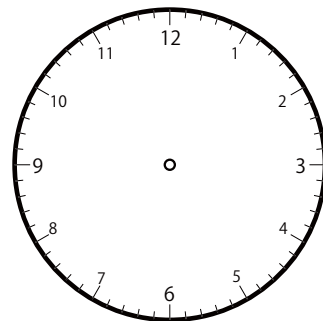
③



いま じかん
今の時間

5 時 4 分

ぶんまえ
分前は




じ ぶん
時 分

1分前の時計を読んで答えよう【A1】

今の時間を読んで、1分前の時刻と長針・短針を答えましょう。

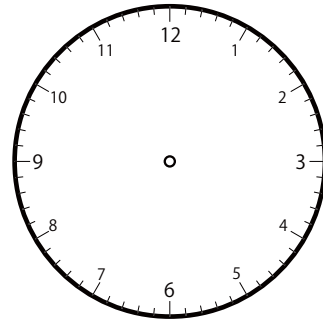
①



いま じ かん
今の時間

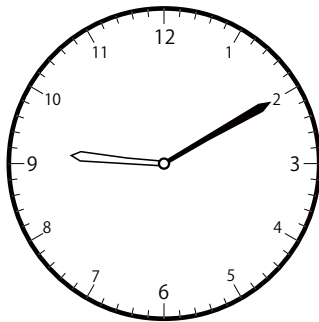
6 じ 59 ぶん
時 分

ふんまえ
分前は



じ ぶん
時 分

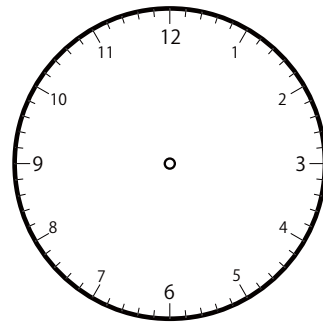
②



いま じ かん
今の時間

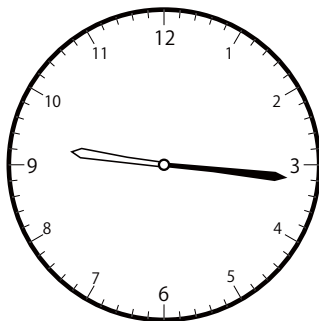
9 じ 10 ぶん
時 分

ふんまえ
分前は



じ ぶん
時 分

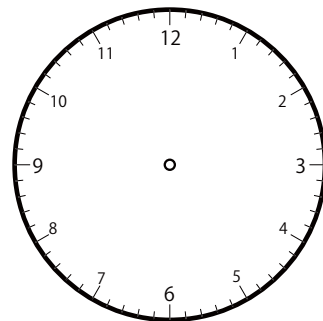
③



いま じ かん
今の時間

9 じ 16 ぶん
時 分

ふんまえ
分前は

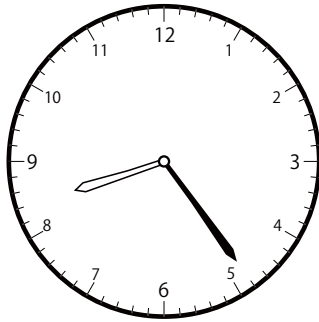


じ ぶん
時 分

1分前の時計を読んで答えよう【A1】

いま じかん よ ぶんまえ じこく ちょうしん たんしん こた
今の時間を読んで、1分前の時刻と長針・短針を答えましょう。

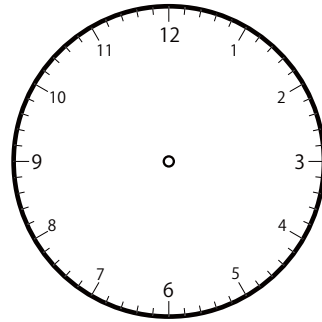
①



いま じかん
今の時間


8 時 24 分

ぶんまえ
分前は



じ ぶん
時 分

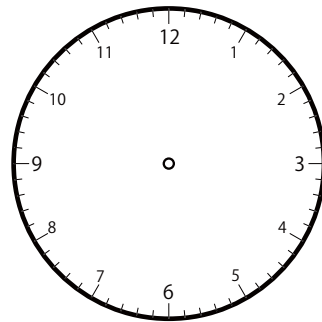
②



いま じかん
今の時間


12 時 49 分

ぶんまえ
分前は



じ ぶん
時 分

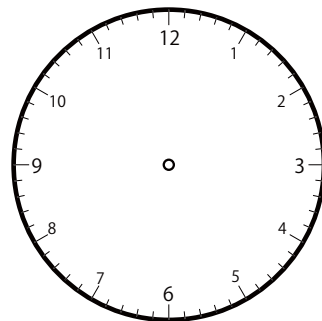
③



いま じかん
今の時間

11 時 49 分

ぶんまえ
分前は

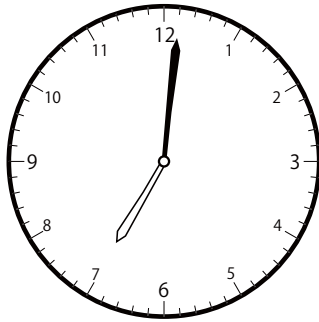


じ ぶん
時 分

ぶんまえ とけい よ こた
1分前の時計を読んで答えよう【A1】

いま じかん ま ふんまえ じこく ちょうしん たんしん こた
今の時間を読んで、1分前の時刻と長針・短針を答えましょう。

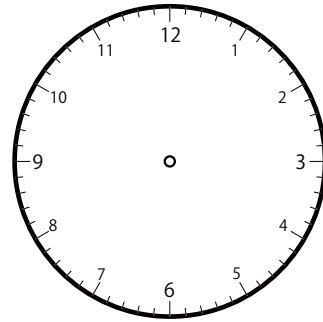
①



いま じかん
今の時間


7 時 1 分

ふんまえ
分前は



じ 時 ふん 分

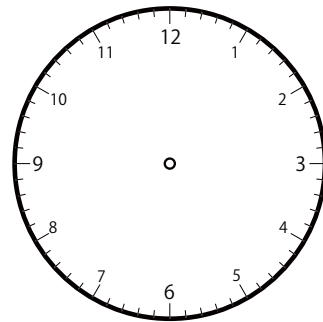
②



いま じかん
今の時間


11 時 19 分

ふんまえ
分前は



じ 時 ふん 分

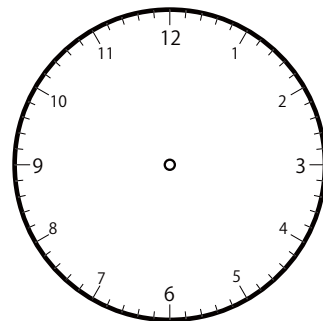
③



いま じかん
今の時間

4 時 45 分

ふんまえ
分前は




じ 時 ふん 分

ぶんまえ とけい よ こた
1分前の時計を読んで答えよう【A1】

いま じかん よ ぶんまえ じこく ちょうしん たんしん こた
今の時間を読んで、1分前の時刻と長針・短針を答えましょう。

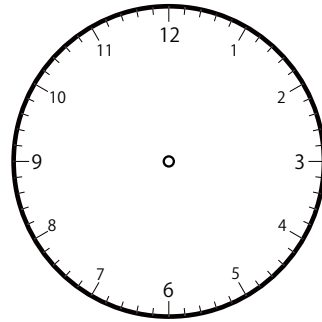
①



いま じかん
今の時間

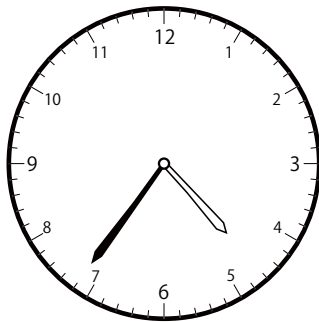
11 時 31 分

ぶんまえ
分前は



じ ぶん
時 分

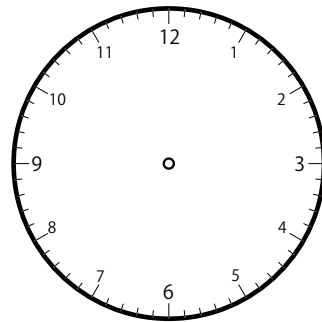
②



いま じかん
今の時間


4 時 36 分

ぶんまえ
分前は



じ ぶん
時 分

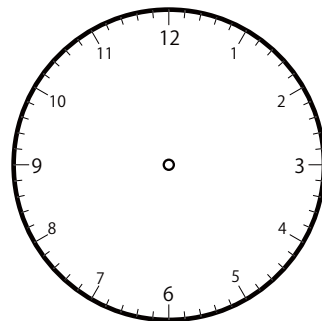
③



いま じかん
今の時間

1 時 41 分

ぶんまえ
分前は

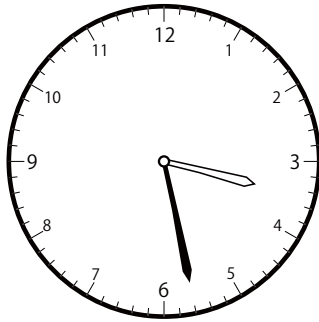


じ ぶん
時 分

1分前の時計を読んで答えよう【A1】

いまの時間を読んで、1分前の時刻と長針・短針を答えましょう。

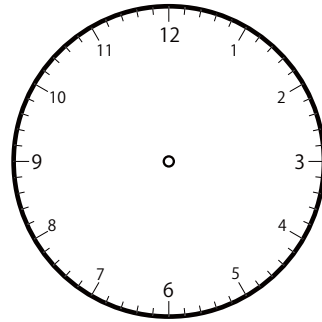
①



いまの時間


3時28分

1分前は



時 分

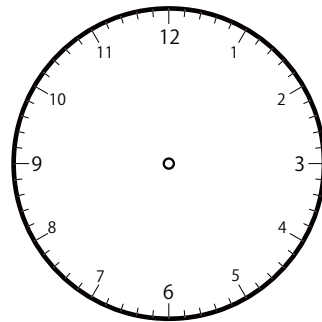
②



いまの時間


12時48分

1分前は



時 分

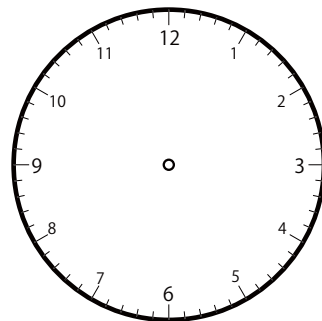
③



いまの時間

4時6分

1分前は

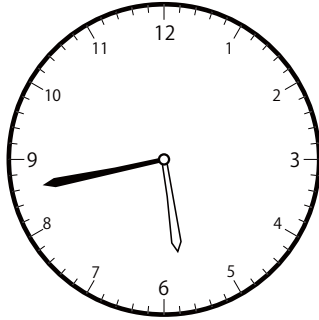


時 分

1分前の時計を読んで答えよう【A1】

今の時間を読んで、1分前の時刻と長針・短針を答えましょう。

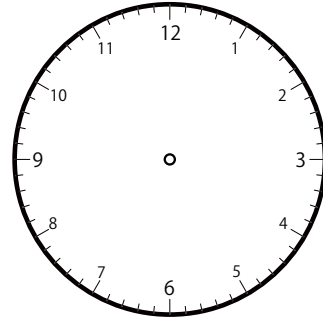
①



いま じ かん
今の時間


5 じ 43 ぶん

ふんまえ
分前は



じ ぶん
時 分

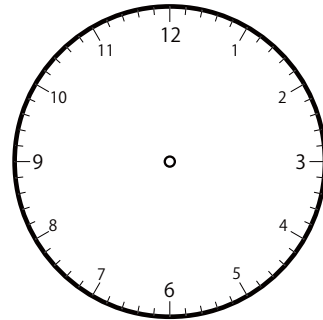
②



いま じ かん
今の時間


7 じ 9 ぶん

ふんまえ
分前は



じ ぶん
時 分

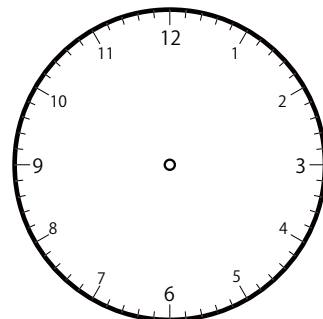
③



いま じ かん
今の時間

1 じ 8 ぶん

ふんまえ
分前は




じ ぶん
時 分

1分前の時計を読んで答えよう【A1】

いまの時間を読んで、1分前の時刻と長針・短針を答えましょう。

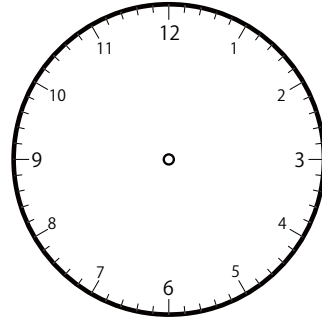
①



いまの時間


1時48分

1分前は



時 分

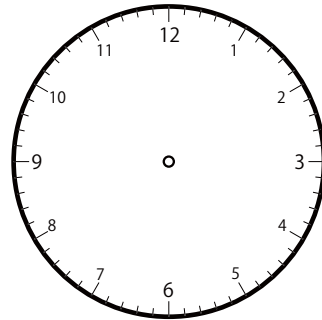
②



いまの時間


12時7分

1分前は



時 分

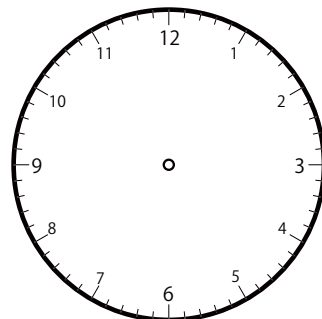
③



いまの時間

12時10分

1分前は




時 分

1分前の時計を読んで答えよう【A1】

いま じかん よ ぶんまえ じこく ちょうしん たんしん こた
今の時間を読んで、1分前の時刻と長針・短針を答えましょう。

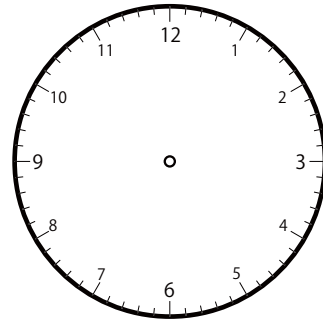
①



いま じかん
今の時間

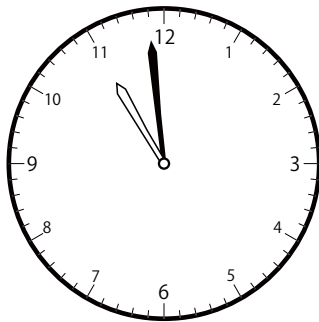
7 時 3 分

ぶんまえ
分前は



じ ぶん
時 分

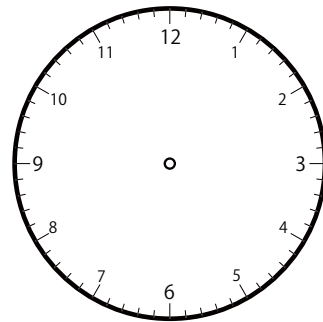
②



いま じかん
今の時間

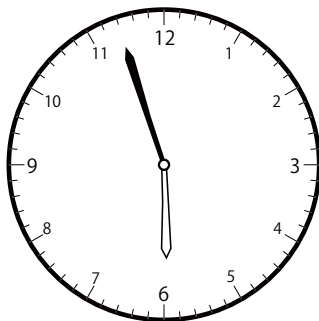
10 時 59 分

ぶんまえ
分前は



じ ぶん
時 分

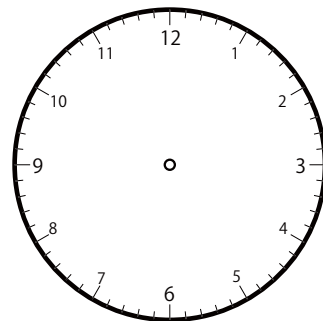
③



いま じかん
今の時間

5 時 57 分

ぶんまえ
分前は




じ ぶん
時 分

1分前の時計を読んで答えよう【A1】

今の時間を読んで、1分前の時刻と長針・短針を答えましょう。

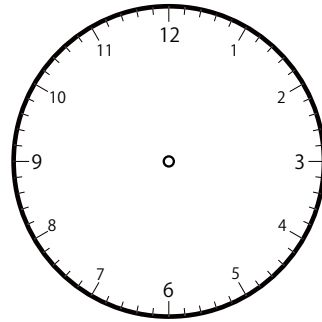
①



いま じ かん
今の時間


3 時 48 分

ふんまえ
分前は



じ 時 ぶん 分

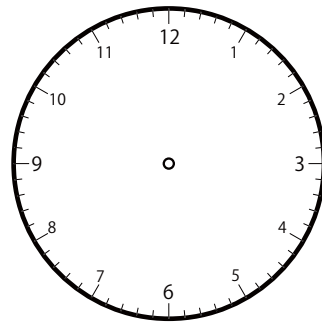
②



いま じ かん
今の時間


9 時 9 分

ふんまえ
分前は



じ 時 ぶん 分

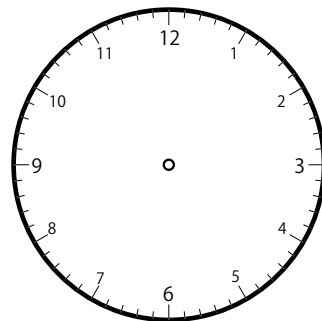
③



いま じ かん
今の時間

9 時 34 分

ふんまえ
分前は

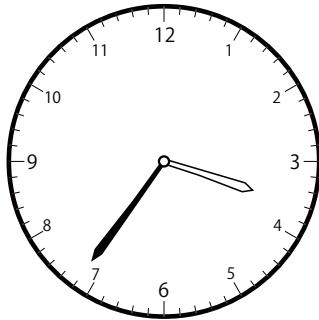


じ 時 ぶん 分

ぶんまえ とけい よ こた
1分前の時計を読んで答えよう【A1】

いま じかん ま ふんまえ じこく ちょうしん たんしん こた
今の時間を読んで、1分前の時刻と長針・短針を答えましょう。

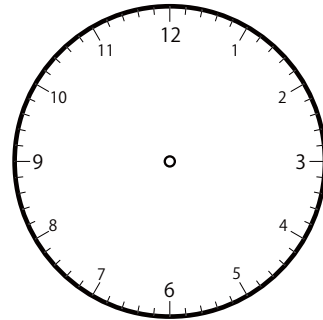
①



いま じかん
今の時間


3 時 36 分

ふんまえ
分前は



じ 時 ふん 分

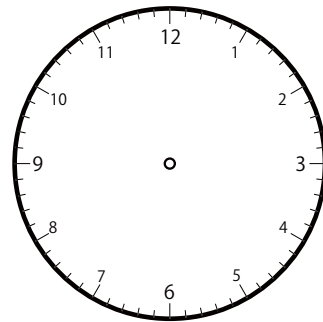
②



いま じかん
今の時間


6 時 54 分

ふんまえ
分前は



じ 時 ふん 分

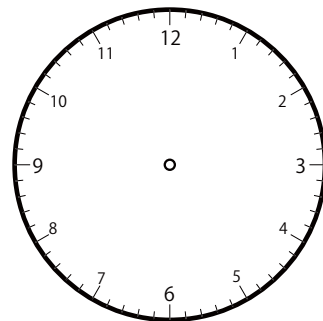
③



いま じかん
今の時間

12 時 28 分

ふんまえ
分前は




じ 時 ふん 分

1分前の時計を読んで答えよう【A1】

今の時間を読んで、1分前の時刻と長針・短針を答えましょう。

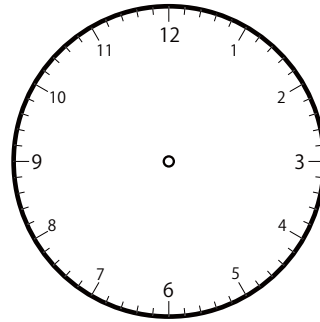
①



いま じ かん
今の時間

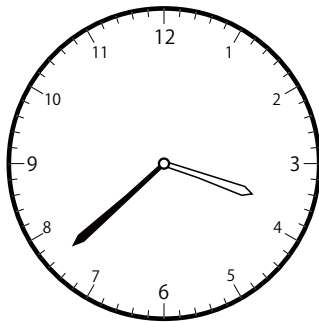
1 時 56 分

ふんまえ
分前は



じ 時 ふん 分

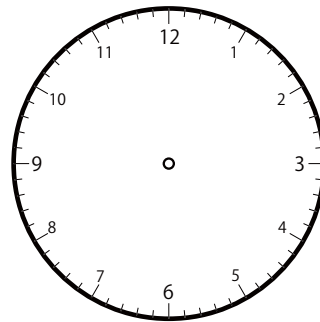
②



いま じ かん
今の時間


3 時 38 分

ふんまえ
分前は



じ 時 ふん 分

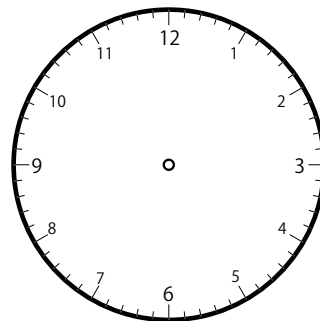
③



いま じ かん
今の時間

8 時 18 分

ふんまえ
分前は




じ 時 ふん 分

ぶんまえ とけい よ こた
1分前の時計を読んで答えよう【A1】

いま じかん ま ふんまえ じこく ちょうしん たんしん こた
今の時間を読んで、1分前の時刻と長針・短針を答えましょう。

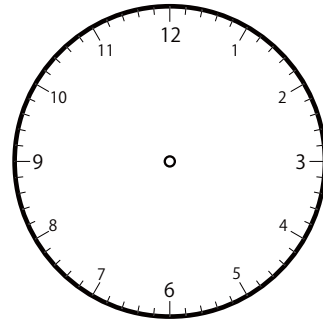
①



いま じかん
今の時間

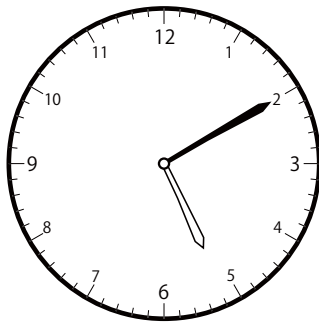
4 時 51 分

ふんまえ
分前は



じ 時 ふん 分

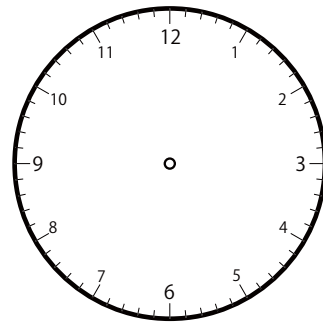
②



いま じかん
今の時間


5 時 10 分

ふんまえ
分前は



じ 時 ふん 分

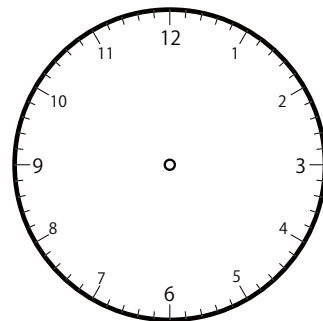
③



いま じかん
今の時間

10 時 56 分

ふんまえ
分前は

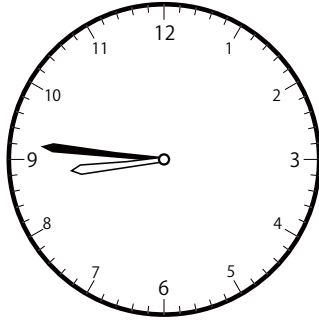


じ 時 ふん 分

1分前の時計を読んで答えよう【A1】

いまの時間を読んで、1分前の時刻と長針・短針を答えましょう。

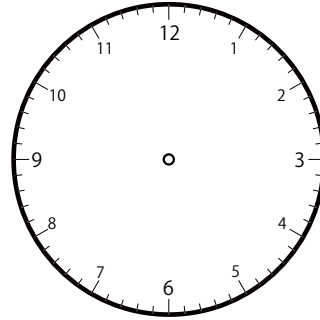
①



いまの時間


8時46分

1分前は



時 分

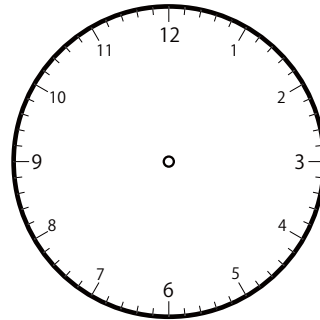
②



いまの時間


11時58分

1分前は



時 分

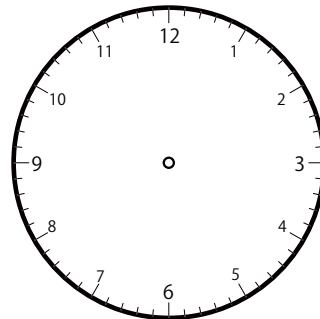
③



いまの時間

7時6分

1分前は

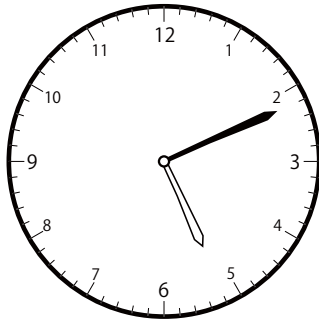


時 分

ぶんまえ とけい よ こた
1分前の時計を読んで答えよう【A1】

いま じかん ま ふんまえ じこく ちょうしん たんしん こた
今の時間を読んで、1分前の時刻と長針・短針を答えましょう。

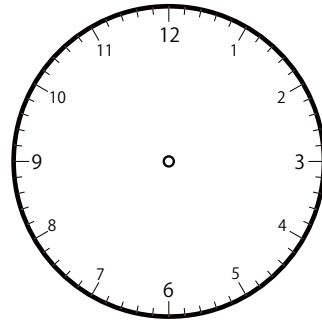
①



いま じかん
今の時間

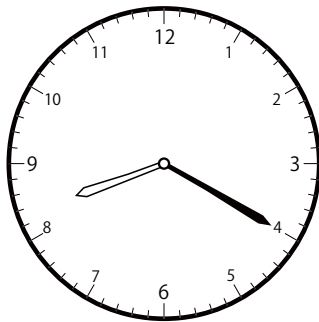
5 時 11 分

ふんまえ
分前は



じ 時 ふん 分

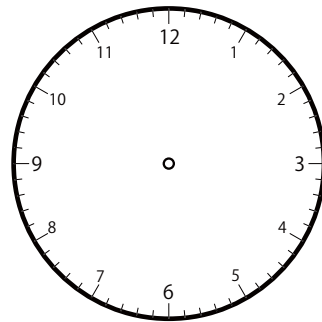
②



いま じかん
今の時間


8 時 20 分

ふんまえ
分前は



じ 時 ふん 分

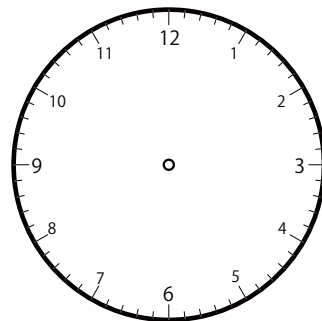
③



いま じかん
今の時間

11 時 24 分

ふんまえ
分前は

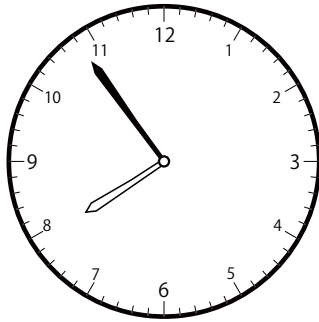


じ 時 ふん 分

ぶんまえ とけい よ こた
1分前の時計を読んで答えよう【A1】

いま じかん よ ぶんまえ じこく ちょうしん たんしん こた
今の時間を読んで、1分前の時刻と長針・短針を答えましょう。

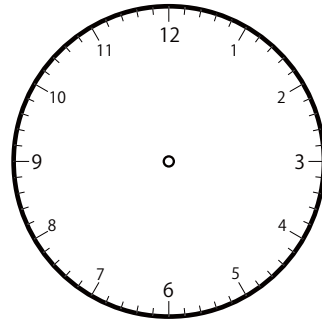
①



いま じかん
今の時間

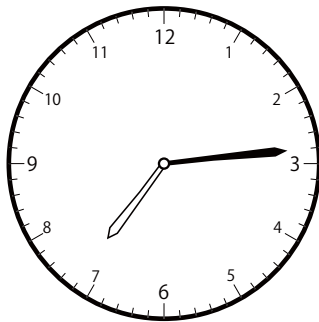
7 時 54 分

ぶんまえ
分前は



じ ぶん
時 分

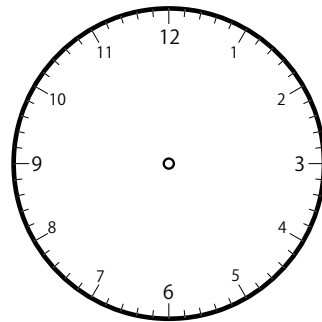
②



いま じかん
今の時間


7 時 14 分

ぶんまえ
分前は



じ ぶん
時 分

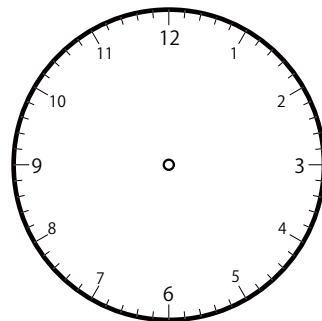
③



いま じかん
今の時間

4 時 4 分

ぶんまえ
分前は




じ ぶん
時 分

1分前の時計を読んで答えよう【A1】

今いまの時間じかんを読んで、1分前の時刻じこくと長針ちょうしん・短針たんしんを答えましょう。

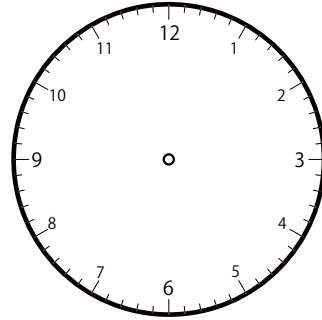
①



いま じかん
今の時間


8 時 5 分

ふんまえ
分前は



じ 時 ぶん 分

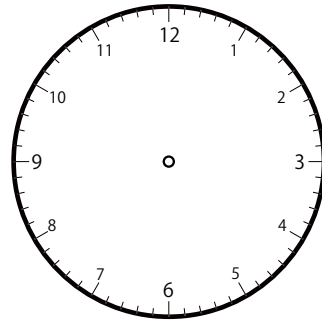
②



いま じかん
今の時間

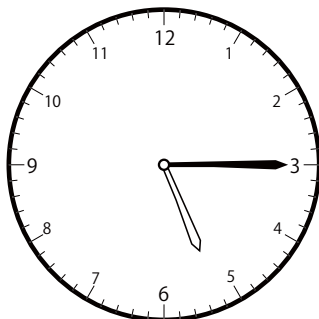
6 時 9 分

ふんまえ
分前は



じ 時 ぶん 分

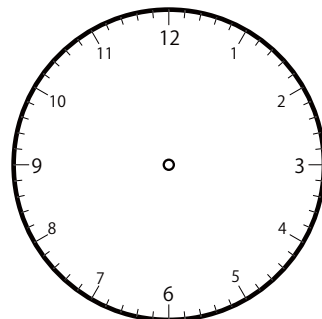
③



いま じかん
今の時間

5 時 15 分

ふんまえ
分前は

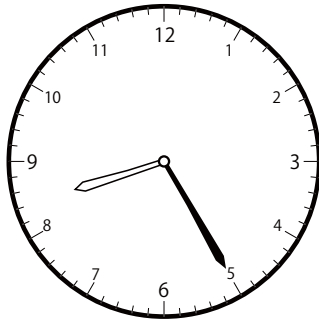


じ 時 ぶん 分

ぶんまえ とけい よ こた
1分前の時計を読んで答えよう【A1】

いま じかん よ ぶんまえ じこく ちょうしん たんしん こた
今の時間を読んで、1分前の時刻と長針・短針を答えましょう。

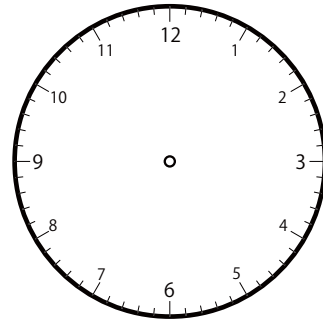
①



いま じかん
今の時間


8 時 25 分

ぶんまえ
分前は



じ ぶん
時 分

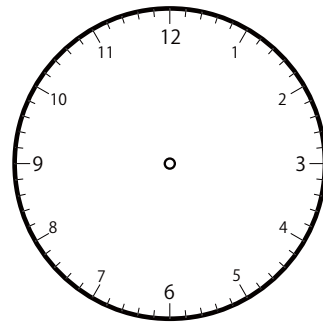
②



いま じかん
今の時間


12 時 37 分

ぶんまえ
分前は



じ ぶん
時 分

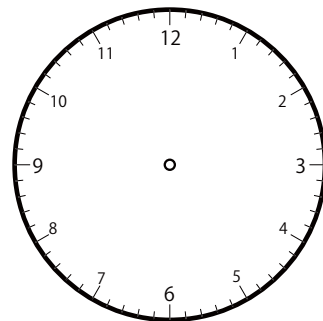
③



いま じかん
今の時間

1 時 57 分

ぶんまえ
分前は




じ ぶん
時 分

1分前の時計を読んで答えよう【A1】

いま じかん ま ふんまえ じごく ちょうしん たんしん こた
今の時間を読んで、1分前の時刻と長針・短針を答えましょう。

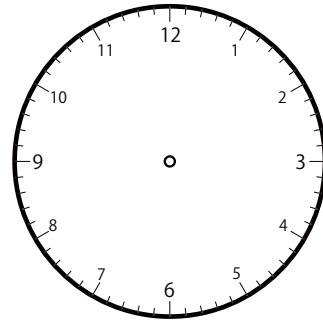
①



いま じかん
今の時間


1 時 4 分

ふんまえ
分前は



じ 時 ふん 分

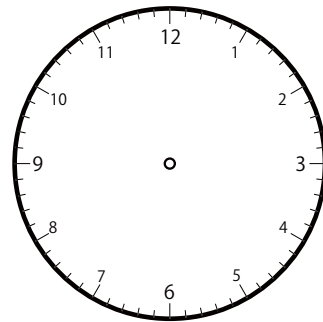
②



いま じかん
今の時間

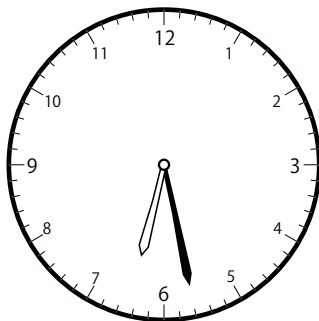
11 時 0 分

ふんまえ
分前は



じ 時 ふん 分

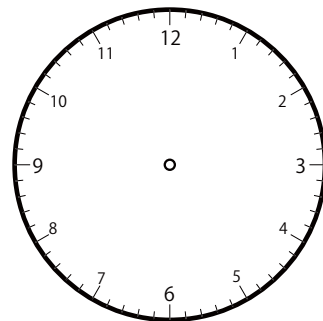
③



いま じかん
今の時間

6 時 28 分

ふんまえ
分前は

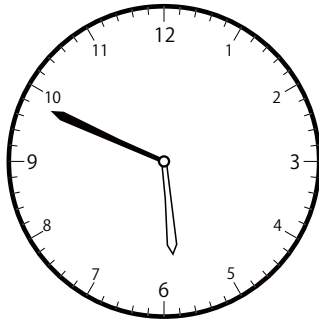


じ 時 ふん 分

ぶんまえ とけい よ こた
1分前の時計を読んで答えよう【A1】

いま じかん ま ふんまえ じこく ちょうしん たんしん こた
今の時間を読んで、1分前の時刻と長針・短針を答えましょう。

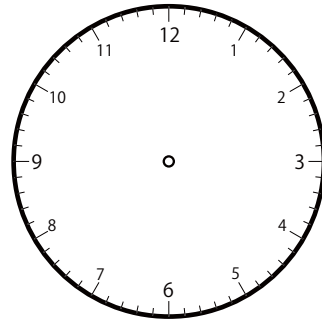
①



いま じかん
今の時間


5 時 49 分

ふんまえ
分前は



じ 時 ふん 分

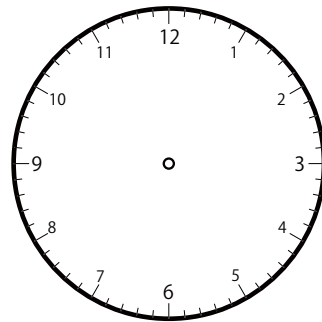
②



いま じかん
今の時間

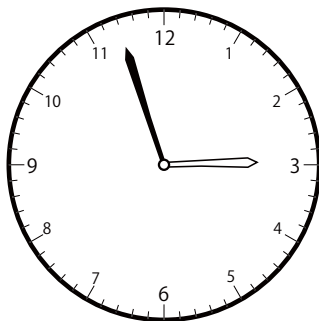
12 時 32 分

ふんまえ
分前は



じ 時 ふん 分

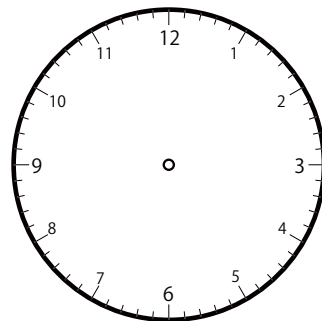
③



いま じかん
今の時間

2 時 57 分

ふんまえ
分前は

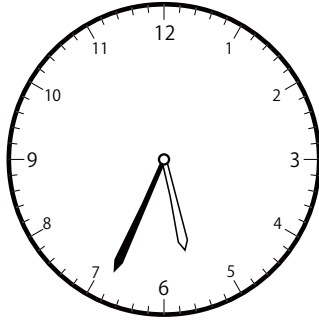


じ 時 ふん 分

ぶんまえ とけい よ こた
1分前の時計を読んで答えよう【A1】

いま じかん ま ふんまえ じこく ちょうしん たんしん こた
今の時間を読んで、1分前の時刻と長針・短針を答えましょう。

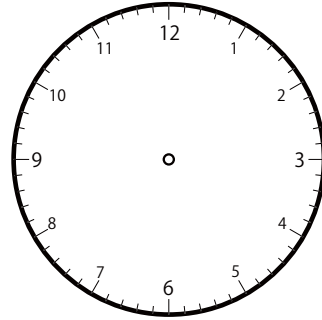
①



いま じかん
今の時間

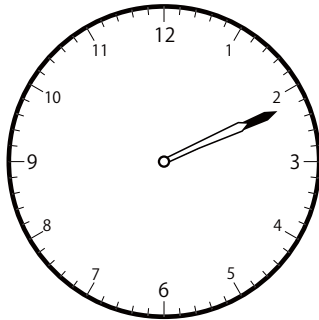
5 時 34 分

ふんまえ
分前は



じ 時 ふん 分

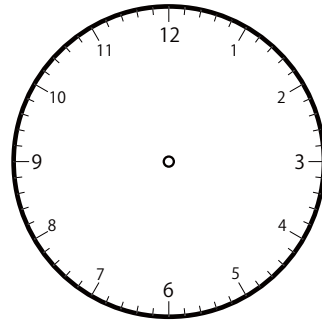
②



いま じかん
今の時間


2 時 11 分

ふんまえ
分前は



じ 時 ふん 分

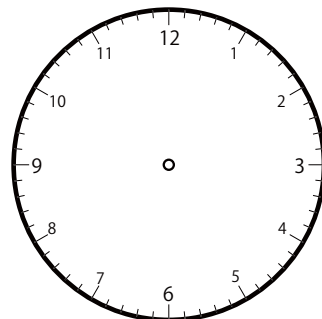
③



いま じかん
今の時間

11 時 56 分

ふんまえ
分前は



じ 時 ふん 分