


15分前の時計を読んで答えよう【B1】

今の時間を読んで、15分前の時刻と長針・短針を答えましょう。

(答え)

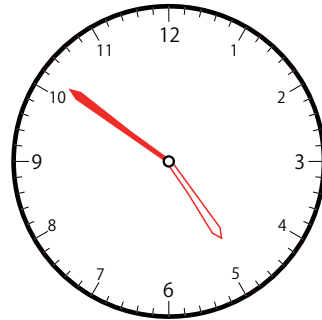
①



いま じ かん
今の時間

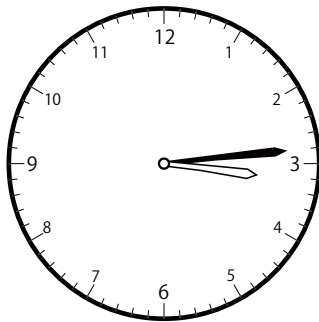
5 じ 6 ぶん

15 ぶんまえ
分前は



4 じ 51 ぶん

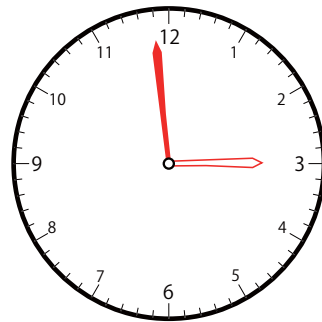
②



いま じ かん
今の時間


3 じ 14 ぶん

15 ぶんまえ
分前は



2 じ 59 ぶん

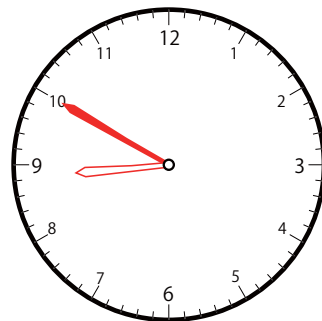
③



いま じ かん
今の時間

9 じ 5 ぶん

15 ぶんまえ
分前は




8 じ 50 ぶん

15分前の時計を読んで答えよう【B1】

今の時間を読んで、15分前の時刻と長針・短針を答えましょう。

こた
(答え)

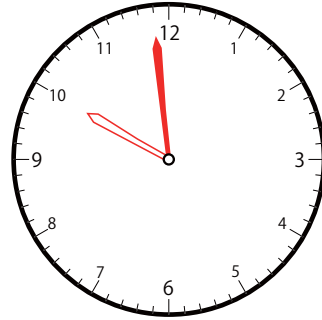
①



いま じ かん
今の時間

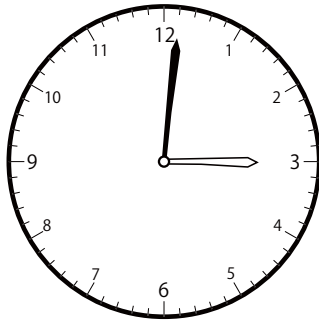
10 じ 14 ぶん

15 ぶんまえ
分前は



9 じ 59 ぶん

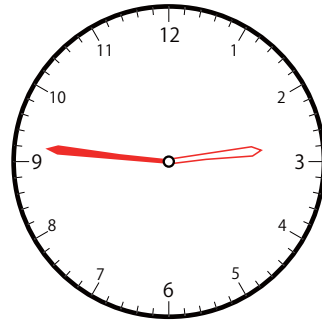
②



いま じ かん
今の時間


3 じ 1 ぶん

15 ぶんまえ
分前は



2 じ 46 ぶん

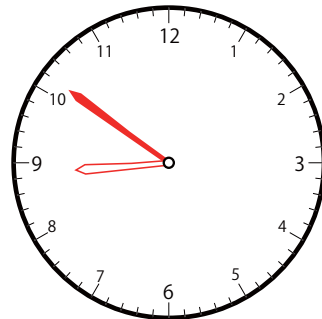
③



いま じ かん
今の時間

9 じ 6 ぶん

15 ぶんまえ
分前は




8 じ 51 ぶん

15分前の時計を読んで答えよう【B1】

今の時間を読んで、15分前の時刻と長針・短針を答えましょう。

(答え)

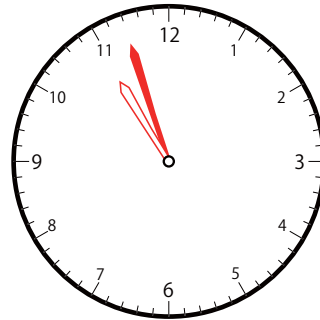
①



いま じ かん
今の時間

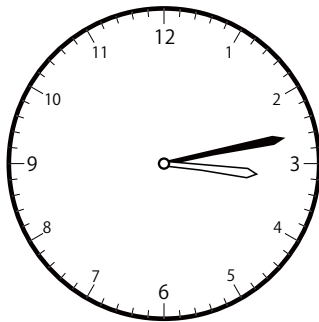
11 じ 12 ぶん

15 ぶんまえ
分前は



10 じ 57 ぶん

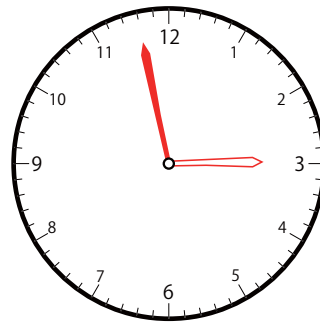
②



いま じ かん
今の時間

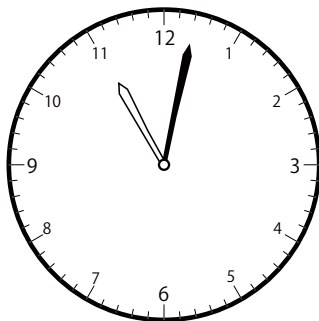
3 じ 13 ぶん

15 ぶんまえ
分前は



2 じ 58 ぶん

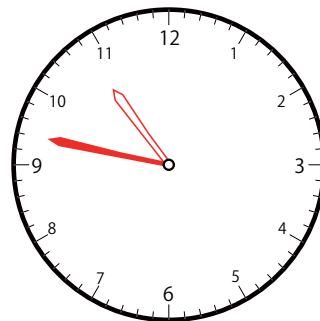
③



いま じ かん
今の時間

11 じ 2 ぶん

15 ぶんまえ
分前は



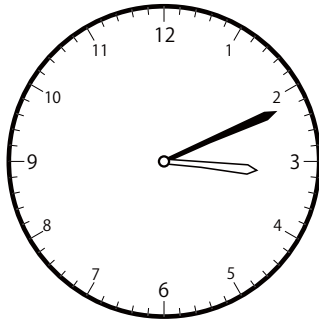
10 じ 47 ぶん

15分前の時計を読んで答えよう【B1】

今の時間を読んで、15分前の時刻と長針・短針を答えましょう。

こた
(答え)

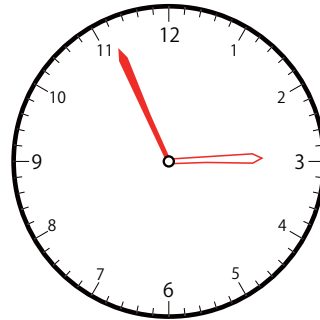
①



いま じ かん
今の時間


3 じ 11 ぶん

15 ぶんまえ
分前は



2 じ 56 ぶん

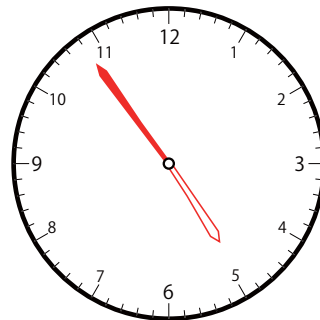
②



いま じ かん
今の時間


5 じ 9 ぶん

15 ぶんまえ
分前は



4 じ 54 ぶん

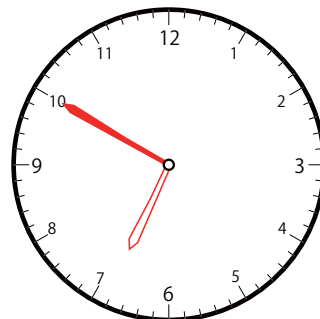
③



いま じ かん
今の時間

7 じ 5 ぶん

15 ぶんまえ
分前は




6 じ 50 ぶん

15分前の時計を読んで答えよう【B1】

今の時間を読んで、15分前の時刻と長針・短針を答えましょう。

(答え)

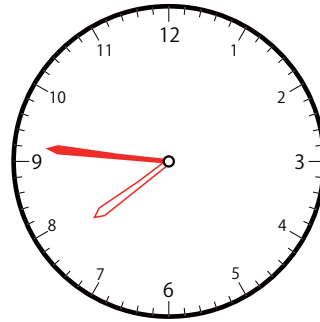
①



いま じ かん
今の時間


8 じ 1 ぶん

15 ぶんまえ
分前は



7 じ 46 ぶん

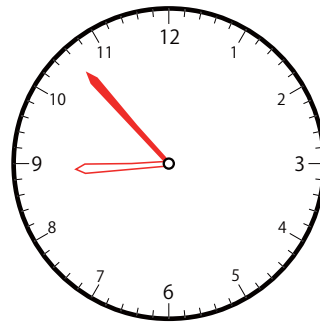
②



いま じ かん
今の時間

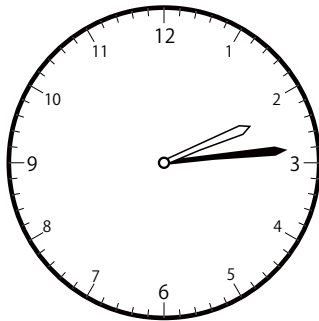
9 じ 8 ぶん

15 ぶんまえ
分前は



8 じ 53 ぶん

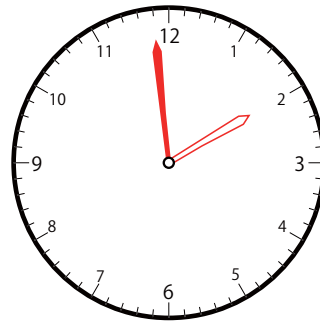
③



いま じ かん
今の時間

2 じ 14 ぶん

15 ぶんまえ
分前は



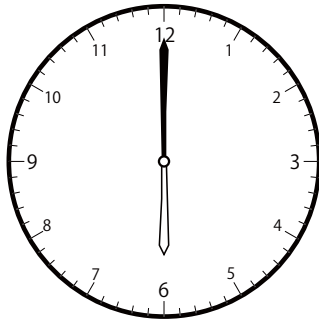
1 じ 59 ぶん

15分前の時計を読んで答えよう【B1】

今の時間を読んで、15分前の時刻と長針・短針を答えましょう。

(答え)

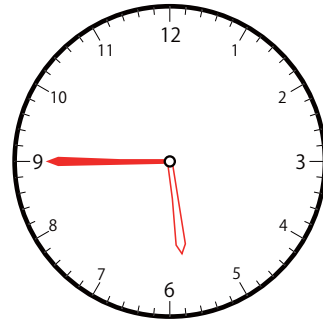
①



いま じ かん
今の時間


6 じ 0 分

15 分前は



5 じ 45 分

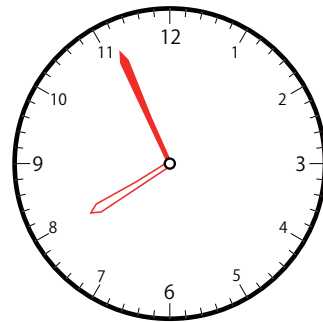
②



いま じ かん
今の時間

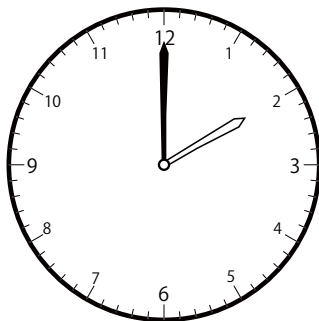
8 じ 11 分

15 分前は



7 じ 56 分

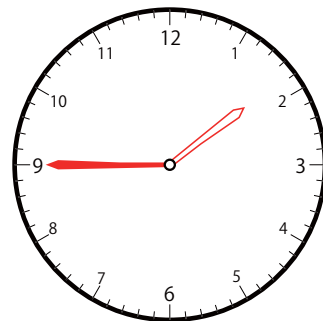
③



いま じ かん
今の時間

2 じ 0 分

15 分前は




1 じ 45 分

15分前の時計を読んで答えよう【B1】

今の時間を読んで、15分前の時刻と長針・短針を答えましょう。

(答え)

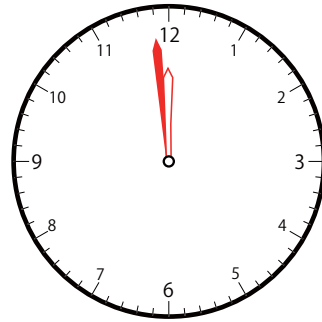
①



いま じ かん
今の時間

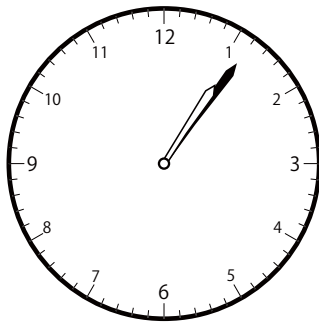
12 じ 14 ぶん

15 ぶんまえ
分前は



11 じ 59 ぶん

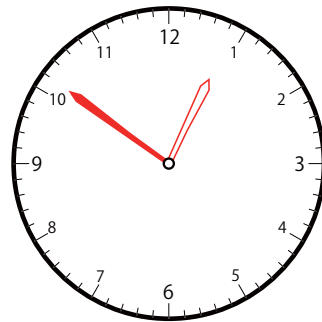
②



いま じ かん
今の時間


1 じ 6 ぶん

15 ぶんまえ
分前は



12 じ 51 ぶん

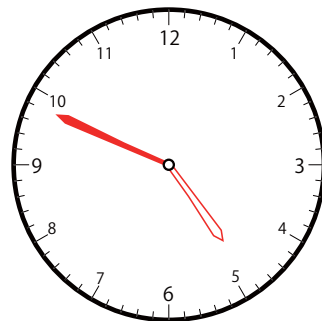
③



いま じ かん
今の時間

5 じ 4 ぶん

15 ぶんまえ
分前は




4 じ 49 ぶん

15分前の時計を読んで答えよう【B1】

今の時間を読んで、15分前の時刻と長針・短針を答えましょう。

こた
(答え)

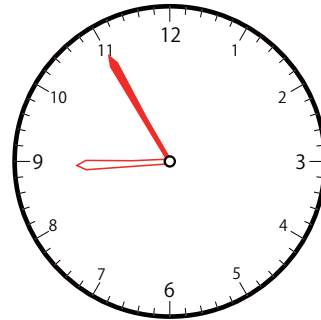
①



いま じ かん
今の時間


9 じ 10 ぶん

15 ぶんまえ
分前は



8 じ 55 ぶん

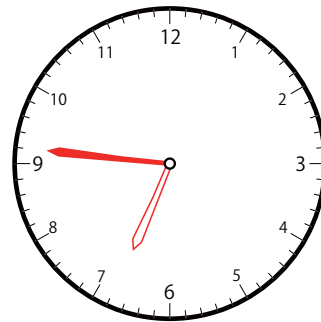
②



いま じ かん
今の時間


7 じ 1 ぶん

15 ぶんまえ
分前は



6 じ 46 ぶん

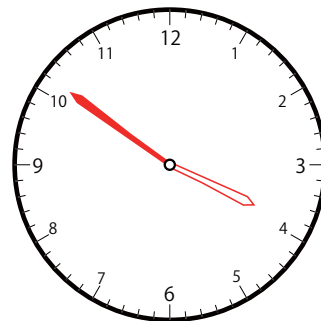
③



いま じ かん
今の時間

4 じ 6 ぶん

15 ぶんまえ
分前は




3 じ 51 ぶん

15分前の時計を読んで答えよう【B1】

今の時間を読んで、15分前の時刻と長針・短針を答えましょう。

(答え)

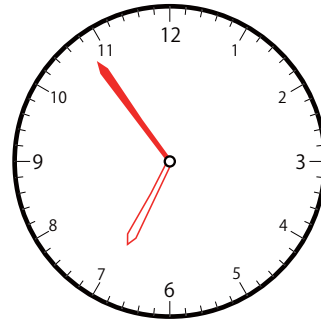
①



いま じ かん
今の時間


7 じ 9 ぶん

15 ぶんまえ
分前は



6 じ 54 ぶん

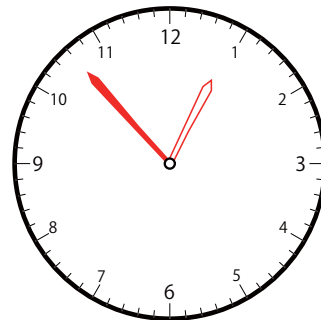
②



いま じ かん
今の時間


1 じ 8 ぶん

15 ぶんまえ
分前は



12 じ 53 ぶん

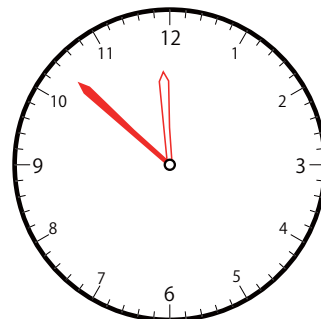
③



いま じ かん
今の時間

12 じ 7 ぶん

15 ぶんまえ
分前は




11 じ 52 ぶん

15分前の時計を読んで答えよう【B1】

今の時間を読んで、15分前の時刻と長針・短針を答えましょう。

(答え)

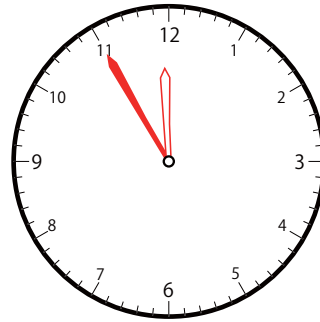
①



いま じ かん
今の時間


12 じ 10 ぶん

15 ぶんまえ
分前は



11 じ 55 ぶん

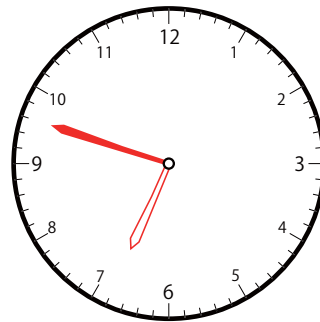
②



いま じ かん
今の時間


7 じ 30 ぶん

15 ぶんまえ
分前は



6 じ 48 ぶん

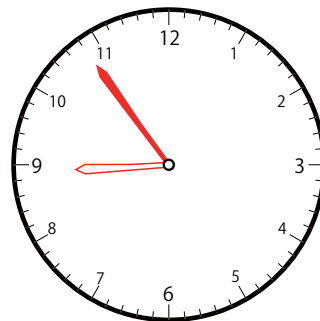
③



いま じ かん
今の時間

9 じ 9 ぶん

15 ぶんまえ
分前は




8 じ 54 ぶん

15分前の時計を読んで答えよう【B1】

今の時間を読んで、15分前の時刻と長針・短針を答えましょう。

(答え)

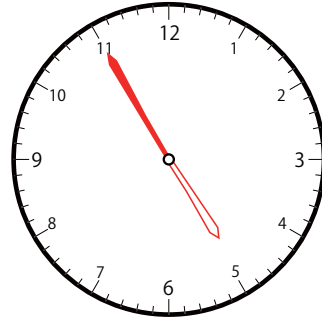
①



いま じ かん
今の時間


5 じ 10 ぶん

15 ぶんまえ
分前は



4 じ 55 ぶん

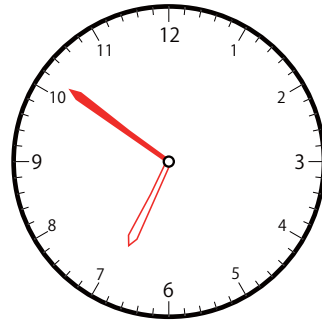
②



いま じ かん
今の時間

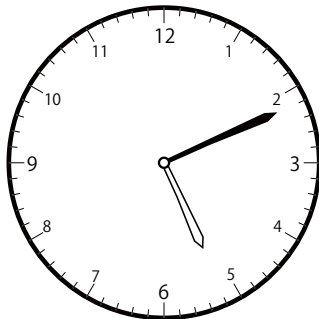
7 じ 6 ぶん

15 ぶんまえ
分前は



6 じ 51 ぶん

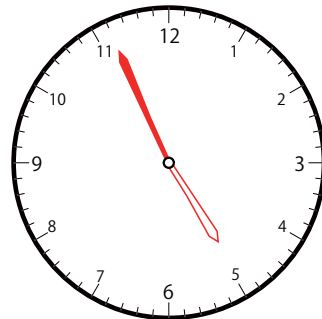
③



いま じ かん
今の時間

5 じ 11 ぶん

15 ぶんまえ
分前は



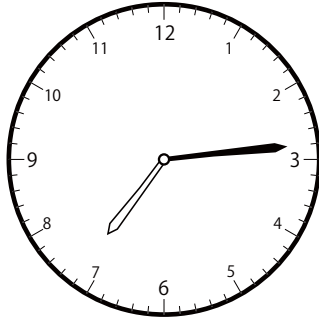
4 じ 56 ぶん

15分前の時計を読んで答えよう【B1】

今の時間を読んで、15分前の時刻と長針・短針を答えましょう。

こた
(答え)

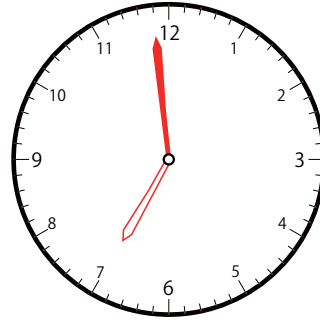
①



いま じ かん
今の時間


7 じ 14 ぶん

15 ぶんまえ
分前は



6 じ 59 ぶん

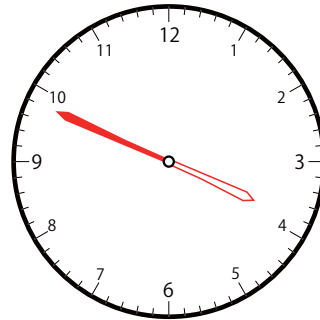
②



いま じ かん
今の時間


4 じ 4 ぶん

15 ぶんまえ
分前は



3 じ 49 ぶん

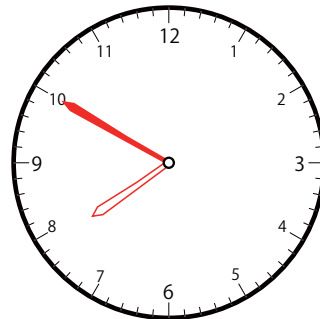
③



いま じ かん
今の時間

8 じ 5 ぶん

15 ぶんまえ
分前は




7 じ 50 ぶん

15分前の時計を読んで答えよう【B1】

今の時間を読んで、15分前の時刻と長針・短針を答えましょう。

(答え)

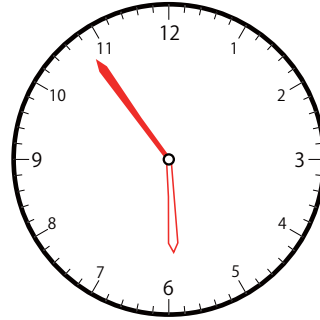
①



いま じ かん
今の時間


6 じ 9 ぶん

15 ぶんまえ
分前は



5 じ 54 ぶん

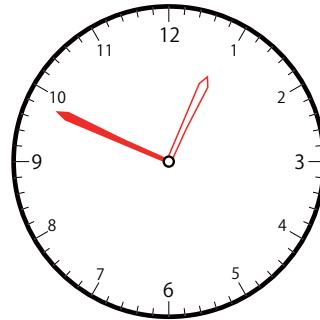
②



いま じ かん
今の時間

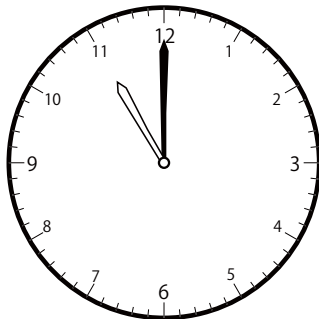
1 じ 4 ぶん

15 ぶんまえ
分前は



12 じ 49 ぶん

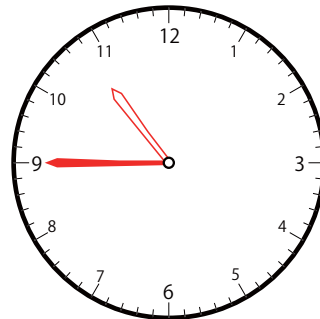
③



いま じ かん
今の時間

11 じ 0 ぶん

15 ぶんまえ
分前は



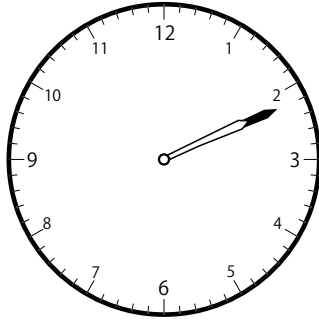
10 じ 45 ぶん

15分前の時計を読んで答えよう【B1】

今の時間を読んで、15分前の時刻と長針・短針を答えましょう。

こた
(答え)

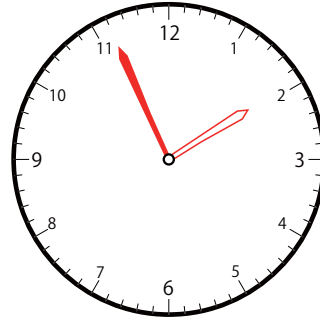
①



いま じ かん
今の時間


2 じ 11 ぶん

15 ぶんまえ
分前は



1 じ 56 ぶん

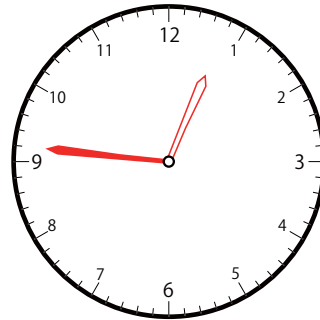
②



いま じ かん
今の時間


1 じ 1 ぶん

15 ぶんまえ
分前は



12 じ 46 ぶん

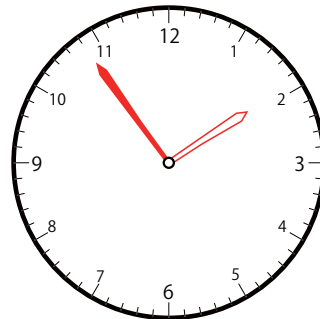
③



いま じ かん
今の時間

2 じ 9 ぶん

15 ぶんまえ
分前は




1 じ 54 ぶん

15分前の時計を読んで答えよう【B1】

今の時間を読んで、15分前の時刻と長針・短針を答えましょう。

(答え)

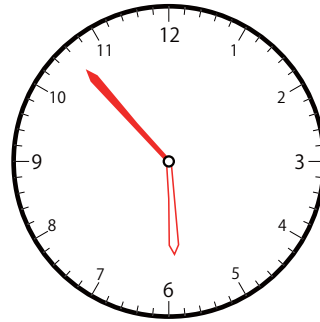
①



いま じ かん
今の時間


6 じ 8 ぶん

15 ぶんまえ
分前は



5 じ 53 ぶん

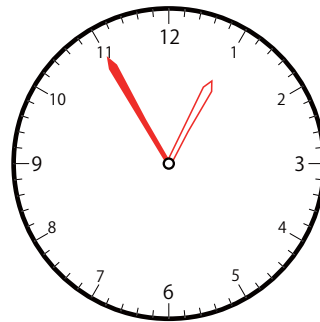
②



いま じ かん
今の時間


1 じ 10 ぶん

15 ぶんまえ
分前は



12 じ 55 ぶん

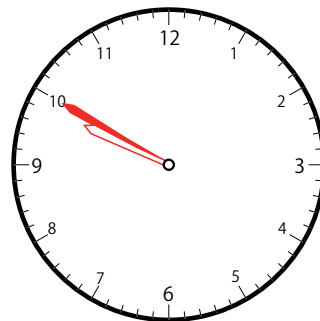
③



いま じ かん
今の時間

10 じ 5 ぶん

15 ぶんまえ
分前は




9 じ 50 ぶん

15分前の時計を読んで答えよう【B1】

今の時間を読んで、15分前の時刻と長針・短針を答えましょう。

(答え)

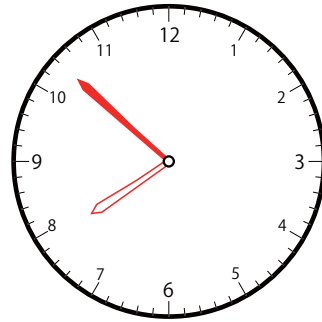
①



いま じ かん
今の時間


8 じ 7 ぶん

15 ぶんまえ
分前は



7 じ 52 ぶん

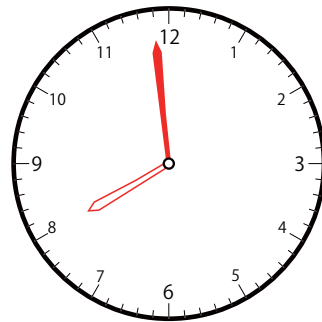
②



いま じ かん
今の時間


8 じ 14 ぶん

15 ぶんまえ
分前は



7 じ 59 ぶん

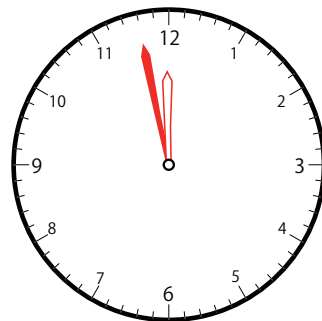
③



いま じ かん
今の時間

12 じ 13 ぶん

15 ぶんまえ
分前は




11 じ 58 ぶん

15分前の時計を読んで答えよう【B1】

今の時間を読んで、15分前の時刻と長針・短針を答えましょう。

(答え)

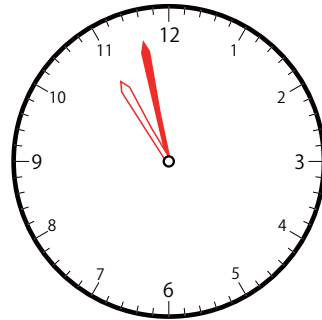
①



いま じ かん
今の時間

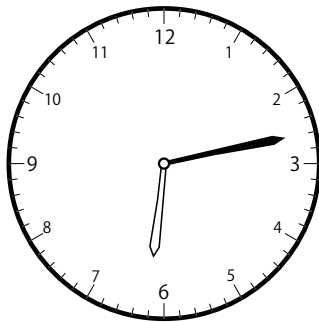
11 じ 13 ぶん

15 ぶんまえ
分前は



10 じ 58 ぶん

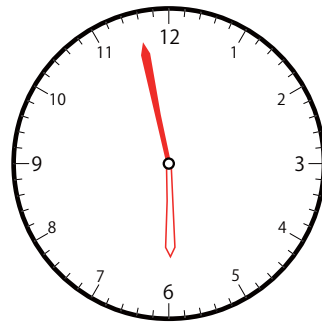
②



いま じ かん
今の時間


6 じ 13 ぶん

15 ぶんまえ
分前は



5 じ 58 ぶん

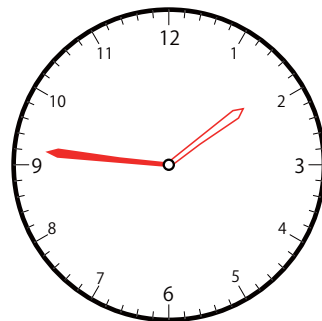
③



いま じ かん
今の時間

2 じ 1 ぶん

15 ぶんまえ
分前は




1 じ 46 ぶん

15分前の時計を読んで答えよう【B1】

今の時間を読んで、15分前の時刻と長針・短針を答えましょう。

(答え)

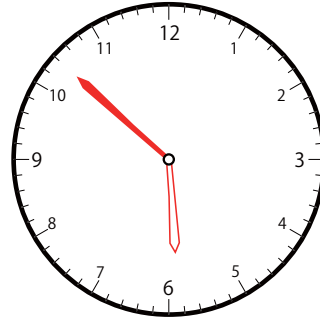
①



いま じ かん
今の時間


6 じ 7 ぶん

15 ぶんまえ
分前は



5 じ 52 ぶん

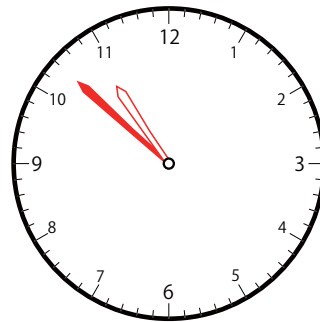
②



いま じ かん
今の時間


11 じ 7 ぶん

15 ぶんまえ
分前は



10 じ 52 ぶん

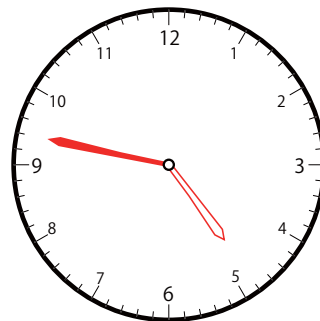
③



いま じ かん
今の時間

5 じ 2 ぶん

15 ぶんまえ
分前は




4 じ 47 ぶん

15分前の時計を読んで答えよう【B1】

今の時間を読んで、15分前の時刻と長針・短針を答えましょう。

(答え)

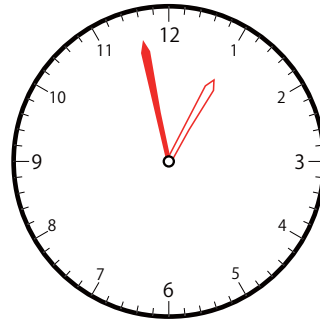
①



いま じ かん
今の時間

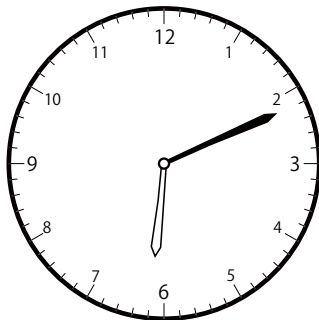
1 じ 13 ぶん

15 ぶんまえ
分前は



12 じ 58 ぶん

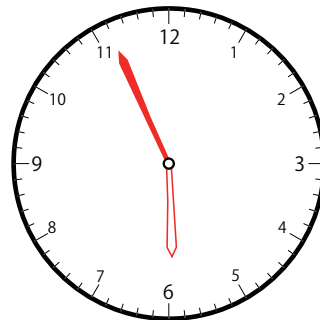
②



いま じ かん
今の時間

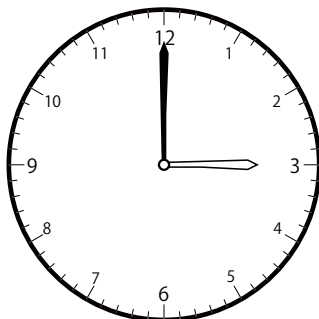
6 じ 11 ぶん

15 ぶんまえ
分前は



5 じ 56 ぶん

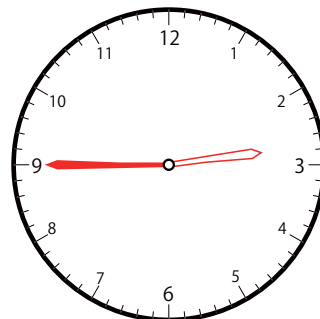
③



いま じ かん
今の時間

3 じ 0 ぶん

15 ぶんまえ
分前は




2 じ 45 ぶん

15分前の時計を読んで答えよう【B1】

今の時間を読んで、15分前の時刻と長針・短針を答えましょう。

(答え)

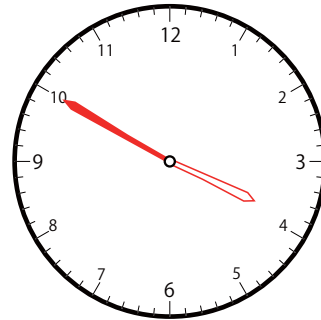
①



いま じ かん
今の時間


4 じ 5 ぶん

15 ぶんまえ
分前は



3 じ 50 ぶん

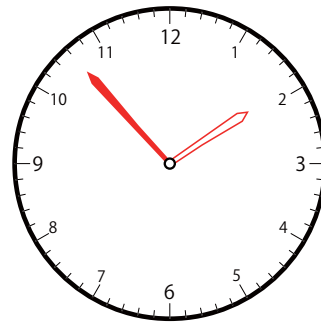
②



いま じ かん
今の時間


2 じ 8 ぶん

15 ぶんまえ
分前は



1 じ 53 ぶん

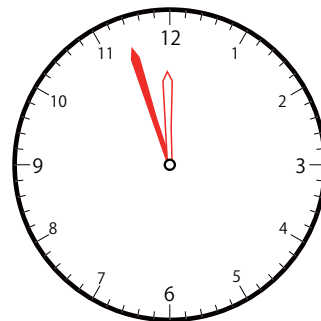
③



いま じ かん
今の時間

12 じ 12 ぶん

15 ぶんまえ
分前は




11 じ 57 ぶん

15分前の時計を読んで答えよう【B1】

今の時間を読んで、15分前の時刻と長針・短針を答えましょう。

こた
(答え)

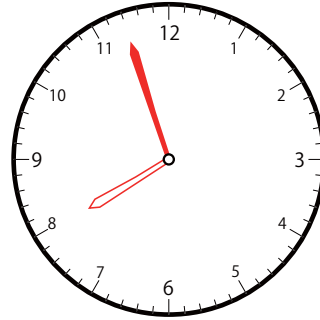
①



いま じ かん
今の時間


8 じ 12 ぶん

15 ぶんまえ
分前は



7 じ 57 ぶん

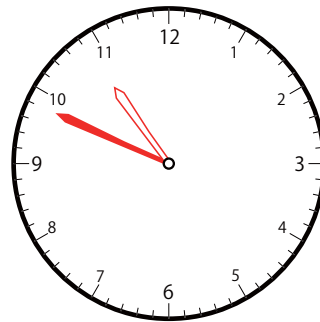
②



いま じ かん
今の時間


11 じ 4 ぶん

15 ぶんまえ
分前は



10 じ 49 ぶん

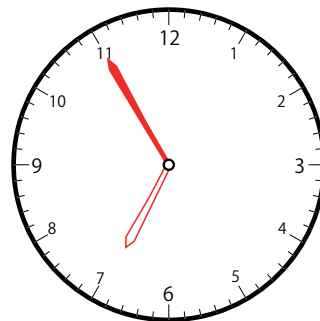
③



いま じ かん
今の時間

7 じ 10 ぶん

15 ぶんまえ
分前は



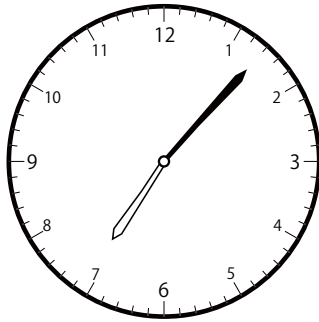
6 じ 55 ぶん

15分前の時計を読んで答えよう【B1】

今の時間を読んで、15分前の時刻と長針・短針を答えましょう。

(答え)

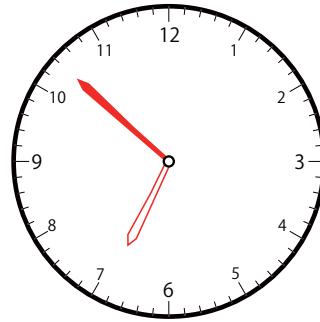
①



いま じ かん
今の時間


7 じ 7 ぶん

15 ぶんまえ
分前は



6 じ 52 ぶん

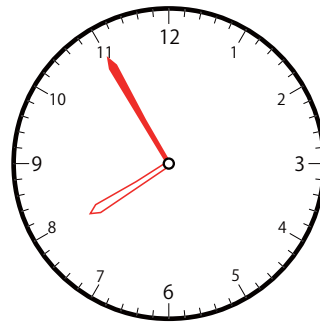
②



いま じ かん
今の時間


8 じ 10 ぶん

15 ぶんまえ
分前は



7 じ 55 ぶん

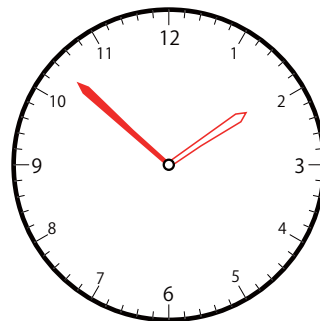
③



いま じ かん
今の時間

2 じ 7 ぶん

15 ぶんまえ
分前は




1 じ 52 ぶん

15分前の時計を読んで答えよう【B1】

今の時間を読んで、15分前の時刻と長針・短針を答えましょう。

(答え)

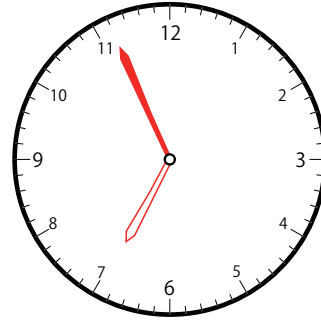
①



いま じ かん
今の時間


7 じ 11 ぶん
7時11分

15 ぶんまえ
分前は



6 じ 56 ぶん
6時56分

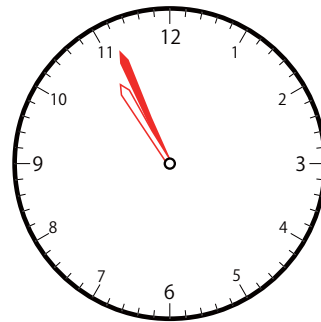
②



いま じ かん
今の時間


11 じ 11 ぶん
11時11分

15 ぶんまえ
分前は



10 じ 56 ぶん
10時56分

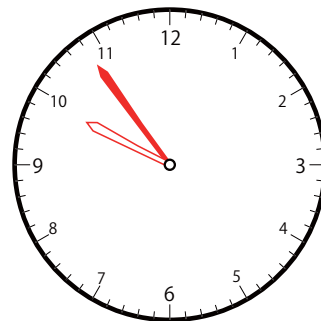
③



いま じ かん
今の時間

10 じ 9 ぶん
10時9分

15 ぶんまえ
分前は




9 じ 54 ぶん
9時54分

15分前の時計を読んで答えよう【B1】

今の時間を読んで、15分前の時刻と長針・短針を答えましょう。

(答え)

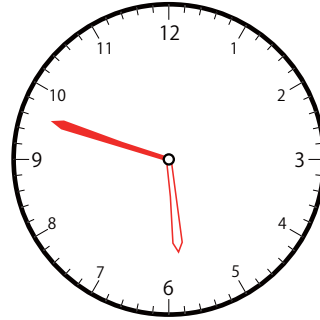
①



いま じ かん
今の時間


6 じ 3 ぶん

15 ぶんまえ
分前は



5 じ 48 ぶん

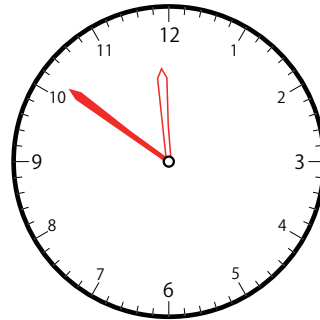
②



いま じ かん
今の時間

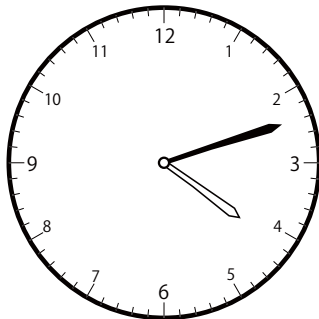
12 じ 6 ぶん

15 ぶんまえ
分前は



11 じ 51 ぶん

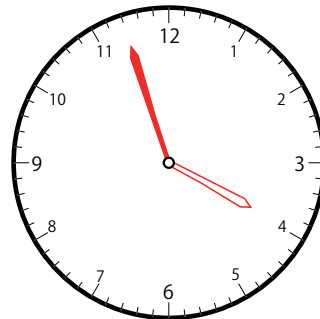
③



いま じ かん
今の時間

4 じ 12 ぶん

15 ぶんまえ
分前は




3 じ 57 ぶん

15分前の時計を読んで答えよう【B1】

今の時間を読んで、15分前の時刻と長針・短針を答えましょう。

(答え)

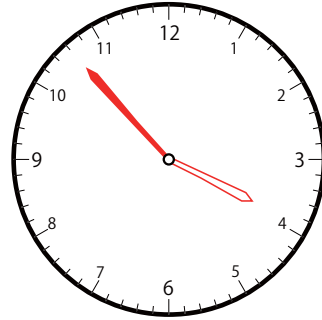
①



いま じ かん
今の時間

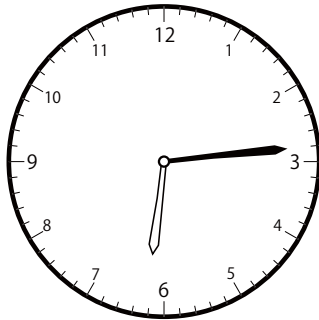
4 じ 8 ぶん

15 ぶんまえ
分前は



3 じ 53 ぶん

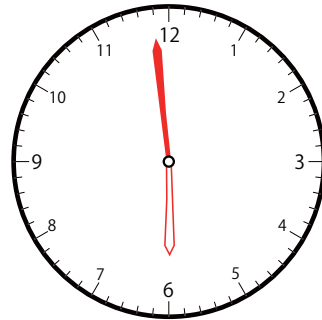
②



いま じ かん
今の時間


6 じ 14 ぶん

15 ぶんまえ
分前は



5 じ 59 ぶん

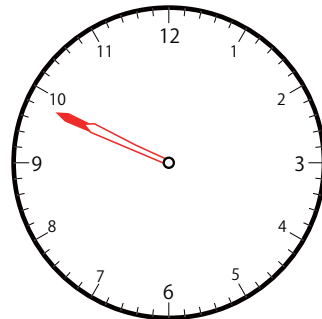
③



いま じ かん
今の時間

10 じ 4 ぶん

15 ぶんまえ
分前は




9 じ 49 ぶん

15分前の時計を読んで答えよう【B1】

いまの時間を読んで、15分前の時刻と長針・短針を答えましょう。

こた
(答え)

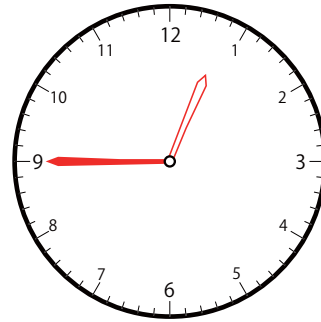
①



いまの時間


1時0分

15分前は



12時45分

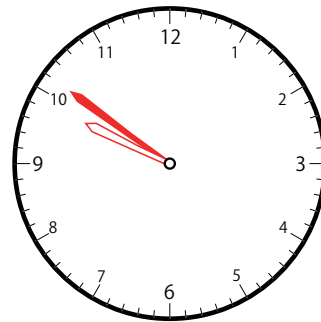
②



いまの時間


10時6分

15分前は



9時51分

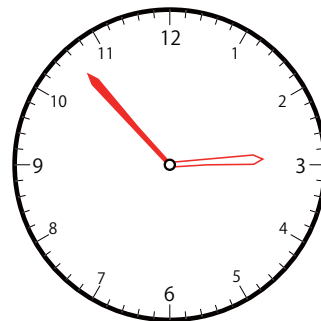
③



いまの時間

3時8分

15分前は




2時53分

15分前の時計を読んで答えよう【B1】

今の時間を読んで、15分前の時刻と長針・短針を答えましょう。

(答え)

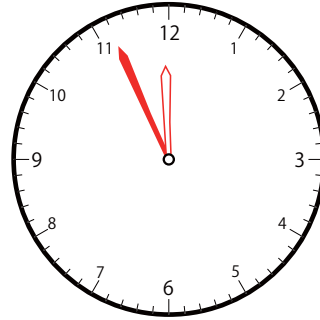
①



いま じ かん
今の時間


12 じ 11 ぶん

15 ぶんまえ
分前は



11 じ 56 ぶん

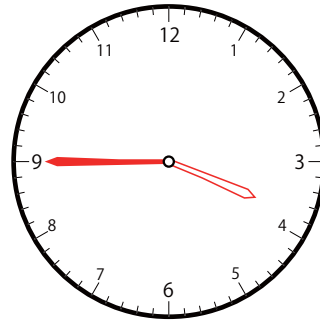
②



いま じ かん
今の時間

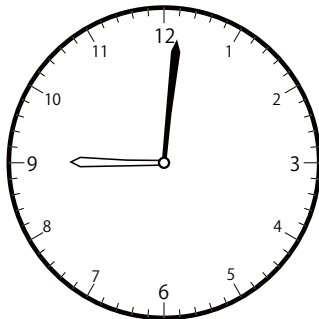
4 じ 0 ぶん

15 ぶんまえ
分前は



3 じ 45 ぶん

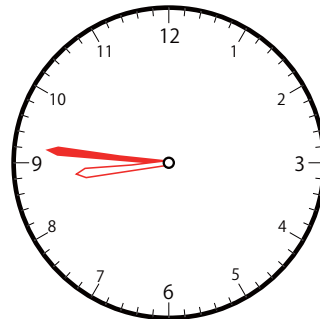
③



いま じ かん
今の時間

9 じ 1 ぶん

15 ぶんまえ
分前は




8 じ 46 ぶん

15分前の時計を読んで答えよう【B1】

今の時間を読んで、15分前の時刻と長針・短針を答えましょう。

(答え)

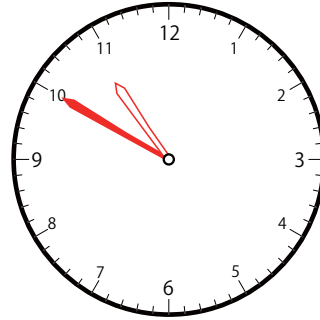
①



いま じ かん
今の時間

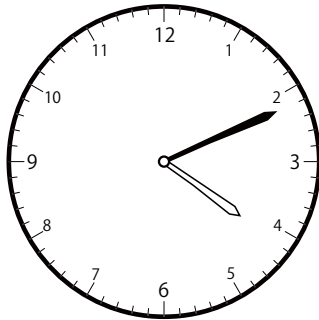
11 じ 5 ぶん

15 ぶんまえ
分前は



10 じ 50 ぶん

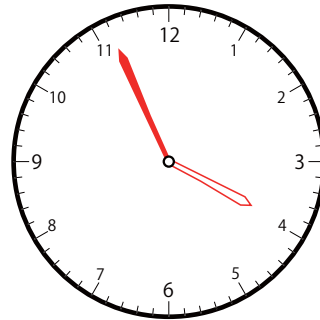
②



いま じ かん
今の時間


4 じ 11 ぶん

15 ぶんまえ
分前は



3 じ 56 ぶん

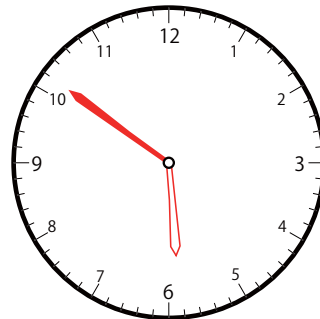
③



いま じ かん
今の時間

6 じ 6 ぶん

15 ぶんまえ
分前は




5 じ 51 ぶん

15分前の時計を読んで答えよう【B1】

今の時間を読んで、15分前の時刻と長針・短針を答えましょう。

(答え)

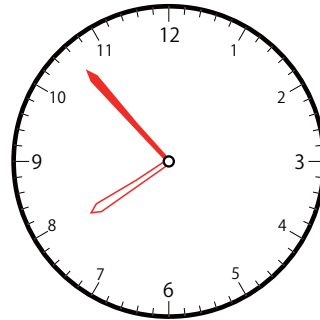
①



いま じ かん
今の時間


8 じ 8 ぶん

15 ぶんまえ
分前は



7 じ 53 ぶん

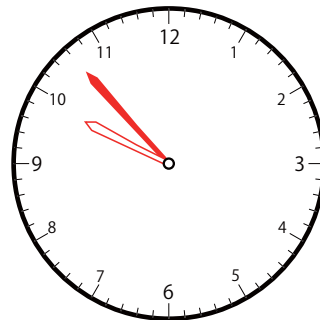
②



いま じ かん
今の時間


10 じ 8 ぶん

15 ぶんまえ
分前は



9 じ 53 ぶん

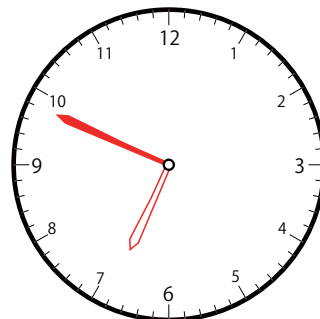
③



いま じ かん
今の時間

7 じ 4 ぶん

15 ぶんまえ
分前は




6 じ 49 ぶん

15分前の時計を読んで答えよう【B1】

今の時間を読んで、15分前の時刻と長針・短針を答えましょう。

(答え)

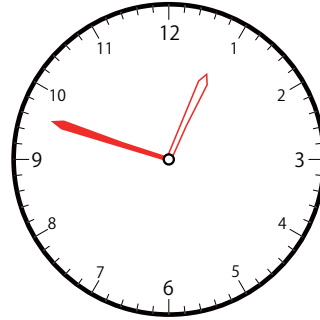
①



いま じ かん
今の時間

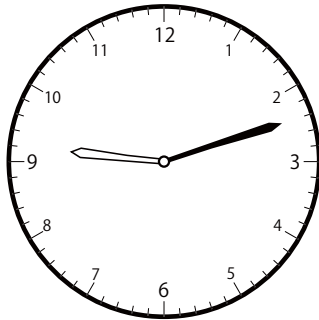
1 じ 3 ぶん

15 ぶんまえ
分前は



12 じ 48 ぶん

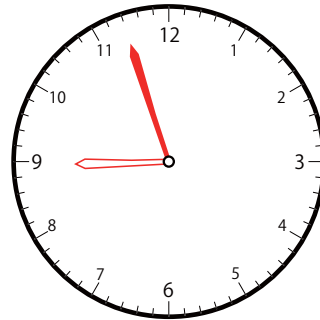
②



いま じ かん
今の時間


9 じ 12 ぶん

15 ぶんまえ
分前は



8 じ 57 ぶん

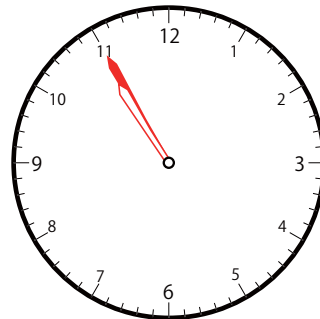
③



いま じ かん
今の時間

11 じ 10 ぶん

15 ぶんまえ
分前は




10 じ 55 ぶん

15分前の時計を読んで答えよう【B1】

今の時間を読んで、15分前の時刻と長針・短針を答えましょう。

(答え)

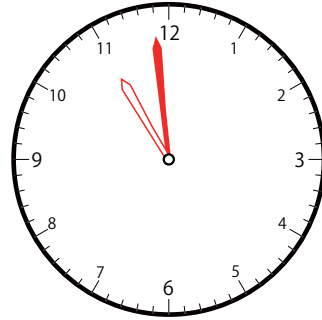
①



いま じ かん
今の時間

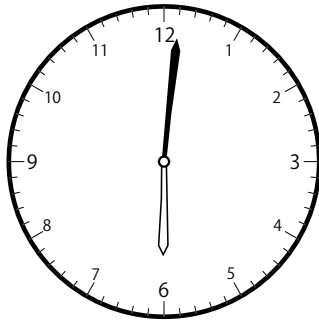
11 じ 14 ぶん

15 ぶんまえ
分前は



10 じ 59 ぶん

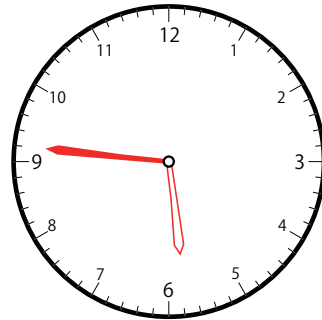
②



いま じ かん
今の時間

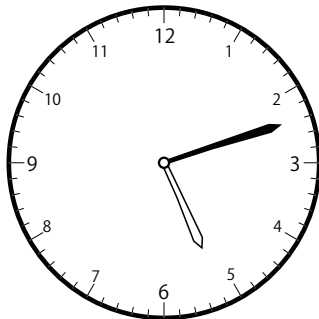
6 じ 1 ぶん

15 ぶんまえ
分前は



5 じ 46 ぶん

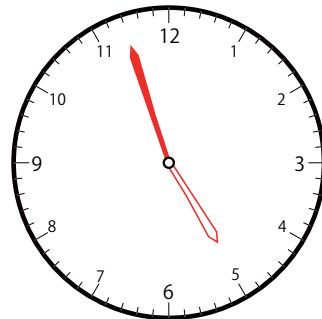
③



いま じ かん
今の時間

5 じ 12 ぶん

15 ぶんまえ
分前は




4 じ 57 ぶん

15分前の時計を読んで答えよう【B1】

今の時間を読んで、15分前の時刻と長針・短針を答えましょう。

こた
(答え)

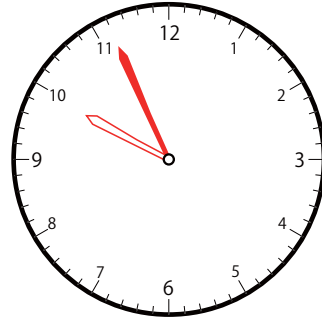
①



いま じ かん
今の時間


10 じ 11 ぶん

15 ぶんまえ
分前は



9 じ 56 ぶん

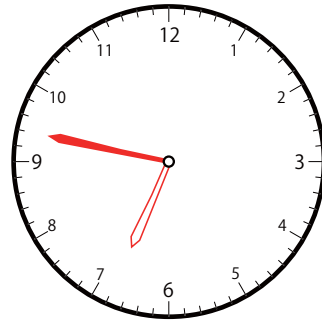
②



いま じ かん
今の時間

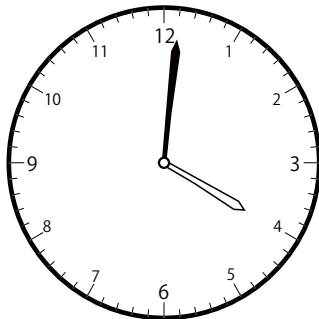
7 じ 2 ぶん

15 ぶんまえ
分前は



6 じ 47 ぶん

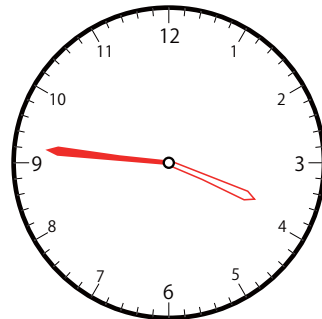
③



いま じ かん
今の時間

4 じ 1 ぶん

15 ぶんまえ
分前は




3 じ 46 ぶん

15分前の時計を読んで答えよう【B1】

今の時間を読んで、15分前の時刻と長針・短針を答えましょう。

こた
(答え)

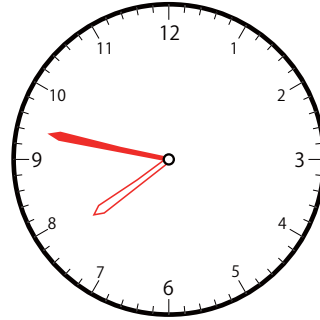
①



いま じ かん
今の時間


8 じ 2 ぶん

15 ぶんまえ
分前は



7 じ 47 ぶん

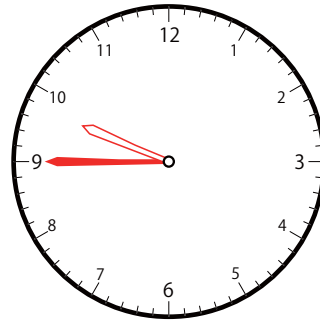
②



いま じ かん
今の時間

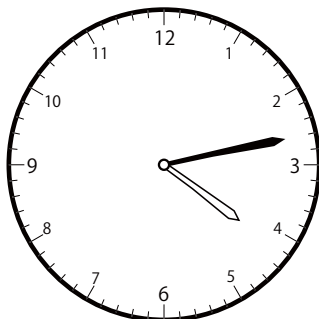
10 じ 0 ぶん

15 ぶんまえ
分前は



9 じ 45 ぶん

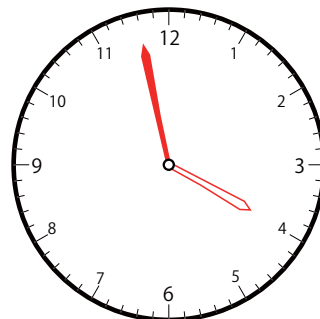
③



いま じ かん
今の時間

4 じ 13 ぶん

15 ぶんまえ
分前は




3 じ 58 ぶん

15分前の時計を読んで答えよう【B1】

今の時間を読んで、15分前の時刻と長針・短針を答えましょう。

(答え)

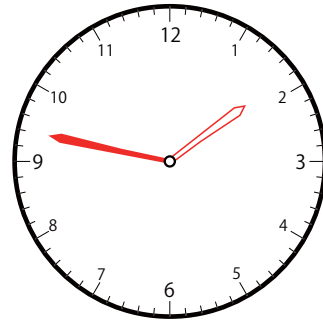
①



いま じ かん
今の時間


2 じ 2 ぶん

15 ぶんまえ
分前は



1 じ 47 ぶん

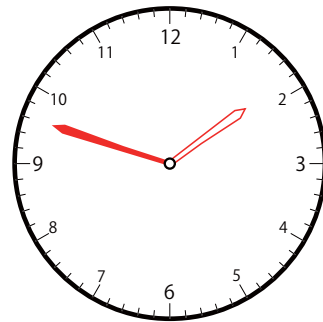
②



いま じ かん
今の時間


2 じ 3 ぶん

15 ぶんまえ
分前は



1 じ 48 ぶん

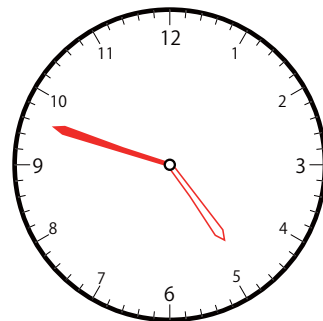
③



いま じ かん
今の時間

5 じ 3 ぶん

15 ぶんまえ
分前は




4 じ 48 ぶん

15分前の時計を読んで答えよう【B1】

今の時間を読んで、15分前の時刻と長針・短針を答えましょう。

(答え)

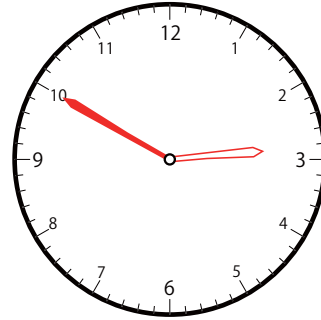
①



いま じ かん
今の時間

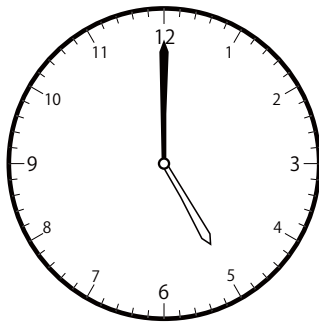
3 じ 5 分

15 分前は



2 じ 50 分

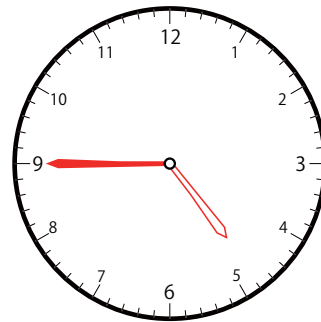
②



いま じ かん
今の時間


5 じ 0 分

15 分前は



4 じ 45 分

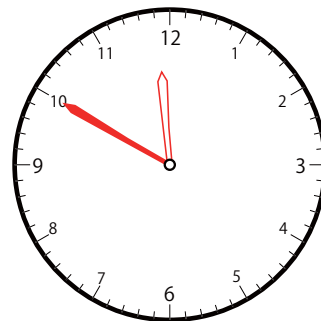
③



いま じ かん
今の時間

12 じ 5 分

15 分前は




11 じ 50 分

15分前の時計を読んで答えよう【B1】

今の時間を読んで、15分前の時刻と長針・短針を答えましょう。

(答え)

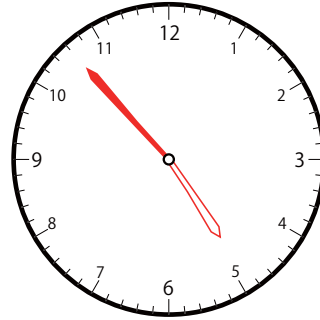
①



いま じ かん
今の時間


5 じ 8 ぶん

15 ぶんまえ
分前は



4 じ 53 ぶん

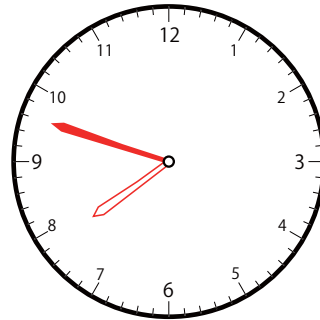
②



いま じ かん
今の時間


8 じ 3 ぶん

15 ぶんまえ
分前は



7 じ 48 ぶん

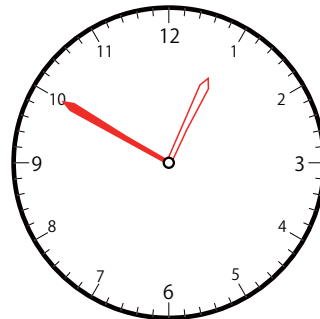
③



いま じ かん
今の時間

1 じ 5 ぶん

15 ぶんまえ
分前は




12 じ 50 ぶん

15分前の時計を読んで答えよう【B1】

今の時間を読んで、15分前の時刻と長針・短針を答えましょう。

(答え)

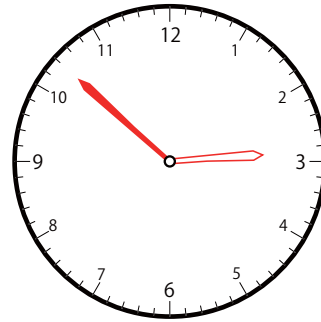
①



いま じ かん
今の時間


3 じ 7 分

15 分前は



2 じ 52 分

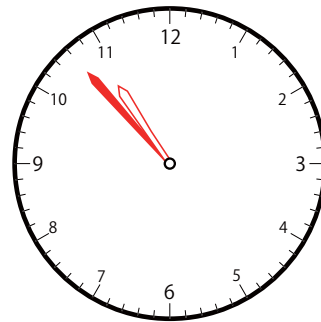
②



いま じ かん
今の時間


11 じ 8 分

15 分前は



10 じ 53 分

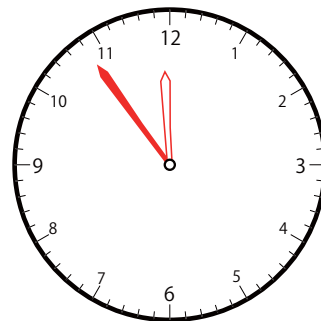
③



いま じ かん
今の時間

12 じ 9 分

15 分前は




11 じ 54 分

15分前の時計を読んで答えよう【B1】

今の時間を読んで、15分前の時刻と長針・短針を答えましょう。

こた
(答え)

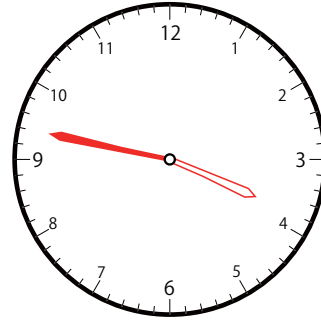
①



いま じ かん
今の時間


4 じ 2 ぶん

15 ぶんまえ
分前は



3 じ 47 ぶん

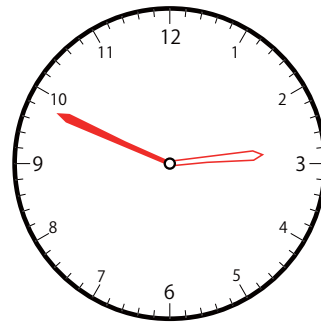
②



いま じ かん
今の時間


3 じ 4 ぶん

15 ぶんまえ
分前は



2 じ 49 ぶん

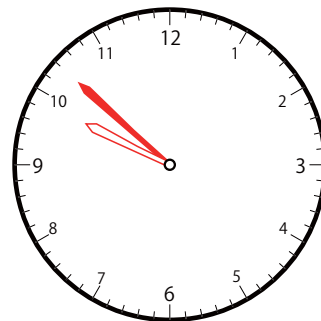
③



いま じ かん
今の時間

10 じ 7 ぶん

15 ぶんまえ
分前は




9 じ 52 ぶん

15分前の時計を読んで答えよう【B1】

今の時間を読んで、15分前の時刻と長針・短針を答えましょう。

(答え)

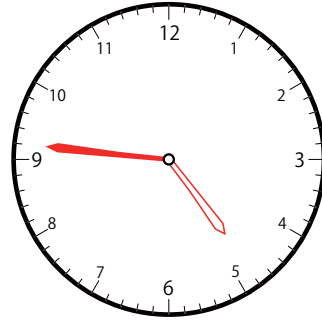
①



いま じ かん
今の時間


5 じ 1 ぶん

15 ぶんまえ
分前は



4 じ 46 ぶん

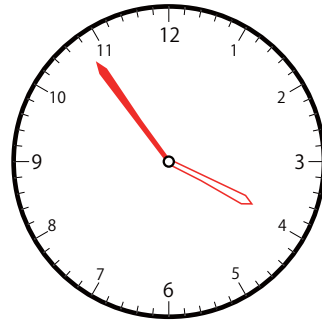
②



いま じ かん
今の時間

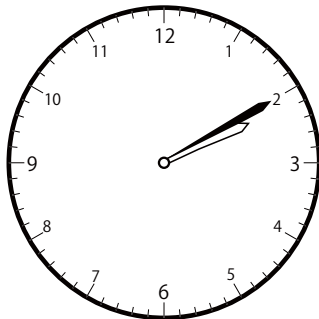
4 じ 9 ぶん

15 ぶんまえ
分前は



3 じ 54 ぶん

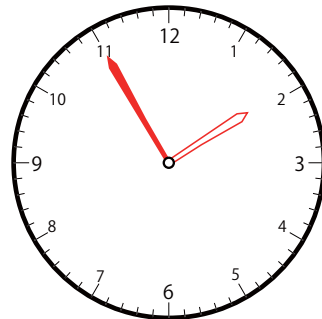
③



いま じ かん
今の時間

2 じ 10 ぶん

15 ぶんまえ
分前は




1 じ 55 ぶん

15分前の時計を読んで答えよう【B1】

今の時間を読んで、15分前の時刻と長針・短針を答えましょう。

(答え)

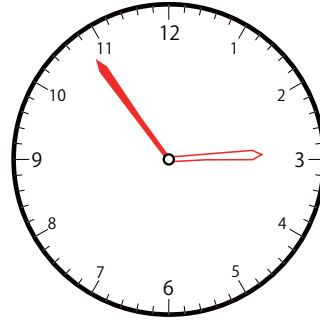
①



いま じ かん
今の時間


3 じ 9 分

15 分前は



2 じ 54 分

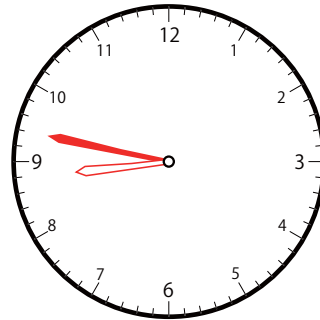
②



いま じ かん
今の時間


9 じ 2 分

15 分前は



8 じ 47 分

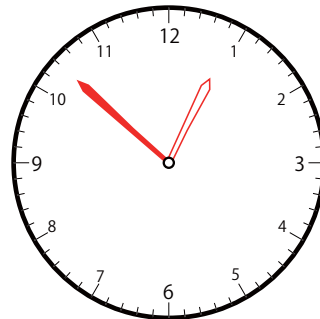
③



いま じ かん
今の時間

1 じ 7 分

15 分前は




12 じ 52 分

15分前の時計を読んで答えよう【B1】

今の時間を読んで、15分前の時刻と長針・短針を答えましょう。

(答え)

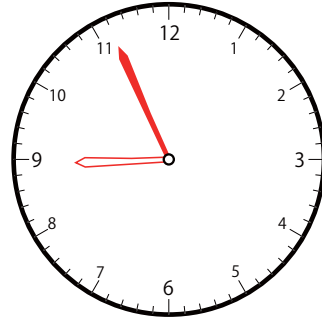
①



いま じ かん
今の時間


9 じ 11 ぶん

15 ぶんまえ
分前は



8 じ 56 ぶん

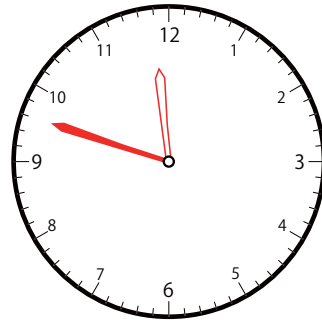
②



いま じ かん
今の時間


12 じ 3 ぶん

15 ぶんまえ
分前は



11 じ 48 ぶん

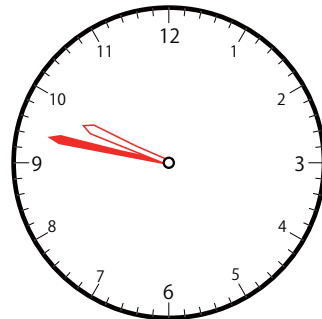
③



いま じ かん
今の時間

10 じ 2 ぶん

15 ぶんまえ
分前は



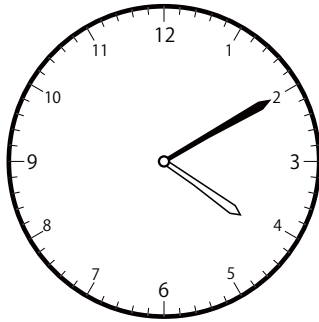
9 じ 47 ぶん

15分前の時計を読んで答えよう【B1】

今の時間を読んで、15分前の時刻と長針・短針を答えましょう。

(答え)

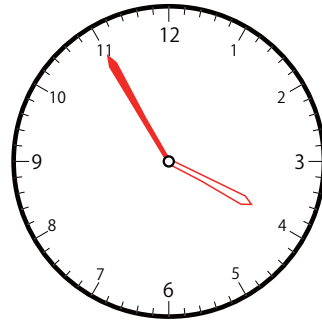
①



いま じ かん
今の時間


4 じ 10 ぶん

15 ぶんまえ
分前は



3 じ 55 ぶん

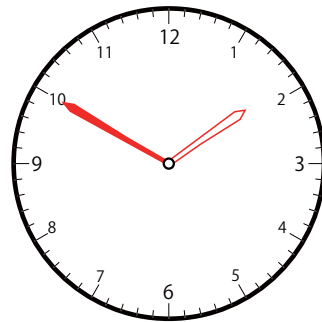
②



いま じ かん
今の時間


2 じ 5 ぶん

15 ぶんまえ
分前は



1 じ 50 ぶん

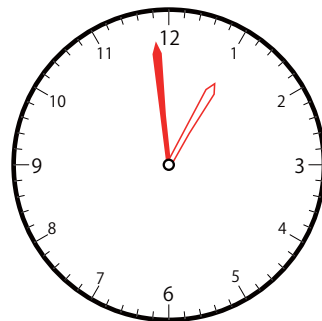
③



いま じ かん
今の時間

1 じ 14 ぶん

15 ぶんまえ
分前は



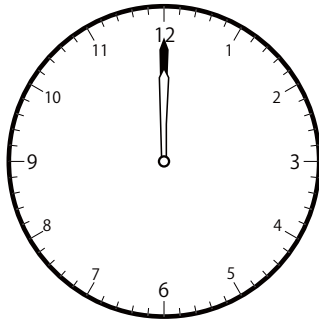
12 じ 59 ぶん

15分前の時計を読んで答えよう【B1】

今の時間を読んで、15分前の時刻と長針・短針を答えましょう。

(答え)

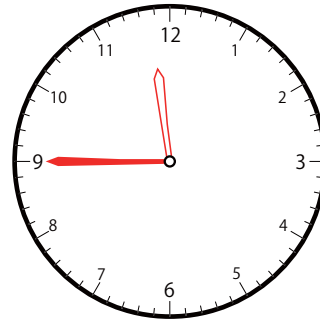
①



いま じ かん
今の時間


12 じ 0 分

15 分前は



11 じ 45 分

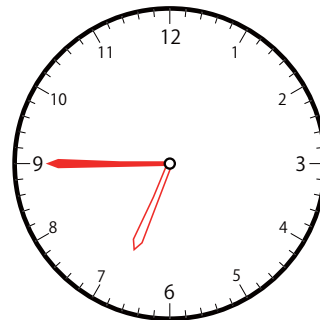
②



いま じ かん
今の時間


7 じ 0 分

15 分前は



6 じ 45 分

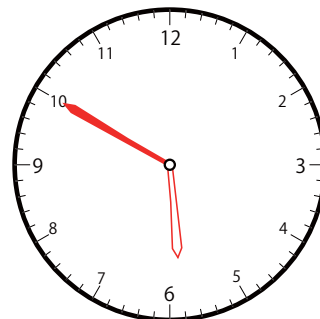
③



いま じ かん
今の時間

6 じ 5 分

15 分前は




5 じ 50 分

15分前の時計を読んで答えよう【B1】

今の時間を読んで、15分前の時刻と長針・短針を答えましょう。

(答え)

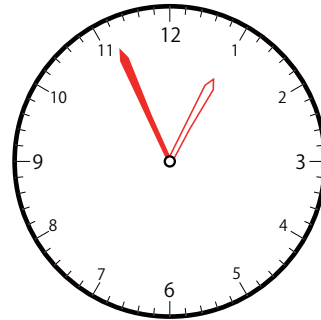
①



いま じ かん
今の時間


1 時 15 分

15分前は



12 時 56 分

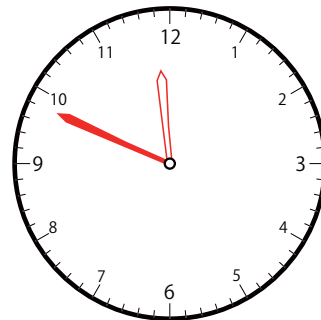
②



いま じ かん
今の時間

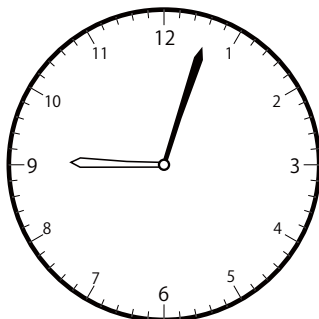
12 時 4 分

15分前は



11 時 49 分

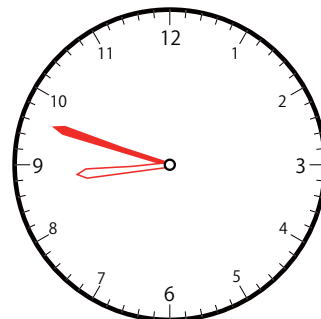
③



いま じ かん
今の時間

9 時 3 分

15分前は




8 時 48 分

15分前の時計を読んで答えよう【B1】

今の時間を読んで、15分前の時刻と長針・短針を答えましょう。

(答え)

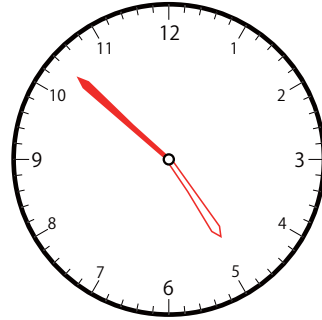
①



いま じ かん
今の時間

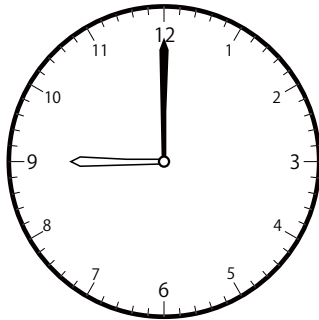
5 じ 7 ぶん

15 ぶんまえ
分前は



4 じ 52 ぶん

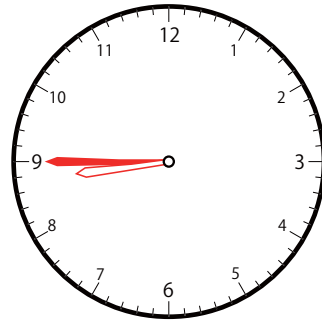
②



いま じ かん
今の時間

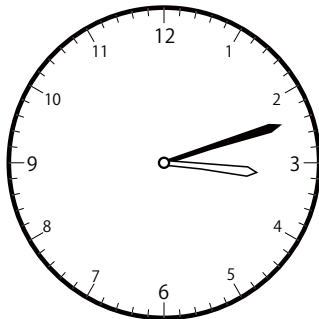
9 じ 0 ぶん

15 ぶんまえ
分前は



8 じ 45 ぶん

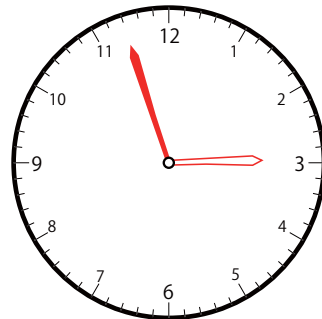
③



いま じ かん
今の時間

3 じ 12 ぶん

15 ぶんまえ
分前は



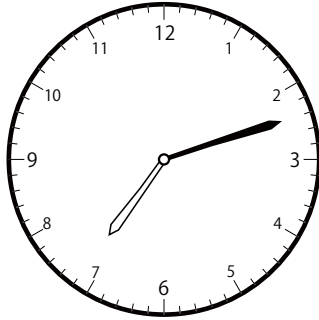
2 じ 57 ぶん

15分前の時計を読んで答えよう【B1】

今の時間を読んで、15分前の時刻と長針・短針を答えましょう。

こた
(答え)

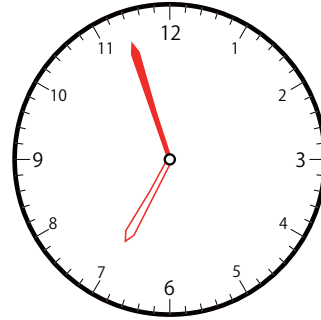
①



いま じ かん
今の時間


7 じ 12 ぶん

15 ぶんまえ
分前は



6 じ 57 ぶん

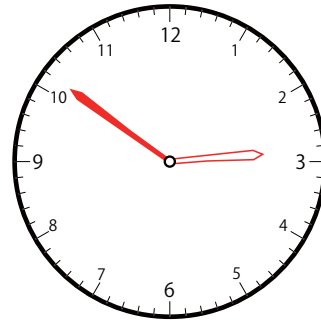
②



いま じ かん
今の時間


3 じ 6 ぶん

15 ぶんまえ
分前は



2 じ 51 ぶん

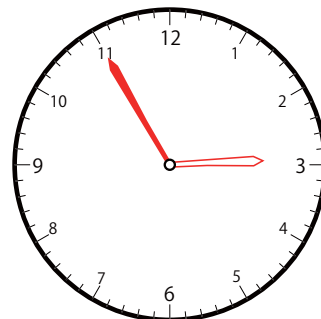
③



いま じ かん
今の時間

3 じ 10 ぶん

15 ぶんまえ
分前は




2 じ 55 ぶん

15分前の時計を読んで答えよう【B1】

今の時間を読んで、15分前の時刻と長針・短針を答えましょう。

こた
(答え)

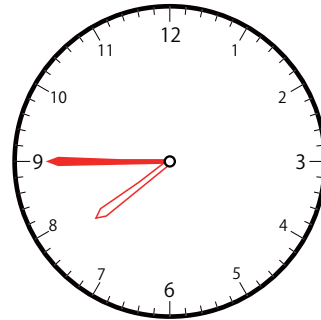
①



いま じ かん
今の時間


8 じ 0 分

15 分前は



7 じ 45 分

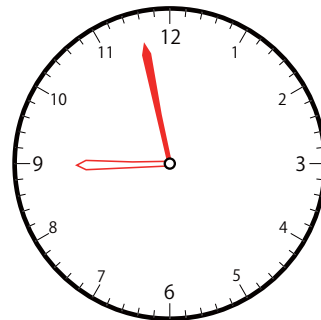
②



いま じ かん
今の時間


9 じ 13 分

15 分前は



8 じ 58 分

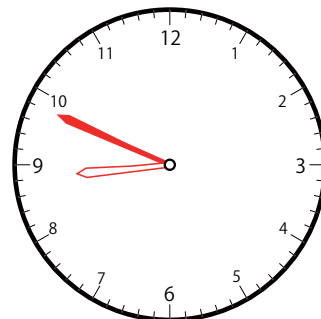
③



いま じ かん
今の時間

9 じ 4 分

15 分前は




8 じ 49 分

15分前の時計を読んで答えよう【B1】

今の時間を読んで、15分前の時刻と長針・短針を答えましょう。

こた
(答え)

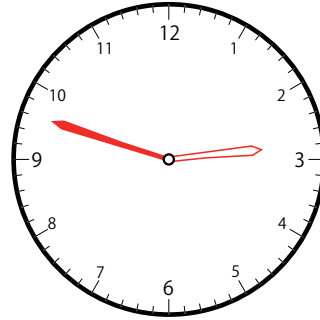
①



いま じ かん
今の時間


3 じ 3 ぶん

15 ぶんまえ
分前は



2 じ 48 ぶん

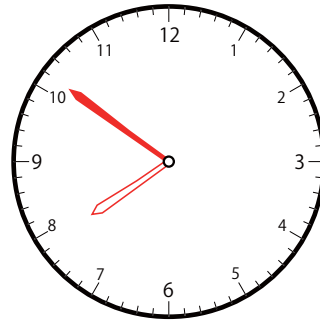
②



いま じ かん
今の時間

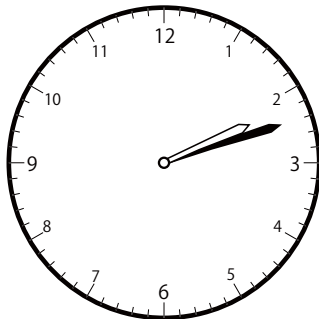
8 じ 6 ぶん

15 ぶんまえ
分前は



7 じ 51 ぶん

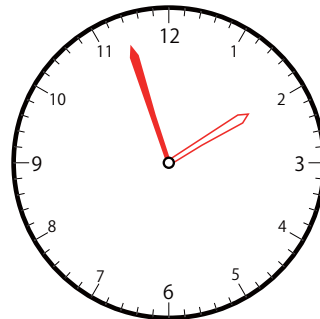
③



いま じ かん
今の時間

2 じ 12 ぶん

15 ぶんまえ
分前は




1 じ 57 ぶん

15分前の時計を読んで答えよう【B1】

今の時間を読んで、15分前の時刻と長針・短針を答えましょう。

(答え)

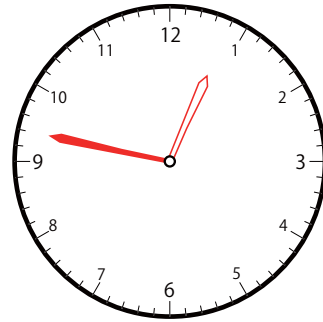
①



いま じ かん
今の時間


1 時 2 分

15分前は



12 時 47 分

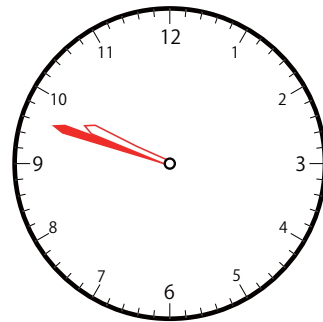
②



いま じ かん
今の時間


10 時 3 分

15分前は



9 時 48 分

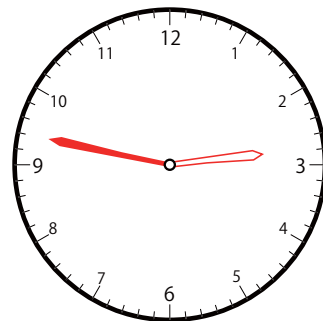
③



いま じ かん
今の時間

3 時 2 分

15分前は




2 時 47 分

15分前の時計を読んで答えよう【B1】

今の時間を読んで、15分前の時刻と長針・短針を答えましょう。

(答え)

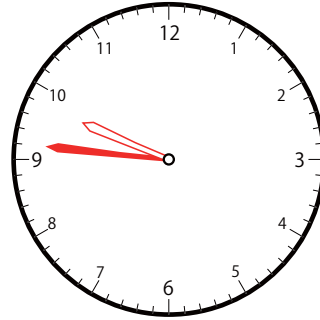
①



いま じ かん
今の時間


10 じ 1 ぶん

15 ぶんまえ
分前は



9 じ 46 ぶん

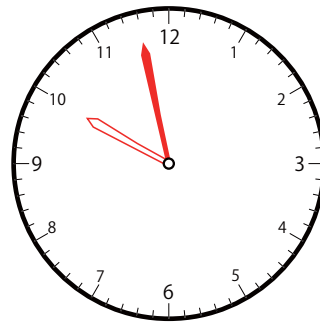
②



いま じ かん
今の時間


10 じ 13 ぶん

15 ぶんまえ
分前は



9 じ 58 ぶん

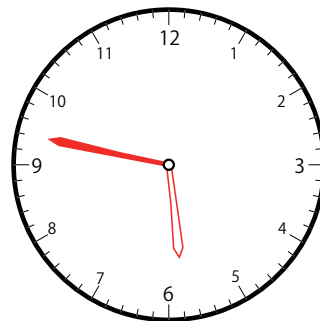
③



いま じ かん
今の時間

6 じ 2 ぶん

15 ぶんまえ
分前は



5 じ 47 ぶん