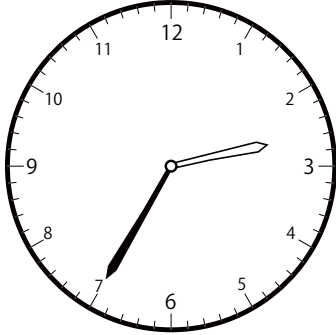



〇〇時^じ5分^{ぶん}単位^{たんい}の時計^{とけい}を見つけよう【D2】
問題^{もんだい}と同じ時間^{おなじかん}の時計^{とけい}を見つけ^みて()に〇をつけ^{つけ}ましょう。


① 1時^じ0分^{ぶん}の時計^{とけい}を見つけよう



()

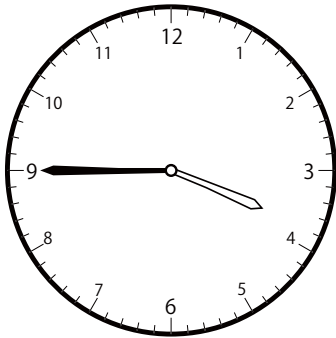


()

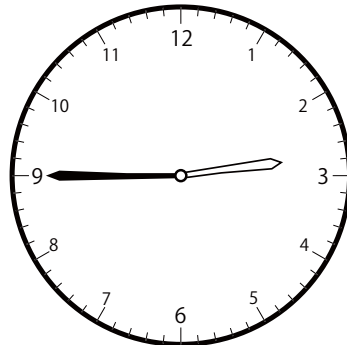


()

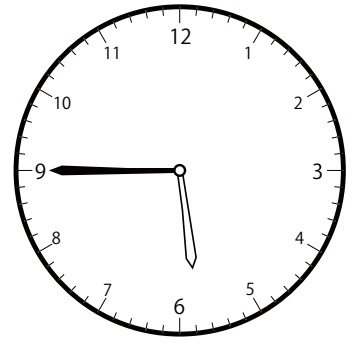
② 3時^じ45分^{ぶん}の時計^{とけい}を見つけよう



()

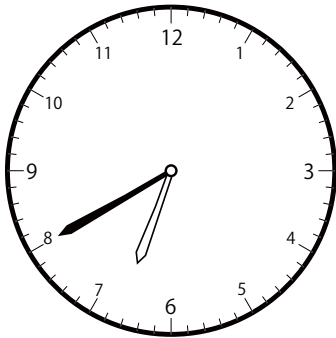


()

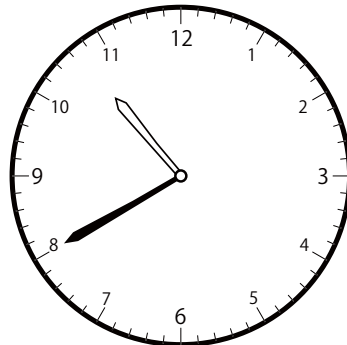


()

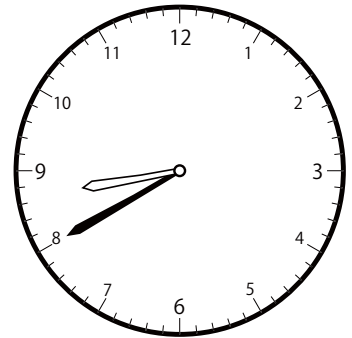
③ 8時^じ40分^{ぶん}の時計^{とけい}を見つけよう



()




()




()

〇〇時5分単位の時計を見つけよう【D2】
問題と同じ時間の時計を見つけて()に〇をつけましょう。


① 11時0分の時計を見つけよう



()

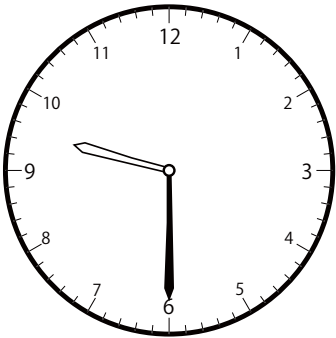


()

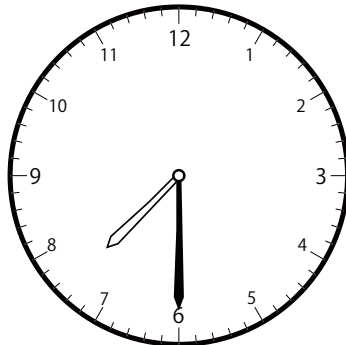


()

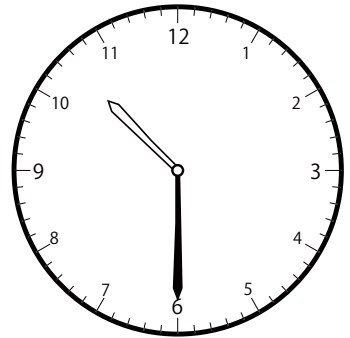
② 9時30分の時計を見つけよう



()




()




()


③ 2時0分の時計を見つけよう



()




()




()

〇〇時^じ5分^{ぶん}単位の^{たんい}時計^{とけい}を見つけよう【D2】
問題^{もんだい}と同じ時間^{おなじかん}の時計^{とけい}を見つけ^みて()に〇をつけましよう。


① 11時^じ20分^{ぶん}の時計^{とけい}を見つけよう



()




()

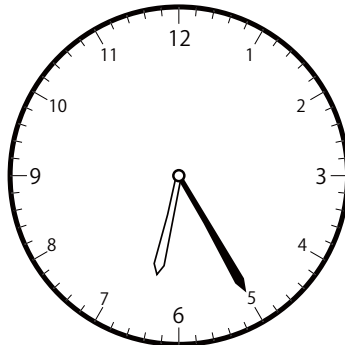


()


② 9時^じ25分^{ぶん}の時計^{とけい}を見つけよう



()




()




()


③ 9時^じ5分^{ぶん}の時計^{とけい}を見つけよう



()




()



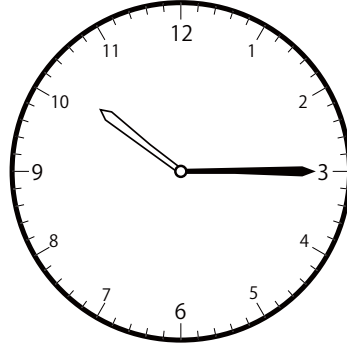
()

〇〇時^じ5分^{ぶん}単位^{たんい}の時計^{とけい}を見つけよう【D2】
問題^{もんだい}と同じ時間^{おなじかん}の時計^{とけい}を見つけ^みて()に〇をつけましよう。

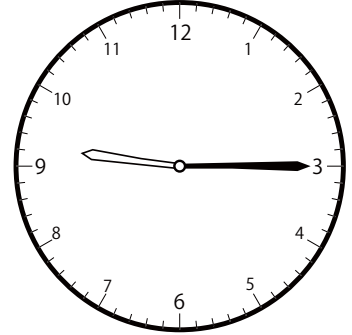
① 10時^じ 15分^{ぶん}の時計^{とけい}を見つけよう



()




(○)

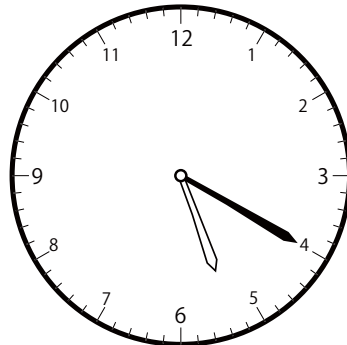


()

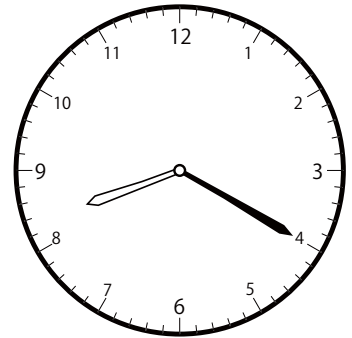
② 8時^じ 20分^{ぶん}の時計^{とけい}を見つけよう



()

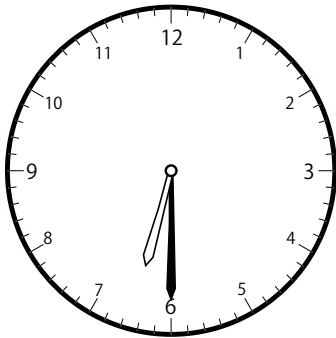


()

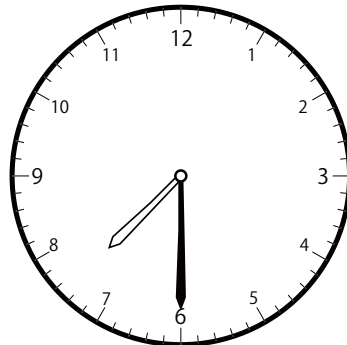


(○)

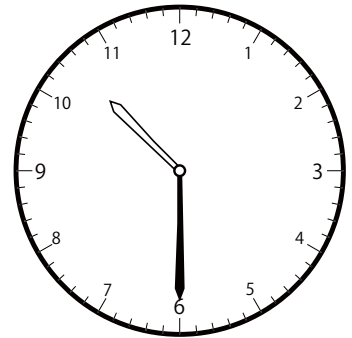
③ 7時^じ 30分^{ぶん}の時計^{とけい}を見つけよう



()




(○)



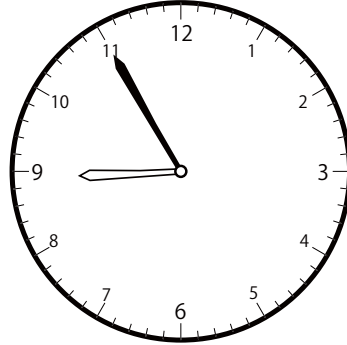
()

〇〇時5分単位の時計を見つけよう【D2】
問題と同じ時間の時計を見つけて()に〇をつけましょう。


① 8時55分の時計を見つけよう



()

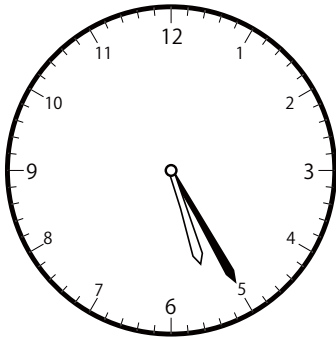


()

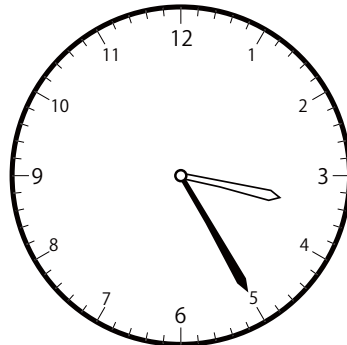


()

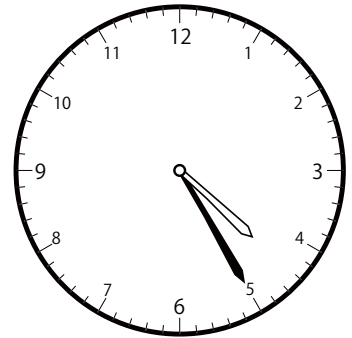
② 4時25分の時計を見つけよう



()




()

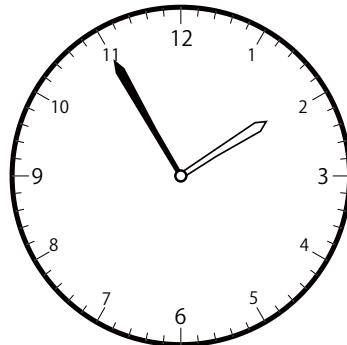


()

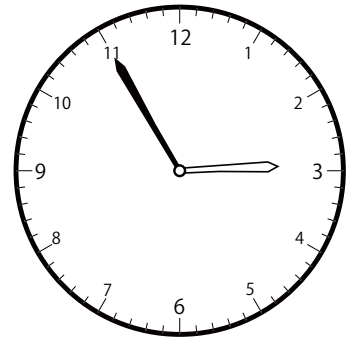
③ 1時55分の時計を見つけよう



()




()




()

〇〇時^じ5分^{ふん}単位の^{たんい}時計^{とけい}を見つけよう【D2】
 問題^{もんだい}と同じ時間^{おなじかん}の時計^{とけい}を見つけ^みて()に〇をつけましよう。


① 6時^じ10分^{ふん}の時計^{とけい}を見つけよう



()

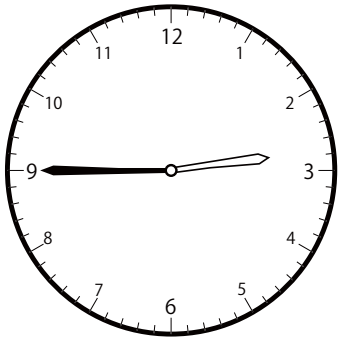


()

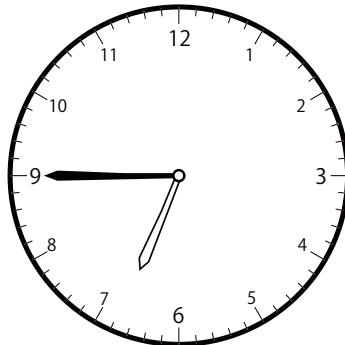


()

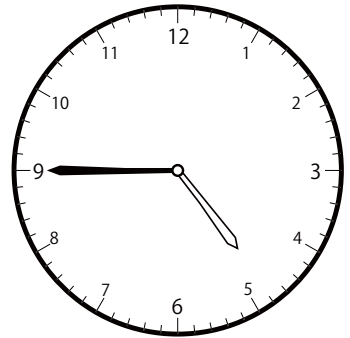
② 4時^じ45分^{ふん}の時計^{とけい}を見つけよう



()




()




()


③ 10時^じ0分^{ふん}の時計^{とけい}を見つけよう



()



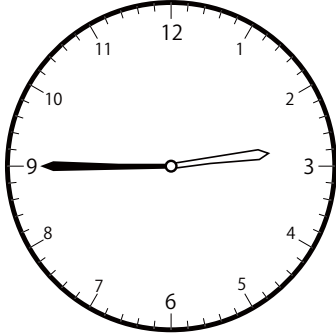
()



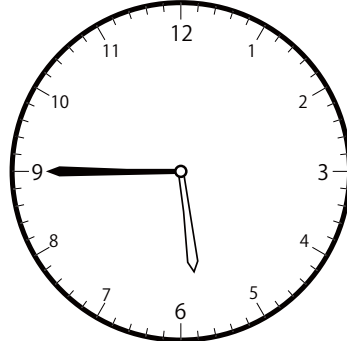
()

〇〇時^じ5分^{ふん}単位の^{たんい}時計^{とけい}を見つけよう【D2】
問題^{もんだい}と同じ時間^{おなじかん}の時計^{とけい}を見つけ^みて()に〇をつけましよう。

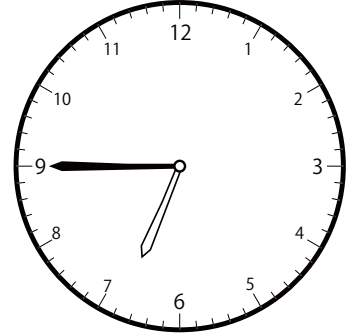
① 5時^じ45分^{ふん}の時計^{とけい}を見つけよう



()




()




()


② 4時^じ5分^{ふん}の時計^{とけい}を見つけよう



()




()

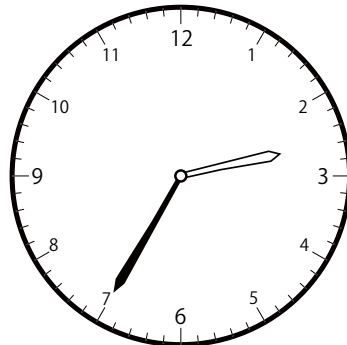


()

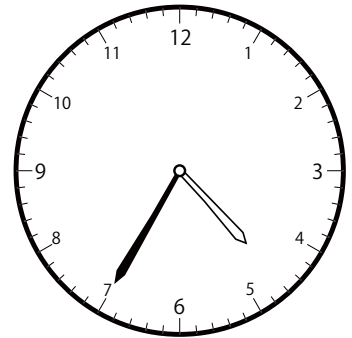
③ 2時^じ35分^{ふん}の時計^{とけい}を見つけよう



()




()



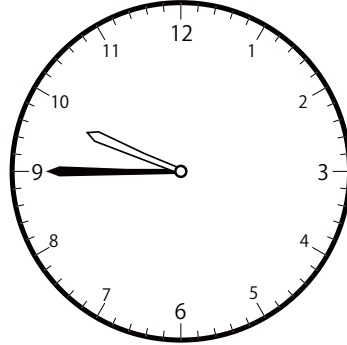
()

〇〇時^じ5分^{ぶん}単位^{たんい}の時計^{とけい}を見つけよう【D2】
もんだい おなじじかん問題^{もんだい}と同じ時間^{おなじじかん}の時計^{とけい}を見つけ^みて()に〇をつけましよう。


① 7時^じ45分^{ぶん}の時計^{とけい}を見つけよう



()




()

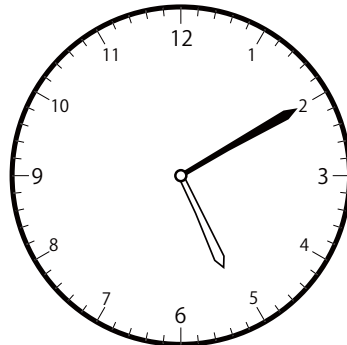


()


② 5時^じ10分^{ぶん}の時計^{とけい}を見つけよう



()




()

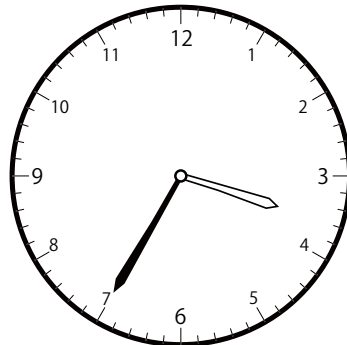


()

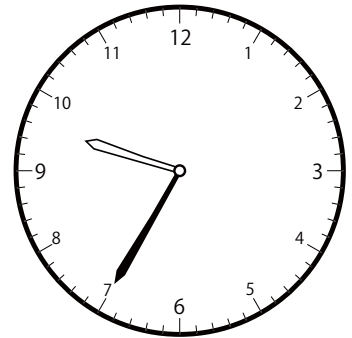
③ 12時^じ35分^{ぶん}の時計^{とけい}を見つけよう



()




()




()

〇〇時5分単位の時計を見つけよう【D2】
問題と同じ時間の時計を見つけて()に〇をつけましょう。


① 7時55分の時計を見つけよう



()




()




()


② 1時10分の時計を見つけよう



()




()




()


③ 1時5分の時計を見つけよう



()




()



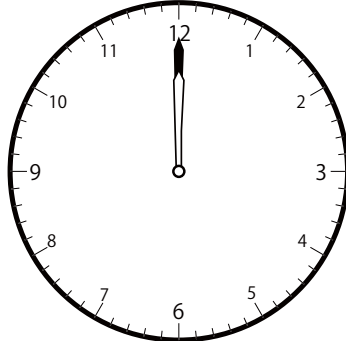
()

〇〇時5分単位の時計を見つけよう【D2】
問題と同じ時間の時計を見つけて()に〇をつけましょう。


① 12時0分の時計を見つけよう



()

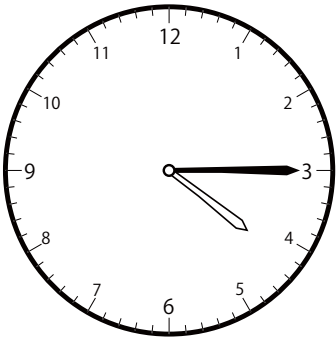


()




()


② 1時15分の時計を見つけよう



()

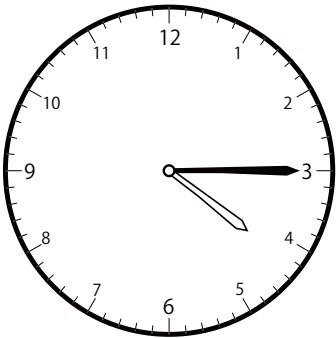


()

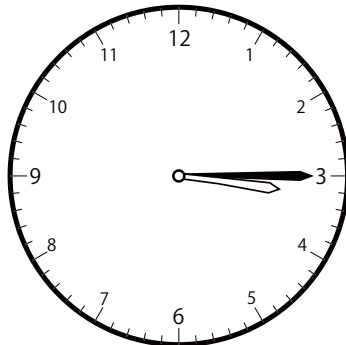


()

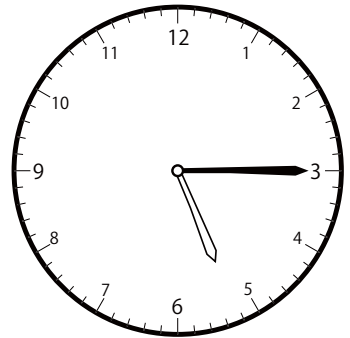
③ 4時15分の時計を見つけよう



()




()



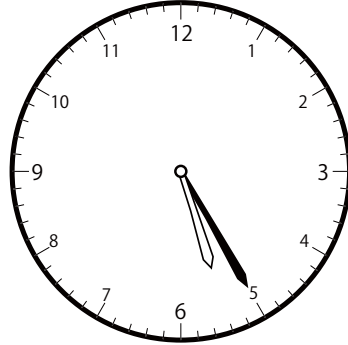
()

〇〇時^じ5分^{ふん}単位^{たんい}の時計^{とけい}を見つけよう【D2】
問題^{もんだい}と同じ時間^{おなじかん}の時計^{とけい}を見つけ^みて()に〇をつけましよう。

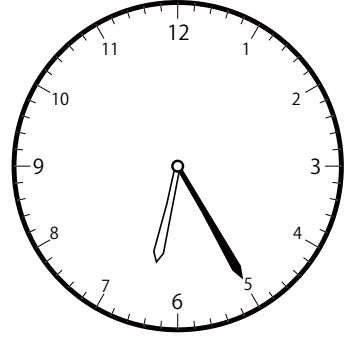
① 6時^じ25分^{ふん}の時計^{とけい}を見つけよう



()




()




()


② 12時^じ55分^{ふん}の時計^{とけい}を見つけよう



()

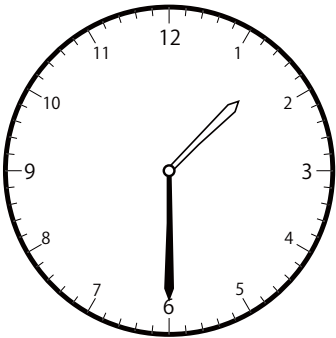


()




()

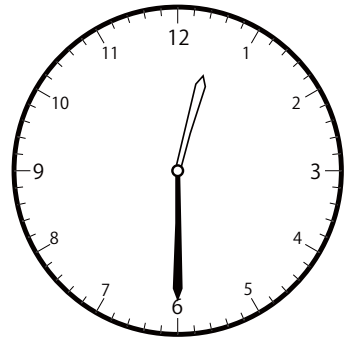
③ 12時^じ30分^{ふん}の時計^{とけい}を見つけよう



()



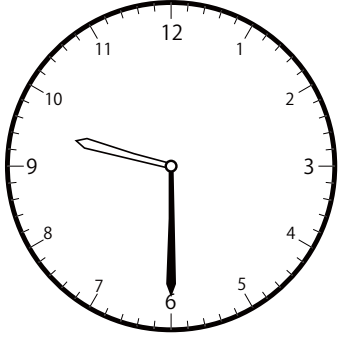
()



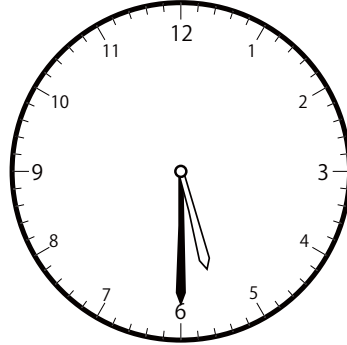
()

〇〇時^じ5分^{ぶん}単位の^{たんい}時計^{とけい}を見つけよう【D2】
 問題^{もんだい}と同じ時間^{おなじかん}の時計^{とけい}を見つけ^みて()に〇をつけましよう。

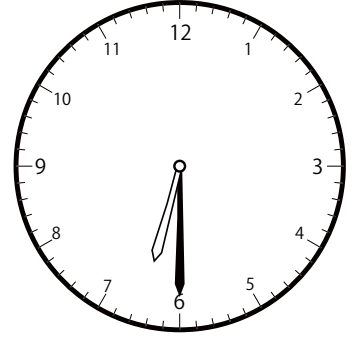
① 6時^じ30分^{ぶん}の時計^{とけい}を見つけよう




()



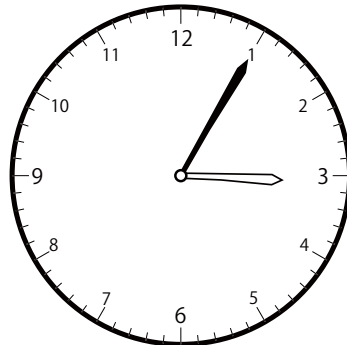

()

()

② 3時^じ5分^{ぶん}の時計^{とけい}を見つけよう




()


()

()


③ 7時^じ0分^{ぶん}の時計^{とけい}を見つけよう



()




()

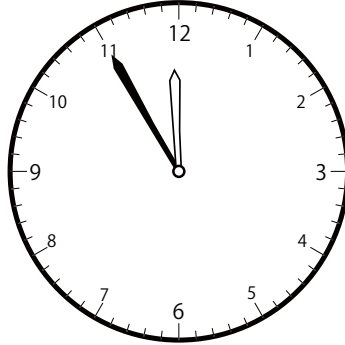
()

〇〇時^じ5分^{ぶん}単位^{たんい}の時計^{とけい}を見つけよう【D2】
問題^{もんだい}と同じ時間^{おなじかん}の時計^{とけい}を見つけ^みて()に〇をつけましよう。


① 9時^じ55分^{ぶん}の時計^{とけい}を見つけよう



()

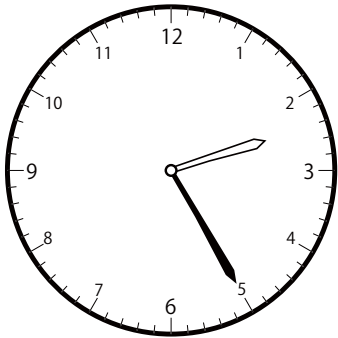


()

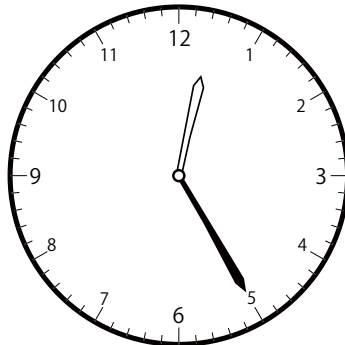


()


② 12時^じ25分^{ぶん}の時計^{とけい}を見つけよう



()




()




()


③ 12時^じ40分^{ぶん}の時計^{とけい}を見つけよう



()




()



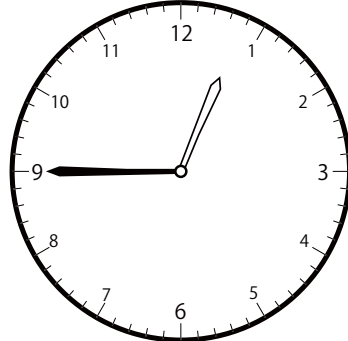
()

〇〇時5分単位の時計を見つけよう【D2】
もんだい おなじじかん 問題と同じ時間の時計を見つけて()に〇をつけましょう。


① 12時45分の時計を見つけよう



()




()




()


② 8時0分の時計を見つけよう



()




()




()


③ 3時0分の時計を見つけよう



()




()




()

〇〇時^じ5分^{ぶん}単位^{たんい}の時計^{とけい}を見つけよう【D2】
問題^{もんだい}と同じ時間^{おなじかん}の時計^{とけい}を見つけ^みて()に〇をつけましよう。


① 7時^じ10分^{ぶん}の時計^{とけい}を見つけよう



()

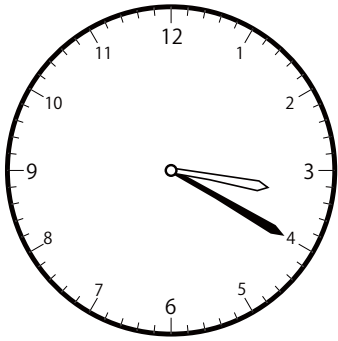


()

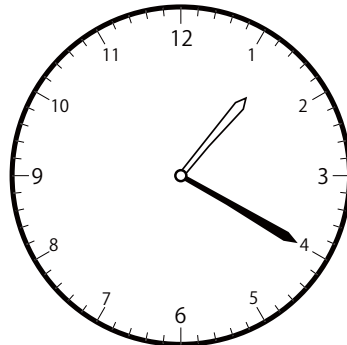


()


② 1時^じ20分^{ぶん}の時計^{とけい}を見つけよう



()




()

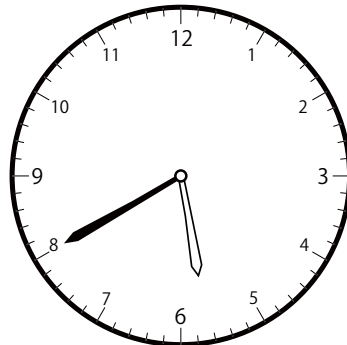


()

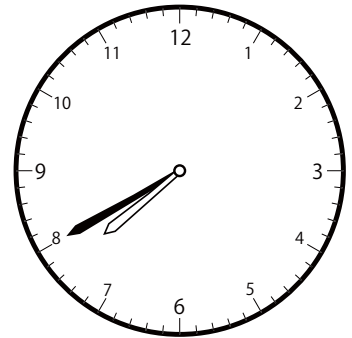
③ 5時^じ40分^{ぶん}の時計^{とけい}を見つけよう



()



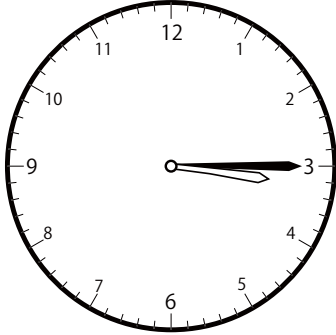
()



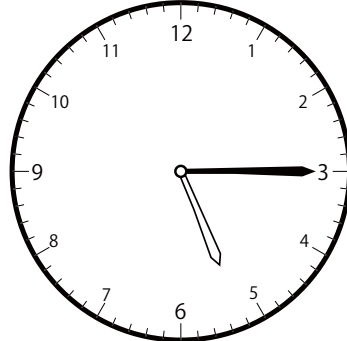
()

〇〇時^じ5分^{ぶん}単位の^{たんい}時計^{とけい}を見つけよう【D2】
問題^{もんだい}と同じ時間^{おなじかん}の時計^{とけい}を見つけて()に〇をつけましょう。

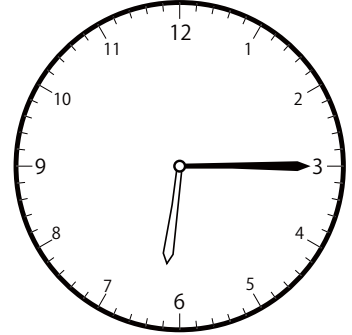
① 5時^じ15分^{ぶん}の時計^{とけい}を見つけよう



()

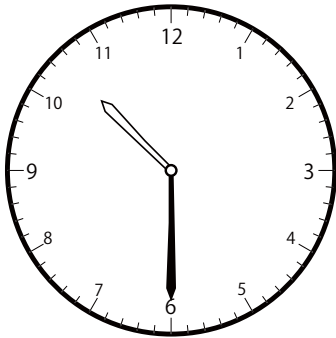


()




()

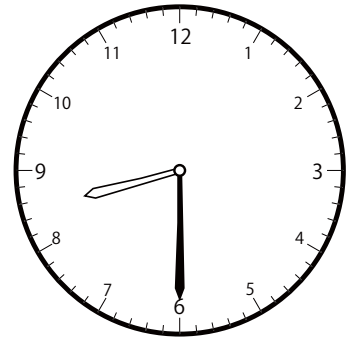
② 10時^じ30分^{ぶん}の時計^{とけい}を見つけよう



()




()




()


③ 6時^じ50分^{ぶん}の時計^{とけい}を見つけよう



()




()



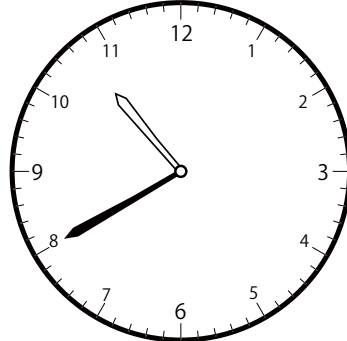
()

〇〇時^じ5分^{ぶん}単位^{たんい}の時計^{とけい}を見つけよう【D2】
問題^{もんだい}と同じ時間^{おなじかん}の時計^{とけい}を見つけ^みて()に〇をつけましよう。


① 10時^じ40分^{ぶん}の時計^{とけい}を見つけよう



()

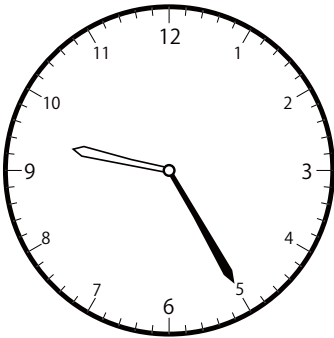


()

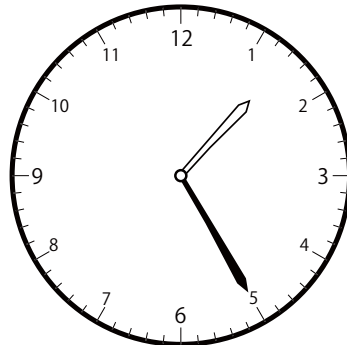


()


② 11時^じ25分^{ぶん}の時計^{とけい}を見つけよう



()

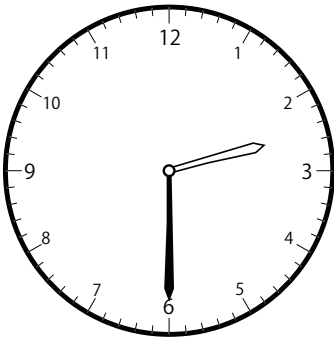


()

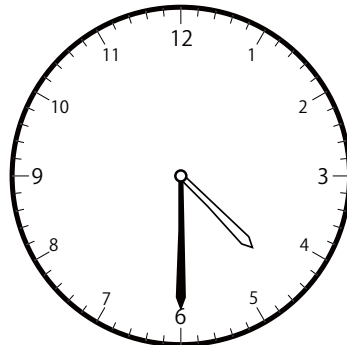


()

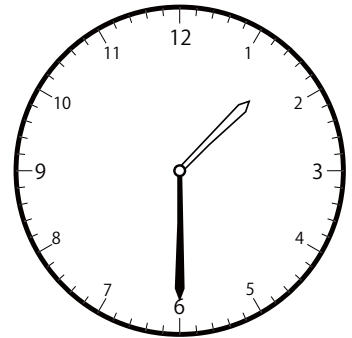
③ 2時^じ30分^{ぶん}の時計^{とけい}を見つけよう



()




()



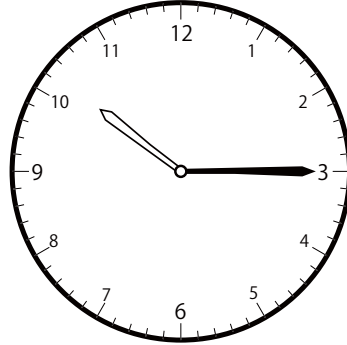
()

〇〇時^じ5分^{ぶん}単位の^{たんい}時計^{とけい}を見つけよう【D2】
問題^{もんだい}と同じ時間^{おなじかん}の時計^{とけい}を見つけ^みて()に〇をつけましよう。


① 12時^じ 15分^{ぶん}の時計^{とけい}を見つけよう



()

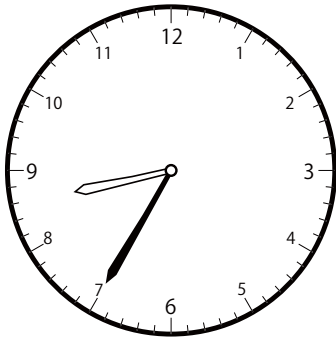


()

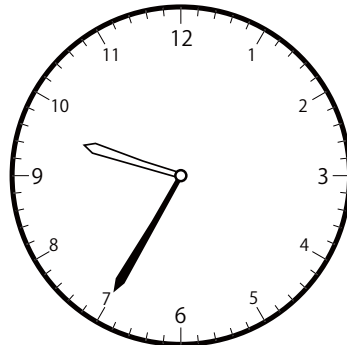


()

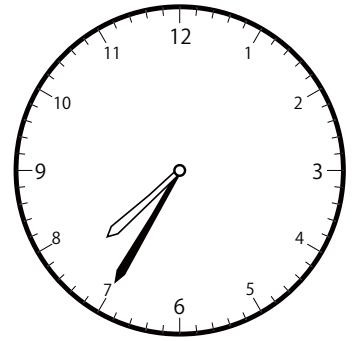
② 8時^じ 35分^{ぶん}の時計^{とけい}を見つけよう



()




()




()


③ 2時^じ 5分^{ぶん}の時計^{とけい}を見つけよう



()




()



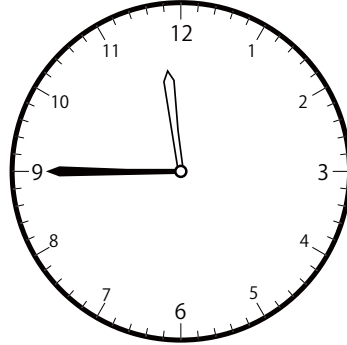
()

〇〇時^じ5分^{ぶん}単位の^{たんい}時計^{とけい}を見つけよう【D2】
問題^{もんだい}と同じ時間^{おなじかん}の時計^{とけい}を見つけ^みて()に〇をつけましよう。

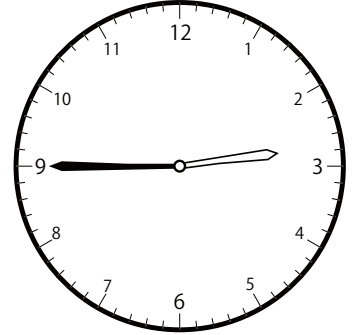
① 11時^じ45分^{ぶん}の時計^{とけい}を見つけよう



()

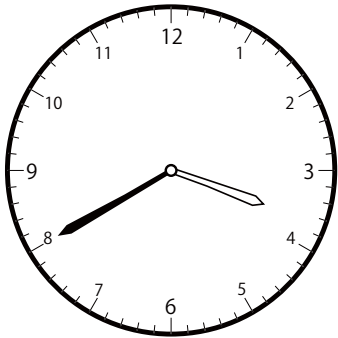


()




()

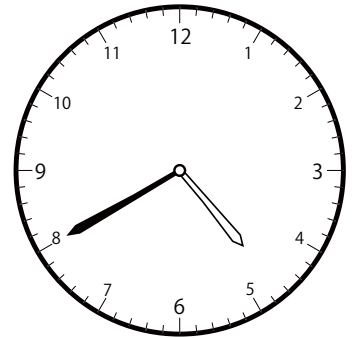
② 3時^じ40分^{ぶん}の時計^{とけい}を見つけよう



()

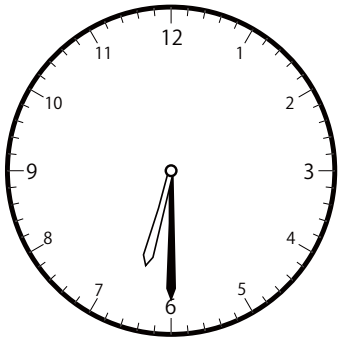


()

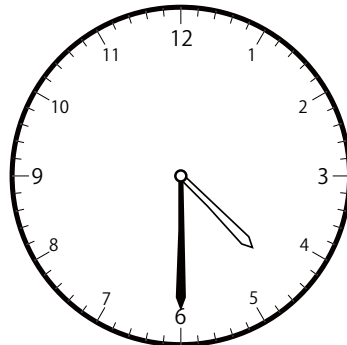


()

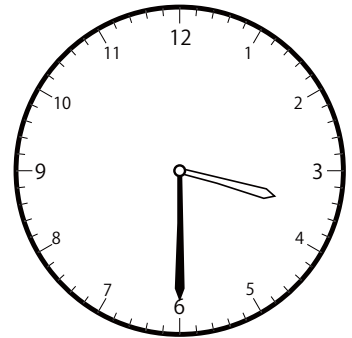
③ 4時^じ30分^{ぶん}の時計^{とけい}を見つけよう



()



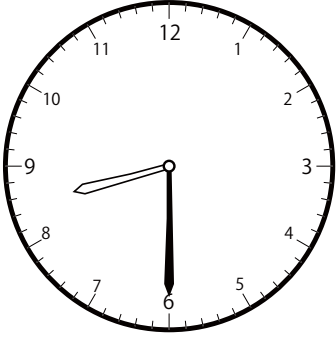
()



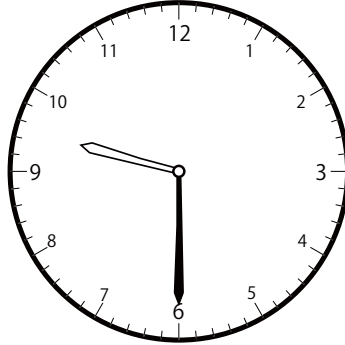
()

〇〇時^じ5分^{ぶん}単位の^{たんい}時計^{とけい}を見つけよう【D2】
 問題^{もんだい}と同じ時間^{おなじかん}の時計^{とけい}を見つけて()に〇をつけましょう。

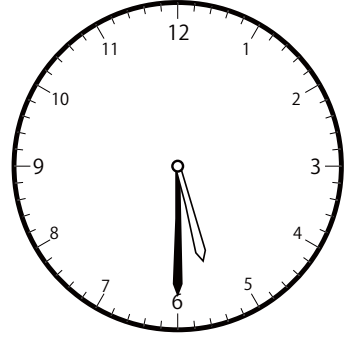
① 8時^じ30分^{ぶん}の時計^{とけい}を見つけよう



()




()




()

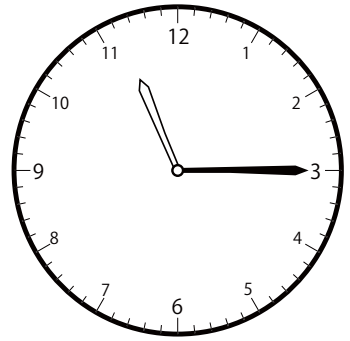
② 11時^じ15分^{ぶん}の時計^{とけい}を見つけよう



()




()




()


③ 10時^じ5分^{ぶん}の時計^{とけい}を見つけよう



()




()



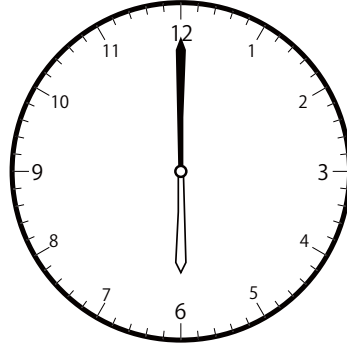
()

〇〇時5分単位の時計を見つけよう【D2】
問題と同じ時間の時計を見つけて()に〇をつけましょう。


① 6時0分の時計を見つけよう



()

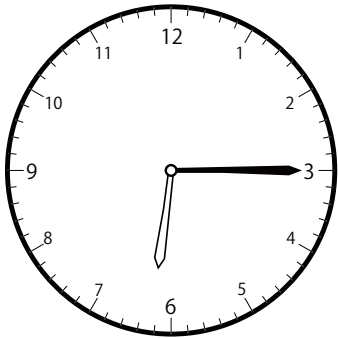


()

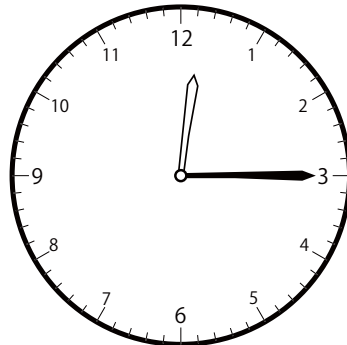


()

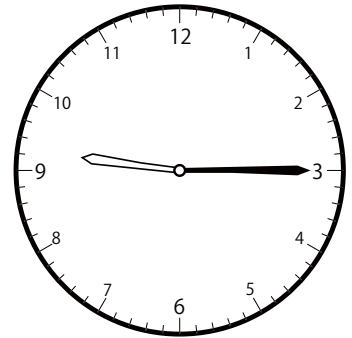
② 9時15分の時計を見つけよう



()




()

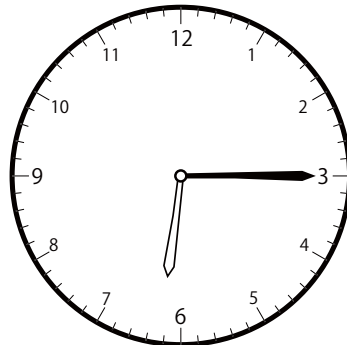


()

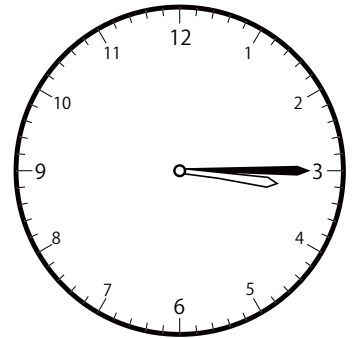
③ 3時15分の時計を見つけよう



()




()




()

〇〇時^じ5分^{ふん}単位^{たんい}の時計^{とけい}を見つけよう【D2】
問題^{もんだい}と同じ時間^{おなじかん}の時計^{とけい}を見つけて()に〇をつけましょう。


① 5時^じ0分^{ふん}の時計^{とけい}を見つけよう



()




()




()


② 10時^じ45分^{ふん}の時計^{とけい}を見つけよう



()




()




()


③ 10時^じ55分^{ふん}の時計^{とけい}を見つけよう



()




()




()

〇〇時^じ5分^{ふん}単位^{たんい}の時計^{とけい}を見つけよう【D2】
問題^{もんだい}と同じ時間^{おなじかん}の時計^{とけい}を見つけ^みて()に〇をつけましよう。


① 2時^じ10分^{ふん}の時計^{とけい}を見つけよう



()




()




()

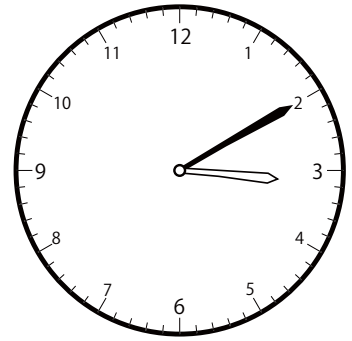
② 12時^じ10分^{ふん}の時計^{とけい}を見つけよう



()

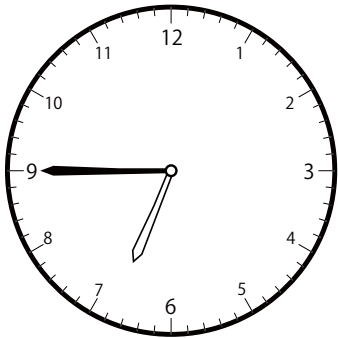


()

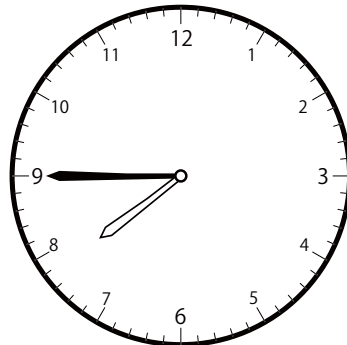


()

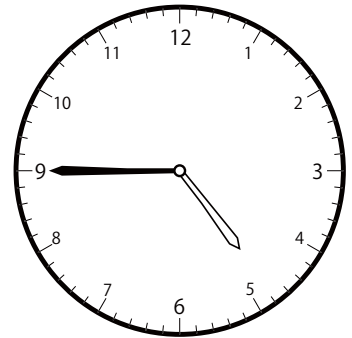
③ 6時^じ45分^{ふん}の時計^{とけい}を見つけよう



()





()




()

〇〇時^じ5分^{ふん}単位の^{たんい}時計^{とけい}を見つけよう【D2】
 問題^{もんだい}と同じ^{おな}時間^{じかん}の時計^{とけい}を見つけ^みて()に〇をつけ^{つけ}ましょう。

① 1時^じ50分^{ふん}の時計^{とけい}を見つけよう

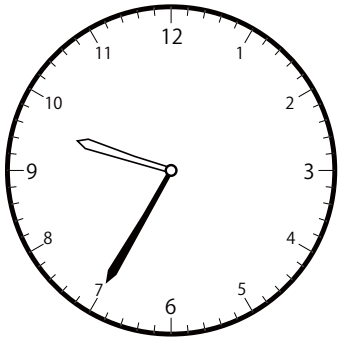
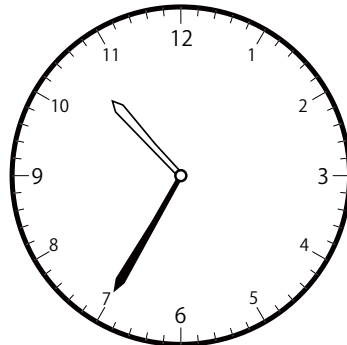
()

()

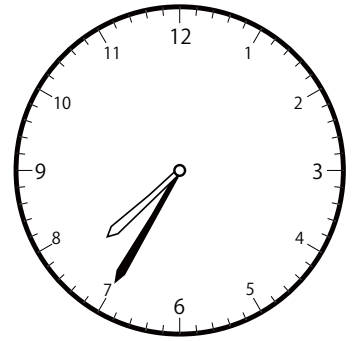


()

② 9時^じ35分^{ふん}の時計^{とけい}を見つけよう


()

()

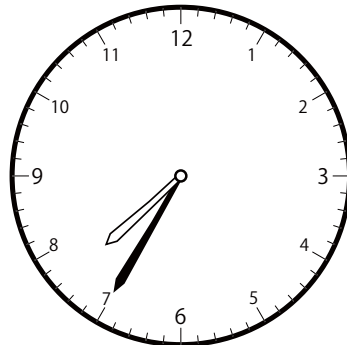
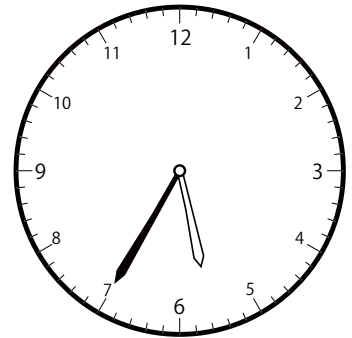


()

③ 7時^じ35分^{ふん}の時計^{とけい}を見つけよう



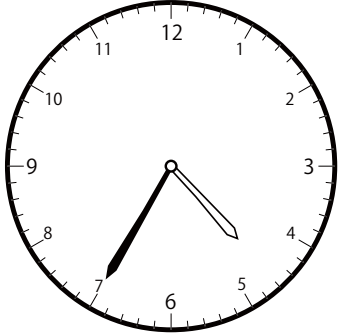
()

()

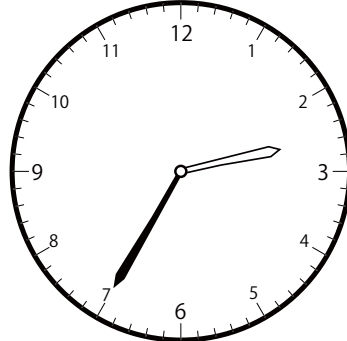
()

〇〇時^じ5分^{ふん}単位^{たんい}の時計^{とけい}を見つけよう【D2】
 問題^{もんだい}と同じ時間^{おなじかん}の時計^{とけい}を見つけて()に〇をつけましょう。

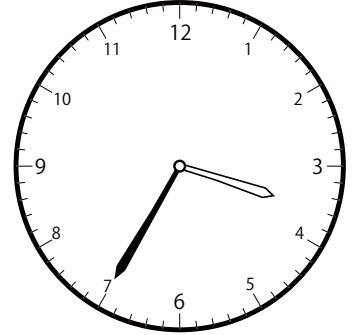
① 3時^じ35分^{ふん}の時計^{とけい}を見つけよう



()




()




(○)

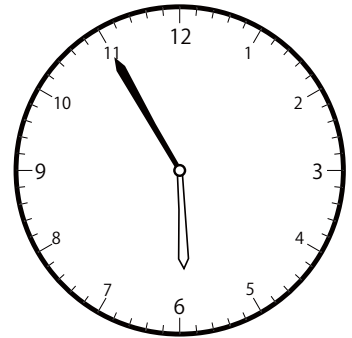
② 3時^じ55分^{ふん}の時計^{とけい}を見つけよう



()

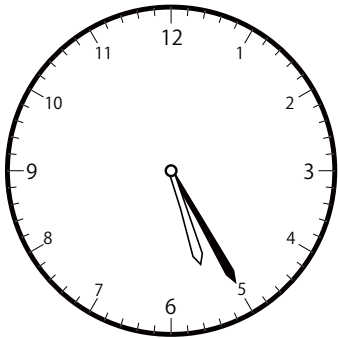


(○)

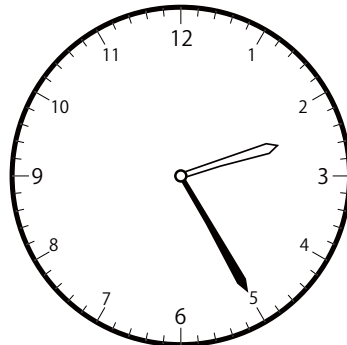


()

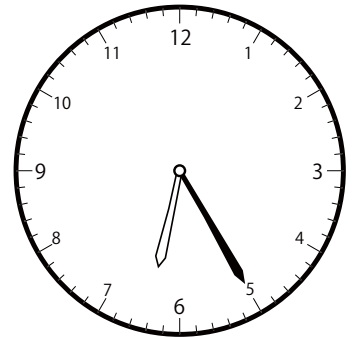
③ 5時^じ25分^{ふん}の時計^{とけい}を見つけよう



(○)




()




()

〇〇時5分単位の時計を見つけよう【D2】
ちんたい おなじかん とけい み
 問題と同じ時間の時計を見つけて()に〇をつけましょう。


① 2時50分の時計を見つけよう



()

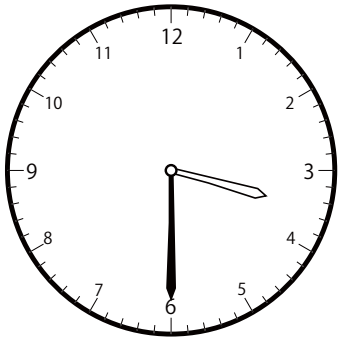


()

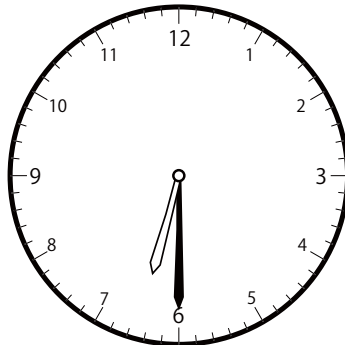


()

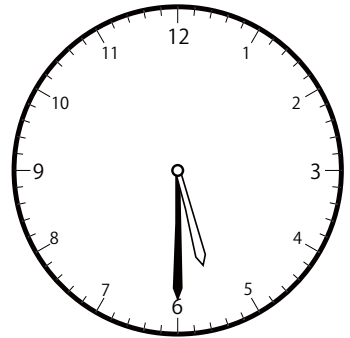
② 5時30分の時計を見つけよう



()

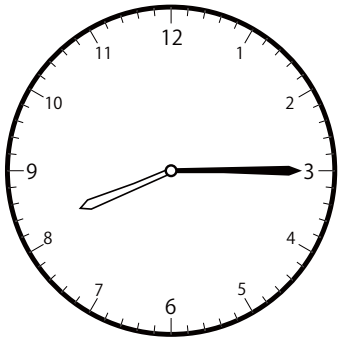


()

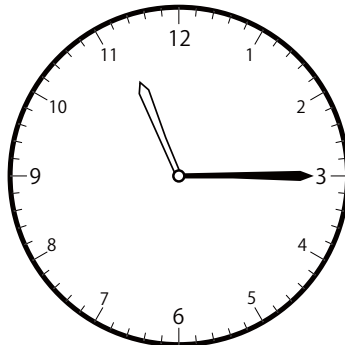


()

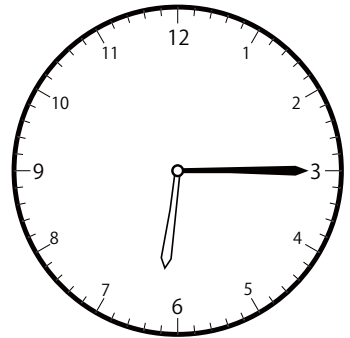
③ 8時15分の時計を見つけよう



()



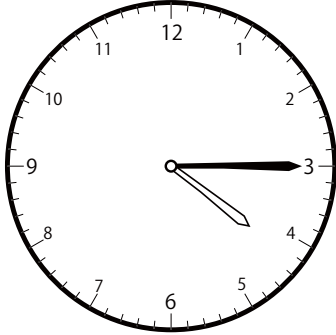
()



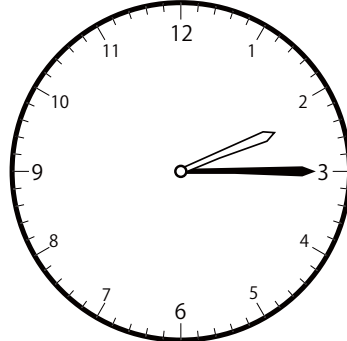
()

〇〇時5分単位の時計を見つけよう【D2】
問題と同じ時間の時計を見つけて()に〇をつけましょう。


① 2時15分の時計を見つけよう



()

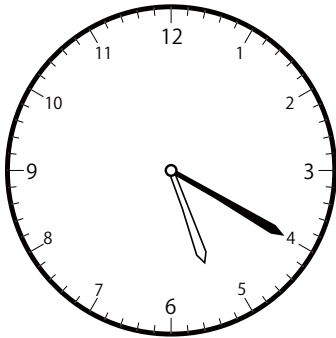


()

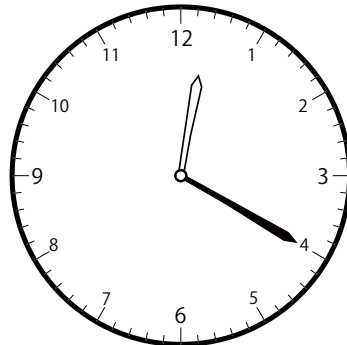


()

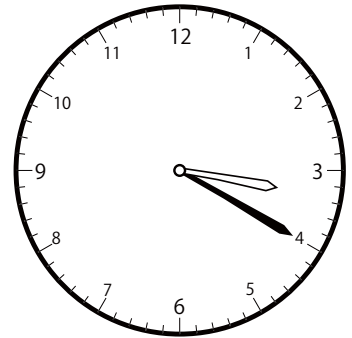
② 3時20分の時計を見つけよう



()

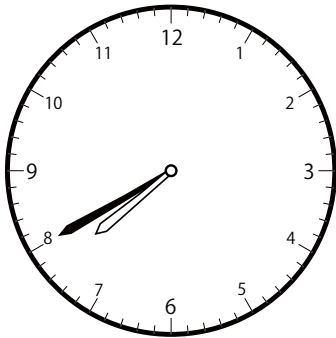


()

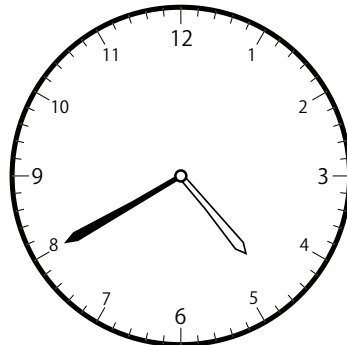


()


③ 7時40分の時計を見つけよう



()




()



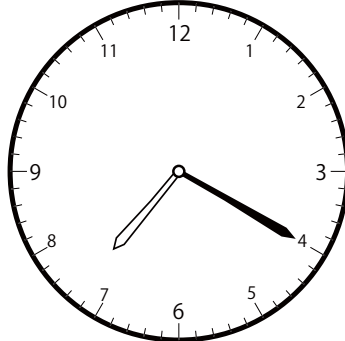
()

〇〇時^じ5分^{ふん}単位^{たんい}の時計^{とけい}を見つけよう【D2】
問題^{もんだい}と同じ時間^{おなじかん}の時計^{とけい}を見つけ^みて()に〇をつけましよう。

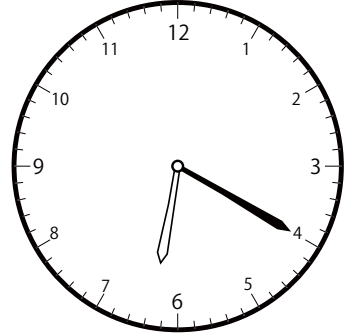
① 7時^じ20分^{ふん}の時計^{とけい}を見つけよう



()




()




()


② 8時^じ10分^{ふん}の時計^{とけい}を見つけよう



()

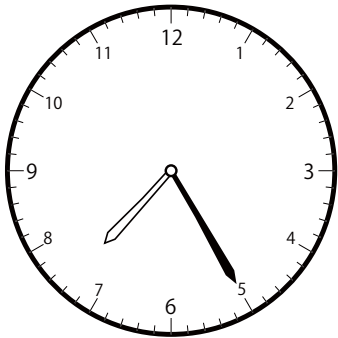


()




()


③ 10時^じ25分^{ふん}の時計^{とけい}を見つけよう



()




()




()

〇〇時5分単位の時計を見つけよう【D2】
問題と同じ時間の時計を見つけて()に〇をつけましょう。


① 12時5分の時計を見つけよう



()

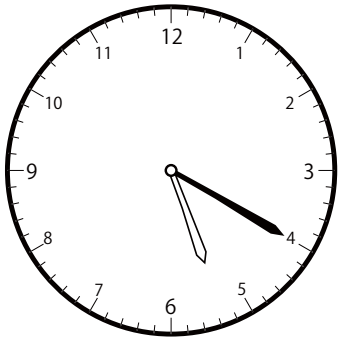


()

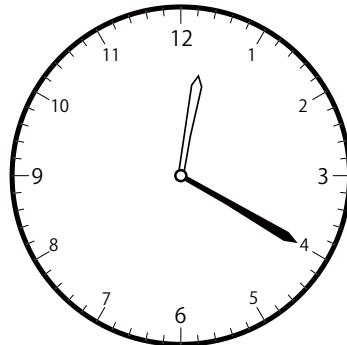


()

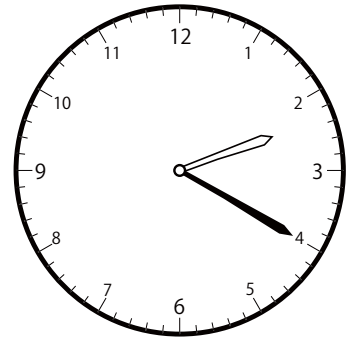
② 2時20分の時計を見つけよう



()

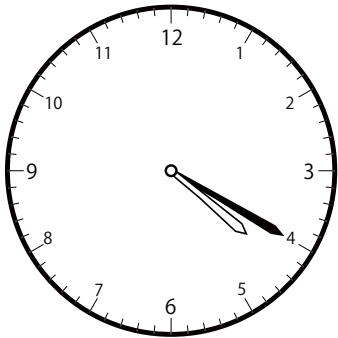


()

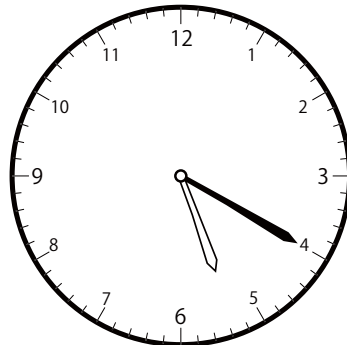


()

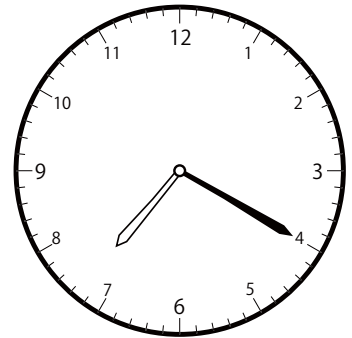
③ 5時20分の時計を見つけよう



()




()




()

〇〇時5分単位の時計を見つけよう【D2】
もんだい おなじじかん 問題と同じ時間の時計を見つけて()に〇をつけましょう。


① 7時50分の時計を見つけよう



()

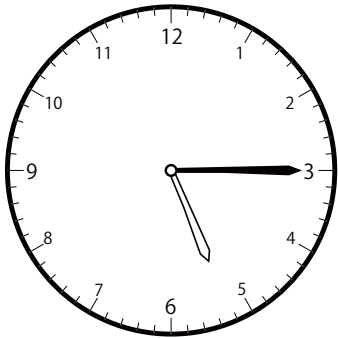


()

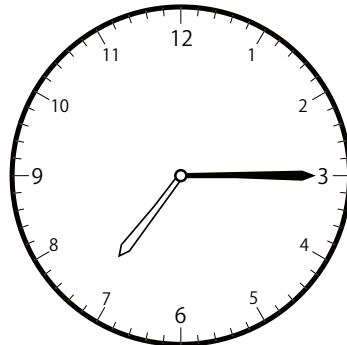


()

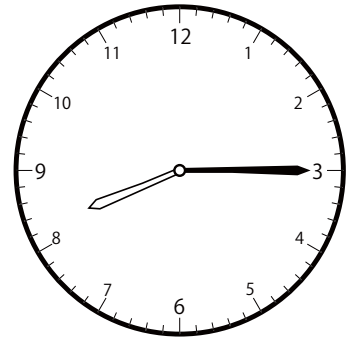
② 7時15分の時計を見つけよう



()

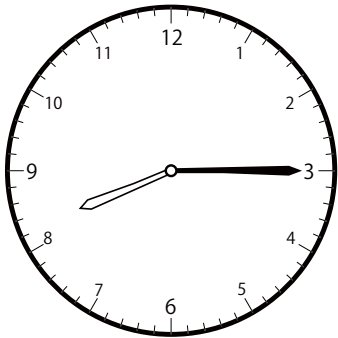


()

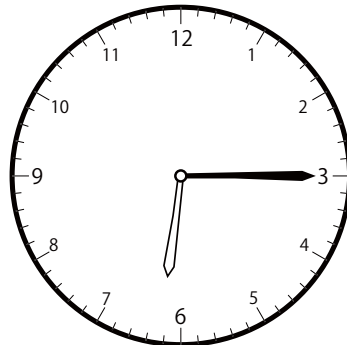


()

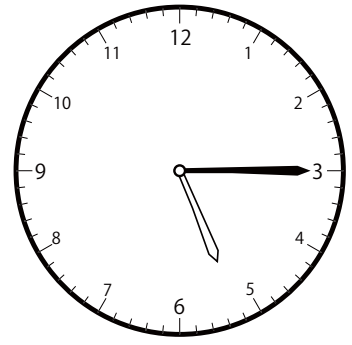
③ 6時15分の時計を見つけよう



()




()



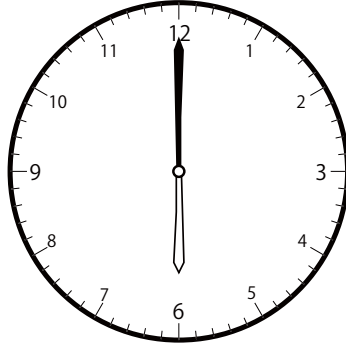
()

〇〇時5分単位の時計を見つけよう【D2】
問題と同じ時間の時計を見つけて()に〇をつけましょう。


① 4時0分の時計を見つけよう



()




()




()


② 2時55分の時計を見つけよう



()




()




()


③ 5時50分の時計を見つけよう



()



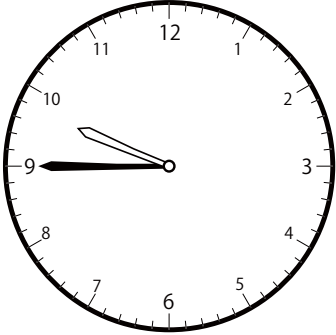
()



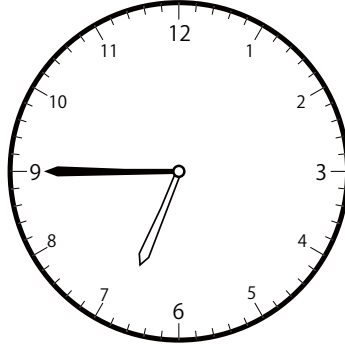
()

〇〇時^じ5分^{ふん}単位の^{たんい}時計^{とけい}を見つけよう【D2】
問題^{もんだい}と同じ時間^{おなじかん}の時計^{とけい}を見つけ^みて()に〇をつけましよう。


① 9時^じ45分^{ふん}の時計^{とけい}を見つけよう



()




()




()


② 11時^じ5分^{ふん}の時計^{とけい}を見つけよう



()




()

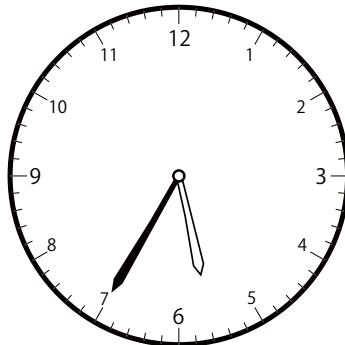


()


③ 6時^じ35分^{ふん}の時計^{とけい}を見つけよう



()




()




()

〇〇時5分単位の時計を見つけよう【D2】
問題と同じ時間の時計を見つけて()に〇をつけましょう。


① 12時20分の時計を見つけよう



()




()

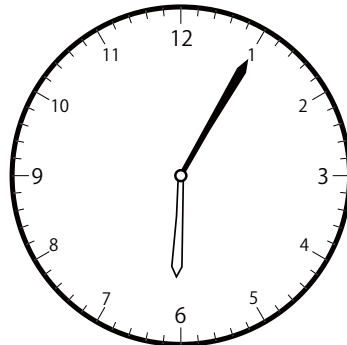


()

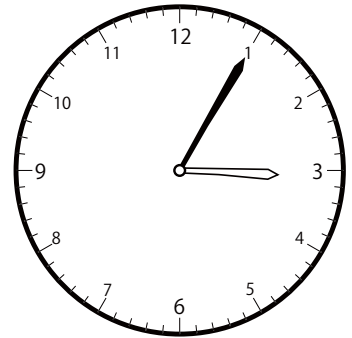
② 6時5分の時計を見つけよう



()

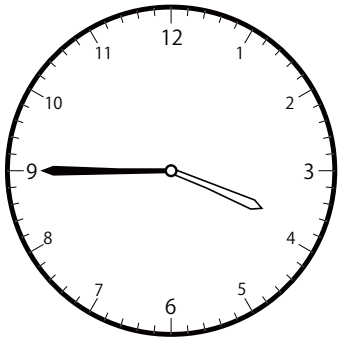


()

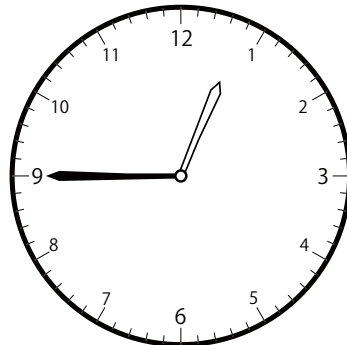


()

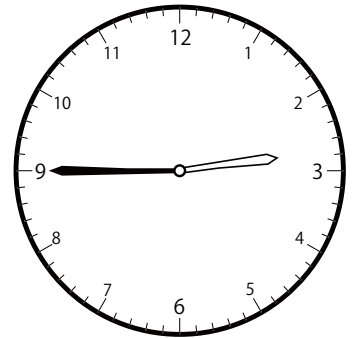
③ 2時45分の時計を見つけよう



()




()



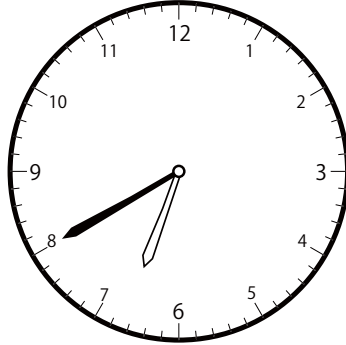
()

〇〇時^じ5分^{ぶん}単位の^{たんい}時計^{とけい}を見つけよう【D2】
問題^{もんだい}と同じ時間^{おなじかん}の時計^{とけい}を見つけ^みて()に〇をつけましよう。


① 9時^じ40分^{ぶん}の時計^{とけい}を見つけよう



()




()




()


② 4時^じ55分^{ぶん}の時計^{とけい}を見つけよう



()




()




()


③ 10時^じ10分^{ぶん}の時計^{とけい}を見つけよう



()




()




()

〇〇時5分単位の時計を見つけよう【D2】
問題と同じ時間の時計を見つけて()に〇をつけましょう。


① 3時50分の時計を見つけよう



()




()




()

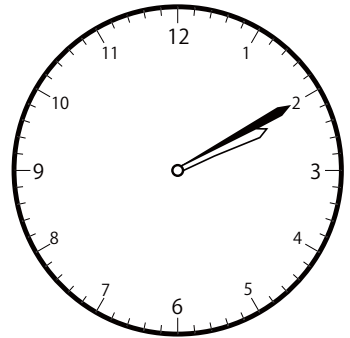
② 3時10分の時計を見つけよう



()

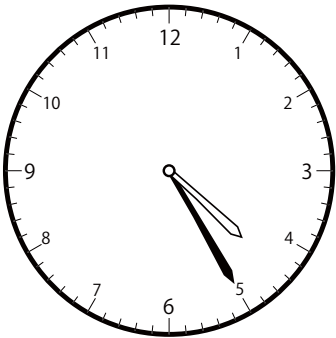


()

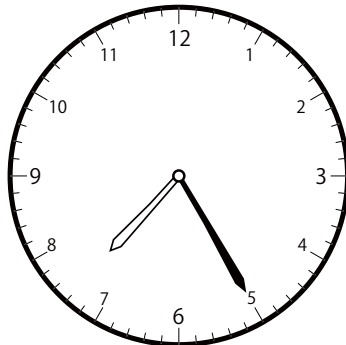


()

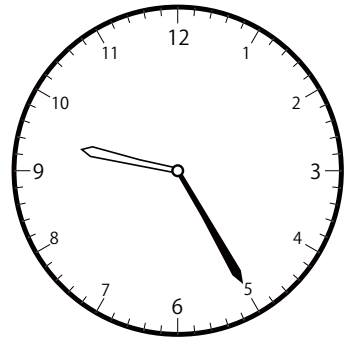
③ 7時25分の時計を見つけよう



()




()




()

〇〇時^じ5分^{ふん}単位の^{たんい}時計^{とけい}を見つけよう【D2】
問題^{もんだい}と同じ時間^{おなじかん}の時計^{とけい}を見つけ^みて()に〇をつけましよう。


① 7時^じ5分^{ふん}の時計^{とけい}を見つけよう



()

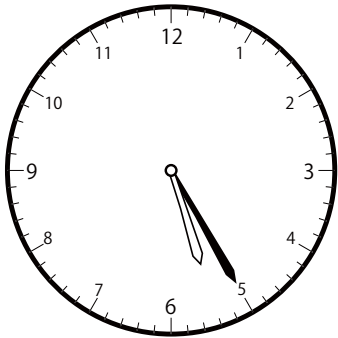


()

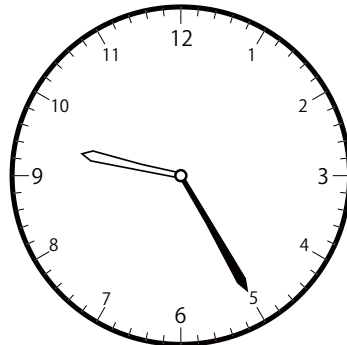


()

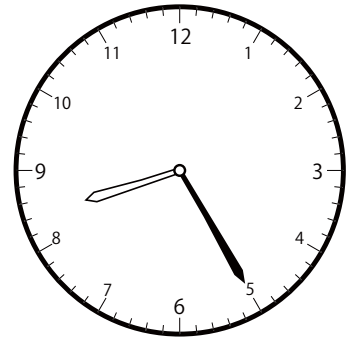
② 8時^じ25分^{ふん}の時計^{とけい}を見つけよう



()




()




()

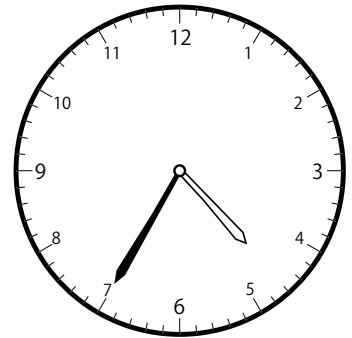
③ 1時^じ35分^{ふん}の時計^{とけい}を見つけよう



()




()




()

〇〇時^じ5分^{ぶん}単位^{たんい}の時計^{とけい}を見つけよう【D2】
問題^{もんだい}と同じ時間^{おなじかん}の時計^{とけい}を見つけ^みて()に〇をつけましよう。


① 10時^じ50分^{ぶん}の時計^{とけい}を見つけよう



()




()




()


② 9時^じ10分^{ぶん}の時計^{とけい}を見つけよう



()

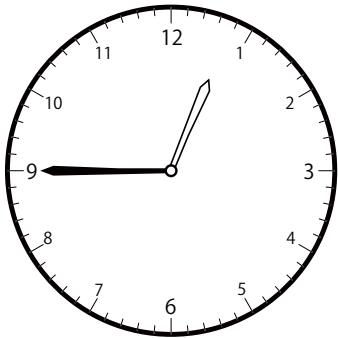


()

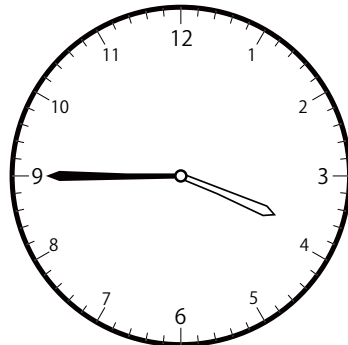


()


③ 1時^じ45分^{ぶん}の時計^{とけい}を見つけよう



()



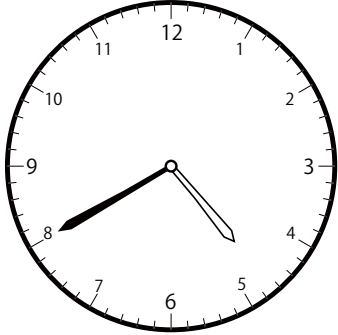
()




()

〇〇時5分単位の時計を見つけよう【D2】
もんだい おなじじかん 問題と同じ時間の時計を見つけて()に〇をつけましょう。


① 2時40分の時計を見つけよう



()




()

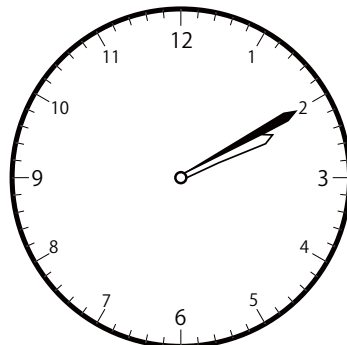


()


② 11時10分の時計を見つけよう



()

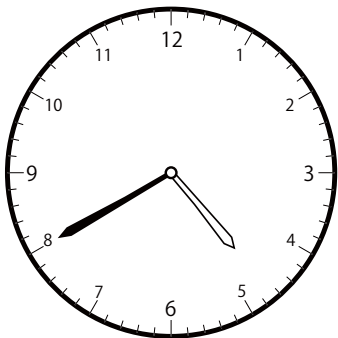


()




()


③ 4時40分の時計を見つけよう



()



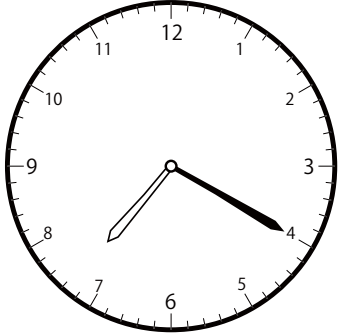
()




()

〇〇時^じ5分^{ぶん}単位の^{たんい}時計^{とけい}を見つけよう【D2】
 問題^{もんだい}と同じ時間^{おなじかん}の時計^{とけい}を見つけ^みて()に〇をつけましよう。


① 10時^じ 20分^{ぶん}の時計^{とけい}を見つけよう



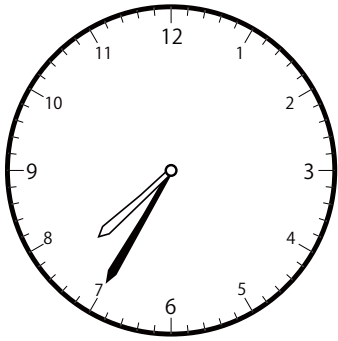
()



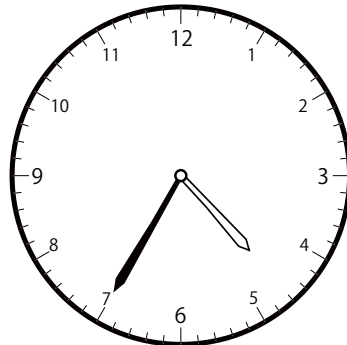
()

()

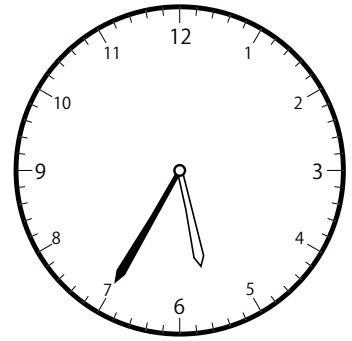
② 5時^じ 35分^{ぶん}の時計^{とけい}を見つけよう



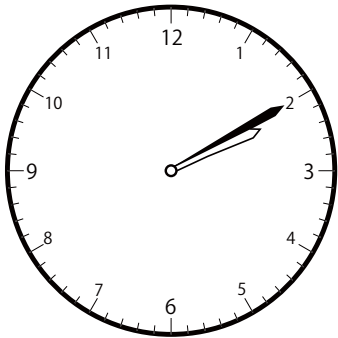
()



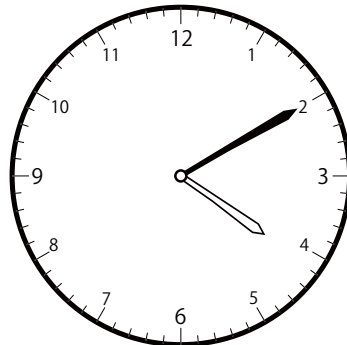

()

()

③ 4時^じ 10分^{ぶん}の時計^{とけい}を見つけよう




()

()

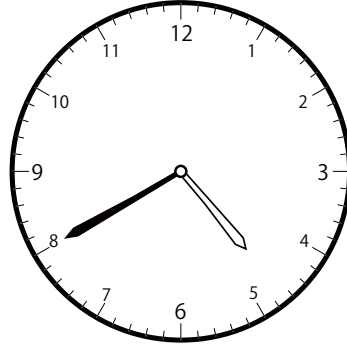
()

〇〇時^じ5分^{ぶん}単位の^{たんい}時計^{とけい}を見つけよう【D2】
問題^{もんだい}と同じ時間^{おなじかん}の時計^{とけい}を見つけて()に〇をつけましょう。


① 6時^じ40分^{ぶん}の時計^{とけい}を見つけよう



()




()




()


② 8時^じ50分^{ぶん}の時計^{とけい}を見つけよう



()




()




()


③ 4時^じ50分^{ぶん}の時計^{とけい}を見つけよう



()



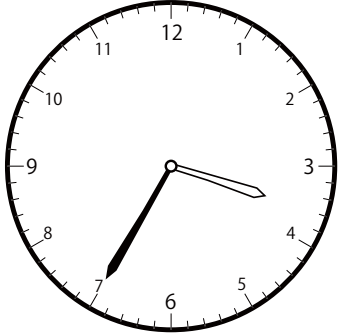
()




()

〇〇時^じ5分^{ふん}単位の^{たんい}時計^{とけい}を見つけよう【D2】
問題^{もんだい}と同じ^{おな}時間^{じかん}の時計^{とけい}を見つけ^みて()に〇をつけ^{つけ}ましょう。

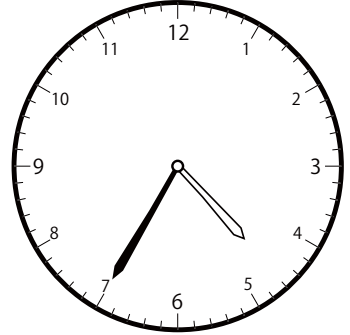
① 4時^じ35分^{ふん}の時計^{とけい}を見つけよう



()




()




()


② 11時^じ35分^{ふん}の時計^{とけい}を見つけよう



()




()

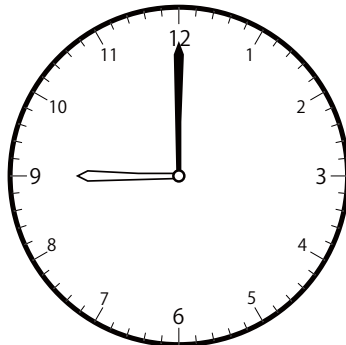


()


③ 9時^じ0分^{ふん}の時計^{とけい}を見つけよう



()




()




()

〇〇時^じ5分^{ふん}単位の^{たんい}時計^{とけい}を見つけよう【D2】
問題^{もんだい}と同じ時間^{おなじかん}の時計^{とけい}を見つけ^みて()に〇をつけましよう。


① 11時^じ40分^{ふん}の時計^{とけい}を見つけよう



()




()

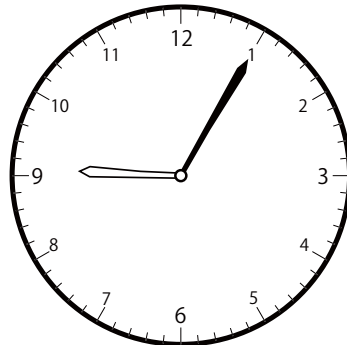


()


② 8時^じ5分^{ふん}の時計^{とけい}を見つけよう



()

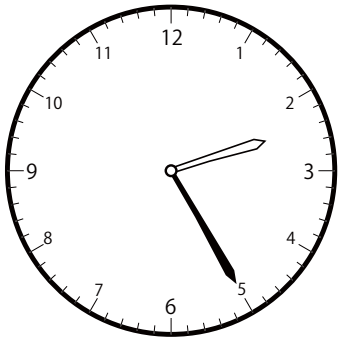


()

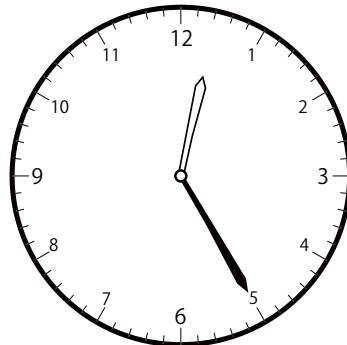


()

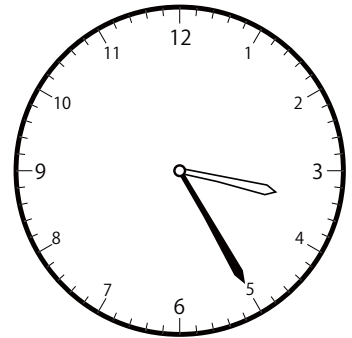
③ 2時^じ25分^{ふん}の時計^{とけい}を見つけよう



()



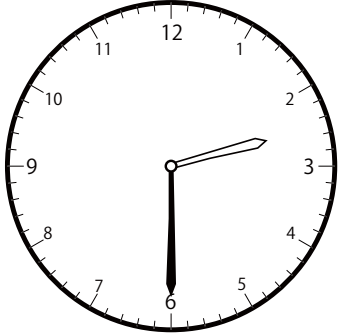
()




()

〇〇時^じ5分^{ふん}単位^{たんい}の時計^{とけい}を見つけよう【D2】
問題^{もんだい}と同じ時間^{おなじかん}の時計^{とけい}を見つけて()に〇をつけましょう。


① 1時^じ30分^{ふん}の時計^{とけい}を見つけよう



()

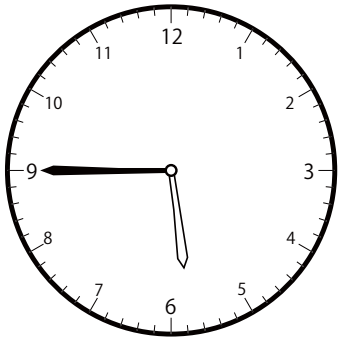


()

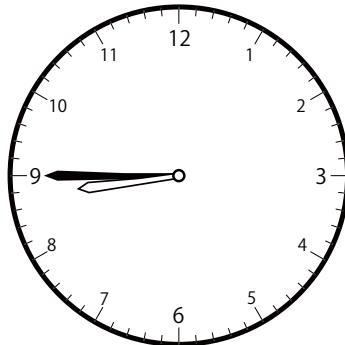


()


② 8時^じ45分^{ふん}の時計^{とけい}を見つけよう



()

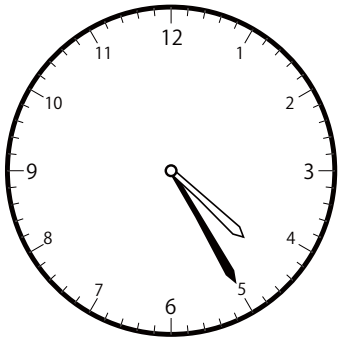


()

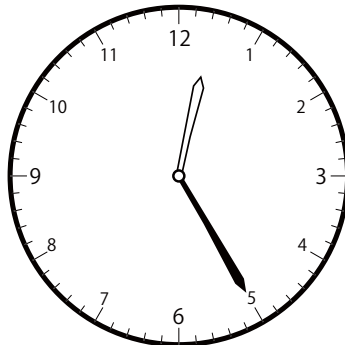


()

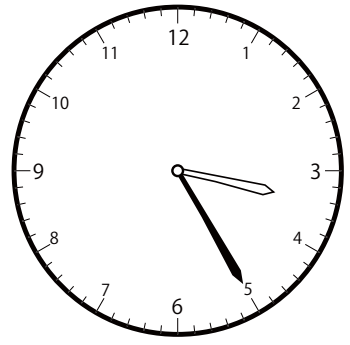
③ 3時^じ25分^{ふん}の時計^{とけい}を見つけよう



()




()



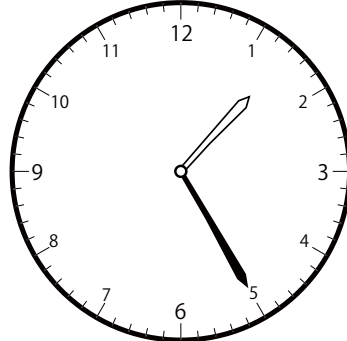
()

〇〇時^じ5分^{ぶん}単位の^{たんい}時計^{とけい}を見つけよう【D2】
問題^{もんだい}と同じ時間^{おなじかん}の時計^{とけい}を見つけ^みて()に〇をつけましよう。


① 1時^じ25分^{ぶん}の時計^{とけい}を見つけよう



()

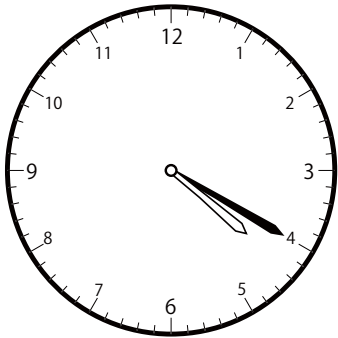


()

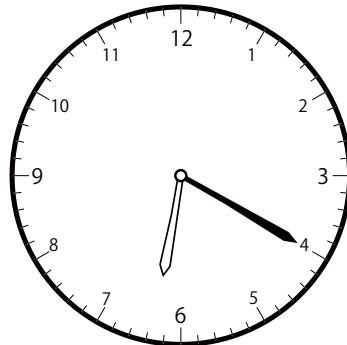


()

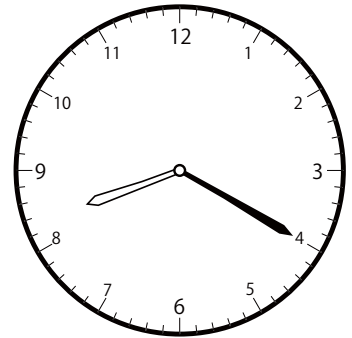
② 6時^じ20分^{ぶん}の時計^{とけい}を見つけよう



()




()

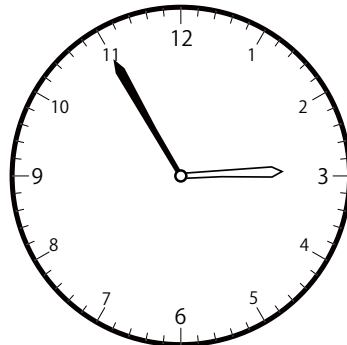


()


③ 5時^じ55分^{ぶん}の時計^{とけい}を見つけよう



()




()



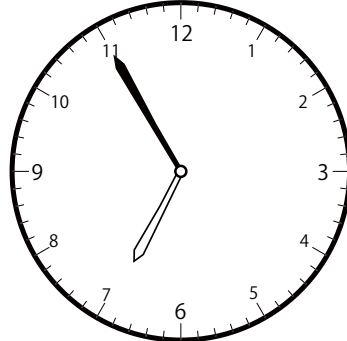
()

〇〇時5分単位の時計を見つけよう【D2】
問題と同じ時間の時計を見つけて()に〇をつけましょう。


① 6時55分の時計を見つけよう



()




()




()


② 9時50分の時計を見つけよう



()

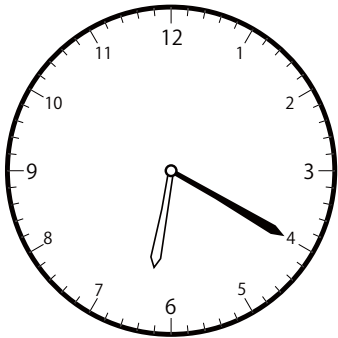


()

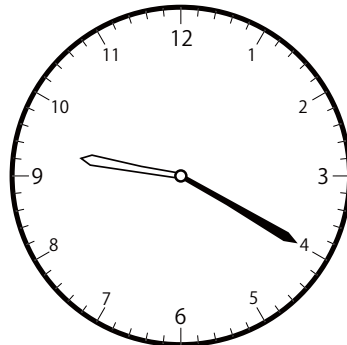


()


③ 9時20分の時計を見つけよう



()




()




()

〇〇時^じ5分^{ぶん}単位^{たんい}の時計^{とけい}を見つけよう【D2】
問題^{もんだい}と同じ時間^{おなじかん}の時計^{とけい}を見つけて()に〇をつけましょう。


① 12時^じ50分^{ぶん}の時計^{とけい}を見つけよう



()

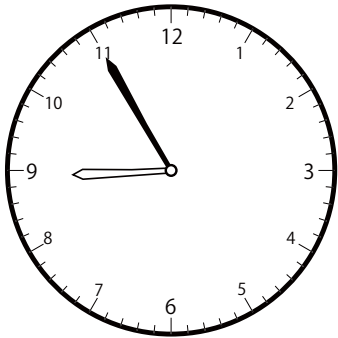


()

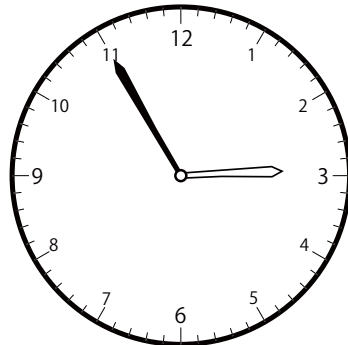


()


② 11時^じ55分^{ぶん}の時計^{とけい}を見つけよう



()




()




()


③ 10時^じ35分^{ぶん}の時計^{とけい}を見つけよう



()




()




()

〇〇時^じ5分^{ふん}単位の^{たんい}時計^{とけい}を見つけよう【D2】
問題^{もんだい}と同じ時間^{おなじかん}の時計^{とけい}を見つけ^みて()に〇をつけましよう。


① 5時^じ5分^{ふん}の時計^{とけい}を見つけよう



()




()




()


② 11時^じ50分^{ふん}の時計^{とけい}を見つけよう



()




()

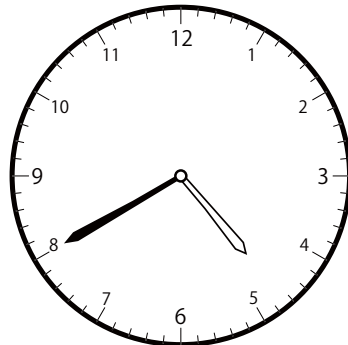


()


③ 1時^じ40分^{ふん}の時計^{とけい}を見つけよう



()




()



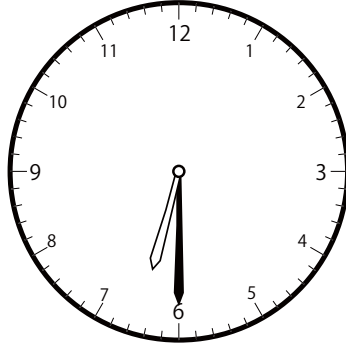
()

〇〇時^じ5分^{ぶん}単位の^{たんい}時計^{とけい}を見つけよう【D2】
 問題^{もんだい}と同じ^{おな}時間^{じかん}の時計^{とけい}を見つけ^みて()に〇をつけましよう。

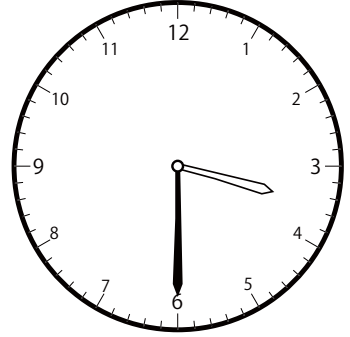
① 3時^じ30分^{ぶん}の時計^{とけい}を見つけよう



()




()




(○)

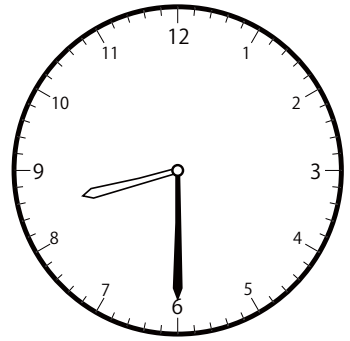
② 11時^じ30分^{ぶん}の時計^{とけい}を見つけよう



()

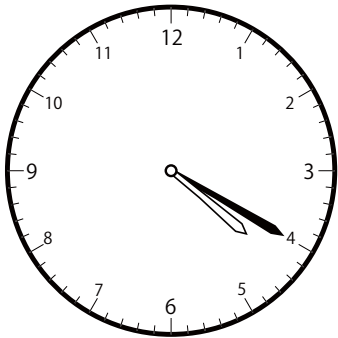


(○)




()

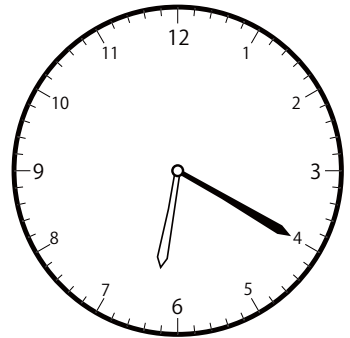
③ 4時^じ20分^{ぶん}の時計^{とけい}を見つけよう



(○)



()



()