


1分単位からの時計を読んで答えよう【まとめAI】答え付き  
なん時、なん分まであとなん分か答えましょう。


①



10時12分まで

あと 分


④



8時23分まで

あと 分


⑦



11時12分まで

あと 分

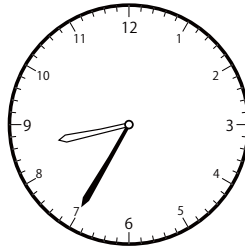
②



10時24分まで

あと 分

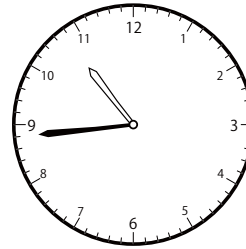
⑤



9時12分まで

あと 分


⑧



11時11分まで

あと 分


③



11時56分まで

あと 分

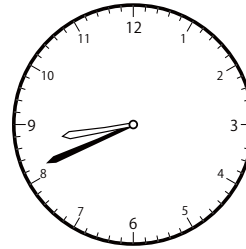
⑥



11時35分まで

あと 分

⑨



8時49分まで

あと 分

① 5分

④ 18分

⑦ 50分

② 5分

⑤ 37分

⑧ 27分

③ 31分

⑥ 5分

⑨ 8分