


1分単位からの時計を読んで答えよう【まとめAI】答え付き
なん時、なん分まであとなん分か答えましょう。

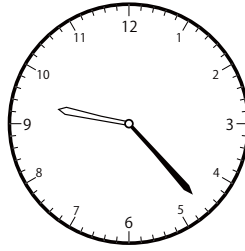
①



11時23分まで

あと 分

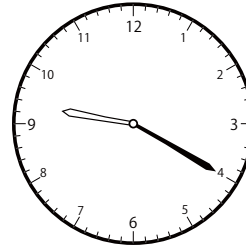
④



9時57分まで

あと 分


⑦



9時21分まで

あと 分


②



8時43分まで

あと 分

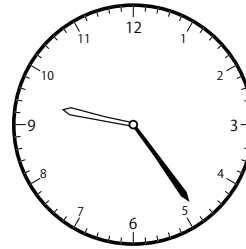
⑤



11時23分まで

あと 分

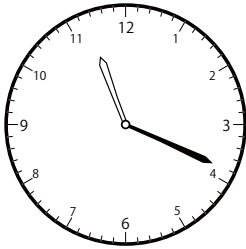
⑧



9時33分まで

あと 分


③



11時28分まで

あと 分

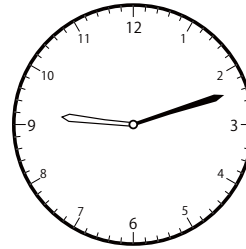
⑥



10時4分まで

あと 分

⑨



9時53分まで

あと 分

① 29分

④ 34分

⑦ 1分

② 38分

⑤ 14分

⑧ 9分

③ 9分

⑥ 43分

⑨ 41分