


1分単位からの時計を読んで答えよう【まとめAI】答え付き
なん時、なん分まであとなん分か答えましょう。

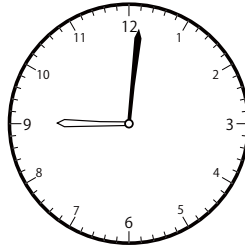
①



9時27分まで

あと 分


④



9時28分まで

あと 分

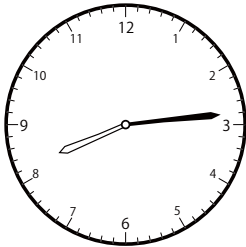
⑦



12時4分まで

あと 分


②



8時17分まで

あと 分

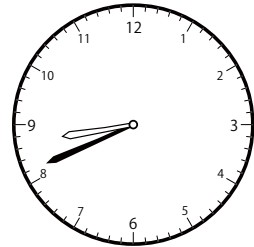
⑤



12時8分まで

あと 分

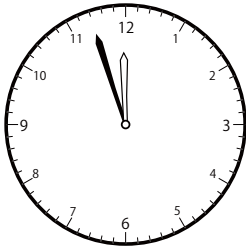
⑧



9時29分まで

あと 分

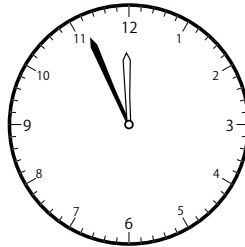
③



12時5分まで

あと 分


⑥



12時17分まで

あと 分

⑨



10時39分まで

あと 分

① 24分

④ 27分

⑦ 24分

② 3分

⑤ 17分

⑧ 48分

③ 8分

⑥ 21分

⑨ 7分