


1分単位からの時計を読んで答えよう【まとめAI】答え付き  
なん時、なん分まであとなん分か答えましょう。


①



11時9分まで

あと 分

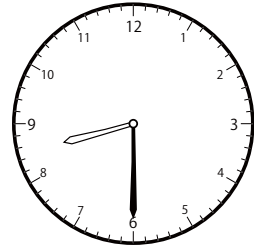
④



11時40分まで

あと 分

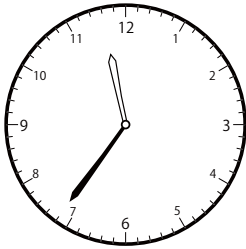
⑦



9時23分まで

あと 分

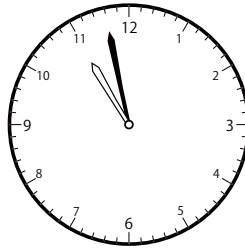
②



12時7分まで

あと 分


⑤



11時55分まで

あと 分

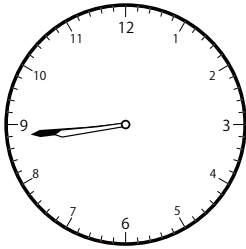
⑧



11時18分まで

あと 分

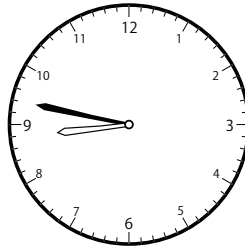
③



9時11分まで

あと 分


⑥



9時0分まで

あと 分

⑨



10時13分まで

あと 分

① 42分

④ 54分

⑦ 53分

② 31分

⑤ 57分

⑧ 45分

③ 27分

⑥ 13分

⑨ 15分