


1分単位からの時計を読んで答えよう【まとめAI】答え付き
なん時、なん分まであとなん分か答えましょう。


①



11時3分まで

あと 分


④



10時36分まで

あと 分

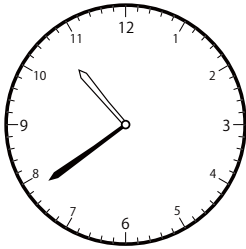
⑦



11時29分まで

あと 分

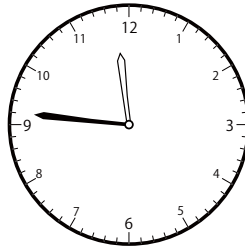
②



11時21分まで

あと 分

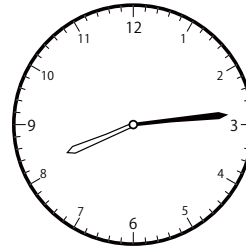
⑤



12時6分まで

あと 分

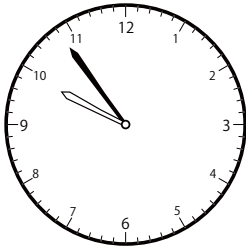
⑧



8時56分まで

あと 分


③



10時24分まで

あと 分


⑥



11時50分まで

あと 分

⑨



11時21分まで

あと 分

① 44分

④ 9分

⑦ 24分

② 42分

⑤ 20分

⑧ 42分

③ 30分

⑥ 29分

⑨ 1分