


おおきな かず

が 月 に 日 じ 時 ふん 分 ~ じ 時 ふん 分


なまえ

1


いくつあるか かぞえて すうじで かきましょう



(まい)



(こ)



(こ)

おおきな かず

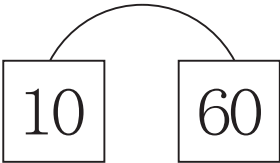
が 月 に 日 じ 時 ぶん 分 ~ じ 時 ぶん 分

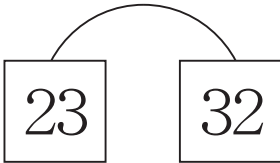
なまえ

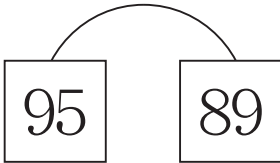
1 あいている に あてはまる かずをかきましょう。

1	2	3	4	5		7	8	9	10
11	12		14	15	16	17	18	19	20
21	22	23	24	25	26	27	28		30
31		33	34	35	36	37	38	39	40
41	42	43	44	45	46	47	48	49	
51	52	53		55	56	57	58	59	60
61	62	63	64	65	66	67		69	70
71	72	73	74		76	77	78	79	80
	82	83	84	85	86	87	88	89	90
91	92	93	94	95	96		98	99	100

2 おおきい かずのほうに ○をつけましょう。

① 
() ()

② 
() ()

③ 
() ()

おおきな かず

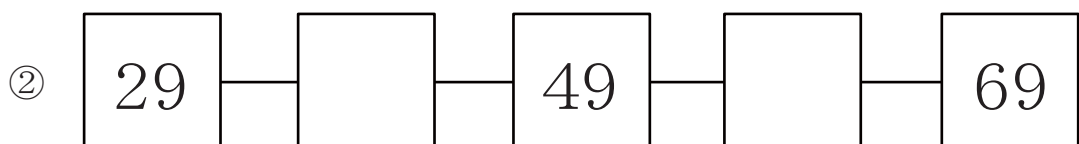
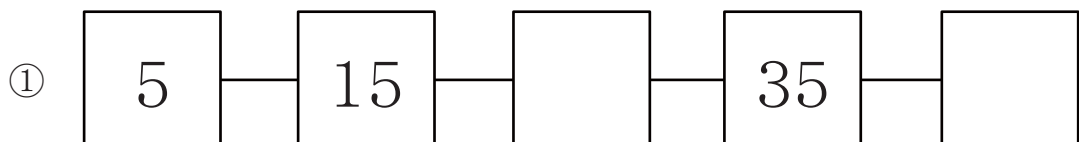
が 月 に 日 じ 時 ぶん 分 ~ じ 時 ぶん 分

なまえ

1 あいている に あてはまる かずをかきましょう。

1	2	3	4	5	6	7			10
11		13	14	15	16	17	18		20
21		23	24	25		27	28	29	30
31	32	33		35	36		38	39	40
	42	43	44		46	47	48	49	50
51	52		54	55	56		58	59	60
	62	63		65	66	67	68	69	70
71	72	73	74	75		77		79	80
81	82		84	85	86	87	88	89	
91	92	93	94		96	97	98	99	

2 に あう かずをかきましょう。

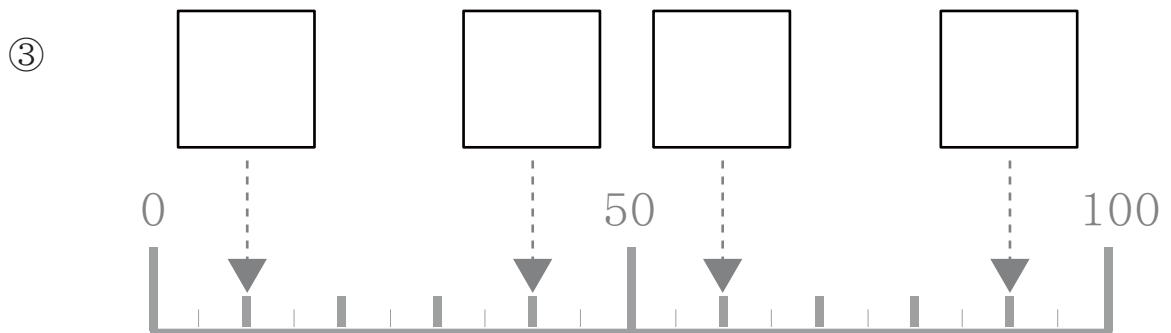
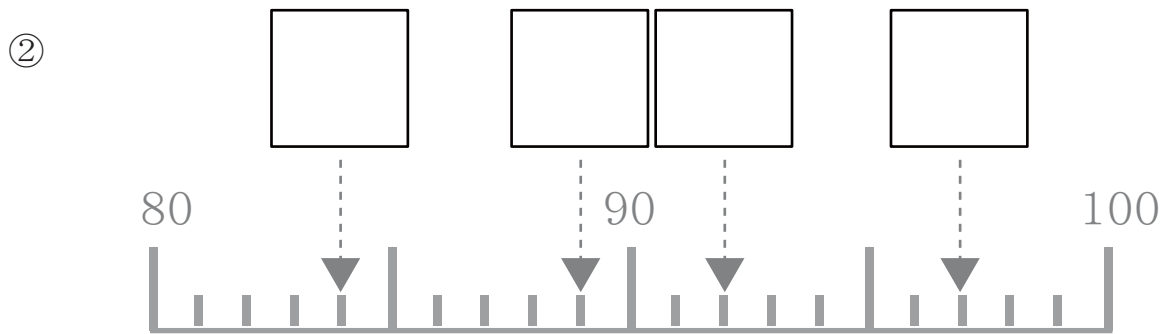
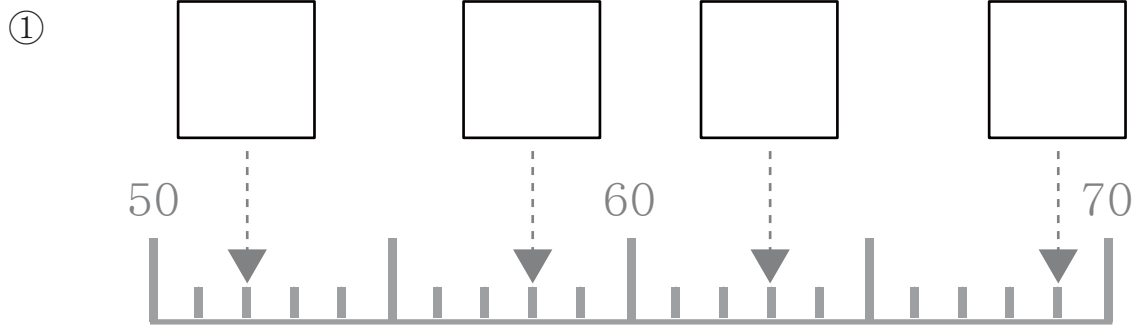


おおきな かず

が 月 に 日 じ 時 ふん 分 ~ じ 時 ふん 分

なまえ _____

1 あいている に あてはまる かずをかきましょう。



おおきな かず

が 月 につ 日 に ち じ 時 ぶん 分 ~ じ 時 ぶん 分

なまえ

1

にあてはまる かずを こたえましょう。

① 95の ^{じゅう}十のくらはいは で、^{いち}一のくらはいは

② 63の ^{じゅう}十のくらはいは で、^{いち}一のくらはいは

③ ^{じゅう}十のくらが 4で、^{いち}一のくらが 8のかずは

④ ^{いち}一のくらが 9で、^{じゅう}十のくらが 4のかずは

2

にあてはまる かずを こたえましょう。

① 80は 10が つ ある かず

② 78は 10が つ、1が つあるかず

③ 10が 10こで

④ 10を 7つと、1を 5つ あわせると

⑤ 100は10が こ

おおきなかず

が につ 月 日 じ 時 ぶん 分 ~ じ 時 ぶん 分

なまえ

1

にあてはまるかずをこたえましょう。

① 50より3 ^{おお}大きい かずは

② 30より8 ^{おお}大きい かずは

③ 90より10 ^{おお}大きい かずは

④ 20より3 ^{ちい}小さい かずは

⑤ 50より5 ^{ちい}小さい かずは

⑥ 100より1 ^{ちい}小さい かずは

⑦ 78は80より ^{ちい}小さい かず

⑧ 78は70より ^{おお}大きい かず

⑨ 100は90より ^{おお}大きい かず

⑩ 43は50より ^{ちい}小さい かず

おおきな かず

が 月 につ 日 じ 時 ぶん 分 ~ じ 時 ぶん 分

なまえ

1 あいている に あてはまる かずを かきましょう。

1			4	5	6	7	8		10
	12	13		15		17	18	19	20
	22		24	25		27	28	29	30
31	32	33	34		36	37			40
41		43		45	46		48	49	50
51	52		54	55	56	57			60
	62	63	64	65	66	67		69	
71		73		75	76		78	79	80
81	82	83	84			87	88	89	
91	92	93	94		96		98	99	

2 ^{うえ} 上のかずの ひょうをみて こたえましょう。

- ① ^{いち} 一のくらいが 8のかずを ぜんぶ ○で かこみましょう
- ② ^{じゅう} 十のくらいが 7のかずを ぜんぶ △で かこみましょう

3 ただしいほうに ○をつけよう

- ① ^{いち} 一のくらいがおなじかずは、 $\left. \begin{array}{l} \text{たて} \\ \text{よこ} \end{array} \right\}$ にならんでいる。
- ② ^{じゅう} 十のくらいがおなじかずは、 $\left. \begin{array}{l} \text{たて} \\ \text{よこ} \end{array} \right\}$ にならんでいる。

