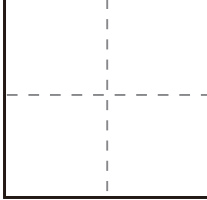
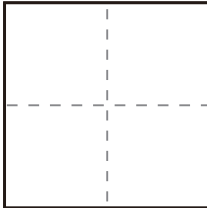


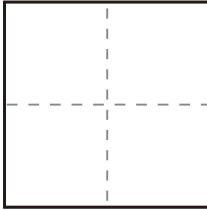
かず
数

くろまる 黒丸ヒント付きの足し算 (STEP1)

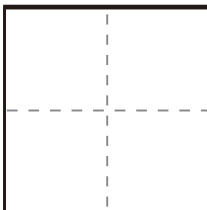
くろまる 黒丸をヒントに次の計算をしましょう。

(1) $1 + 1 =$ 

(2) $1 + 2 =$ 

(3) $2 + 2 =$ 

(4) $3 + 1 =$ 

(5) $3 + 2 =$ 

かず
数

くろまる 黒丸ヒント付きの足し算 (STEP1)

くろまる 黒丸をヒントに次の計算をしましょう。

(1)

$$2 + 1 = \square$$

○○ ●

(2)

$$2 + 2 = \square$$

○○ ●●

(3)

$$1 + 4 = \square$$

○ ●●●●

(4)

$$3 + 2 = \square$$

○○○ ●●

(5)

$$4 + 1 = \square$$

○○○○ ●

