

かず
数

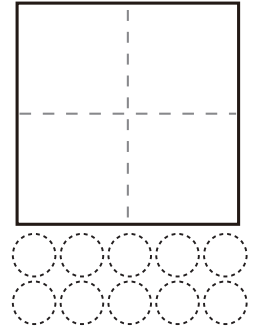
あわせていくつ（10までの^{かず}数）

つぎ もんだい よ こた
次の問題を読んで答えましょう。

問1

1 と 7 で

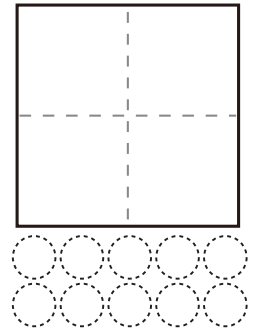
○ ●●●●●●●



問2

2 と 2 で

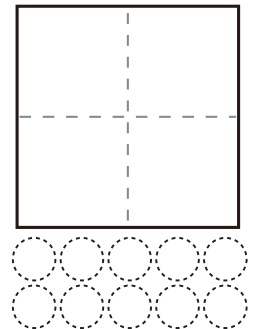
○○ ●●



問3

3 と 4 で

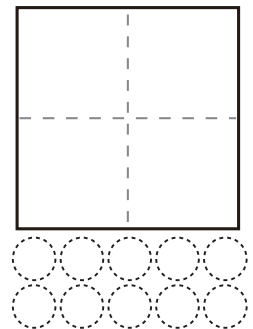
○○○ ●●●●



問4

4 と 4 で

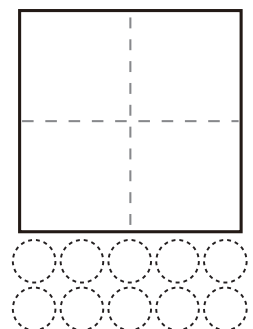
○○○○ ●●●●



問5

4 と 2 で

○○○○ ●●



かず
数

あわせていくつ（10までの^{かず}数）

つぎ もんだい よ こた
次の問題を読んで答えましょう。


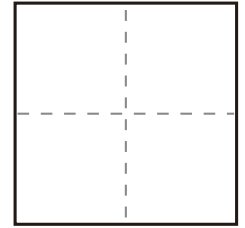
問1

6

と

3

で




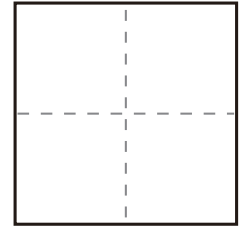
問2

2

と

3

で



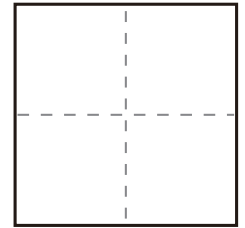
問3

2

と

5

で



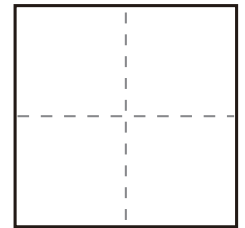
問4

1

と

8

で



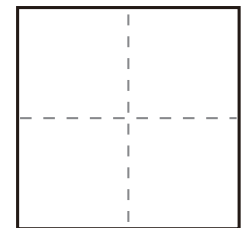
問5

9

と

1

で





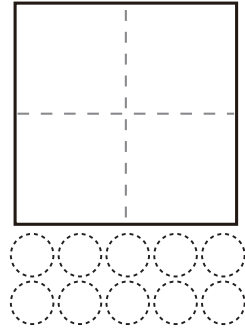
かず
数

あわせていくつ（10までの^{かず}数）

つぎ もんだい よ こた
次の問題を読んで答えましょう。



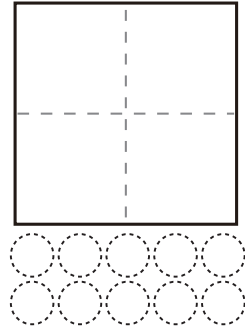
問1

1 と 6 で



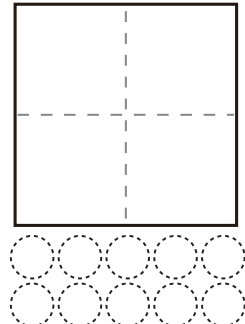
問2

8 と 2 で



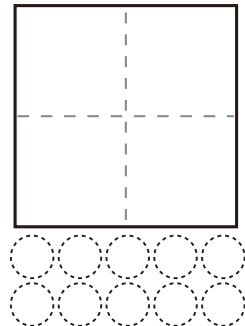
問3

7 と 3 で



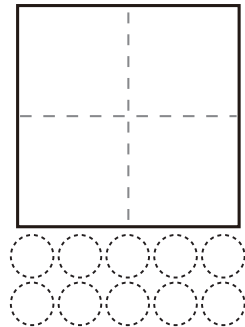
問4

3 と 6 で

問5

5 と 5 で


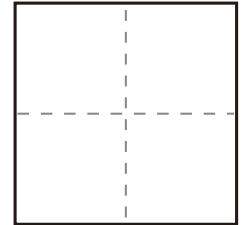
かず
数

あわせていくつ（10までの^{かず}数）

つぎ もんだい よ こた
次の問題を読んで答えましょう。

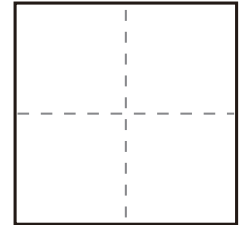
問1

4 と 6 で



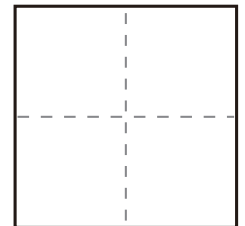
問2

3 と 5 で



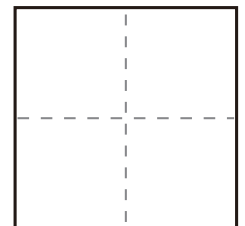
問3

4 と 1 で



問4

3 と 2 で



問5

5 と 4 で

