

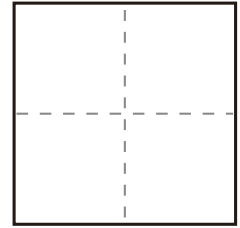
かず
数

いくつといくつ (答えが10まで) STEP3

つぎ もんだい よ こた
次の問題を読んで答えましょう。

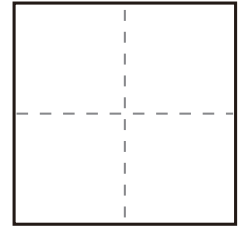
問1

2 は 1 と
●○



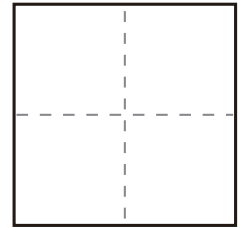
問2

6 は 3 と
●●●○○○



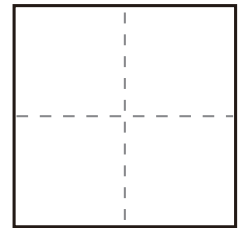
問3

3 は 2 と
●●○



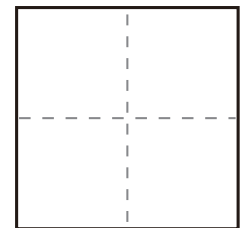
問4

5 は 4 と
●●●●○



問5

4 は 3 と
●●●○



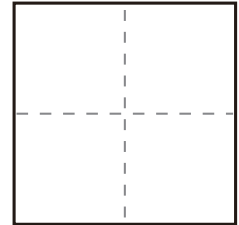
かず
数

いくつといくつ (答えが10まで) STEP3

つぎ もんだい よ こた
次の問題を読んで答えましょう。

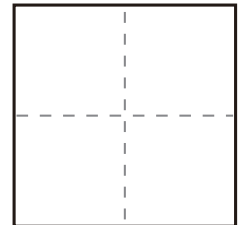
問1 10 は 7 と

●●●●●●○○○○



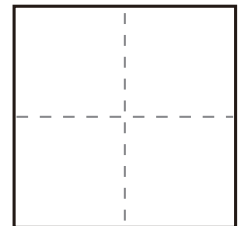
問2 9 は 4 と

●●●●○○○○○○



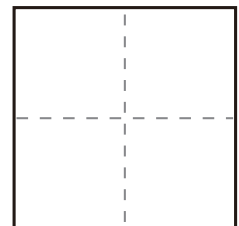
問3 7 は 5 と

●●●●●○○○



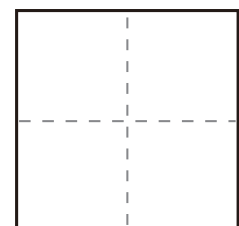
問4 8 は 6 と

●●●●●●○○



問5 7 は 4 と

●●●●○○○○



かず
数

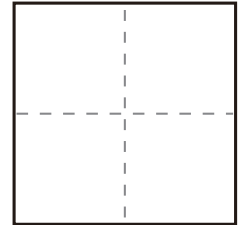
いくつといくつ (答えが10まで) STEP3

つぎ もんだい よ こた
次の問題を読んで答えましょう。

問1

5 は 2 と

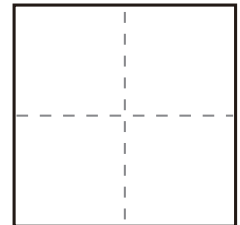
●●○○○



問2

3 は 1 と

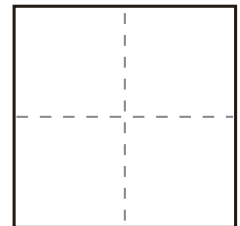
●○○



問3

9 は 3 と

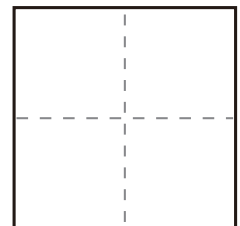
●●●○○○○○○○



問4

4 は 2 と

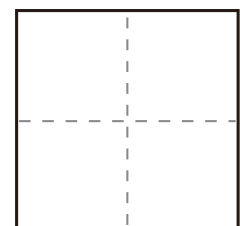
●●○○



問5

10 は 5 と

●●●●●○○○○○



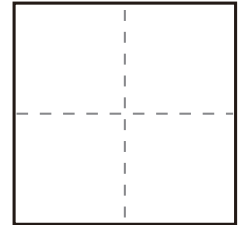
かず
数

いくつといくつ (答えが10まで) STEP3

つぎ もんだい よ こた
次の問題を読んで答えましょう。

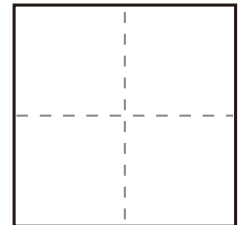
問1

6 は 4 と
●●●●○○



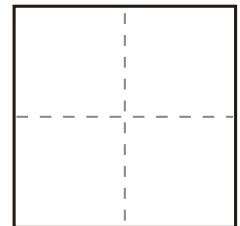
問2

8 は 5 と
●●●●●○○○



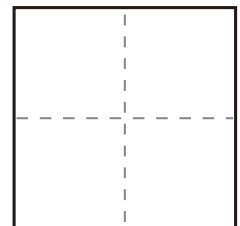
問3

5 は 3 と
●●●○○



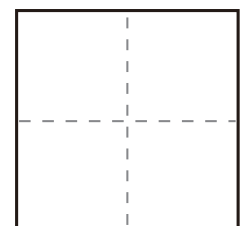
問4

9 は 2 と
●●○○○○○○○○



問5

3 は 1 と
●○○



かず
数

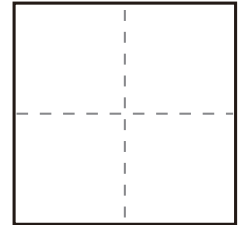
いくつといくつ (答えが10まで) STEP3

つぎ もんだい よ こた
次の問題を読んで答えましょう。

問1

4 は 3 と

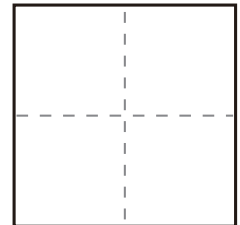
●●●○



問2

10 は 6 と

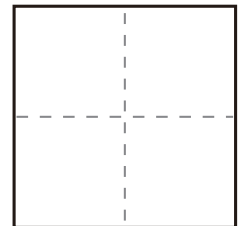
●●●●●○○○○



問3

6 は 5 と

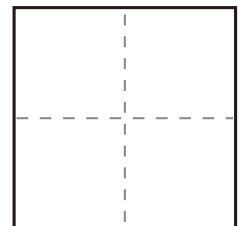
●●●●●○



問4

8 は 4 と

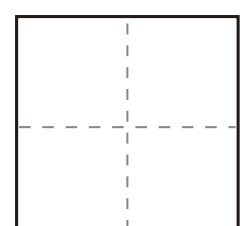
●●●●○○○○



問5

7 は 6 と

●●●●●○



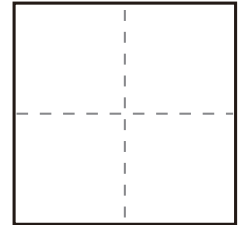
かず
数

いくつといくつ (答えが10まで) STEP3

つぎ もんだい よ こた
次の問題を読んで答えましょう。

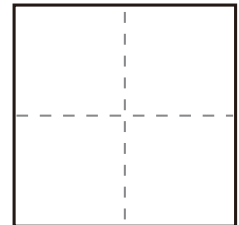
問1 8 は 3 と

●●●○○○○○



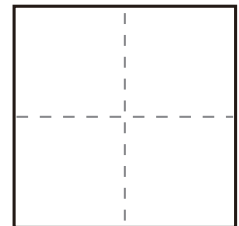
問2 10 は 4 と

●●●●○○○○○○○



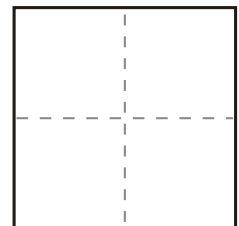
問3 6 は 5 と

●●●●●○



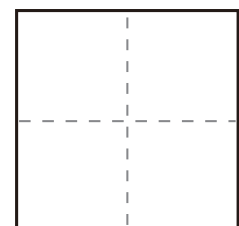
問4 4 は 3 と

●●●○



問5 9 は 4 と

●●●●○○○○○



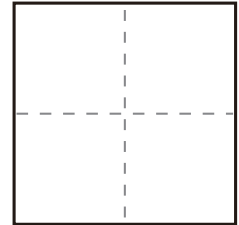
かず
数

いくつといくつ (答えが10まで) STEP3

つぎ もんだい よ こた
次の問題を読んで答えましょう。

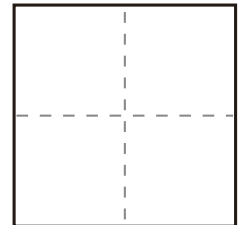
問1 3 は 2 と

●●○



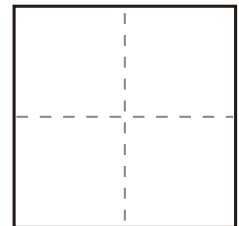
問2 7 は 4 と

●●●●○○○



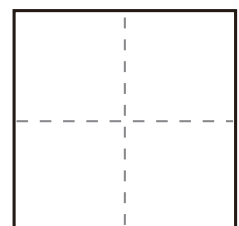
問3 5 は 3 と

●●●○○



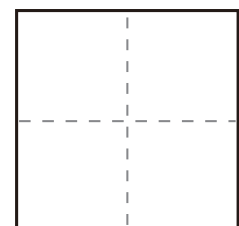
問4 10 は 3 と

●●●○○○○○○○○



問5 9 は 4 と

●●●●○○○○○



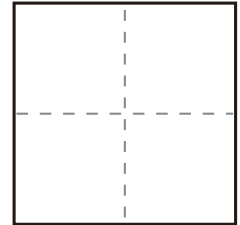
かず
数

いくつといくつ (答えが10まで) STEP3

つぎ もんだい よ こた
次の問題を読んで答えましょう。

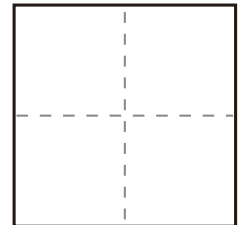
問1 7 は 5 と

●●●●●○○



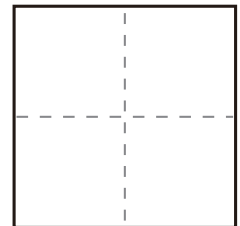
問2 3 は 1 と

●○○



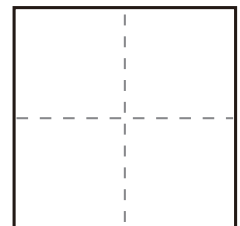
問3 8 は 7 と

●●●●●●●○



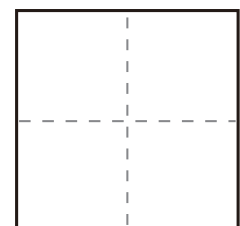
問4 5 は 4 と

●●●●○



問5 6 は 3 と

●●●○○○



かず
数

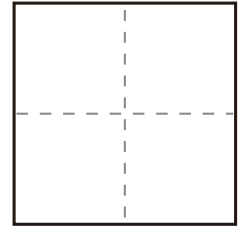
いくつといくつ (答えが10まで) STEP3

つぎ もんだい よ こた
次の問題を読んで答えましょう。

問1

4 は 2 と

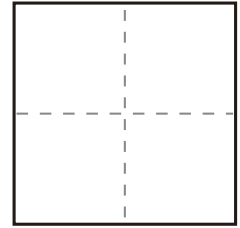
●●○○



問2

5 は 4 と

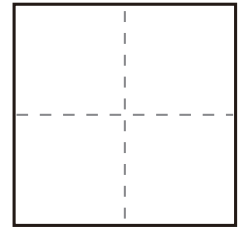
●●●●○



問3

9 は 7 と

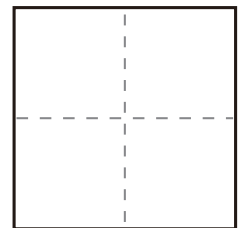
●●●●●●●○○



問4

4 は 1 と

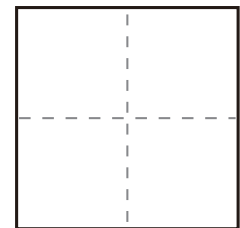
●○○○



問5

8 は 6 と

●●●●●●○○

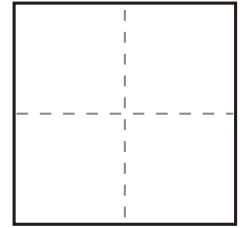


かず
数

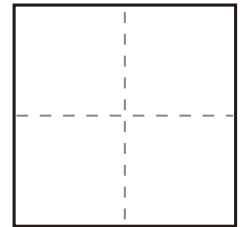
いくつといくつ (答えが10まで) STEP3

つぎ もんだい よ こた
次の問題を読んで答えましょう。

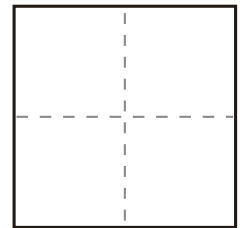
問1 3 は 2 と
●●○



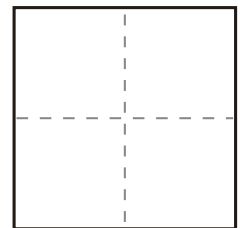
問2 7 は 6 と
●●●●●○



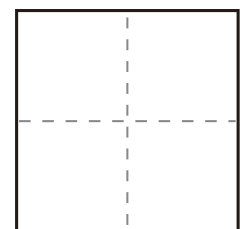
問3 6 は 4 と
●●●●○○



問4 10 は 9 と
●●●●●●●●○



問5 9 は 3 と
●●●○○○○○○○



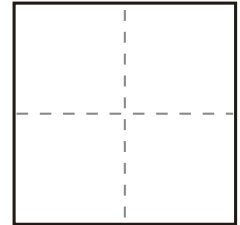
かず
数

いくつといくつ (答えが10まで) STEP3

つぎ もんだい よ こた
次の問題を読んで答えましょう。

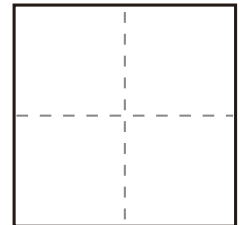
問1

5 は 2 と
●●○○○



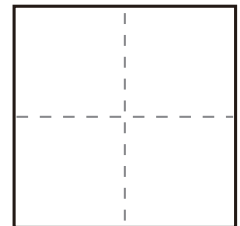
問2

7 は 2 と
●●○○○○○



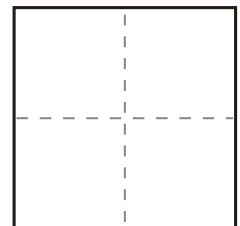
問3

6 は 4 と
●●●●○○



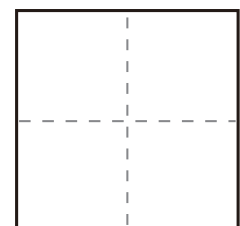
問4

3 は 1 と
●○○



問5

10 は 6 と
●●●●●○○○○



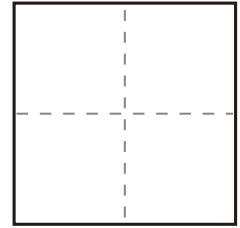
かず
数

いくつといくつ (答えが10まで) STEP3

つぎ もんだい よ こた
次の問題を読んで答えましょう。

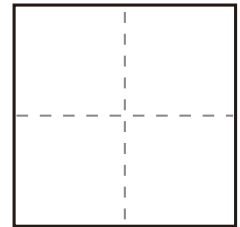
問1 8 は 4 と

●●●●○○○○



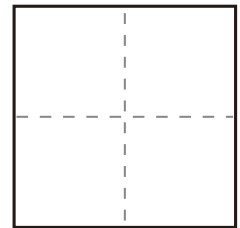
問2 4 は 3 と

●●●○



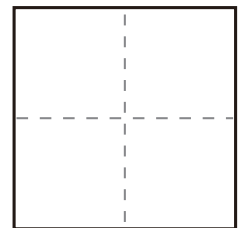
問3 5 は 3 と

●●●○○



問4 3 は 2 と

●●○



問5 8 は 7 と

●●●●●●●○

