


え み かず こた もんだい  
絵を見て数を答える問題 (10 から 20)


え み かぞ ただ かず まる かこ  
それぞれ絵を見て数えて、正しい数を丸で囲みましょう。

①



9	10	11
---	----	----

②




10	11	12
----	----	----

え み かず こた もんだい  
絵を見て数を答える問題 (10 から 20)


え み かぞ ただ かず まる かこ  
それぞれ絵を見て数えて、正しい数を丸で囲みましょう。

③



1 1	1 2	1 3
-----	-----	-----

④




1 2	1 3	1 4
-----	-----	-----

え み かず こた もんだい  
絵を見て数を答える問題 (10 から 20)


え み かぞ ただ かず まる かこ  
それぞれ絵を見て数えて、正しい数を丸で囲みましょう。

⑤



14	15	16
----	----	----

⑥



15	16	17
----	----	----

え み かず こた もんだい  
絵を見て数を答える問題 (10 から 20)


それぞれ絵を見て数えて、正しい数を丸で囲みましょう。

⑦



16	17	18
----	----	----

⑧



16	17	18
----	----	----

え み かず こた もんだい  
絵を見て数を答える問題 (10 から 20)


え み かぞ ただ かず まる かこ  
それぞれ絵を見て数えて、正しい数を丸で囲みましょう。

⑨



18	19	20
----	----	----

⑩



18	19	20
----	----	----

え み かず こた もんだい  
絵を見て数を答える問題 (10 から 20)

え み かぞ ただ かず まる かこ  
それぞれ絵を見て数えて、正しい数を丸で囲みましょう。

⑪



13	14	15
----	----	----

⑫




17	18	19
----	----	----

え み かず こた もんだい  
絵を見て数を答える問題 (10 から 20)


え み かぞ ただ かず まる かこ  
それぞれ絵を見て数えて、正しい数を丸で囲みましょう。

⑬



1 2	1 3	1 4
-----	-----	-----

⑭

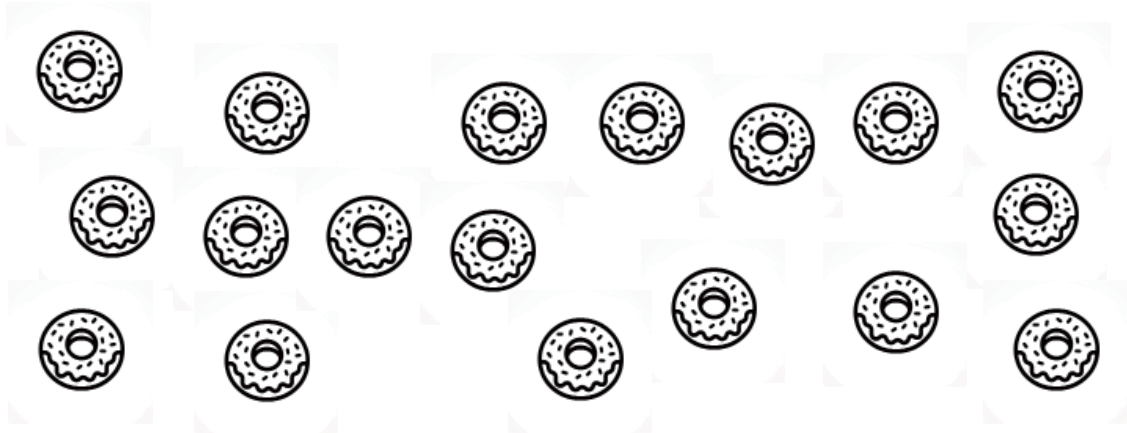


1 6	1 7	1 8
-----	-----	-----

え み かず こた もんだい  
絵を見て数を答える問題 (10 から 20)


え み かぞ ただ かず まる かこ  
それぞれ絵を見て数えて、正しい数を丸で囲みましょう。

15



16	17	18
----	----	----

16




18	19	20
----	----	----



え み かず こた もんだい  
絵を見て数を答える問題 (10 から 20)


え み かぞ ただ かず まる かこ  
それぞれ絵を見て数えて、正しい数を丸で囲みましょう。

①7



13	14	15
----	----	----

①8



18	19	20
----	----	----