

え み かず こた もんだい  
絵を見て数を答える問題

え み かぞ ただ かず まる かこ  
それぞれ絵を見て数えて、正しい数を丸で囲みましょう。

①



1	2	3
---	---	---

②



1	2	3
---	---	---

え み かず こた もんだい  
絵を見て数を答える問題


それぞれ絵を見て数えて、正しい数を丸で囲みましょう。

③



2	3	4
---	---	---

④



3	4	5
---	---	---

え み かず こた もんだい  
絵を見て数を答える問題

それぞれ絵を見て数えて、正しい数を丸で囲みましょう。

⑤



4	5	6
---	---	---

⑥



4	5	6
---	---	---

え み かず こた もんだい  
絵を見て数を答える問題


それぞれ絵を見て数えて、正しい数を丸で囲みましょう。

⑦



6	7	8
---	---	---

⑧



6	7	8
---	---	---

え み かず こた もんだい  
絵を見て数を答える問題

それぞれ絵を見て数えて、正しい数を丸で囲みましょう。

⑨



8	9	10
---	---	----

⑩



8	9	10
---	---	----

え み かず こた もんだい  
絵を見て数を答える問題

それぞれ絵を見て数えて、正しい数を丸で囲みましょう。

⑪



7	8	9
---	---	---

⑫



8	9	10
---	---	----

え み かず こた もんだい  
絵を見て数を答える問題


え み かぞ ただ かず まる かこ  
それぞれ絵を見て数えて、正しい数を丸で囲みましょう。

⑬



4	5	6
---	---	---

⑭



6	7	8
---	---	---

え み かず こた もんだい  
絵を見て数を答える問題


それぞれ絵を見て数えて、正しい数を丸で囲みましょう。

⑮



6	7	8
---	---	---

⑯




8	9	10
---	---	----



え み かず こた もんだい  
絵を見て数を答える問題


それぞれ絵を見て数えて、正しい数を丸で囲みましょう。

⑰



3	4	5
---	---	---

⑱



8	9	10
---	---	----

え み かず こた もんだい  
絵を見て数を答える問題


それぞれ絵を見て数えて、正しい数を丸で囲みましょう。

19



1	2	3
---	---	---

20



4	5	6
---	---	---

え み かず こた もんだい  
絵を見て数を答える問題


それぞれ絵を見て数えて、正しい数を丸で囲みましょう。

②1



4	5	6
---	---	---

②2



5	6	7
---	---	---

え み かず こた もんだい  
絵を見て数を答える問題

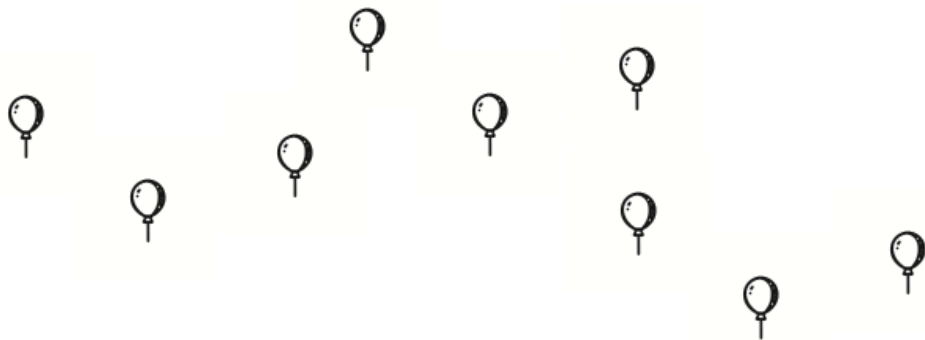
それぞれ絵を見て数えて、正しい数を丸で囲みましょう。

23



8	9	10
---	---	----

24



8	9	10
---	---	----