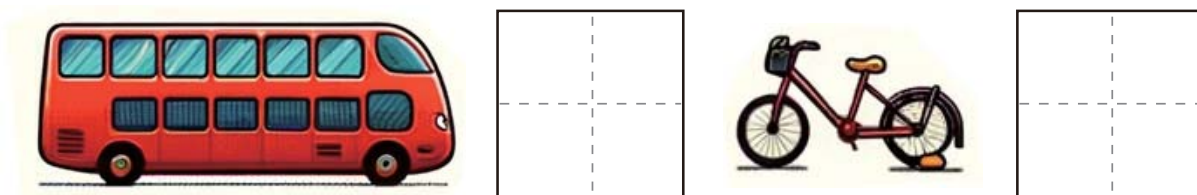



のりもの かぞ もんだい
乗物を数える問題 ①

それぞれ乗物を数えて に数を書きましょう。




のりもの かぞ もんだい
乗物を数える問題 ①

それぞれ乗物を数えて  に数を書きましょう。




のりもの かぞ もんだい
乗物を数える問題 ①

それぞれ乗物を数えて  に数を書きましょう。