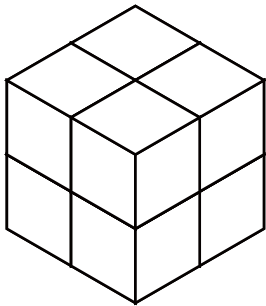


いくつ積み木を減らすか考える問題 B

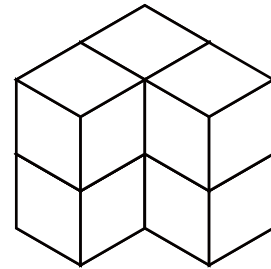
ひだり つ き へ
左の積み木から いくつ積み木を減らすと

みぎ つみ き かたち へ かず
右の積み木の形になりますか？ 減らす数を () に答えましょう。

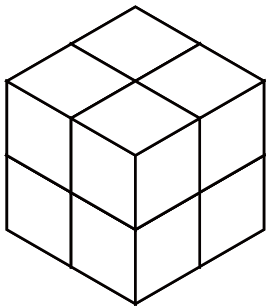
1



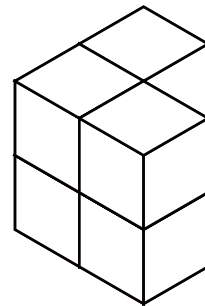

() 減らす



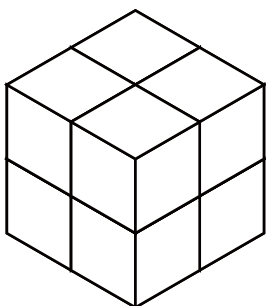
2



() 減らす



3



() 減らす

