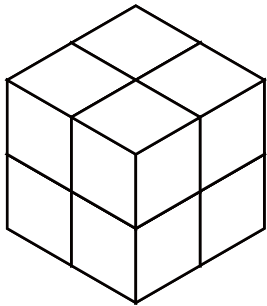


# いくつ積み木を減らすか考える問題 B

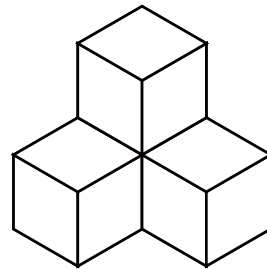
ひだり つき き から いくつ つき き を へ 減らすと

みぎ つみ き かたち 右の積み木の形になりますか？ 減らす数を ( ) に答えましょう。

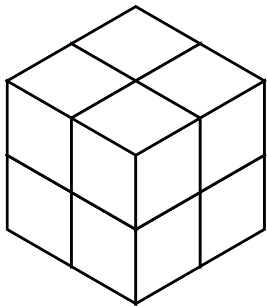
1



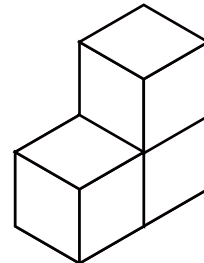

( ) へ 減らす



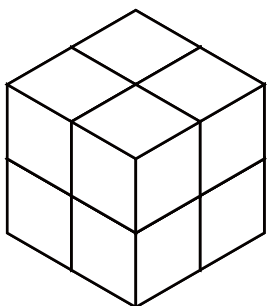
2



( ) へ 減らす



3



( ) へ 減らす

