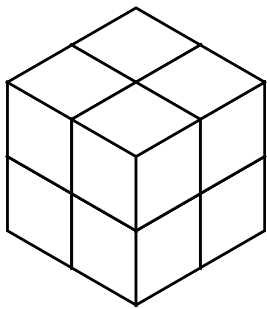


# いくつ積み木を減らすか考える問題 B

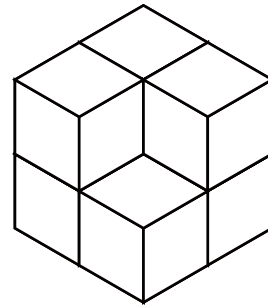
ひだり つき き から いくつ つき き を 減らすと

右の積み木の形になりますか？ 減らす数を ( ) に答えましょう。

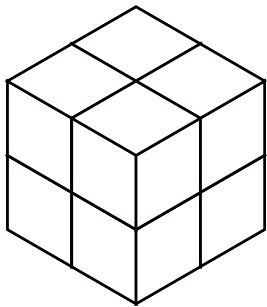
1



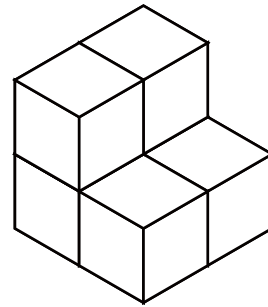
( ) 減らす



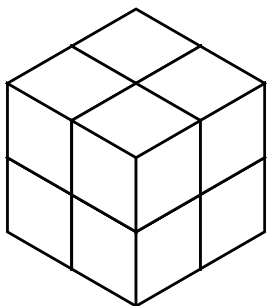
2



( ) 減らす



3



( ) 減らす

