


いくつ積み木を減らすか考える問題

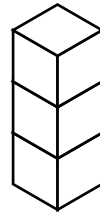
ひだり つき き へ
左の積み木から いくつ積み木を減らすと

みぎ つみ き かたち へ かず
右の積み木の形になりますか？ 減らす数を () に答えましょう。

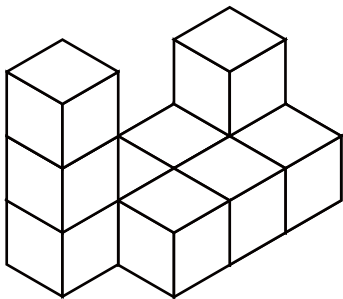
1



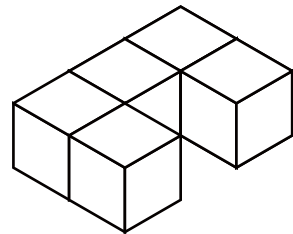
() へ減らす




2



() へ減らす



3



() へ減らす

