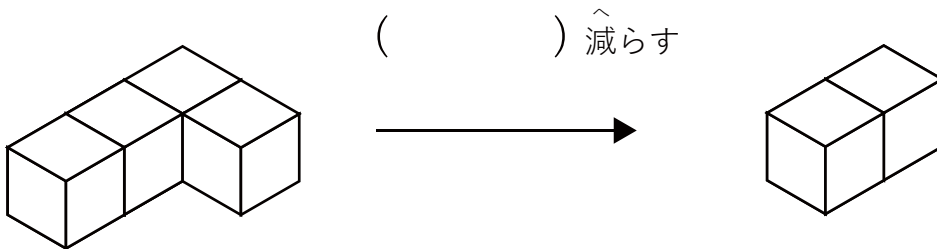


いくつ積み木を減らすか考える問題

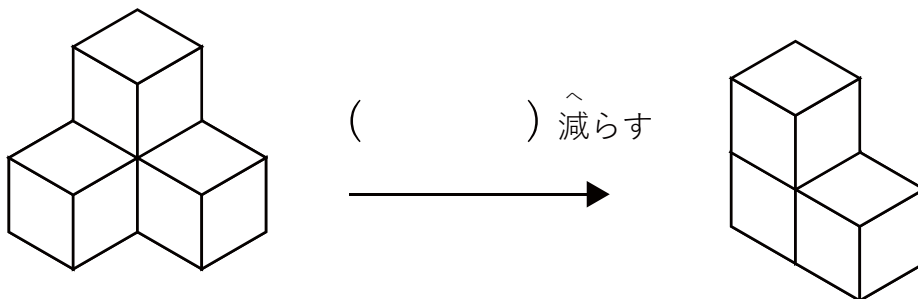
ひだり つき 木 から いくつ つき 木 を 減らす と

右の積み木の形になりますか？ 減らす数を () に答えましょう。

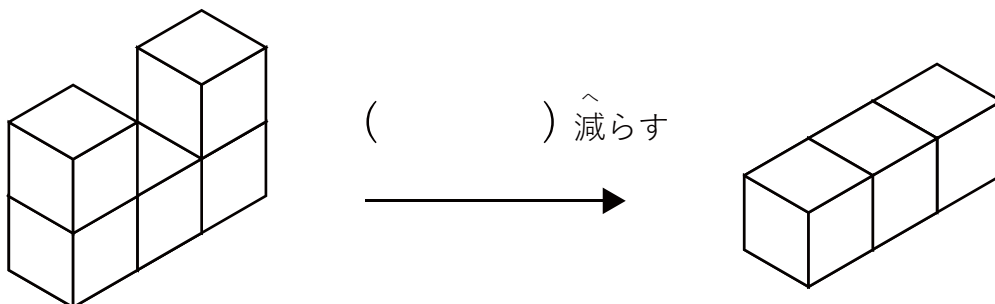
1



2



3

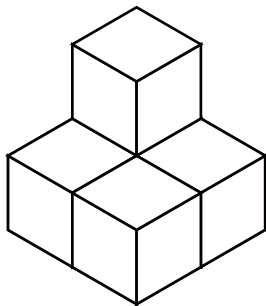


いくつ積み木を減らすか考える問題

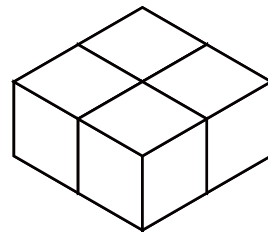
ひだり つき き から いくつ つき き を 減らすと

右の積み木の形になりますか？ 減らす数を () に答えましょう。

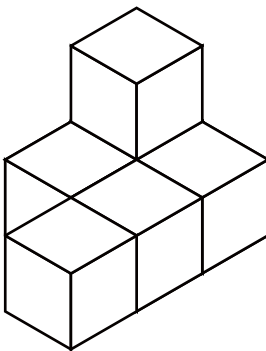
1



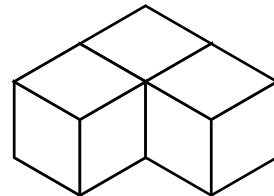

() 減らす



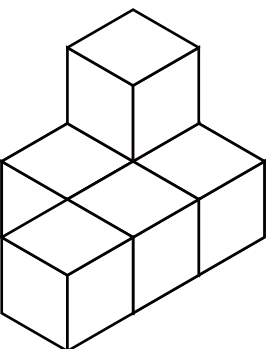
2



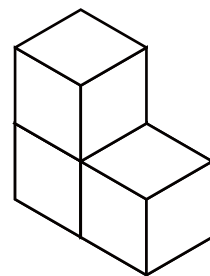

() 減らす



3



() 減らす

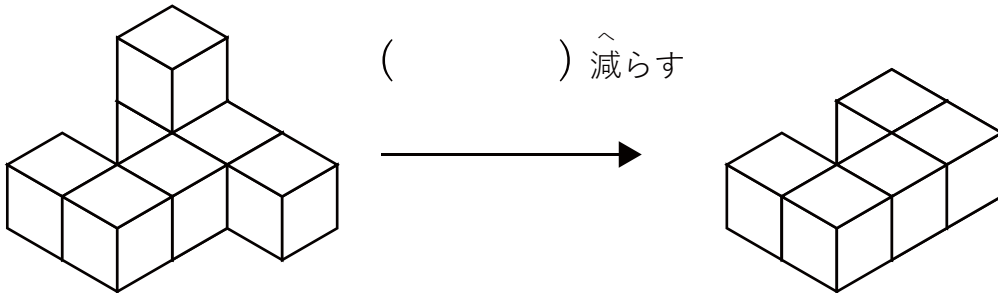


いくつ積み木を減らすか考える問題

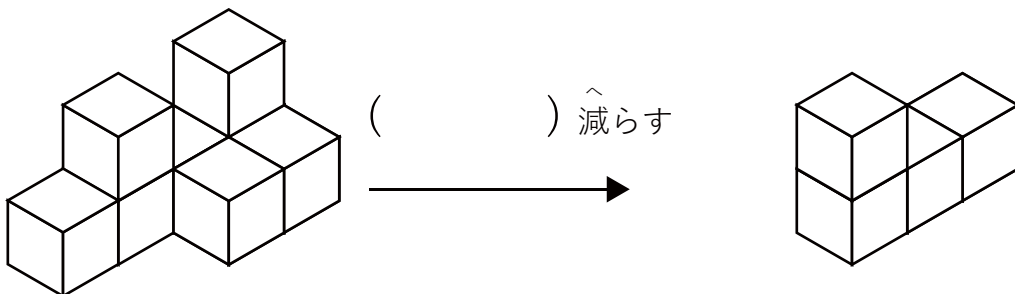
ひだり つき き から いくつ つき き を へ 減らすと

みぎ つみ き かたち になり ます か？ へ 減らす 数 を () に 答え まし ょ う。

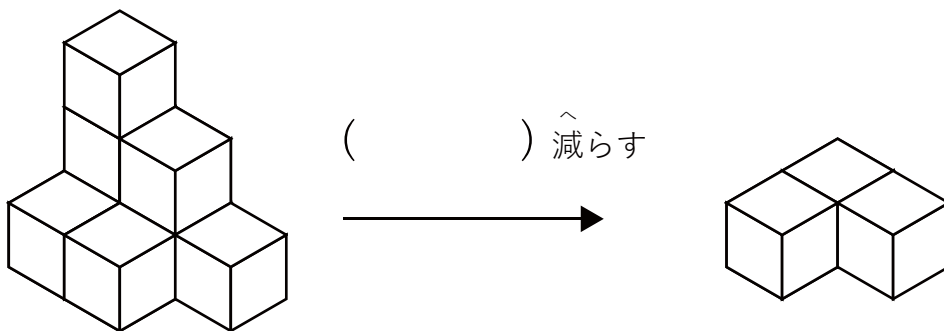
1



2



3




いくつ積み木を減らすか考える問題

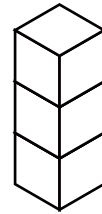
ひだり つき き へ
左の積み木から いくつ積み木を減らすと

みぎ つみ き かたち
右の積み木の形になりますか？ 減らす数を () に答えましょう。

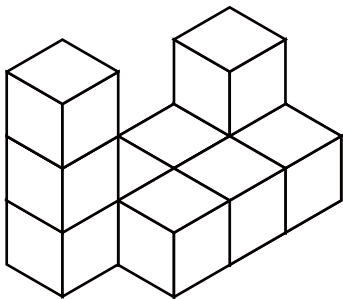
1



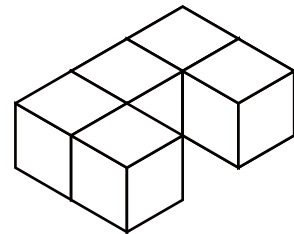
() 減らす




2



() 減らす



3



() 減らす

