

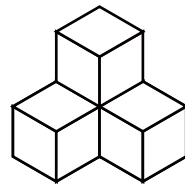
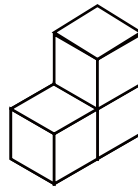
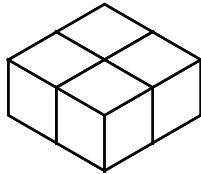
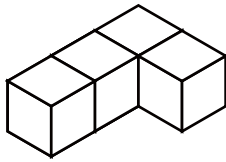
かず ちが つ き み もんだい
 数が違う積み木を見つける問題

なら ちが つ き 中で かず ちが つみ き
 並んでいる積み木の中で数が違う積み木が1つあります。

かず ちが つ き み
 数が違う積み木を見つけて○をつけましょう。

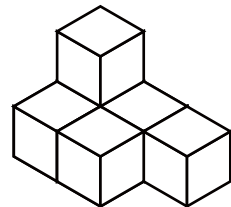
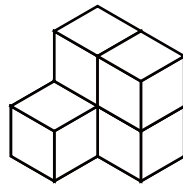
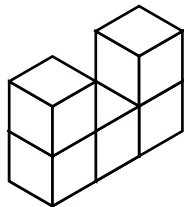
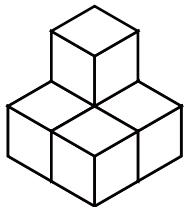
1

() () () ()



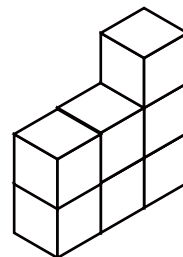
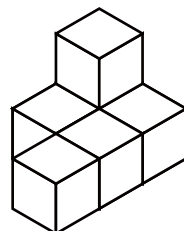
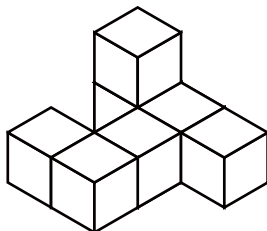
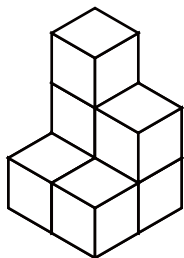
2

() () () ()



3

() () () ()

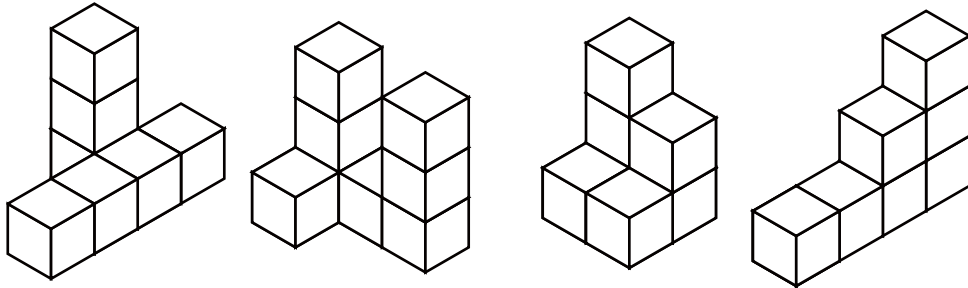


かず ちが つ き み もんだい
 数が違う積み木を見つける問題

なら
 並んでいる積み木の中で数が違う積み木が1つあります。
 かず ちが つ き み
 数が違う積み木を見つけて○をつけましょう。

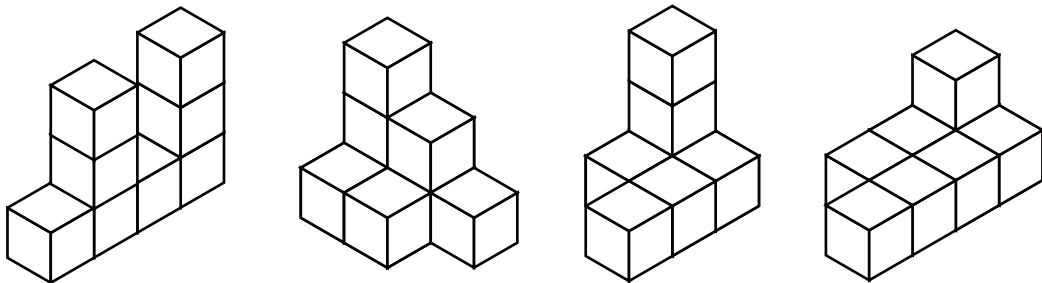
1

() () () ()



2

() () () ()



3

() () () ()

