




かず  
数

くろまる 黒丸 ヒント 付き の 足し算 (STEP3)

くろまる 黒丸 を ヒント に 次の 計算 を しましょ う。



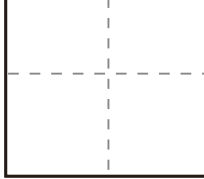
(1)

$$6 + 6 = \square$$




(2)

$$9 + 5 = \square$$




(3)

$$5 + 8 = \square$$

(4)

$$4 + 9 = \square$$

(5)

$$8 + 9 = \square$$

