

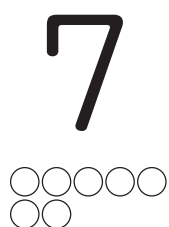


かず  
数

くろまる 黒丸ヒント付きの足し算 (STEP2)

くろまる 黒丸をヒントに次の計算をしましょう。




(1)

$$7 + 2 = \square$$




(2)

$$1 + 4 = \square$$




(3)

$$2 + 8 = \square$$

(4)

$$8 + 1 = \square$$

(5)

$$3 + 1 = \square$$

