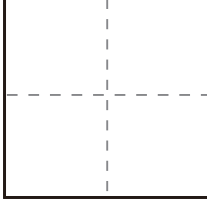
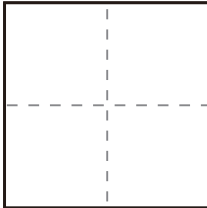


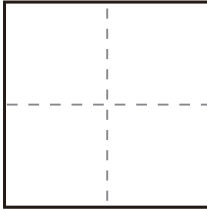
かず
数

くろまる 黒丸ヒント付きの足し算 (STEP1)

くろまる 黒丸をヒントに次の計算をしましょう。

(1) $1 + 1 =$ 

(2) $1 + 2 =$ 

(3) $2 + 2 =$ 

(4) $3 + 1 =$ 

(5) $3 + 2 =$ 