

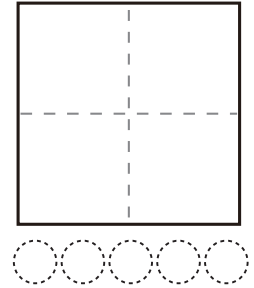
かず  
数

あわせていくつ（5までの<sup>かず</sup>数）

つぎ もんだい よ こた  
次の問題を読んで答えましょう。

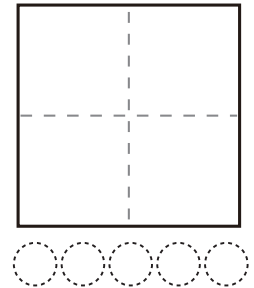
問1

3 と 1 で  
○○○ ●



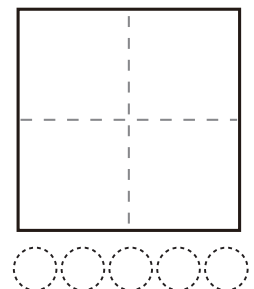
問2

2 と 3 で  
○○ ●●●



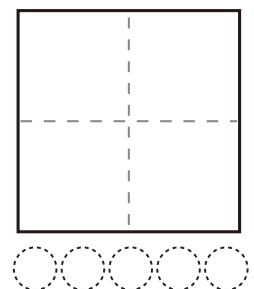
問3

3 と 2 で  
○○○ ●●



問4

1 と 2 で  
○ ●●



問5

4 と 1 で  
○○○○ ●

