

ぶんしょうからのひきざん ねん がつ にち

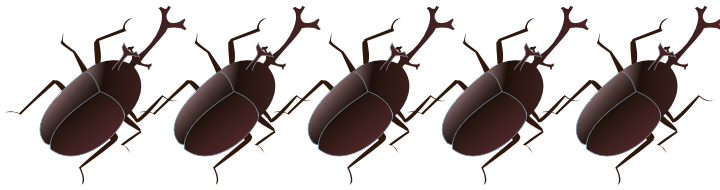
なまえ

あるなつのひのできごとです。

きょう パパとカブトムシを5ひきつかまえてもちかえりました。

つぎのひ カブトムシ2ひきをともだちにあげました。

ぼくはいま なんびきのカブトムシをもっていますか？



しき

$$\square - \square = \square$$


こたえ

びき

いえにミカンが6つあります。

ばんごはんのあとにみんなで4こたべました。

のこっているミカンのかずはいくつですか？



しき

$$\square - \square = \square$$

こたえ


こ

ぶんしょうからのひきざん ねん がつ にち

なまえ

きょうはなつまつりです。
きんぎょすくいので9ひきのきんぎょをつかまえました。
いえにはおおきいきんぎょを2ひきもってかえります。

のこりのきんぎょはにがしてあげます。
なんびきのきんぎょをにがしたのでしょうか？



しき

$$\square - \square = \square$$

こたえ

びき

イチゴがぜんぶで10こあります。
おとうとに6こイチゴをあげました。

ばくのぶんのイチゴはなんこになりますか？



しき

$$\square - \square = \square$$

こたえ


こ

ぶんしょうからのひきざん ねん がつ にち

なまえ

6とうのぞうのむれがいます。
こどものぞうは3とうです。

のこりのおとなのぞうはなんとうですか？



しき


$$\square - \square = \square$$

こたえ

とう

カエルを10ぴきみつけました。
むしとりあみをつかってなかをのぞいたら1ぴきつかまえていました。

ざんねんですがなんびきにげられたでしょうか？



しき

$$\square - \square = \square$$

こたえ

ひき